
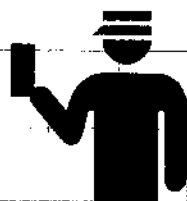



NÍVEL FUNDAMENTAL INCOMPLETO CARGOS

- 03 - AGENTE DE PORTARIA
- 04 - CARPINTEIRO
- 05 - ELETRICISTA
- 06 - ENCANADOR
- 07 - MOTORISTA
- 08 - PEDREIRO
- 09 - PINTOR
- 10 - SOLDADOR



CETAP

INSTRUÇÕES ESPECIAIS

- 01** Você está recebendo o seu Caderno de Questões, contendo 50 (cinquenta) questões objetivas de múltipla escolha, numeradas de 01 a 50, em ordem sequencial. Confira a sequência numérica de seu Caderno de Questões antes de iniciar a resolução, assim como o número de páginas, comunicando, imediatamente, o Fiscal de Sala, em caso de repetição ou ausência de questão ou página.
- 02** Você deve conferir, na capa do Caderno de Questões e no rodapé das páginas internas, o nome do cargo ao qual este Caderno de Questões se refere. Caso você tenha recebido um Caderno de Questões que não corresponda ao cargo para o qual está inscrito, comunique imediatamente o Fiscal de Sala e exija o Caderno de Questões correto.
- 03** As respostas das questões objetivas de múltipla escolha do Caderno de Questões deverão ser transcritas para o Cartão Resposta com caneta esferográfica de tinta azul ou preta.
- 04** Para cada questão da Prova Objetiva de Múltipla Escolha existirão 05 (cinco) alternativas de resposta (A, B, C, D e E), das quais apenas uma será correta, de acordo com o comando da questão. A marcação de mais de uma no Cartão Resposta anula, automaticamente, a resposta da questão.
- 05** O tempo máximo disponível para realização da prova é de 03h30 (três horas e trinta minutos), já incluído o tempo destinado à identificação e ao preenchimento do Cartão Resposta.
- 06** Somente depois de decorridos 60 minutos do início da prova, o candidato poderá entregar o seu Caderno de Questões e o seu Cartão Resposta, e retirar-se da sala de prova.
- 07** Os 3 (três) últimos candidatos só poderão sair da sala de prova juntos.
- 08** Será permitido ao candidato levar consigo o Caderno de Questões e o Gabarito desde que nos últimos 30 (trinta) minutos antes do término da prova.

ATENÇÃO

Escreva no espaço apropriado do **Cartão Resposta**, com a sua caligrafia usual, a seguinte "frase mestra" de Mário Quintana :

"A noite acendeu as estrelas porque tinha medo da própria escuridão."

A transcrição da "frase mestra" é obrigatória e servirá para identificar o Cartão Resposta do candidato, bem como possibilitar o Exame Pericial Grafotécnico, quando for o caso.



Leia o texto e responda o que se pede em cada questão:

As três maçãs*

* extraído de "Mil e uma noites".

Senhor - disse ela -, já tive a honra de vos entreter com uma saída noturna do califa Harun al-Rachid. Vou agora contar-vos outra:

Um dia ordenou esse príncipe ao grão-vizir Djafar que estivesse no palácio na noite seguinte. "Vizir", disse-lhe, "quero passear pela cidade e ouvir o que dizem os moradores, e, sobretudo, se estão contentes com a justiça dos meus ministros. Se houver ministros que deem origem a queixas, depô-los-emos, para substituí-los por outros mais capazes. Se, pelo contrário, houver os que provoquem elogios, teremos por eles a consideração merecida."

O grão-vizir dirigiu-se ao palácio na hora marcada; o califa, ele e Mesrur, chefe dos eunucos, disfarçaram e saíram juntos.

Atravessando várias praças, vários mercados, e entrando numa ruazinha, viram ao luar um homem de barba branca, alto, transportando uma rede à cabeça. Trazia no berço um cesto dobrável de folhas de palmeiras, e numa das mãos um bastão. "Esse velho", disse o califa, "não é rico". Perguntemos-lhe como vão os negócios. "Bom homem", disse-lhe o vizir, "quem és?". "Senhor", respondeu-lhe o velho, "sou pescador, o mais pobre e miserável da minha profissão. Saí de casa, por volta do meio-dia, para ir pescar, e até agora não consegui apanhar um peixinho sequer. No entanto, tenho mulher e filhos, que preciso alimentar."

O califa, comovido, interveio: "Terás ânimo para voltar e lançar a tua rede mais uma vez? Dar-te-emos cem cequins pelo que apanhares.". O pescador, diante da proposta, esqueceu-se das suas dores e voltou para o Tigre com o califa, Djafar e Mesrur, refletindo: "Estes senhores parecem honestos e sensatos, e não de recompensar-me pelo meu trabalho, mesmo que me dessem apenas a centésima parte que me prometem, seria bastante para mim."

Fonte: Mil e uma noites. In: COSTA, Flávio Moreira. Os Cem Melhores Contos de Crime e Mistério Da Literatura Universal. Rio de Janeiro: Ediouro, 2002, p. 27.

Questão 01

O texto de "Mil e Uma Noites" reflete uma questão básica do homem, que é:

- A) a miséria de todo homem que trabalha muito.
- B) a exploração de qualquer governante sobre o empregado.
- C) a dignidade pelo reconhecimento de seu trabalho.
- D) a falta de amor dos pescadores pelo trabalho.
- E) a ganância ser superior ao esforço.

Questão 02

Marque a alternativa que contém o nome do califa que queria saber sobre o seu reino:

- A) Djafar.
- B) Mesrur.
- C) Tigre.
- D) Harun AL-Rachid.
- E) Vizir.

Questão 03

O que pode ser considerado como a verdadeira recompensa para o califa foi:

- A) ter conhecido um pescador honesto.
- B) ter descoberto que era enganado pelo ministro.
- C) saber que o povo estava descontente.
- D) perceber que pescar traz muita riqueza.
- E) ter conhecimento que não havia fome no reino.

Questão 04

Marque a alternativa em que a forma feminina está escrita de maneira INCORRETA:

- A) senhor/senhora.
- B) príncipe/princesa.
- C) ministros/ministras.
- D) homem/mulher.
- E) pescador/pescadora.

Questão 05

A frase: "Estes senhores parecem honestos e sensatos [...]" foi levada CORRETAMENTE ao singular em:

- A) Estes senhor parece honesto e sensato.
- B) Estes senhores parece honesto e sensatos.
- C) Este senhor parece honesto e sensato.
- D) Estes senhores parecem honesto e sensato.
- E) Este senhor parecem honesto e sensato.

Questão 06

Em Língua Portuguesa, todas as palavras proparoxítonas são acentuadas. É o que ocorre na proparoxítona presente em:

- A) extraído.
- B) já.
- C) Terás.
- D) miserável.
- E) centésima.

Questão 07

Marque a alternativa que contém um verbo no passado:

- A) "Estes senhores parecem [...]"
- B) "[...] que preciso [...]"
- C) "[...] já tive a honra [...]"
- D) Eu conto agora, príncipe.
- E) Nós saímos juntos.

Questão 08

NÃO é característica do pescador com quem o califa conversou:

- A) velho.
- B) pobre.
- C) orgulhoso.
- D) dolorido.
- E) miserável.

Questão 09

Em: "Estes senhores parecem honestos e sensatos, e não de recompensar-me pelo meu trabalho [...]", as palavras "honestos" e "sensatos" concordam com:

- A) meu.
- B) senhores.
- C) me.
- D) trabalho.
- E) recompensar.

Questão 10

A forma CORRETA de: "Estes senhores parecem honestos e sensatos' [...]" no feminino é:

- A) Estas senhoras parecem honestas e sensatas.
- B) Essas mulheres parecem honesta e sensatas.
- C) Essa senhora parece honesta e sensato.
- D) Esta senhora parece honesta e sensatas.
- E) Essas senhoras parecem honesta e sensata.

Questão 11

A palavra "queixa" exemplifica que, depois de ditongo, usa-se o "X", letra que NÃO preenche o espaço em:

- A) guei__a.
- B) __ícaro.
- C) __ereta.
- D) __ave.
- E) en__erida.

Questão 12

"Eunuco era homem castrado que, no Oriente, guardava os haréns." (Fonte: AURÉLIO Jr. Dicionário de Língua Portuguesa, p. 406). Na história, o chefe deles era:

- A) Harun.
- B) Djafar.
- C) Rachid.
- D) Mesrur.
- E) o pescador.

Questão 13

Uma das alternativas apresenta adjetivo (qualidade) no feminino. Identifique-a:

- A) noturna.
- B) príncipe.
- C) palácio.
- D) hora.
- E) pobre.

Questão 14

O sinônimo da palavra "centésima" em: "[...] apenas a centésima parte [...]" é:

- A) cinquenta.
- B) oitenta.
- C) cem.
- D) trinta.
- E) mil.

Questão 15

A primeira pessoa do singular do presente do indicativo dos verbos apresenta forma INCORRETA em:

- A) Dizer: eu digo.
- B) Entreter: eu entretenho.
- C) Atravessar: eu atravesso.
- D) Responder: eu respondo.
- E) Alimentar: eu alimentei.

Questão 16

Leia as informações seguintes e responda às questões 16 e 17: O Governo fiscaliza os produtos comercializados, verificando, por exemplo, se o conteúdo corresponde à quantidade anunciada na embalagem. Um funcionário pesou 5 embalagens de café. Cada embalagem deveria ter meio quilo (500 gramas). No entanto, alguns tinham mais que 500g e outros tinham menos que a quantidade determinada. As seguintes diferenças foram registradas:

+ 10 g; - 12 g; + 5 g; - 15 g; - 20 g.

Questão 16

Quantos gramas tem os 5 pacotes juntos?

- A) 2.466 g.
- B) 2.468 g.
- C) 1.500 g.
- D) 2.000 g.
- E) 2.400 g.

Questão 17

No total, há quantos gramas a menos do que seria o esperado?

- A) 32 g.
- B) 34 g.
- C) 10 g.
- D) 500 g.
- E) 100 g.

Questão 18

O preço do litro de um combustível é de R\$2,85. Preciso de 18 litros deste combustível. Quanto vou pagar?

- A) R\$49,50
- B) R\$55,00
- C) R\$51,30
- D) R\$52,50
- E) R\$51,80

Questão 19

Faz parte do Estatuto de um clube: "Para alterar qualquer cláusula deste Estatuto, é necessária a aprovação de, no mínimo, $\frac{2}{3}$ dos sócios." Se neste clube tem 2.100 sócios, quantos votos são necessários para que se efetue qualquer alteração neste Estatuto?

- A) 1.150 votos.
- B) 1.250 votos.
- C) 1.600 votos.
- D) 1.400 votos.
- E) 1.200 votos.

Questão 20

Em um domingo, a bilheteria de um cinema vendeu 130 ingressos para adultos a R\$20,00 cada um, e 150 ingressos para crianças a R\$10,00 cada um. Quanto arrecadou esta bilheteria neste domingo?

- A) R\$4.100,00
- B) R\$2.600,00
- C) R\$4.200,00
- D) R\$4.120,00
- E) R\$4.250,00

Questão 21

Dois amigos acertaram um trabalho por R\$465,00, e trabalharam 5 dias. Um deles recebeu R\$42,00 por dia. Qual o total recebido pelo outro?

- A) R\$210,00
- B) R\$215,00
- C) R\$245,00
- D) R\$220,00
- E) R\$255,00

Questão 22

Um caminhão de lixo transporta 5 toneladas de lixo em cada viagem que faz a um aterro sanitário. Se este caminhão fez 6 viagens em 1 dia, quantos quilos de lixo ele transportou neste dia em que fez 6 viagens?

- A) 300 quilos.
- B) 3.000 quilos.
- C) 30.000 quilos.
- D) 300.000 quilos.
- E) 30 quilos.

Questão 23

"A densidade de um corpo, é a razão entre a massa desse corpo e o seu volume, ou seja: densidade = $\frac{\text{massa do corpo}}{\text{volume}}$ ". Uma peça de argila tem 225 quilos de massa e ocupa um volume de 15 dm³. Qual a densidade desta peça?

- A) 5Kg/dm³
- B) 10Kg/dm³
- C) 12Kg/dm³
- D) 15Kg/dm³
- E) 25Kg/dm³

Questão 24

Carlos tem R\$380,00 em sua conta bancária. Se ele fizer uma retirada de R\$450,00, como ficará seu saldo?

- A) Devedor de R\$60,00
- B) Devedor de R\$70,00
- C) Devedor de R\$50,00
- D) Positivo, no valor de R\$70,00
- E) Positivo, no valor de R\$60,00

Questão 25

3000 minutos correspondem a quantas horas?

- A) 30 horas.
- B) 50 horas.
- C) 70 horas.
- D) 60 horas.
- E) 62 horas.

Questão 26

Uma prova de Matemática com 15 questões foi programada para que o candidato resolvesse cada questão em, aproximadamente, 3 minutos. Logo, quantos minutos foram reservados para esta prova?

- A) 30 minutos.
- B) 42 minutos.
- C) 45 minutos.
- D) 36 minutos.
- E) 32 minutos.

Questão 27

A mesma prova da questão anterior (26) com 15 questões foi corrigida com o seguinte critério: 2 pontos para cada questão certa e menos 1 ponto para cada questão errada. Quantos pontos alcançou um candidato que acertou 9 questões?

- A) 18 pontos.
- B) 15 pontos.
- C) 16 pontos.
- D) 14 pontos.
- E) 12 pontos.

Questão 28

Comprei 4 milheiros de tijolos na semana passada e, hoje, comprei mais 2 milheiros para fazer o muro de minha casa. Pelos meus cálculos, preciso de 8 milheiros de tijolos. Quantos tijolos ainda preciso comprar para acabar o muro de minha casa?

- A) 2.000
- B) 3.000
- C) 4.000
- D) 5.000
- E) 6.000

Leia as informações seguintes e responda às questões 29 e 30: Comprei uma televisão em 10 prestações de R\$35,00 e uma geladeira em 8 prestações de R\$107,00.

Questão 29

Qual o valor total da minha compra?

- A) R\$1.100,50
- B) R\$1.220,50
- C) R\$1.240,00
- D) R\$1.206,00
- E) R\$1.204,00

Questão 30

Este mês, ganhei R\$980,00. Ao pagar as prestações me restarão:

- A) R\$938,00
- B) R\$832,00
- C) R\$738,00
- D) R\$820,00
- E) R\$838,00

 **LEGISLAÇÃO**

Questão 31

Segundo o art. 14 da Lei n.º 7.507/91, a " _____ é a elevação do funcionário de cargo da categoria funcional a que pertencer para o cargo de referência inicial de categoria funcional mais elevada, respeitada a habilitação profissional exigida para provimento.". Marque a alternativa que complete corretamente a lacuna:

- A) Progressão Funcional.
- B) Ascensão Funcional.
- C) Função Comissionada.
- D) Produtividade.
- E) Antiguidade.

Questão 32

O art. 2º da Lei n.º 7.502/90 determina que: "As disposições desta Lei constituem o regime jurídico único aplicável aos funcionários de qualquer categoria do Município de Belém, suas _____." Marque a alternativa que complete

a lacuna corretamente:

- A) secretarias.
- B) empresas públicas e secretarias.
- C) autarquias e secretarias.
- D) autarquias e fundações.
- E) fundações e empresas públicas.

Questão 33

De acordo com o parágrafo único do art. 9º da Lei n.º 7.502/90, qual o percentual máximo de vagas reservadas às pessoas portadoras de deficiência em concurso público para provimento de cargo cujas atribuições sejam compatíveis com a deficiência de que são portadoras?

- A) 2%
- B) 5%
- C) 10%
- D) 15%
- E) 20%

Questão 34

No que consiste a reversão, de acordo com o art. 12 da Lei n.º 7.502/90?

- A) Em uma forma de provimento em cargo público.
- B) Em uma forma de posse em cargo público.
- C) Em uma forma de vacância.
- D) Em uma forma de estabilidade.
- E) Em uma forma de demissão.

Questão 35

Nos termos da Lei n.º 7.502/90, o funcionário não poderá ausentar-se do Estado sem autorização superior, nos casos de:

- A) problemas de saúde com ou sem vencimentos.
- B) viagem de férias com vencimentos.
- C) estudos estrangeiros ou viagem de férias.
- D) viagem em missão diplomática e a turismo.
- E) estudos ou missão especial com ou sem vencimentos.

Questão 36

Marque a alternativa que complete a lacuna corretamente: "Em atenção ao art. 22 da Lei n.º 7.502/90, o funcionário estável somente poderá ser demitido em virtude de sentença judicial transitada em julgado ou mediante _____ em que lhe seja assegurada ampla defesa."

- A) rescisão contratual.
- B) Portaria do Prefeito Municipal.
- C) processo administrativo.
- D) inquérito policial.
- E) antecipação de tutela.

Questão 37

Marque a alternativa que complete a lacuna corretamente: "A vacância de função gratificada, nos termos do art. 45 da Lei n.º 7.502/90, dar-se-á por dispensa, a pedido ou de ofício, ou por _____."

- A) exoneração.
- B) demissão.
- C) decisão transitada em julgado.
- D) destituição.
- E) tutela antecipada.

Questão 38

Marque a alternativa que complete de forma correta a lacuna: "O parágrafo único do art. 53 da Lei n.º 7.502/90, determina que as indenizações, auxílios e demais vantagens ou gratificações de caráter _____ não integram a remuneração."

- A) permanente.
- B) inato.
- C) eventual.
- D) perigoso.
- E) insalubre.

Questão 39

Marque a alternativa que complete de forma correta as lacunas: "Na aplicação das penas disciplinares determinadas pelo art. 195 da Lei n.º 7.502/90, serão consideradas a _____ e a _____ da infração e os danos que dela provierem para o _____."

- A) periculosidade; animosidade; serviço público.
- B) natureza; gravidade; serviço público.
- C) periculosidade; natureza; povo.
- D) característica; causa; terceiro.
- E) causa; animosidade; povo.

Questão 40

O art. 217 da Lei n.º 7.502/90 prevê que: "Se de imediato ou no curso do Inquérito Administrativo ficar evidenciado que a irregularidade envolve crime, o presidente da comissão, por intermédio da autoridade instauradora, a comunicará ao _____." Marque a alternativa que complete de forma correta a lacuna:

- A) Ministério Público.
- B) Tribunal de Justiça.
- C) Conselho Tutelar.
- D) Delegado de Polícia.
- E) Superior hierárquico.

ATUALIDADES

Questão 41

"A moeda _____ avançou 3,20% sobre o real nesta semana e marcou seu retorno à faixa de R\$ 2 – algo que não se verificava desde 8 de julho de 2009. Economistas ouvidos pelo site de VEJA acreditam que cotações em torno deste valor devem se manter ao menos até o final de 2012 graças ao cenário de forte incerteza nos mercados internacionais."

Fonte: Veja, 18.05.2012.

Sobre qual moeda está se referindo a reportagem?

- A) euro.
- B) iene.
- C) dólar.
- D) libra.
- E) coroa.

Questão 42

"Relatos sobre a aplicação de recursos destinados à construção de moradias populares, sobre a verba disponível para o pagamento de diárias e sobre processos licitatórios envolvendo o dinheiro público. Esses são apenas alguns exemplos de informações que já podem ser solicitadas por qualquer cidadão às três esferas da administração pública. A _____, em vigor em todo o Brasil desde a última quarta-feira (16), estabelece a disponibilização dos dados do poder público no período de até 30 dias."

Fonte: Diário On Line, 19.05.2012.

Como foi intitulada esta nova legislação?

- A) Lei Pública.
- B) Lei de Acesso à Informação.
- C) Lei da Moralidade.
- D) Lei da Publicidade.
- E) Lei da Custódia.

Questão 43

"Os líderes do _____ (grupo que reúne as sete economias mais industrializadas do mundo mais a Rússia) disseram neste sábado que querem que a Grécia permaneça na zona do euro, apesar das dívidas. Em um comunicado da cúpula, que acontece em Camp David, nos Estados Unidos, os chefes de Estado também se comprometeram a promover o crescimento ao lado da responsabilidade fiscal."

Fonte: Portal Folha UOL, 18.05.2012.

De qual grupo está se referindo a reportagem transcrita?

- A) Mercosul.
- B) União Européia.
- C) Rio+20.
- D) G8.
- E) Tigres Asiáticos.

Questão 44

"[...] ao menos 49 pessoas ficaram feridas após a batida de dois trens também na linha 3-vermelha. O acidente ocorreu entre as estações Penha e Carrão, e fechou parte da linha por várias horas. Foi a primeira colisão de trens com passageiros na história do Metrô. O acidente ocorreu por uma falha em um dos circuitos automáticos da linha, que acelerou ao invés de frear o trem. O maquinista percebeu o problema e acionou os freios de emergência, reduzindo a velocidade do trem até a batida com a composição em frente, [...]"

Fonte: Portal Folha UOL, 19.05.2012.

Em qual cidade brasileira ocorreu este acidente?

- A) Rio de Janeiro.
- B) Brasília.
- C) São Paulo.
- D) Porto Alegre.
- E) Belo Horizonte.

Questão 45

"Pelo menos três pessoas morreram neste domingo - uma na queda do teto de uma indústria na região de Bondeno e outras duas no desmoronamento de uma fábrica de cerâmica em San Agostino, província de Ferrara, na região de Emilia Romagna - por causa de um terremoto, informou o responsável pela Defesa Civil da região."

Fonte: Folha UOL, 20.05.2012.

Em qual país da Europa ocorreu este terremoto?

- A) Itália.
- B) França.
- C) Alemanha.
- D) Portugal.
- E) Espanha.

Questão 46

"O segundo turno da eleição presidencial será disputado entre o candidato da Irmandade Muçulmana, Mohamed Mursi, e o último primeiro-ministro do presidente destituído Hosni Mubarak, Ahmed Shafiq, anunciou a entidade islamita. Shafiq centrou a campanha na segurança e estabilidade para obter os votos dos egípcios desesperados com a agitação política e a degradação da situação econômica desde a revolta que derrubou Mubarak há 15 meses. Depois de décadas de eleições vencidas de antemão, esta é a primeira vez que os _____ escolhem livremente o chefe de Estado."

Fonte: Portal UOL, 25.05.2012.

A reportagem se refere às eleições de qual país?

- A) Arábia Saudita.
- B) Israel.
- C) Egito.
- D) Síria.
- E) Palestina.

Questão 47

"Livro de documentos vazados é criminoso. O _____ denunciou como 'criminoso' um novo livro com documentos internos vazados que mostram as lutas de poder dentro da Santa Sé e os trabalhos internos de seu banco, e alertou que poderia tomar medidas legais contra os responsáveis pela publicação. O livro 'Sua Santidade', do jornalista italiano Gianluigi Nuzzi, foi lançado neste sábado (19) e reproduz cartas e memorandos de conversas entre papa Bento 16 e seu secretário pessoal."

FONTE: Diário On Line, 19.05.2012.

Quem realizou esta denúncia tratada na reportagem?

- A) Cardial Máximus.
- B) Bispo do Brasil.
- C) Governo Italiano.
- D) Governo Francês.
- E) Vaticano.

Questão 48

"Informações sobre as milhares de espécies de animais e plantas da Amazônia começaram a ser organizadas em um levantamento que pode ajudar pesquisadores e gestores ambientais a acompanhar os avanços da biodiversidade e definir estratégias de conservação para a região. O Censo da Biodiversidade, lançado em Belém pelo _____, já relaciona todas as 3,8 mil espécies pesquisadas pela instituição. Inicia com as listas das espécies do estado do Pará, compreendendo 12 grupos da fauna e 3.813 espécies que ocorrem no território paraense."

Fonte: Diário On Line, 20.05.2012.

Marque a alternativa que preencha corretamente a lacuna da reportagem apresentada:

- A) Bosque Rodrigues Alves.
- B) Instituto Evandro Chagas.
- C) Hospital Barros Barreto.
- D) Museu Goeldi.
- E) Museu do Instituto Rural do Pará.

Questão 49

"**Comissão aprova capítulo sobre crime no Código Penal.** A comissão de juristas que discute a reforma do Código Penal no Senado aprovou nesta segunda-feira a criação de um capítulo sobre crimes [...] dentro do texto legal. Além da previsão específica de crimes [...], a comissão sugere que algumas condutas típicas da internet, como a criação de perfil falso para cometimento de crimes, aumente a pena de crimes já previstos no código. De acordo com a proposta da comissão, seria submetido a uma pena de prisão de seis meses a um ano, ou multa, quem 'acessar indevidamente' um site protegido por senha, por exemplo, mesmo que não divulgue os dados ali presentes. Apenas o risco de divulgação ou utilização indevida já provocaria a condenação do invasor."

Fonte: Folha UOL, 21.05.2012.

A reportagem se refere ao crime:

- A) cibernético.
- B) eletrônico.
- C) informal.
- D) informatizado.
- E) tecnológico.

Questão 50

"**Brasil sediará órgão da ONU para meio ambiente, antecipa Minc.** O Brasil sediará um órgão das Nações Unidas (ONU) para pesquisa em tecnologia verde. Segundo o secretário estadual do Ambiente, Carlos Minc, a iniciativa deve ser anunciada pela presidenta Dilma Rousseff em 5 de junho, Dia do Mundial do Meio Ambiente [...]. 'É um órgão da ONU ligado à pesquisa em tecnologia limpa, economia verde, de baixo carbono', declarou Minc à Agência Brasil."

Fonte: Portal ORM, 21.05.2012.

Onde deve ser instalado este órgão?

- A) Manaus.
- B) Belém.
- C) Porto Velho.
- D) São Paulo.
- E) Rio de Janeiro.