

Língua Portuguesa

TEXTO 1

Texto sobre Segregação Urbana (Do livro: *O que é cidade – Raquel Rolnik – Ed. Brasiliense – 1988 – pág. 40-43*)

Nas grandes Cidades hoje, é fácil identificar territórios diferenciados: ali é o bairro das mansões e palacetes, acolá o centro de negócios, adiante o bairro boêmio onde rola a vida noturna, mais à frente o distrito industrial, ou ainda o bairro proletário. Assim quando alguém, referindo-se ao Rio de Janeiro fala em Zona Sul Ou Baixada Fluminense, sabemos que se trata de dois Rios de Janeiro bastante diferentes; assim como pensando em Brasília lembramos do plano-piloto, das mansões do lago ou das cidades satélites. Podemos dizer que hoje nossas cidades têm sua zona sul e sua baixada, sua "zona", sua Wall Street e seu ABC. É como se a cidade fosse um imenso quebra-cabeças, feito de peças diferenciadas, onde cada qual conhece seu lugar e se sente estrangeiro nos demais. É a este movimento de separação das classes sociais e funções no espaço urbano que os estudiosos da cidade chamam de segregação espacial.

Entre as torres envidraçadas e gestos tensos dos homens de terno e pasta de executivo, meninas pulando corda e jogando amarelinha estariam totalmente deslocadas; assim como não há travesti que faça michê na porta do Citibank às 3 horas da tarde. Não se vê vitrinas de mármore, aço escovado e neon na periferia, nem lama ou falta d'água no Leblon (Rio), Savassi (Belo Horizonte) ou Boa Viagem (Recife). É como se a cidade fosse demarcada por cercas, fronteiras imaginárias, que definem o lugar de cada coisa e de cada um dos moradores.

As meninas pulando corda e jogando amarelinha, fechadas no pátio da escola, se separam da rua por uma muralha de verdade, alta, inexpugnável; já a fronteira entre um bairro popular e um bairro chique pode ser uma rua, uma ponte, ou simplesmente não ser nada muito aparente, mas somente uma imagem, um ponto, uma esquina. Em algumas cidades, como em Joanesburgo, na África do Sul, placas sinalizam a segregação, indicando os territórios permitidos ou proibidos para os negros. As áreas restritas são protegidas por forças policiais que podem prender quem por ali circular sem autorização. Neste caso, a segregação é descarada e violenta.

A segregação é manifesta também no caso dos condomínios fechados – muros de verdade, além de controles eletrônicos zelam pela segurança dos moradores, o que significa o controle minucioso das trocas daquele lugar com O exterior. Além de um recorte de classe, raça ou faixa etária, a segregação também se expressa através da separação dos locais de trabalho em relação aos locais de moradia. A cena clássica cotidiana das grandes massas se deslocando nos transportes coletivos superlotados ou no trânsito engarrafado são a expressão mais acabada desta separação - diariamente ternos que percorrer grandes distâncias para ir trabalhar ou estudar. Com isto, bairros inteiros das cidades ficam completamente desertos de dia, os bairros-dormitórios, assim como algumas regiões comerciais e bancárias parecem cenários ou cidades-fantasmas para quem a percorre à noite.

Com isto, bairros inteiros das cidades ficam completamente desertos de dia, os bairros-dormitórios, assim como algumas regiões comerciais e bancárias parecem cenários ou cidades-fantasmas para quem as percorre à noite. Finalmente, além dos territórios específicos e separados para cada grupo social, além da separação das funções morar e trabalhar, a segregação é patente na visibilidade da desigualdade de tratamento por parte das administrações locais. Existem, por exemplo, setores da cidade onde o lixo é recolhido duas ou mais vezes por dia; outros, uma vez por semana; outros, ainda, onde o lixo, ao invés de recolhido, é despejado. As imensas periferias sem água, luz ou esgoto são evidências claras desta política discriminatória por parte do poder público, um dos fortes elementos produtores da segregação.

Fonte: <http://www.cefetsp.br/edu/eso/geografia/textossegregacao.html> Acesso em 31/05/2012.

01. De acordo com o tema principal do texto 1, **segregação espacial** é conceituada como:

- A) Separação das classes sociais e funções no espaço urbano.
- B) Evidência clara de uma política discriminatória por parte do poder público.
- C) Controle minucioso das trocas de um lugar fechado com o exterior.
- D) Sinalização dos territórios permitidos ou proibidos para os negros.
- E) Proteção de áreas restritas por forças policiais.


02. Ao analisar a tipologia predominante no texto 1, pode-se afirmar que o texto tem a predominância da tipologia:

- A) dialógica
- B) expositiva
- C) injuntiva
- D) narrativa
- E) argumentativa

03. O significado contextual da palavra “inexpugnável” (texto 1 - segunda linha do terceiro parágrafo) é:
- A) inseparável
 - B) inconfundível
 - C) invencível
 - D) imperceptível
 - E) incomparável
04. Observe o fragmento seguinte “(...) adiante o bairro boêmio onde **rola** a vida noturna, (...)” (texto 1). O termo em negrito pode ser interpretado como um registro próprio do uso informal da língua. Aponte a construção abaixo que melhor mantenha a correspondência semântica com o termo em destaque:
- A) (...) adiante o bairro boêmio onde **circula** a vida noturna, (...)
 - B) (...) adiante o bairro boêmio onde **acontece** a vida noturna, (...)
 - C) (...) adiante o bairro boêmio onde **reside** a vida noturna, (...)
 - D) (...) adiante o bairro boêmio onde **vira** a vida noturna, (...)
 - E) (...) adiante o bairro boêmio onde **mora** a vida noturna, (...)
05. De acordo com os princípios da norma padrão da língua, marque a alternativa correta quanto à substituição do verbo **existir** pelo verbo **haver**, mantendo o mesmo tempo verbal e o mesmo modo verbal, no trecho “**Existem, por exemplo, setores da cidade onde o lixo é recolhido duas ou mais vezes por dia;**”.
- A) Haverão, por exemplo, setores da cidade onde o lixo é recolhido duas ou mais vezes por dia.
 - B) Haverá, por exemplo, setores da cidade onde o lixo é recolhido duas ou mais vezes por dia.
 - C) Haveria, por exemplo, setores da cidade onde o lixo é recolhido duas ou mais vezes por dia.
 - D) Há, por exemplo, setores da cidade onde o lixo é recolhido duas ou mais vezes por dia.
 - E) Houve, por exemplo, setores da cidade onde o lixo é recolhido duas ou mais vezes por dia.
06. O emprego da vírgula demarcando o enunciado em negrito “Em algumas cidades, como em Joanesburgo, **na África do Sul**, placas sinalizam a segregação...” tem a finalidade de:
- A) separar um vocativo
 - B) separar data e endereço
 - C) separar uma expressão explicativa
 - D) separar termos de uma enumeração
 - E) separar uma expressão temporal
07. Marque a alternativa em que todas as palavras são acentuadas em função da mesma regra.
- A) negócio; boêmio; proletário
 - B) territórios; específicos; público
 - C) já; alguém; têm
 - D) trânsito; etária; bancária
 - E) discriminatória; política; evidências

RASCUNHO

TEXTO 2



Fonte: <http://www.google.com.br/imgres?imgurl=http://campanhanoar.folha.blog.uol.com.br/images/04>. Acesso em 01/06/2012

08. O gênero textual charge apresenta normalmente um teor humorístico e crítico. No texto 2, a crítica do texto reside na:
- A) construção exagerada de pontes, elevados e viadutos.
 - B) interpretação inadequada da mensagem pelos cidadãos em situação de rua.
 - C) interpretação adequada da mensagem pelos cidadãos em situação de rua.
 - D) inadequação das promessas políticas para as necessidades das camadas mais pobres.
 - E) inadequação de observar a notícia através da vitrine de uma loja de eletrodomésticos.
09. O efeito humorístico do texto 2, na relação entre o locutor que está na TV e os interlocutores que estão na rua, ocorre:
- A) na quebra de expectativa entre a promessa do locutor e a construção de pontes, elevados e viadutos.
 - B) na quebra de expectativa entre o processo eleitoral e a promessa do locutor.
 - C) na quebra de expectativa entre a eleição e o comentário do interlocutor.
 - D) na quebra de expectativa entre o problema de moradia e o processo eleitoral.
 - E) na quebra de expectativa entre o comentário do interlocutor e a promessa do locutor.
10. A conjunção **se** na oração “**se eleito**”, estabelece com a oração seguinte uma relação de:
- A) comparação
 - B) condição
 - C) explicação
 - D) oposição
 - E) conclusão

Matemática

11. Para a construção de um hotel, com área construída de 2,5 mil metros quadrados, o custo foi de 2,2 mil reais por metro quadrado. De acordo com esses dados, quanto custou a construção desse hotel?
- A) 5,5 milhões de reais.
B) 4,7 milhões de reais.
C) 4,4 milhões de reais.
D) 3,8 milhões de reais.
E) 2,5 milhões de reais.

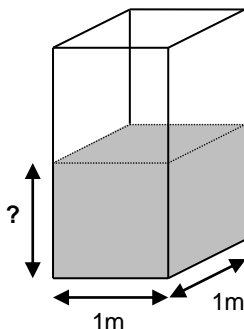
12. Uma fábrica de embutidos de frango está sendo construída em uma cidade do interior do Estado, cuja população é de 10 mil pessoas. Estima-se que essa fábrica vai empregar 400 moradores da cidade. De acordo com esses dados, que percentual do total de habitantes dessa cidade irá trabalhar na fábrica?
- A) 1,0 %
B) 1,4 %
C) 2,5 %
D) 4,0 %
E) 6,0 %

13. Veja o anúncio das condições de venda de uma casa.

Apenas um terço do preço de entrada, e o restante financiado em 36 meses sem juros!

Se a parte financiada corresponde a R\$ 88 200,00 qual o preço total dessa casa?

- A) R\$ 294 000,00
B) R\$ 264 600,00
C) R\$ 220 500,00
D) R\$ 176 400,00
E) R\$ 132 300,00
14. Uma torneira com vazão de 180 litros por segundo vai encher a caixa d'água representada abaixo, que estava completamente vazia.



Após 10 segundos do início do processo, o nível de água atinge a altura de

- A) 3,8 m
B) 3,6 m
C) 2,0 m
D) 1,8 m
E) 0,2 m

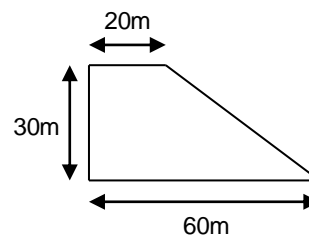
15. Uma indústria holandesa lançou a primeira motocicleta do mundo a usar o diesel como combustível. Com um litro de diesel ela roda, em média, 42 quilômetros. Com seu tanque de 19 litros completamente cheio, essa motocicleta é capaz de percorrer, em média,

- A) 410 quilômetros.
B) 420 quilômetros.
C) 610 quilômetros.
D) 788 quilômetros.
E) 798 quilômetros.

16. Em um concurso, 4 em cada 7 candidatos não atingiu a nota mínima para aprovação. Se 2 170 candidatos participaram desse concurso, quantos não atingiram a nota mínima?

- A) 380 candidatos.
B) 542 candidatos.
C) 930 candidatos.
D) 1 085 candidatos.
E) 1 240 candidatos.

17. Um terreno tem a forma de trapézio retângulo, com as medidas indicadas na figura abaixo.



Quanto mede a área desse terreno?

- A) 600 m²
B) 900 m²
C) 1 100 m²
D) 1 200 m²
E) 1 800 m²

18. O cantor Francisco Alves nasceu em 1898 e morreu em 1952. Quantos anos viveu Francisco Alves?

- A) 46 anos.
B) 52 anos.
C) 54 anos.
D) 61 anos.
E) 76 anos.

19. Em 2011 foram concedidos 72 mil vistos de trabalho a estrangeiros, o que corresponde a um aumento de 20% em relação a 2010. De acordo com esses dados, quantos vistos de trabalho para estrangeiros foram concedidos em 2010?
- A) 9,2 mil vistos.
 - B) 14,4 mil vistos.
 - C) 36,0 mil vistos.
 - D) 52,0 mil vistos.
 - E) 60,0 mil vistos.
20. Em um grande complexo de favelas do Rio de Janeiro existem oito Unidades de Polícia Pacificadora (UPP), operadas por 2 mil policiais militares. Supondo que esses policiais militares estejam distribuídos igualmente em cada unidade, quantos policiais trabalham em cada uma dessas UPP?
- A) 160 policiais.
 - B) 250 policiais.
 - C) 280 policiais.
 - D) 400 policiais.
 - E) 500 policiais.

RASCUNHO

Conhecimentos Específicos

- 21.** O trânsito é o mais importante ponto de junção dos diversos grupos e indivíduos de uma sociedade; é um sistema complexo de que todos dependemos diariamente. Infelizmente, é no trânsito que algumas pessoas descarregam seus problemas pessoais. Para que haja um bom convívio entre os indivíduos no trânsito, o cidadão deve agir de forma a respeitar os demais condutores, pois um bom cidadão geralmente é um bom motorista. Com isso, marque a alternativa que não pode ser considerada uma conduta de um bom motorista:
- A) respeitar as normas de trânsito.
 - B) preservar o meio ambiente.
 - C) ser compreensivo com os erros dos outros.
 - D) evitar confrontos e comportamentos agressivos.
 - E) entender que seus deveres são diferentes dos direitos alheios.
- 22.** Os conhecimentos de primeiros socorros poderão salvar vidas de vítimas de acidentes. Com esses conhecimentos, podem-se tomar as primeiras providências de maneira correta. Em relação às providências em um acidente com vítimas, assinale a alternativa incorreta.
- A) Transmitir confiança, tranquilidade e segurança, para alívio dos acidentados que estiverem conscientes.
 - B) Agir rapidamente, porém dentro dos próprios limites.
 - C) Algumas vezes, saber improvisar.
 - D) Sinalizar o local do acidente.
 - E) Chamar por socorro especializado apenas em último caso.
- 23.** Em uma avaliação primária, há uma sequência padronizada para realizar um rápido exame na vítima. Nessa avaliação, segue-se rigorosamente a seguinte sequência:
- A) Desobstrução das vias aéreas e estabilização da coluna cervical; verificação da respiração; verificação da circulação; verificação do estado de consciência; e proteção da vítima.
 - B) Verificação da circulação; desobstrução das vias aéreas e estabilização da coluna cervical; verificação da respiração; verificação do estado de consciência; e proteção da vítima.
 - C) Verificação da respiração; verificação da circulação; desobstrução das vias aéreas e estabilização da coluna cervical; verificação do estado de consciência; e proteção da vítima.
 - D) Verificação do estado de consciência; desobstrução das vias aéreas e estabilização da coluna cervical; verificação da respiração; verificação da circulação; e proteção da vítima.
 - E) Proteção da vítima; desobstrução das vias aéreas e estabilização da coluna cervical; verificação da respiração; verificação da circulação; e verificação do estado de consciência.
- 24.** Qual dos procedimentos abaixo não é indicado em caso de hemorragia externa?
- A) Aplicar um curativo de gaze ou pano limpo sobre o ferimento e pressionar.
 - B) Amarrar um pano, atadura ou cinto por cima do curativo, sem apertar muito para não prejudicar a circulação.
 - C) Manter, se possível, o membro ferido em posição mais baixa que o coração.
 - D) Em ferimentos pequenos, pressionar com o dedo até parar o sangramento.
 - E) Deitar a vítima, se possível.
- 25.** Quanto ao caso de ferimentos nos olhos, assinale a alternativa incorreta.
- A) Não permitir que o acidentado esfregue os olhos.
 - B) Em caso de contato com produtos químicos nos olhos, lavá-los com água abundante.
 - C) Utilizar ataduras para cobrir apenas o olho ferido.
 - D) Utilizar ataduras para cobrir os dois olhos, mesmo que um deles esteja sadio.
 - E) Não tentar tirar cacos ou objetos cravados.
- 26.** As vítimas de acidente não devem ser movimentadas, ou só o mínimo possível. No entanto, existem situações em que a movimentação torna-se necessária. Com isso, marque a alternativa que contém uma das técnicas utilizadas para realizar a movimentação corretamente:
- A) Durante a movimentação, interromper as verificações de sinais vitais.
 - B) Realizar movimentos bruscos.
 - C) Arrastar a vítima puxando pelos braços, cruzados, de forma a imobilizar a cabeça.
 - D) Arrastar a vítima pelos pés, levantando-os bastante.
 - E) Arrastar a vítima de lado.
- 27.** Qual das alternativas abaixo apresenta um dos sintomas de uma vítima em estado de choque?
- A) Suor frio e denso.
 - B) Pele quente e seca.
 - C) Sensação de calor.
 - D) Pulso lento e fraco.
 - E) Respiração lenta.
- 28.** Em caso de vítima com suspeita de fratura no crânio, qual das alternativas abaixo descreve corretamente um procedimento a ser adotado pelo socorrista?
- A) Não dar bebida ou comida à vítima.
 - B) Enfaixar a cabeça, comprimindo áreas moles.
 - C) Apoiar a cabeça da vítima em local rígido.
 - D) Havendo sangramento no couro cabeludo, pressionar o local.
 - E) Manter o acidentado com a cabeça abaixada.

- 29.** Ao deparar-se com uma vítima de queimadura, devem-se adotar alguns procedimentos visando aliviar o sofrimento da vítima, diminuir o risco de contaminações e prevenir o estado de choque. Assinale a alternativa que descreve corretamente um procedimento a ser adotado de imediato para essa situação.
- A) Nas queimaduras por agentes químicos, lavar a área afetada com bastante água.
 - B) Fazer com que a vítima corra, pois assim o vento ajudará a combater o fogo nas vestimentas.
 - C) Remover as roupas que estiverem grudadas na pele.
 - D) Passar pomada ou clara de ovo no local da queimadura.
 - E) Estourar as bolhas.
- 30.** Em alguns casos, deparamo-nos com situações em que uma vítima de acidente de trânsito encontra-se com parada cardiorrespiratória. Para isso, existem técnicas para realizar a reanimação cardiopulmonar. Em relação a esses procedimentos, qual das alternativas abaixo está incorreta?
- A) Retirar da boca da vítima próteses e restos de alimentos, desobstruindo as vias aéreas.
 - B) Elevar suavemente o queixo da vítima, estabilizando a coluna cervical.
 - C) Deitar a vítima de costas sobre uma superfície macia.
 - D) Tampar as narinas com o polegar e o indicador e abrir a boca da vítima completamente.
 - E) Se não houver pulsação, proceder ao mesmo tempo à compressão torácica ou reanimação cardíaca.
- 31.** Numa fratura fechada, devem-se adotar procedimentos para impedir o deslocamento das partes quebradas, evitando maiores danos. Em qual alternativa o procedimento de imobilização está incorreto?
- A) Movimentar a vítima o mínimo possível.
 - B) Colocar talas para sustentar o membro atingido.
 - C) Colocar as talas ultrapassando as articulações, acima e abaixo da fratura.
 - D) O braço com suspeita de fratura deve ser imobilizado preferencialmente longe do peito.
 - E) Envolver as talas em panos, para não machucar a pele da vítima.
- 32.** De acordo com o Código de Trânsito Brasileiro, o trânsito de veículos nas vias terrestres abertas à circulação obedecerá às seguintes normas, EXCETO:
- A) a circulação far-se-á pelo lado direito da via, admitindo-se as exceções devidamente sinalizadas.
 - B) quando uma pista de rolamento comportar várias faixas de circulação no mesmo sentido, são as da direita destinadas ao deslocamento dos veículos mais lentos e de maior porte, quando não houver faixa especial a eles destinada, e as da esquerda, destinadas à ultrapassagem e ao deslocamento dos veículos de maior velocidade.
 - C) o trânsito de veículos sobre passeios, calçadas e nos acostamentos em nenhuma hipótese é permitido.
 - D) os veículos precedidos de batedores terão prioridade de passagem, respeitadas as demais normas de circulação.
 - E) o uso de dispositivos de alarme sonoro e de iluminação vermelha intermitente só poderá ocorrer quando da efetiva prestação de serviço de urgência.
- 33.** Com base no Código de Trânsito Brasileiro, assinale a alternativa incorreta.
- A) Nas interseções e suas proximidades, o condutor não poderá efetuar ultrapassagem.
 - B) O condutor que for ingressar numa via, procedente de um lote lindeiro a essa via, deverá dar preferência aos veículos e pedestres que por ela estejam transitando.
 - C) Nenhum condutor deverá frear bruscamente seu veículo, salvo por razões de segurança.
 - D) Mesmo que a indicação luminosa do semáforo lhe seja favorável, nenhum condutor pode entrar em uma interseção se houver possibilidade de ser obrigado a imobilizar o veículo na área do cruzamento, obstruindo ou impedindo a passagem do trânsito transversal.
 - E) Nas vias internas pertencentes a condomínios constituídos por unidades autônomas, a sinalização de regulamentação da via será implantada e mantida às expensas do condomínio, independente da aprovação dos projetos pelo órgão ou entidade com circunscrição sobre a via.

34. Considerando as normas gerais de circulação e conduta do CTB, julgue as afirmativas abaixo.

- 1) Desde que autorizado e devidamente sinalizado pelo órgão ou entidade com circunscrição sobre a via, será permitida a circulação de bicicletas nos passeios.
- 2) A velocidade mínima não poderá ser inferior à metade da velocidade máxima estabelecida, respeitadas as condições operacionais de trânsito e da via.
- 3) O condutor manterá acesos apenas os faróis baixos do veículo quando sob chuva forte, neblina ou cerração.
- 4) Nas vias providas de acostamento, a conversão à esquerda e a operação de retorno deverão ser feitas nos locais apropriados e, onde estes não existirem, o condutor deverá aguardar no acostamento, à direita, para cruzar a pista com segurança.

Está(ão) correta(s):

- A) 1, apenas.
- B) 1, 2 e 4, apenas.
- C) 2, 3 e 4, apenas.
- D) 1 e 2, apenas.
- E) 1, 2, 3 e 4.

35. São equipamentos obrigatórios dos veículos, entre outros a serem estabelecidos pelo CONTRAN:

- 1) cinto de segurança, conforme regulamentação específica do CONTRAN, com exceção dos veículos destinados ao transporte de passageiros em percursos em que seja permitido viajar em pé;
- 2) dispositivo destinado ao controle de emissão de gases poluentes e de ruído, segundo normas estabelecidas pelo CONTRAN.
- 3) para as bicicletas, a campainha, sinalização noturna dianteira, traseira, lateral e nos pedais, e espelho retrovisor do lado esquerdo.
- 4) encosto de cabeça, para todos os tipos de veículos automotores, segundo normas estabelecidas pelo CONTRAN.

Estão corretos:

- A) 1, 2 e 3, apenas.
- B) 2, 3 e 4, apenas.
- C) 1, 3 e 4, apenas.
- D) 1, 2, 3 e 4.
- E) 3 e 4, apenas.

36. Sobre o registro de veículos, assinale a alternativa correta.

- A) Poderá ser expedido novo Certificado de Registro de Veículo enquanto houver débitos fiscais e de multas de trânsito e ambientais, vinculadas ao veículo, independentemente da responsabilidade pelas infrações cometidas.
- B) O registro e o licenciamento dos veículos de propulsão humana, dos ciclomotores e dos veículos de tração animal obedecerão à regulamentação estabelecida em legislação municipal do domicílio ou residência de seus proprietários.
- C) O órgão executivo de trânsito competente efetuará a baixa do registro independente de prévia consulta ao cadastro do RENAVAL.
- D) O proprietário de veículo irrecuperável, ou definitivamente desmontado, deverá requerer a baixa do registro, no prazo e forma estabelecidos pelo CONTRAN, sendo permitida a remontagem do veículo sobre o mesmo chassi, de forma a manter o registro anterior.
- E) Todo veículo automotor, elétrico, articulado, reboque ou semirreboque, deve ser registrado perante o órgão executivo de trânsito do Município.

37. Qual das alternativas abaixo não constitui infração de trânsito?

- A) Transitar com o veículo em velocidade inferior à metade da velocidade máxima estabelecida para a via, retardando ou obstruindo o trânsito, a menos que as condições de tráfego e meteorológicas não o permitam, salvo se estiver na faixa da direita.
- B) Deixar de reduzir a velocidade do veículo de forma compatível com a segurança do trânsito.
- C) Entrar ou sair de áreas lindeiras sem estar adequadamente posicionado para ingresso na via e sem as precauções com a segurança de pedestres e de outros veículos.
- D) Transitar com veículo sobre passeios, calçadas e nos acostamentos, para adentrar ou sair dos imóveis ou áreas especiais de estacionamento.
- E) Ultrapassar pela direita, salvo quando o veículo da frente estiver colocado na faixa apropriada e der sinal de que vai entrar à esquerda.

38. Sobre a habilitação, expressa no capítulo XIV do Código de Trânsito brasileiro, assinale a alternativa correta.

- A) A autorização para conduzir veículos de propulsão humana e de tração animal ficará a cargo dos órgãos executivos de trânsito dos Estados.
- B) O trator de roda, o trator de esteira, o trator misto ou o equipamento automotor destinado à movimentação de cargas ou execução de trabalho agrícola, de terraplenagem, de construção ou de pavimentação só podem ser conduzidos na via pública por condutor habilitado apenas na categoria E.
- C) A formação de condutor de veículo automotor e elétrico será realizada por instrutor autorizado pelo órgão executivo de trânsito dos Estados ou do Distrito Federal, apenas pertencente à entidade credenciada.
- D) A validade da Carteira Nacional de Habilitação está condicionada ao prazo de vigência do exame de aptidão física e mental
- E) A Carteira Nacional de Habilitação será conferida ao condutor no término de um ano, desde que o mesmo não tenha cometido nenhuma infração de natureza grave ou gravíssima ou seja reincidente em infração leve.

39. Segundo o Código de Trânsito Brasileiro, é proibido ao pedestre realizar as seguintes condutas abaixo, EXCETO:

- A) atravessar a via dentro das áreas de cruzamento, mesmo havendo sinalização para esse fim.
- B) cruzar pistas de rolamento nos viadutos, pontes, ou túneis.
- C) permanecer ou andar nas pistas de rolamento.
- D) andar fora da faixa própria, passarela, passagem aérea ou subterrânea.
- E) utilizar-se da via em agrupamentos capazes de perturbar o trânsito, ou para a prática de qualquer folguedo, esporte, desfiles e similares.

40. Qual medida administrativa um agente de trânsito deverá adotar ao abordar um condutor que tenha cometido a seguinte infração de trânsito: deixar o condutor ou passageiro de usar o cinto de segurança?

- A) Recolhimento do Certificado de Registro.
- B) Retenção do veículo até colocação do cinto pelo infrator.
- C) Recolhimento do Certificado de Licenciamento Anual.
- D) Remoção do veículo.
- E) Recolhimento da Carteira Nacional de Habilitação.

RASCUNHO