



PREFEITURA
MUNICIPAL
DE ITAIPISSUMA

CONCURSO

PÚBLICO



GUARDA MUNICIPAL

Nível Médio

LEIA COM ATENÇÃO

- 01** Só abra este caderno após ler todas as instruções e quando for autorizado pelos fiscais da sala.
 - 02** Preencha os dados pessoais.
 - 03** Autorizado o início da prova, verifique se este caderno contém 50 (cinquenta) questões; se não estiver completo, exija outro do fiscal da sala.
 - 04** Todas as questões desta prova são de múltipla escolha, apresentando uma só alternativa correta.
 - 05** Ao receber a folha de respostas, confira o nome da prova, seu nome e número de inscrição. Qualquer irregularidade observada, comunique imediatamente ao fiscal.
 - 06** Assinale a resposta de cada questão no corpo da prova e só depois transfira os resultados para a folha de resposta.
 - 07** Para marcar a folha de respostas, utilize apenas caneta esferográfica preta e faça as marcas de acordo com o modelo (●).
- A marcação da folha de resposta é definitiva, não admitindo rasuras.**
- 08** Só marque uma resposta para cada questão.
 - 09** Não risque, não amasse, não dobre e não suje a folha de respostas, pois isso poderá prejudicá-lo.
 - 10** Se a Comissão verificar que a resposta de uma questão é dúbia ou inexistente, a questão será posteriormente anulada e os pontos a ela correspondentes, distribuídos entre as demais.
 - 11** Os fiscais não estão autorizados a emitir opinião nem prestar esclarecimentos sobre os conteúdos das provas. Cabe única e exclusivamente ao candidato interpretar e decidir.
 - 12** Não será permitido o uso de telefones celulares, bips, pagers, palm tops, walkman, MP, player, ipod, discman, tablet, computador pessoal, câmara fotográfica ou qualquer outro tipo de equipamento eletrônico capaz de capturar, armazenar e transmitir dados, sons ou imagens.

DURAÇÃO DESTA PROVA: 4 HORAS

Nome _____

Identidade _____

Órgão Exp.: _____

Assinatura _____

Saúde, Educação e Segurança



Fundação Apolônio Salles
de Desenvolvimento Educacional

Língua Portuguesa

TEXTO 1

Vergonha ou medo de falar em público dificultam busca por emprego

A reportagem do quadro *Mercado de Trabalho* pode ajudar quem tem dificuldade de falar em público. Há alguns erros que devem ser evitados no ambiente de trabalho.

"Se eu falar com alguma pessoa e ficar grudada, a outra pessoa não vai gostar. É como se estivéssemos em um círculo. As pessoas precisam respeitar pelo menos um metro de distância para falar, principalmente em um ambiente empresarial", explica Eunice Mendes, consultora em comunicação pessoal.

Em uma conversa ou reunião, evite mexer no cabelo. Se for mulher pode prendê-lo. Não manipule objetos como caneta ou chaveiro, nem fique mexendo na gravata ou nos óculos. Elimine as palavras e expressões como "tá", "né", "ok", "certo", "tipo assim", "acho que", "a nível de" e "é isso aí". Procure não usar palavras estrangeiras ou palavrões.

"Não precisa ficar tenso, de braços cruzados, porque isso só afasta, só aumenta a distância entre você e as pessoas da reunião", sugere a consultora. Nem olhe para o chão nem para o teto. O estudante Fábio Silva, de tão tímido, olha para um outro ponto. "Geralmente, a gente foca no fundo da sala só para não ver ninguém na frente", justifica.

"Estabeleça contato comigo. No momento em que a pessoa olha pro chão ou pro teto, a pessoa me perde", orienta Eunice. "Quando a pessoa coloca as mãos para trás passa a mensagem de estar insegura e não sabe o que fazer. A mão cruzada, em cima do abdômen, significa que eu não estou muito receptiva e dá um ar meio relaxado. Os gestos, as palavras e meus atos precisam ter coerência e equilíbrio. Já a mão na cintura parece que sou dona do estabelecimento e isto dá uma pose muito prepotente. Se a pessoa tiver segurança para falar, as mãos acompanharão normalmente a mensagem."

Ele é doutor em economia, risonho e falante. Quem imaginaria que o economista Roberto Macedo tinha pavor de falar em público? Mas hoje ele ensina em palestras como é importante a comunicação. O medo deve ser enfrentado ainda na adolescência. "Tem uma certa patrulha porque o pessoal tem medo de falar bobagem. Você não pode falar abobrinha, mas não precisa ter medo de errar. Algumas das coisas vão dar certo. Tem uma certa taxa. Pode errar uns 5% ou 10%, mas se você errar 90%, é melhor ficar calado", brinca Macedo.

Disponível em: [http://g1.globo.com/jornal-
hoje/noticia/2011/04/vergonha-ou-medo-de-falar-em-publico-
dificultam-busca-por-emprego.html](http://g1.globo.com/jornal-
hoje/noticia/2011/04/vergonha-ou-medo-de-falar-em-publico-
dificultam-busca-por-emprego.html). Acesso em 17/10/2012.
Adaptado.

01. O Texto 1 cumpre primordialmente uma função:

- A) publicitária; objetiva propagar um produto.
- B) avaliativa; objetiva avaliar o comportamento.
- C) legislativa; objetiva estabelecer leis de conduta.
- D) literária; objetiva promover a fruição estética.
- E) didática; objetiva passar algum ensinamento.

02. Em síntese, o Texto 1 recomenda que, para falar em público, em uma situação de emprego, o candidato deve:

- A) manter coerência e equilíbrio, no que se refere tanto aos gestos como às palavras.
- B) aproximar-se ao máximo das pessoas, para estabelecer contato com elas.
- C) preferir manter o cabelo preso, quer seja do sexo masculino quer seja do sexo feminino.
- D) posicionar as mãos atrás do corpo, para evitar movimentá-las em excesso.
- E) demonstrar que não tem medo de falar e, para isso, evitar ficar calado em qualquer situação.

03. A análise de alguns elementos linguísticos nos permite afirmar que:

- 1) há, no texto, a presença de várias "vozes", as quais o autor delimita pela utilização de aspas.
- 2) no trecho: "*A mão cruzada, em cima do abdômen, significa que eu não estou muito receptiva e dá um ar meio relaxado.*" (5º §), a locutora utiliza a forma de primeira pessoa do singular para fazer uma referência genérica, impessoal; não está falando exatamente de si mesma.
- 3) ao iniciar o último parágrafo com: "*Ele é doutor em economia, risonho e falante.*", o autor faz referência a alguém já mencionado anteriormente no texto.
- 4) No parágrafo conclusivo, ao afirmar que "o pessoal tem medo de falar bobagem", o locutor está fazendo uma referência bem definida e claramente especificada ao longo do texto.

Estão corretas:

- A) 1 e 4, apenas.
- B) 2 e 3, apenas.
- C) 1 e 2, apenas.
- D) 1, 2 e 4, apenas.
- E) 1, 2, 3 e 4.

04. Para escrever um texto, o autor deve selecionar bem as palavras, para que elas expressem os sentidos que ele pretende transmitir. No caso do Texto 1, é correto afirmar que:

- A) ao afirmar que "*A reportagem do quadro Mercado de Trabalho pode ajudar quem tem dificuldade de falar em público*" (1º §), a forma verbal selecionada indica que o autor tem absoluta certeza da utilidade da reportagem.
- B) no trecho: "Elimine as palavras e expressões como "tá", "né", "ok", "certo", "tipo assim", "acho que", "a nível de" e "é isso aí". (3º §), o leitor deve entender que "elimine" equivale a "dispense".
- C) o sentido de "a pessoa me perde", no trecho: "Estabeleça contato comigo. No momento em que a pessoa olha pro chão ou pro o teto, a pessoa me perde" (5º §) é o mesmo de: "a pessoa me ofende".
- D) com a expressão "pose muito prepotente" (5º §), a consultora pretendeu qualificar a pose de "corajosa".
- E) "falar abobrinha", no trecho: "*Você não pode falar abobrinha, mas não precisa ter medo de errar.*" (6º §), significa "falar demasiadamente".

05. No Texto 1 podem ser encontradas as seguintes características:

- 1) trechos que exemplificam as variedades linguísticas, principalmente as temporais.
- 2) presença marcante da linguagem não verbal, para complementar as ideias apresentadas.
- 3) nível máximo de formalidade na linguagem.
- 4) predominância do sentido denotativo das palavras e expressões.

Está(ão) correta(s):

- A) 1, 2, 3 e 4.
- B) 2, apenas.
- C) 1 e 3, apenas.
- D) 4, apenas.
- E) 2 e 3, apenas.

06. “O estudante Fábio Silva, de tão tímido, olha para um outro ponto.” (4º §). O segmento sublinhado estabelece, no trecho dado, uma relação semântica de:

- A) causalidade.
- B) comparação.
- C) oposição.
- D) conformidade.
- E) conclusão.

07. “Há alguns erros que devem ser evitados.” Assinale a alternativa em que o trecho apresentado está de acordo com as normas da regência verbal.

- A) Há alguns erros em que nos envergonhamos.
- B) Há alguns erros com os quais é difícil conviver.
- C) Há alguns erros dos quais nos constrangem.
- D) Há alguns erros a que desejamos esquecer.
- E) Há alguns erros cujos os quais devemos superar.

08. No que se refere aos termos da oração, analise as proposições abaixo.

- 1) No trecho: “A reportagem do quadro Mercado de Trabalho pode ajudar quem tem dificuldade de falar em público.”, o segmento destacado está exercendo a função de complemento do verbo ‘ajudar’.
- 2) O trecho: “Os gestos, as palavras e meus atos precisam ter coerência e equilíbrio” exemplifica um sujeito do tipo ‘composto’.
- 3) No trecho: “[...], explica Eunice Mendes, consultora em comunicação pessoal.” (2º §), o segmento destacado tem função de aposto.

Está(ão) correta(s):

- A) 1, apenas.
- B) 2 e 3, apenas.
- C) 2, apenas.
- D) 3, apenas.
- E) 1, 2 e 3.

09. “O medo deve ser enfrentado ainda na adolescência”. Assim como o termo sublinhado, devem ser grafadas com “sc” todas as formas verbais abaixo, EXCETO:

- A) ressuscitar
- B) nascer
- C) crescer
- D) falecer
- E) descer

TEXTO 2



Disponível em: <http://dirkwolter.blogspot.com.br/2011/04/vergonhou-medo-de-falar-em-publico.html>. Acesso em 17/10/2012.

10. No último quadrinho, a resposta do candidato ao emprego comprova que ele:

- A) apesar de inadequadamente vestido, demonstra competência para o cargo pretendido.
- B) tem pouco domínio do código linguístico utilizado pelo empregador, ao longo da entrevista.
- C) não compreendeu o propósito da pergunta feita pelo empregador em: “O senhor ficou maluco?”.
- D) desconhece totalmente as regras gramaticais da língua que está utilizando na entrevista.
- E) carece de qualificação profissional para qualquer cargo a ser ocupado, na empresa.

Matemática

11. Paulo e Marcos decidem fazer aplicações financeiras. Paulo, que acredita conhecer bem esse assunto, escolhe uma aplicação que lhe rende 3% a.m. de juros no regime composto, enquanto Marcos aplica num fundo que lhe oferece 5% a.m., mas no regime de juros simples. Sabendo que ambos aplicaram R\$ 5.000,00 durante três meses, é correto afirmar que:
- A) Marcos ganha R\$ 178,36 a mais que Paulo.
 - B) Paulo ganha R\$ 176,42 a mais que Marcos.
 - C) Marcos ganha R\$ 286,36 a mais que Paulo.
 - D) Paulo ganha R\$ 286,36 a mais que Marcos.
 - E) As aplicações são equivalentes ao final dos três meses.

12. Em um depósito há dois tipos de pilhas: alcalinas e não alcalinas. Tanto entre as alcalinas (A), quanto entre as não alcalinas (N), existem duas classes: pilhas de alto (H) e baixo (L) desempenho. Sabe-se, ainda, que, entre as pilhas de alto desempenho, 80% são alcalinas, e que entre as não alcalinas, 75% são de baixo desempenho. Se no depósito há 50.000 pilhas no total, sendo 20.000 alcalinas de alto desempenho, então a razão entre a quantidade de pilhas alcalinas de baixo desempenho (AL) e a quantidade de pilhas não alcalinas de baixo desempenho (NL) é:

- A) 1/3.
- B) 5/16.
- C) 7/8.
- D) 1/2.
- E) 2/3.

13. A razão entre o mínimo múltiplo comum de dois números a e b e o máximo divisor comum desses mesmos números é 63. Sabendo que o produto $a \times b = 1008$, a diferença entre o maior e o menor desses dois números é:

- A) 6
- B) 4
- C) 8
- D) 12
- E) 24

14. Analise a Figura 1 (fora de escala), abaixo.

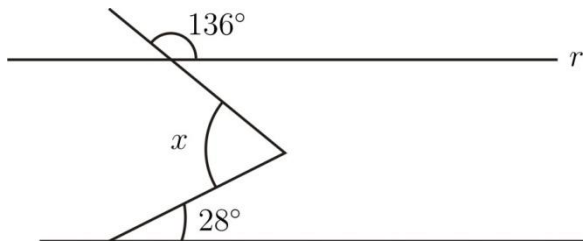


Figura 1

O valor do ângulo x é de:

- A) 16°
- B) 72°
- C) 108°
- D) 44°
- E) 56°

15. Observe o sistema de equações lineares a seguir.

$$\begin{cases} \alpha x + y - z = 2 \\ x + \alpha y + z = 0 \\ x - y = 1 \end{cases}$$

O(s) valor(es) de α para que o sistema acima tenha única solução é:

- A) $\alpha \neq -1$
- B) $\alpha = -1$
- C) $\alpha = -1$ e $\alpha = 1$
- D) $\alpha = \{x \in \mathbb{R} : x^2 - 1 = 0\}$
- E) Qualquer número real.

História do Brasil

16. Nos últimos anos, muitos pesquisadores têm voltado uma maior atenção ao estudo da formação dos povos indígenas no Brasil, ressaltando os seus aspectos sociais, econômicos e culturais. Sobre este assunto, assinale a alternativa correta.

- A) Os povos indígenas só aprenderam a utilizar a agricultura após o contato com os europeus, no século XVI. Antes disso, estes grupos possuíam hábitos nômades, sobrevivendo apenas da caça e da pesca.
- B) A sociedade tupi se destacou por ter constituído um estado forte, imperialista e de recusa ao modo de vida tribal.
- C) De todos os artefatos da cultura marajoara, os de maior destaque são os objetos de cerâmica, como vasos, estatuetas, pratos e urnas funerárias.
- D) Os estudos da arqueóloga Niède Guidon, no Parque Nacional Serra da Capivara, no Piauí, não contribuem em nada para os debates recentes sobre o início da ocupação e organização desses povos, pois a pesquisadora reafirma as teorias da década de 1960, referentes a este tema.
- E) A sociedade tupi desenvolveu um complexo sistema de escrita, que foi primordial na manutenção e preservação de sua literatura.

17. Além da economia açucareira, a pecuária desempenhou um papel importante durante o período colonial no Brasil. Sobre este assunto, analise as proposições a seguir.

- 1) A criação de gado surgiu inicialmente como uma atividade complementar para abastecer o consumo do couro e da carne nos engenhos, tornando-se, posteriormente, uma atividade econômica independente.
- 2) A mão de obra escrava foi de fundamental importância no comércio da pecuária, pois os escravizados eram os principais responsáveis pelo deslocamento das boiadas pelo sertão.
- 3) O sertão nordestino foi a principal área de ocupação e desenvolvimento da pecuária, particularmente o Vale do Rio São Francisco, que ficou popularmente conhecido como "Rio dos Currais".

Está(ão) correta(s):

- A) 2, apenas.
- B) 1 e 3, apenas.
- C) 1, 2 e 3.
- D) 2 e 3, apenas.
- E) 1, apenas.

18. "No ano de 1645, eclodiu a _____, movimento que culminou com a expulsão dos holandeses no período colonial." Esse trecho faz referência ao movimento conhecido como:

- A) Revolução Praieira.
- B) Revolução Pernambucana.
- C) Restauração do Nordeste.
- D) Insurreição Pernambucana.
- E) Guerra dos Mascates.

19. Durante o século XVIII, a região de Minas Gerais ficou caracterizada pelo aumento no fluxo de pessoas em busca de ouro e outros metais preciosos. Sobre este tema, assinale a alternativa correta.

- A) O final dos conflitos durante a 'Guerra dos Emboabas' resultou de um acordo entre as partes envolvidas, em que ficaram estabelecidas áreas de exploração dentro do território de Minas Gerais.
- B) Após a criação das casas de fundição, a sonegação de impostos e o contrabando do ouro foram completamente extintos.
- C) Ao sair vitorioso do levante contra a Coroa, Filipe dos Santos implantou uma política voltada para as camadas menos favorecidas, retirando destas a obrigatoriedade no pagamento dos impostos.
- D) Para atender às reivindicações da população, a Coroa implantou a *derrama*, ou seja, a diminuição em 20% dos impostos cobrados aos mineradores.
- E) Ao contrário do que acontecia no Nordeste com a sociedade açucareira e a vida nos engenhos, a dinâmica social das minas teve um maior desenvolvimento nas cidades, contribuindo, assim, para o crescimento da vida urbana.

20. O século XIX no Brasil foi marcado por muitas transformações culturais. Sobre a cultura brasileira no século XIX, analise as proposições a seguir.

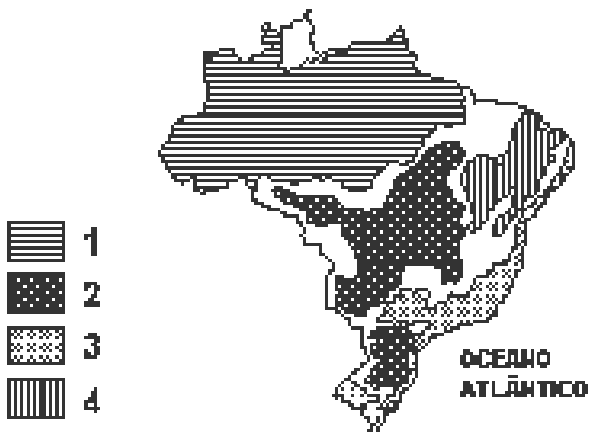
- 1) Machado de Assis é um dos maiores representantes do Realismo no Brasil, sendo *Memórias Póstumas de Brás Cubas* o principal marco deste movimento.
- 2) Na primeira fase do romantismo brasileiro destacamos os poemas de Gonçalves Dias, característicos pelo nacionalismo e exaltação ao índio.
- 3) A segunda fase do romantismo é marcada pelo bucólico e a beleza da vida no campo. Os poetas que melhor representam esta fase são Álvares de Azevedo, Casimiro de Abreu e Teófilo Dias.

Está(ão) correta(s):

- A) 2, apenas.
- B) 1 e 2, apenas.
- C) 1 e 3, apenas.
- D) 3, apenas.
- E) 1, 2 e 3.

Geografia do Brasil

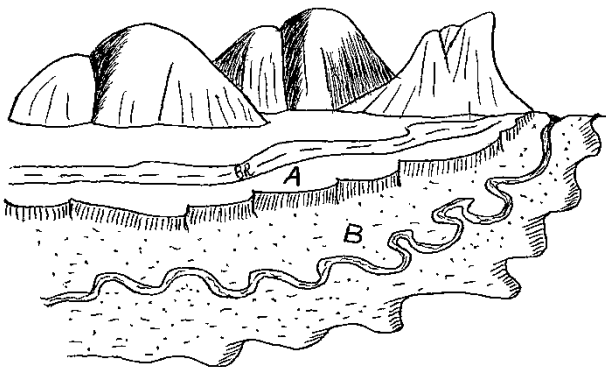
21. Observe, com atenção, a fotografia e o mapa a seguir.



É correto afirmar que as feições de relevo vistas na foto predominam no(s) domínio(s):

- A) 4.
- B) 3.
- C) 1 e 2.
- D) 2 e 4.
- E) 1 e 4.

22. Examine a paisagem a seguir.



Dois automóveis, que se dirigiam pela BR que aparece no esboço, colidiram. Um automóvel ficou virado em A, enquanto o outro, bastante danificado, com pessoas gravemente feridas, caiu na área B. Num Relatório Técnico, o Guarda de Trânsito deveria designar as áreas A e B, respectivamente, como:

- A) falésia plana e planície fluvial.
- B) colina aplainada e planície aluvial.
- C) planalto cristalino e delta.
- D) terraço fluvial e planície aluvial.
- E) terraço fluvial e planalto embutido.

23. O que pode ser corretamente afirmado sobre a região salientada no mapa a seguir?

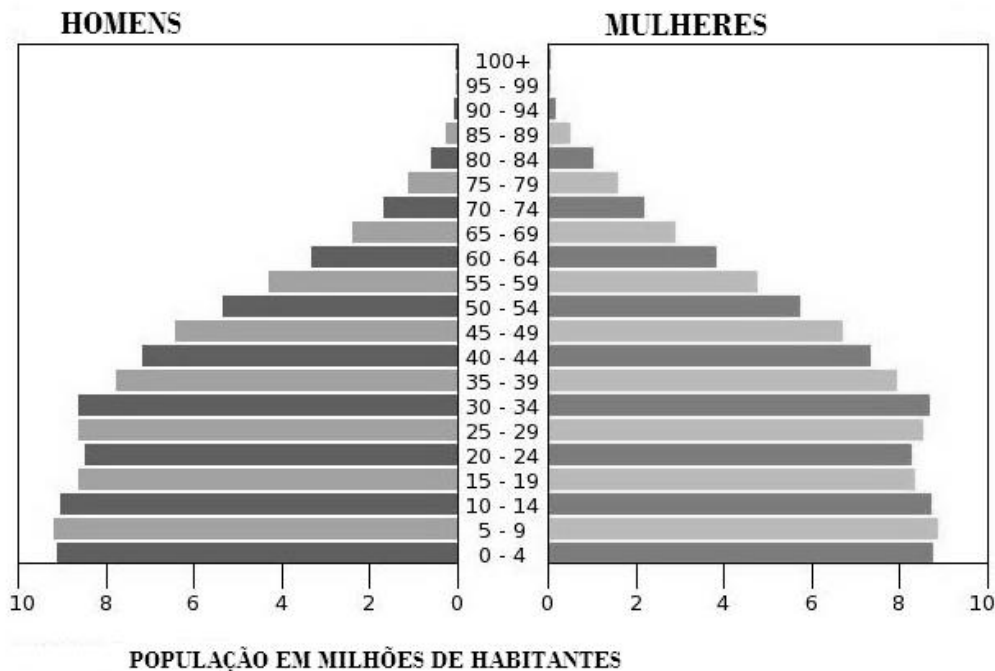


- 1) Apresenta, em seu interior, o domínio de um clima cuja principal característica é uma evaporação anual que supera a precipitação pluvial também anual, gerando, assim, um déficit hídrico.
- 2) Os Estados do Piauí, Alagoas e Maranhão apresentam IDH mais baixos, só um pouco acima da média de desenvolvimento.
- 3) O Agreste é uma área com cotas topográficas entre 450 e 650 metros, aproximadamente, pluviosidade anual entre 600 e 900 mm, e vegetação de caatinga, particularmente hipoxerófila.
- 4) A parte oriental dessa região apresenta um regime de chuvas de verão-outono, determinado por um sistema atmosférico denominado "massa de ar Equatorial Continental".
- 5) No espaço regional semiárido dominam os solos bem desenvolvidos, com baixa fertilidade, que impedem o avanço das atividades agrícolas. É um espaço onde inexistem rochas ígneas intrusivas.

Estão corretas:

- A) 1 e 5, apenas.
- B) 2 e 4, apenas.
- C) 1, 2 e 3, apenas.
- D) 2, 3 e 5, apenas.
- E) 1, 2, 3, 4 e 5.

A questão 24 deve ser respondida com base na figura a seguir.



24. Essa pirâmide etária do Brasil:

- 1) comprova que a maior parte da população economicamente ativa dedica-se a atividades no Setor Secundário da economia, particularmente no Centro-Sul do país.
- 2) demonstra que as mudanças na estrutura etária da população aproximaram-na das pirâmides etárias de países desenvolvidos.
- 3) indica que a estrutura etária do país, atualmente, coloca-o em posição intermediária entre os países de população jovem e os de população velha.
- 4) permite concluir que as mulheres de idade entre 25 e 45 anos, cujo número vem crescendo exponencialmente, ocupam quase a metade da população que trabalha no Setor Terciário da economia.

Está(ão) correta(s), apenas:

- A) 1.
- B) 1 e 4.
- C) 2 e 4.
- D) 2 e 3.
- E) 1, 2 e 3.

25. Leia o texto a seguir.

“Em consequência das precárias condições de vida, da falta de emprego e da transferência de pessoas e indústrias para as cidades médias na década de 1990, manifesta-se uma reversão no crescimento das metrópoles. Indústrias e empresas ligadas ao setor de serviços cada vez mais escolhem localizações geográficas alternativas às saturadas metrópoles do Centro-Sul. Cidades como Campinas, São Carlos, Ribeirão Preto, Goiânia, Florianópolis, além de diversas capitais nordestinas, estão entrando definitivamente no mapa das empresas nacionais e estrangeiras. Com a reativação da economia, novos contingentes populacionais são atraídos para essas localidades.”

(Adaptado de: COELHO, Marcos de Amorim; TERRA, Lygia. *Geografia do Brasil*. São Paulo: Ed. Moderna, 2005.)

Assinale o fenômeno geográfico examinado no texto acima.

- A) Desmetropolização.
- B) Urbanização Concentradora.
- C) Rurbanização.
- D) Conurbação.
- E) Metropolização Plena.

Conhecimentos Específicos

26. Os conceitos e definições estabelecidos para os efeitos da Lei nº 9.503/97 – Código de Trânsito Brasileiro – são os constantes do Anexo I do referido diploma legal. Analise os seguintes conceitos:

- 1) BONDE – veículo de propulsão elétrica que se move sobre trilhos.
- 2) PASSAGEM POR OUTRO VEÍCULO – movimento de passagem à frente de outro veículo que se desloca no mesmo sentido, em maior velocidade, mas em faixas distintas da via.
- 3) TARA – peso próprio do veículo, acrescido dos pesos da carroçaria e equipamento, das ferramentas e acessórios, da roda sobressalente, do extintor de incêndio e do fluido de arrefecimento, expresso em quilogramas.
- 4) VEÍCULO CONJUGADO – combinação de veículos, sendo o primeiro um veículo automotor e os demais reboques ou equipamentos de trabalho agrícola, construção, terraplenagem ou pavimentação.
- 5) VIAS E ÁREAS DE PEDESTRES – vias ou conjunto de vias destinados à circulação prioritária de pedestres.

De acordo com o Anexo I do Código de Trânsito Brasileiro, estão corretos apenas os conceitos:

- A) 1, 2 e 5.
- B) 1, 2 e 4.
- C) 1 e 4.
- D) 2, 4 e 5.
- E) 2, 3 e 5.

27. As Placas de Atrativos Turísticos indicam aos usuários das vias os locais onde os mesmos podem dispor dos atrativos turísticos existentes, orientando sobre sua direção ou identificando esses pontos de interesse. Assinale a alternativa que apresenta, respectivamente, o significado correto das seguintes Placas de Atrativos Turísticos (pictogramas).



- A) Área de descanso, Parque Aquático, Centro de Convenções e Jardim Público.
- B) Área de descanso, Reserva Ambiental, Centro de Convenções e Jardim Público.
- C) Praia, Reserva Ambiental, Centro de Convenções e Jardim Público.
- D) Praia, Cachoeira e Quedas d'Água, Patrimônio Natural e Estância Hidromineral.
- E) Área de Descanso, Cachoeira e Quedas d'Água, Patrimônio da Humanidade e Jardim Público.

28. Assinale a alternativa que apresenta as gravidades corretas das seguintes infrações de trânsito: (1) entrar ou sair de fila de veículos estacionados sem dar preferência de passagem a pedestres e a outros veículos; (2) falsificar ou adulterar documento de habilitação e de identificação do veículo; e (3) conduzir motocicleta, motoneta e ciclomotor sem segurar o guidão com ambas as mãos, salvo eventualmente para indicação de manobras:

- A) grave, grave e gravíssima.
- B) média, gravíssima e grave.
- C) gravíssima, grave e gravíssima.
- D) grave, média e grave.
- E) média, grave e grave.

29. Assinale a alternativa que apresenta as penas previstas para o crime de trânsito de participar, na direção de veículo automotor, em via pública, de corrida, disputa ou competição automobilística não autorizadas pela autoridade competente, desde que resulte dano potencial à incolumidade pública ou privada, impostas com fundamento na Lei nº 9.503, de 23 de setembro de 1997.

- A) Detenção, de seis meses a dois anos, multa e suspensão ou proibição de se obter a permissão ou habilitação para dirigir veículo automotor.
- B) Detenção, de seis meses a um ano, multa e suspensão ou proibição de se obter a permissão ou habilitação para dirigir veículo automotor.
- C) Detenção, de seis meses a um ano, ou multa.
- D) Detenção, de seis meses a um ano, e multa, com nova imposição adicional de idêntico prazo de suspensão ou proibição.
- E) Detenção, de seis meses a um ano, e suspensão do direito de dirigir.

30. Assinale a alternativa que apresenta a competência do Órgão Máximo Executivo de Trânsito da União.

- A) Indicar um representante para compor a comissão examinadora de candidatos portadores de deficiência física à habilitação para conduzir veículos automotores.
- B) Fiscalizar o nível de emissão de poluentes e ruídos produzidos pelos veículos automotores ou pela sua carga, de acordo com o estabelecido no art. 66, além de dar apoio às ações específicas dos órgãos ambientais locais, quando solicitado.
- C) Estabelecer modelo padrão de coleta de informações apenas sobre as ocorrências de acidentes de trânsito.
- D) Estabelecer, em conjunto com as Polícias Militares, as diretrizes para o policiamento ostensivo de trânsito.
- E) Estudar os casos omissos na legislação de trânsito e submetê-los, com proposta de solução, ao Ministério ou órgão coordenador máximo do Sistema Nacional de Trânsito.

31. De acordo com o Código de Trânsito Brasileiro, as motocicletas e motonetas destinadas ao transporte remunerado de mercadorias – motos-fretes – somente poderão circular nas vias com autorização emitida pelo órgão ou entidade executivo de trânsito dos Estados e do Distrito Federal, exigindo-se para os mencionados veículos os seguintes itens, EXCETO:
- A) registro como veículo da categoria de aluguel.
 - B) instalação de protetor de motor mata-cachorro, fixado no monobloco do veículo, destinado a proteger o motor e a perna do condutor em caso de tombamento, nos termos de regulamentação do Conselho Nacional de Trânsito – CONTRAN.
 - C) instalação de protetor de motor mata-cachorro, fixado no chassi do veículo, destinado a proteger o motor e a perna do condutor em caso de tombamento, nos termos de regulamentação do Conselho Nacional de Trânsito – CONTRAN.
 - D) instalação de aparador de linha antena cortapipas, nos termos de regulamentação do CONTRAN.
 - E) inspeção semestral para verificação dos equipamentos obrigatórios e de segurança.
32. A sinalização horizontal se apresenta em cinco cores. Assinale a alternativa que apresenta a utilização correta para a sinalização horizontal.
- A) Amarela: utilizada na regulação de fluxos de sentidos opostos; na delimitação de espaços proibidos para estacionamento e/ou parada; na marcação de obstáculos e na regulação de fluxos do mesmo sentido.
 - B) Vermelha: utilizada para proporcionar contraste, quando necessário, entre a marca viária e o pavimento das ciclofaixas e/ou ciclovias, na parte externas destas, associada à linha de bordo branca ou de linha de divisão de fluxo de mesmo sentido e nos símbolos de hospitais e farmácias (cruz).
 - C) Preta: utilizada para proporcionar contraste entre o pavimento e a sinalização vertical.
 - D) Branca: utilizada na regulação de fluxos de mesmo sentido; na delimitação de trechos de vias, destinados ao estacionamento regulamentado de veículos em condições especiais; na marcação de faixas de travessias de pedestres, símbolos e legendas.
 - E) Azul: utilizada nas pinturas de símbolos de pessoas portadoras de deficiência física, em áreas especiais de estacionamento ou de parada apenas para embarque.
33. A sinalização horizontal é dividida em marcas horizontais, marcas transversais, marcas de canalização, marcas de delimitação e controle de estacionamento e/ou parada e inscrições no pavimento. As “Marcas Transversais” ordenam os deslocamentos frontais dos veículos e os harmonizam com os deslocamentos de outros veículos e dos pedestres, assim como informam os condutores sobre a necessidade de reduzir a velocidade e indicam travessia de pedestres e posições de parada. Assinale a alternativa que não apresenta uma sinalização horizontal do tipo “Marcas Transversais”.
- A) Linha de Retenção.
 - B) Linha de Estímulo à Redução de Velocidade.
 - C) Linha de Bordo.
 - D) Linha de “Dê a Preferência”.
 - E) Marcação de Cruzamentos Rodocicloviários.
34. A Carta Magna brasileira de 1988 reconhece a instituição do júri, com a organização que lhe der a lei, assegurados os seguintes itens, EXCETO:
- A) a plenitude de defesa.
 - B) o sigilo das votações.
 - C) a soberania dos veredictos.
 - D) a competência para o julgamento dos crimes dolosos contra a vida.
 - E) a competência para o julgamento dos crimes culposos de trânsito.
35. Assinale a alternativa que não apresenta uma pena prevista no Art. 5º da Constituição Federal do Brasil de 1988.
- A) Multa reparatória.
 - B) Perda de bens.
 - C) Multa.
 - D) Prestação social alternativa.
 - E) Suspensão ou interdição de direitos.
36. Tendo em vista o que dispõe a Constituição Federal do Brasil de 1988, assinale a alternativa incorreta.
- A) É livre a manifestação do pensamento, sendo vedado o anonimato; é assegurado o direito de resposta, proporcional ao agravo, além da indenização por dano material, moral ou à imagem.
 - B) As entidades associativas, quando expressamente autorizadas, têm legitimidade para representar seus filiados, judicial ou extrajudicialmente.
 - C) No iminente perigo público, a autoridade competente poderá usar de propriedade particular, assegurada ao proprietário indenização ulterior, independentemente da existência de dano decorrente do uso.
 - D) É a todos assegurado, independentemente do pagamento de taxas, o direito de petição aos Poderes Públicos em defesa de direitos ou contra ilegalidade ou abuso de poder.
 - E) A lei não excluirá da apreciação do Poder Judiciário lesão ou ameaça a direito.
37. Assinale a alternativa que não apresenta um “Direito Individual” constante na Carta Magna pátria de 1988.
- A) Homens e mulheres são iguais em direitos e obrigações, nos termos da Constituição.
 - B) Ninguém será obrigado a fazer ou deixar de fazer alguma coisa senão em virtude de lei.
 - C) Ninguém será submetido a tortura nem a tratamento desumano ou degradante.
 - D) É livre a manifestação do pensamento, sendo vedado o anonimato.
 - E) É assegurado o direito de resposta, parcial ao agravo, além da indenização por dano material, moral ou à imagem.

- 38.** Assinale o remédio jurídico a ser adotado contra ato lesivo ao meio ambiente, segundo a Constituição Federal do Brasil de 1988.
- A) Ação Popular.
 - B) "Habeas data".
 - C) Mandado de injunção.
 - D) Mandado de segurança coletivo.
 - E) Manda do de Segurança Individual.
- 39.** Dentre as alternativas abaixo, assinale a alternativa que não apresenta uma prioridade das crianças e dos adolescentes, segundo a Lei nº 8.069/90.
- A) Primazia de receber proteção e socorro em quaisquer circunstâncias.
 - B) Precedência de atendimento nos serviços públicos ou de relevância pública.
 - C) Preferência na formulação e na execução das políticas sociais públicas.
 - D) Gratuidade de ingresso em eventos privados.
 - E) Destinação privilegiada de recursos públicos nas áreas relacionadas com a proteção à infância e à juventude.
- 40.** Segundo a Lei nº 8.069/90, os hospitais e demais estabelecimentos de atenção à saúde de gestantes, públicos e particulares, possuem várias obrigações. Assinale a alternativa que apresenta uma obrigação dos hospitais e demais estabelecimentos de atenção à saúde de gestantes, previsto no Estatuto da Criança e do Adolescente.
- A) Manter registro das atividades desenvolvidas, através de prontuários individuais, pelo prazo de 10 anos.
 - B) Identificar o recém-nascido mediante o registro de sua impressão plantar e digital e da impressão digital da mãe, sem prejuízo de outras formas normatizadas pela autoridade administrativa competente.
 - C) Proceder a exames visando ao diagnóstico e à terapêutica de anormalidades no metabolismo do recém-nascido, não estando obrigado a prestar orientação aos pais.
 - D) Fornecer declaração de nascimento onde constem necessariamente apenas as intercorrências do parto.
 - E) Manter alojamento conjunto, possibilitando ao neonato a permanência junto ao pai.
- 41.** A criança e o adolescente têm direito à liberdade, ao respeito e à dignidade como pessoas humanas em processo de desenvolvimento e como sujeitos de direitos civis, humanos e sociais garantidos na Constituição e nas leis. O "direito à liberdade" compreende todos os aspectos abaixo, EXCETO:
- A) direito de ir, vir e estar nos logradouros públicos e espaços comunitários, independente de restrições legais.
 - B) direito de opinião e expressão.
 - C) direito de crença e culto religioso.
 - D) direito de brincar, praticar esportes e divertir-se.
 - E) direito de participar da vida familiar e comunitária, sem discriminação.
- 42.** A criança e o adolescente têm direito à educação, visando ao pleno desenvolvimento de sua pessoa, preparo para o exercício da cidadania e qualificação para o trabalho. Assinale a alternativa que não apresenta um direito da criança e do adolescente.
- A) Igualdade de condições para o acesso e permanência na escola.
 - B) Direito de ser respeitado por seus educadores.
 - C) Direito de contestar critérios avaliativos, não podendo, contudo, recorrer às instâncias escolares superiores.
 - D) Direito de organização e participação em entidades estudantis.
 - E) Acesso à escola pública e gratuita, próxima de sua residência.
- 43.** De acordo com a Lei nº 8.069/90, o Estado possui deveres para serem assegurados à criança e ao adolescente. Assinale a alternativa que apresenta um dever do Estado para a criança e o adolescente.
- A) Ensino superior, obrigatório e gratuito, inclusive para os que a ele não tiveram acesso na idade própria.
 - B) Progressiva extensão da obrigatoriedade e gratuidade ao ensino médio.
 - C) Atendimento educacional especializado aos portadores de deficiência, sem critério de preferência na rede regular de ensino.
 - D) Atendimento em creche e pré-escola às crianças de zero a doze anos de idade.
 - E) Acesso aos níveis mais elevados do ensino, da pesquisa e da criação artística, independentemente da capacidade de cada um.
- 44.** É obrigação do Estado e da sociedade assegurar à pessoa idosa a liberdade, o respeito e a dignidade, como pessoa humana e sujeito de direitos civis, políticos, individuais e sociais, garantidos na Constituição e nas leis. O direito à liberdade compreende, entre outros, os seguintes aspectos, EXCETO:
- A) faculdade de ir, vir e estar nos logradouros públicos e espaços comunitários, ressalvadas as restrições legais.
 - B) direito de opinião e expressão.
 - C) direito de crença e culto religioso.
 - D) direito à prática de esportes e a diversões.
 - E) participação na vida apenas familiar.

- 45.** É assegurada a atenção integral à saúde do idoso, por intermédio do Sistema Único de Saúde – SUS, garantindo-lhe o acesso universal e igualitário, em conjunto articulado e contínuo das ações e serviços, para a prevenção, promoção, proteção e recuperação da saúde, incluindo a atenção especial às doenças que afetam preferencialmente os idosos. Assinale a alternativa correta com relação à prevenção / manutenção da saúde do idoso.
- A) Cadastramento da população idosa em base municipal.
 - B) Atendimento apenas geriátrico em ambulatórios.
 - C) Unidades geriátricas de referência, com pessoal especializado apenas na área de geriatria e gerontologia social.
 - D) Atendimento domiciliar, incluindo a internação, para a população que dele necessitar e esteja impossibilitada de se locomover, inclusive para idosos abrigados e acolhidos por instituições públicas, filantrópicas ou sem fins lucrativos e eventualmente conveniadas com o Poder Público, nos meios urbano e rural.
 - E) Reabilitação orientada apenas pela geriatria, para redução das sequelas decorrentes do agravo da saúde.
- 46.** Ao idoso que esteja no domínio de suas faculdades mentais é assegurado o direito de optar pelo tratamento de saúde que lhe for reputado mais favorável. Não estando o idoso em condições de proceder à opção, esta será feita pelos seguintes representantes, EXCETO:
- A) pelo curador, quando o idoso for interditado.
 - B) pelos familiares, quando o idoso não tiver curador.
 - C) pelo médico, quando ocorrer iminente risco de vida e não houver tempo hábil para consulta a curador ou familiar.
 - D) pelo próprio médico, quando não houver curador ou familiar conhecido, caso em que deverá comunicar o fato ao Ministério Público.
 - E) pelos familiares, quando este não puder ser contactado em tempo hábil.
- 47.** Nos programas habitacionais, públicos ou subsidiados com recursos públicos, o idoso goza das prioridades abaixo na aquisição de imóvel para moradia própria, EXCETO:
- A) reserva de pelo menos 10% (dez por cento) das unidades habitacionais residenciais para atendimento aos idosos.
 - B) implantação de equipamentos urbanos comunitários voltados ao idoso.
 - C) eliminação de barreiras arquitetônicas e urbanísticas, para garantia de acessibilidade ao idoso.
 - D) critérios de financiamento compatíveis com os rendimentos de aposentadoria e pensão.
 - E) unidades residenciais reservadas para atendimento a idosos situadas, preferencialmente, no pavimento térreo.
- 48.** A política de atendimento ao idoso far-se-á por meio do conjunto articulado de ações governamentais e não governamentais da União, dos Estados, do Distrito Federal e dos Municípios. Assinale a alternativa que apresenta um linha de ação da política de atendimento ao idoso.
- A) Eleição através da opinião pública no sentido da participação dos diversos segmentos da sociedade no atendimento do idoso.
 - B) Políticas e programas de assistência para fins eleitorais, em caráter supletivo, para aqueles que necessitarem.
 - C) Serviços especiais de prevenção e atendimento às vítimas de negligência, maus-tratos, exploração, abuso, crueldade e opressão.
 - D) Serviço apenas de identificação de parentes ou responsáveis por idosos abandonados em hospitais e instituições de longa permanência.
 - E) Proteção jurídico-social por entidades de defesa dos direitos da criança e do adolescente.
- 49.** Não há crime quando o agente pratica o fato, EXCETO:
- A) em estado de necessidade.
 - B) em ocorrência policial.
 - C) em legítima defesa.
 - D) em estrito cumprimento de dever legal.
 - E) no exercício regular de direito.
- 50.** Assinale a alternativa que apresenta o prazo de conclusão do Inquérito Policial, se o réu estiver preso (prisão preventiva ou em flagrante delito).
- A) 15 (quinze) dias.
 - B) 18 (dezoito) dias.
 - C) 30 (trinta) dias.
 - D) 05 (cinco) dias.
 - E) 10 (dez) dias.