



PREFEITURA MUNICIPAL DE PIRIPIRI

Concurso Público para o Provimento do cargo de



FISCAL DE EMBARQUE

LEIA AS INSTRUÇÕES:

- 1) Você deve receber do fiscal o material abaixo:
 - a) Este caderno com 40 (quarenta) questões objetivas;
 - b) Um **CARTÃO-RESPOSTA** destinado às respostas objetivas da prova;
- 2) Verifique se este material está completo e se seus dados pessoais conferem com aqueles constantes do CARTÃO-RESPOSTA.
- 3) O candidato só poderá entregar sua prova após 01 (uma) hora do início da mesma.
- 4) O tempo de duração da prova é de 03 (três) horas ininterruptas.
- 5) O candidato não poderá sair com o seu caderno de questões.
- 6) As Provas Objetivas e os gabaritos serão divulgados no segundo dia útil após a realização das mesmas, no endereço eletrônico www.institutoludus.com.br a partir das 18:00h;
- 7) Quando terminar sua prova **ASSINE A LISTA DE PRESENÇA**, entregue ao Fiscal o **Caderno de Questões e sua Folha de Resposta contendo sua assinatura**.
- 8) **Será excluído do certame:**
 - a) Se utilizar, durante a realização da prova, de máquinas ou relógios com a função de calculadora, bem como de rádios gravadores, de "headphones", de telefones celulares ou de fontes de consulta de qualquer espécie;
 - b) For surpreendido em conversa com outros candidatos;
 - c) Se ausentar da sala de realização da prova, levando consigo o Caderno de Questões e, ou, o Cartão-Resposta;
 - d) Deixar de assinar o Cartão-Resposta;
 - e) Perturbar, de qualquer forma o curso de realização da prova.
 - f) Rubricar, abreviar o pré-nome ou o nome, ou assinar com letra de forma o cartão resposta.
 - g) Pintar a parte superior do cartão resposta (inscrição e cargo).
- 9) Tenha muito cuidado com o CARTÃO-RESPOSTA, para não dobrar, amassar ou manchar, pois este é personalizado e em hipótese alguma poderá ser substituído.
- 10) Para cada uma das questões são apresentadas cinco alternativas classificadas com as letras (A), (B), (C), (D) e (E); somente uma responde adequadamente ao quesito proposto. Você deve assinalar apenas uma alternativa para cada questão: a marcação em mais de uma alternativa anula a questão, mesmo que uma das respostas esteja correta; também serão nulas as marcações rasuradas.
- 11) No CARTÃO-RESPOSTA, a marcação das letras correspondentes às respostas de sua opção, deve ser feita com o preenchimento de todo o espaço do campo reservado para tal fim, conforme modelo ex:
- 12) Os fiscais não estão autorizados a emitir opinião nem a prestar esclarecimentos sobre as questões e conteúdo das provas. Cabe única e exclusivamente ao candidato interpretar e decidir a este respeito.
- 13) Por motivo de segurança não será permitido ao candidato fazer uso de qualquer tipo de anotações que não seja o rascunho parte integrante desta Prova que será destacado na hora da entrega pelo fiscal de sala. Caso o candidato seja surpreendido com qualquer outro tipo de anotações em documentos que não seja o previsto acima, será eliminado do certame.

FOLHA DE ANOTAÇÃO DO GABARITO: ATENÇÃO: Esta parte somente deverá ser destacada pelo fiscal da sala, após o término da prova.

01	02	03	04	05	06	07	08	09	10	11	12	13	14	15	16	17	18	19	20
21	22	23	24	25	26	27	28	29	30	31	32	33	34	35	36	37	38	39	40

EM BRANCO

INSCRIÇÃO:

--	--	--	--	--	--

ASSINATURA:

LÍNGUA PORTUGUESA

Leia o seguinte texto:

O aumento no número de acidentes de trânsito



- 40 mil e 610
- Esse foi o número de brasileiros que perderam a vida em acidentes de trânsito em 2010.
- Em 2009, haviam sido 37 mil 594 vítimas fatais.
- Ou seja, nesse período o total de mortes em acidentes subiu 24 por cento.
- A maior parte das ocorrências foi registrada na região Norte (53%), seguida do Nordeste (48%), Centro-Oeste (22%), sul (17%) e Sudeste (10%).
- Em nível mundial, estamos atrás apenas da Índia, China, EUA e Rússia.
- Perguntar-se-á: - qual a “contribuição” do Piauí para essa estatística?

(Portal www.cidadeverde.com. Novembro/2011)

Com base no texto acima, responda às três questões seguintes.

01. Da leitura do texto, observa-se, no terceiro parágrafo, existência de uma expressão muito comum no jornalismo nacional, mas que, à luz da norma culta, é:

- a) um pleonasma vicioso
- b) um barbarismo
- c) um solecismo
- d) uma impropriedade textual
- e) uma ambiguidade

02. No todo, o texto:

- a) Informa que o Brasil não é o campeão mundial em acidentes fatais no trânsito.
- b) Apresenta coerência narrativa
- c) Informa qual o número de mortes no trânsito Estado do Piauí.
- d) Informa, explicitamente, o crescimento absoluto e em porcentagem do número de mortes no Brasil, entre 2009 e 2010.

e) Apresenta, segundo a norma culta, a grafia de uma das regiões geográficas do Brasil grafada de forma equivocada.

03. No texto, há vocábulos proparoxítonos. O número de vocábulos proparoxítonos, distintos, encontrados no texto é igual a:

- a) 2
- b) 3
- c) 4
- d) 5
- e) 6

04. Assinale a alternativa na qual há palavra(s) grafada(s) **INCORRETAMENTE**.

- a) paraquedas – quatorze – cético – aterrizar
- b) aterrissar – gérmen – enfarto – cociente
- c) omoplata – hipócrita – cataclismo – adivinhar
- d) arriar – desaparecido – experto – paço
- e) jiló – exceção – fascínora – beneficiante

05. A pessoa quando se **casa** procura logo uma boa **casa** para morar.

As classes gramáticas das palavras em destaque, na ordem, são:

- a) verbo e substantivo, respectivamente
- b) substantivo e substantivo, respectivamente
- c) substantivo e advérbio, respectivamente.
- d) verbo e adjetivo, respectivamente.
- e) substantivo e pronomes, respectivamente.

06. Dentre as frases seguintes, indique aquela que **NÃO** atende às normas da concordância nominal:

- a) Segue anexas às revistas o recibo.
- b) Era velho o carro e a buzina
- c) Eram novos o jumento e a cangalha
- d) Ele anotou correto as mensagens
- e) A melancia custou caro, mas o vendedor falou que era barata.

07. Assinale, dentre as alternativas seguintes, aquela em que todos os vocábulos **NÃO** apresentam erros de acentuação:

- a) reféns – joquei – jesuita – Iguaçu
- b) chinês – cafeína – fuzil – idolatra
- c) sótão – ítem – modelo – viúvo
- d) burguês – Paissandú – cardíaco – equilíbrio
- e) mandi – cajuí – pequi – bacuri

08. Na frase “Nazaré das Farinhas é uma cidade distante de Piri-piri, mas, mesmo longe, precisaremos ir até lá”, os dois vocábulos grifados são:

- a) parônimos
- b) complementares
- c) sinônimos
- d) conclusivos
- e) homônimos

09. Considerando que, nas alternativas seguintes, associado a cada palavra há um vocábulo ou uma expressão sinônimo, indique a alternativa correta.

- a) censo = juízo // empossar = formar poças
- b) taxa = tributo // incerto = duvidoso
- c) experto = inteligente // esperto = perito
- d) discriminar = distinguir // imergir = vir à tona
- e) emigrar = entrar (no País) // dispensa = cômodo

10. Em coluna social da revista *Caras*, lê-se:

Com exceção de Maria, todos os participantes do BBB 11 compareceram à festa junina, na Ilha de Caras.

A expressão “*com exceção de*”, sem alteração de sentido, pode ser substituída por:

- a) apenas
- b) mesmo sem
- c) não obstante
- d) menos
- e) até sem

MATEMÁTICA

11. Anastácia comprou três dúzias de ovos para fazer quatro bolos e distribuiu estes ovos igualmente para cada bolo. A quantidade de ovos em cada bolo é:

- a)Três
- b)Seis
- c)Nove
- d)Doze
- e)Trinta e seis

12. Manoel comprou uma calça por R\$ 53,00 e uma camiseta por R\$ 21,00. Para pagar a compra, deu ao caixa da loja R\$ 80,00. Assim, Manoel recebeu de troco:

- a)R\$ 27,00

- b)R\$ 18,00
- c)R\$ 9,00
- d)R\$ 6,00
- e)R\$ 4,00

13. Tenho de pagar duas dívidas, uma de R\$ 75,80 e outra de R\$ 92,70. Tenho em mãos R\$ 150,00. Faltam-me ainda:

- a)R\$ 2,50
- b)R\$ 4,50
- c)R\$ 8,50
- d)R\$ 12,50
- e)R\$ 18,50

14. Um pipoqueiro fez 450 sacos de pipocas doces e 580 sacos de pipocas salgadas. Vendeu 336 sacos de pipocas doces e 265 sacos de pipocas salgadas. A quantidade de sacos de pipoca que sobraram foi de:

- a)114
- b)315
- c)429
- d)694
- e)765

15. Para assistir a uma partida de futebol, os torcedores foram classificados por idade conforme a tabela:

Idade	Homens	Mulheres
Menor que 20 anos	9.375	3.426
Entre 20 a 35 anos	12.680	4.500
Maior que 35 anos	5.032	769

O número de torcedores (homens e mulheres) com 20 ou mais anos de idade era:

- a)17 118
- b)17 712
- c)18 481
- d)22 981
- e)23 750

16. Um aparelho de televisão está sendo vendido em três pagamentos iguais de 130 reais. Márcia comprou esse aparelho em prestações. Caso Márcia tivesse comprado o

aparelho à vista, teria gasto apenas 340 reais. O desconto que ela teria obtido, em reais, seria de:

- a)30
- b)40
- c)50
- d)60
- e)70

17. Pedro comprou certa quantidade de figurinhas. Marcela comprou um quarto da quantidade que Pedro comprou. Juntos, eles compraram 20 figurinhas. Neste caso, Pedro comprou:

- a)4 figurinhas
- b)5 figurinhas
- c)10 figurinhas
- d)12 figurinhas
- e)16 figurinhas

18. Felipe gosta muito de brincar de adivinhações. Ele tem um álbum com um milhar, sete centenas, três dezenas e oito unidades de adivinhações. Sua irmã Fernanda tem a metade das dele. Para que os dois juntos somem três mil adivinhações, faltam-lhes:

- a)393 adivinhações
- b)696 adivinhações
- c)869 adivinhações
- d)933 adivinhações
- e)1023 adivinhações

19. A área de um determinado quadrado mede 16cm^2 . Dobrando-se a medida do lado desse quadrado, sua nova área, em cm^2 , será:

- a)8
- b)24
- c)32
- d)64
- e)128

20. Um espetáculo tem início às 19h e 36min. Dura exatamente 1h e 49min. O término deste espetáculo será às:

- a)20h e 25min
- b)20h e 45min
- c)20h e 65min
- d)21h e 15min
- e)21h e 25min

CONHECIMENTOS ESPECÍFICOS

21. Raymundo Nonato é flagrado pela Polícia Rodoviária Federal, dirigindo sua Frontier 2011, trafegando na BR-226, entre Timon e o Povoado Baú (Município de Caxias-MA), a 80km/hora. A BR-226/MA, no segmento em questão, não é pavimentada, ou seja, não é asfaltada, sendo apenas “empçarrada”. Neste caso, em razão da velocidade desenvolvida,

- a) Raymundo Nonato não cometeu infração alguma.
- b) Raymundo Nonato cometeu infração leve.
- c) Raymundo Nonato cometeu infração média.
- d) Raymundo Nonato cometeu infração grave.
- e) Raymundo Nonato cometeu infração gravíssima.

22. Observe a figura seguinte



O veículo automotor representado na figura acima trafega entre Piri-piri e Piracuruca, na BR-343/PI, em segmento em perfeitas condições de tráfego. Esse veículo trafega, neste momento, fora de região urbana e em local sem sinalização indicando redução ou limite de velocidade. Nesta situação, segundo as normas brasileiras, a velocidade máxima permitida é de:

- a) 70km/h
- b) 80km/h
- c) 90km/h
- d) 100km/h
- e) 110km/h

23. Um ônibus da Princesa do Sul, que faz linha entre Floriano e Teresina, sai de Floriano às 10:00h. Faz uma parada de 15 minutos na localidade “Pau Caído”. Depois, faz parada de 20 minutos em Amarante. Sai de Amarante e faz outra parada de 20 minutos em Regeneração. Sai de Regeneração e faz outra parada, de 17 minutos, em Água Branca, em uma lanchonete denominada de “O Sales”,

chegando em Teresina, após percorrer 270km, às 15 horas. Neste caso, a Velocidade Média de Viagem (VMV) foi, em termos médios, de:

- a) 71km/h
- b) 54km/h
- c) 62km/h
- d) 65km/h
- e) 60km/h

24. Assinale a alternativa INCORRETA.

Uma rodovia federal que tem sua numeração iniciada pelo número 1, certamente:

- a) é uma rodovia longitudinal
- b) é uma rodovia radial
- c) é uma rodovia de ligação
- d) é uma rodovia diagonal
- e) é uma rodovia transversal.

25. O Conselho Nacional de Integração de Políticas de Transporte – CONIT, vinculado à Presidência da República, com a atribuição de propor ao Presidente da República políticas nacionais de integração dos diferentes modos de transporte de pessoas e bens, em conformidade com:

- I. as políticas de desenvolvimento nacional, regional e urbano, de defesa nacional, de meio ambiente e de segurança das populações, formuladas pelas diversas esferas de governo;
- II. as diretrizes para a integração física e de objetivos dos sistemas viários e das operações de transporte sob jurisdição da União, apenas;
- III. a promoção da competitividade, para uniformização de custos, tarifas e fretes, e da descentralização, para melhoria da qualidade dos serviços prestados;
- IV. as políticas de apoio à expansão e ao desenvolvimento tecnológico da indústria de equipamentos e veículos de transporte;
- V. a necessidade da coordenação de atividades pertinentes ao Sistema Federal de Viação e atribuídas pela legislação vigente aos Ministérios dos Transportes, da Defesa, da Justiça, das Cidades e à Secretaria Especial de Portos da Presidência da República.

Estão corretas.

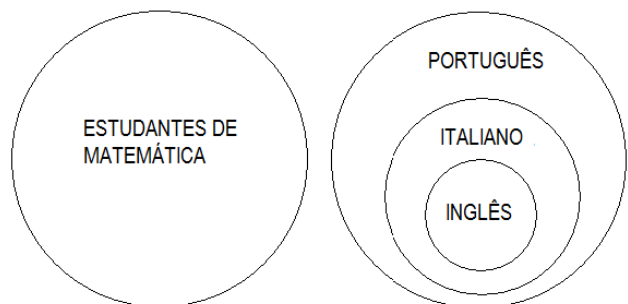
- a) I, III e V, apenas
- b) I, II, IV e V, apenas
- c) I, III e IV, apenas
- d) I, III, IV e V, apenas
- e) I, IV e V, apenas.

26. Zé do Bosque, motorista da Prefeitura de Floriano, teve de fazer a troca do pneu de um automóvel da Prefeitura na BR-343. Colocou o triângulo de sinalização e uns cones para sinalização (que carregava no veículo) sinalizando que estava parado no acostamento da BR. Após trocar o pneu, Zé do Bosque recolheu o triângulo,

mas deixou os cones de sinalização ao longo da pista e voltou para a Prefeitura. Neste caso, ele:

- a) não cometeu infração alguma
- b) cometeu infração administrativa
- c) cometeu infração grave
- d) cometeu infração leve, sujeito a multa e registro de 4 pontos na CNH
- e) cometeu infração média, penalizado com multa.

27. Observe a figura, que indica que em determinada Faculdade, todos os alunos estudam Matemática ou Língua Portuguesa (Português) e que quem estuda português estuda outros idiomas.



A partir desse diagrama, pode-se concluir que:

- a) Todos aqueles que estudam italiano também estudam inglês.
- b) Todos aqueles que estudam Português, também estudam inglês.
- c) Alguns alunos que estudam italiano não estudam Português.
- d) Alguns alunos que estudam Português não estudam inglês;
- e) Existe pelo menos um aluno que estuda Matemática e Português.

28. Segundo dispõe o Código Brasileiro de Trânsito, uma das definições abaixo é INCORRETA. Indique qual.

- a) AGENTE DA AUTORIDADE DE TRÂNSITO: pessoa, civil ou policial militar, credenciada pela autoridade de trânsito para o exercício das atividades de fiscalização, operação, policiamento ostensivo de trânsito ou patrulhamento.
- b) CAMIONETA: veículo destinado ao transporte de carga com peso bruto total de até três mil e quinhentos quilogramas.
- c) ESTRADA: via rural não pavimentada.
- d) BALANÇO TRASEIRO: distância entre o plano vertical passando pelos centros das rodas traseiras extremas e o ponto mais recuado do veículo, considerando-se todos os elementos rigidamente fixados ao mesmo.
- e) LUZ DE POSIÇÃO: luz do veículo destinada a indicar a presença e a largura do veículo.

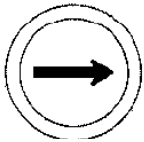
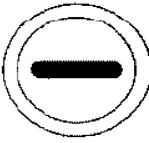



29. Você, ao trafegar na BR-343, entre Piracuruca e Buriti dos Lopes, em uma reta, rodovia em boas condições de rolamento, enquanto caía uma chuva fina, durante o dia, você assiste a um acidente de trânsito. Você para e procura sinalizar o local, com fins de evitar outro acidente. A sinalização deve ser posta, no mínimo, a quantos passos longos do local do acidente?

- a) 200
- b) 160
- c) 100
- d) 120
- e) 60

30. "Peso próprio do veículo, acrescido dos pesos da carroçaria e equipamento, do combustível, das ferramentas e acessórios, da roda sobressalente, do exterior de incêndio e do fluido de arrefecimento, expresso em quilogramas". O presente conceito se refere ao que, na legislação do trânsito, se denomina:

- a) Peso bruto total
- b) Peso bruto combinado
- c) Tara
- d) Peso bruto total combinado
- e) Peso próprio + tara

31. Observe as figuras seguintes, representativas de alguns sinais de sinalização, conforme estabelecido em resolução do CONTRAN. Observe que, ao lado de cada figura, é posto o pretensão significado de cada sinal. Assinale aquele que o sinal corresponde corretamente ao que disciplina o sinal de sinalização:

- a) Conserve-se à direita 
- b) Alfândega 
- c) Sentido de circulação via/pista 
- d) Pista sinuosa à direita 
- e) Pista dividida 

32. "As empresas prestadoras do serviço [de transporte rodoviário interestadual de passageiros] deverão reservar aos idosos com renda igual ou inferior a dois salários-mínimos, duas vagas gratuitas em cada veículo do serviço convencional de transporte rodoviário interestadual de passageiros." (Resolução ANTT N.º 1692/2006, Art. 2.º).

No que se refere ao que comanda o texto legal transcrito acima, assinale a alternativa **INCORRETA**:

- a) Incluem-se na condição de serviço convencional de transporte rodoviário interestadual de passageiros os prestados com veículo de características básicas, com ou sem sanitários, em linhas regulares.
- b) O benefício deverá ser garantido em todos os horários dos serviços convencionais, ainda que operados com veículos de características diferentes.
- c) No dia marcado para a viagem, o idoso deverá comparecer ao terminal de embarque até trinta minutos antes da hora marcada para o início da viagem, sob pena de perda do benefício.
- d) O idoso pode, ao solicitar seu "Bilhete de Viagem do Idoso" solicitar a emissão do bilhete de viagem de retorno, respeitados os procedimentos da venda de bilhete de passagem, no que couber.
- e) O idoso, para fazer uso da reserva prevista na lei, deverá solicitar um único "Bilhete de Viagem do Idoso", nos pontos de venda próprios da permissionária, com antecedência de, pelo menos, seis horas em relação ao horário de partida do ponto inicial da Linha do serviço de transporte.

33. Zé Maria, por não ter onde morar, ocupou, possui e reside, como se fosse sua, uma área urbana de 240 metros quadrados em Piripiri. Desde que ali se estabeleceu, em 10 de maio de 2007, jamais se afastou do local e não foi reclamado por ninguém por ter "invadido" aquela propriedade. Sem ter outro imóvel, segundo o Estatuto das Cidades, a partir de que data ele pode reclamar, na justiça, o direito de se fazer proprietário (de fato e de direito) daquela área urbana na qual reside?

- a) 11 de maio de 2010
- b) 11 de maio de 2011
- c) 11 de maio de 2012
- d) 11 de maio de 2015
- e) 11 de maio de 2017

34. Assinale, dentre as alternativas seguintes, aquela que é **INCORRETA**, por contrariar o que estabelece o Estatuto da Criança e do Adolescente (ECA).

- a) Para se deslocar dentro da própria comarca onde reside, a criança, mesmo desacompanhada dos pais, a criança poderá viajar sem a autorização expressa [autorização expressa: é aquela que é escrita] judicial.

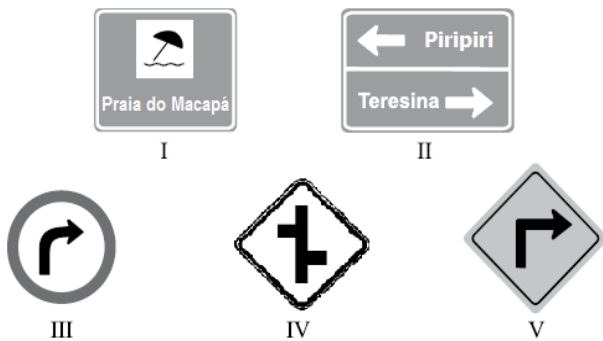
b) Se o deslocamento [da criança] for para comarca contígua e no mesmo Estado da residência desta criança, não será exigida autorização judicial para esta viajar.

c) A cidade de Floriano (PI) é vizinha à cidade de Barão de Grajaú (MA), separadas (ou unidas) apenas pelo Rio Parnaíba. Pelo que estabelece o ECA, uma criança, para viajar de Floriano (PI) para Barão de Grajaú (MA), não será exigida autorização para viajar, pois as duas cidades, embora em Estados distintos, estão incluídas na mesma região metropolitana.

d) Sabendo-se que, conforme a lei brasileira, primo é parente de quarto grau, não será exigida autorização para viajar a uma criança se esta comprovadamente, mediante a apresentação de documentos, estiver acompanhada de um primo, maior de idade e capaz.

e) A autoridade judiciária poderá, a pedido dos pais ou responsável, conceder autorização [para uma criança viajar] válida por dois anos.

35. Observe a figura seguinte, representativa de alguns sinais de trânsito.



Dentre as figuras acima, uma indica ou representa sinalização de regulamentação, a qual, a ser desrespeitada, implica infração de trânsito. Assinale:

- a) se for III
- b) se for II
- c) se for I
- d) se for IV
- e) se for V

36. O Município de Piripiri(PI) tem sua origem ligada à Igreja Católica, pois “foi por volta de 1.855 que o Padre Francisco Domingos de Freitas e Silva dividiu suas terras em pequenos lotes, oferecendo-os às pessoas que quisessem residir na localidade, nascendo, assim, a futura

cidade” de Piripiri. A religiosidade, até a presente data, é um traço do município, que tem por padroeira:

- a) Nossa Senhora das Dores
- b) Nossa Senhora dos Remédios
- c) Nossa Senhora do Carmo
- d) Nossa Senhora da Graça
- e) Nossa Senhora do Amparo

37. Segundo o IBGE, a população de Piripiri é próxima de (.....1.....) habitantes, ocupando uma área próxima de (....2....)km². As duas lacunas são preenchidas, corretamente, pelos dados postos, na ordem, na alternativa

- a) 70.000 – 1.200,00
- b) 65.000 – 1.800,00
- c) 59.000 – 1.300,00
- d) 61.000 – 1.400,00
- e) 58.000 – 1.500,00

38. Indique, dentre as alternativas seguintes, a cultura (lavoura) permanente de maior representatividade econômica para o Município de Piripiri (PI).

- a) laranja
- b) banana
- c) castanha de caju
- d) manga
- e) côco-da-baía.

39. Dentre as lavouras temporárias, indique a alternativa que aponta aquela de maior representatividade econômica para o Município de Piripiri

- a) feijão
- b) mandioca
- c) milho
- d) cana-de-açúcar
- e) melancia.

40. Indique, dentre as alternativas seguintes, aquela que relaciona município piauiense que **NÃO** está cravado na mesma microrregião geográfica na qual se encontra o Município de Piripiri(PI).

- a) Capitão de Campos
- b) Porto
- c) Madeiro
- d) Matias Olímpio
- e) Joca Marques.

