


INSTITUTO MACHADO DE ASSIS

Seriedade, compromisso e competência



MONITOR DE FUTEBOL



INSTRUÇÕES

1- Material a ser utilizado: caneta esferográfica azul ou preta. Os objetos restantes devem ser colocados em local indicado pelo fiscal da sala, inclusive aparelho celular devidamente cadastrado e etiquetado junto ao fiscal de sala.

2- Ao terminar a conferência do caderno de provas, caso o mesmo esteja incompleto ou tenha qualquer defeito, o (a) candidato (a) deverá solicitar ao fiscal de sala que o substitua, não cabendo reclamação neste sentido após, decorridos 15 minutos da entrega do mesmo. Inclusive devendo o candidato verificar se o cargo em que se inscreveu encontra-se devidamente identificado no caderno de provas.

3- Deve-se marcar no GABARITO/CARTÃO DE RESPOSTAS apenas uma opção em cada questão, com caneta azul ou preta, SEM RASURAS, SEM AMASSÁ-LO, SEM PERFURÁ-LO, caso contrário, a questão será anulada.

4- A duração da prova é de 03 (TRÊS) horas, já incluído o tempo destinado à identificação - que será feita no decorrer da prova - e ao preenchimento do CARTÃO DE RESPOSTAS (GABARITO).

NOME DO CANDIDATO:

Nº DE INSCRIÇÃO:

CONCURSO PÚBLICO

TARDE

NÍVEL MÉDIO

MAIS INFORMAÇÕES:

- Internet: www.institutomachadodeassis.com.br
- Telefone: (86)9986-7981



INSTITUTO MACHADO DE ASSIS - IMA

CONCURSO PÚBLICO DA PREFEITURA MUNICIPAL DE ALTOS - PI

01.	02.	03.	04.	05.	06.	07.	08.	09.	10.	11.	12.	13.	14.	15.	16.	17.	18.	19.	20.
21.	22.	23.	24.	25.	26.	27.	28.	29.	30.	31.	32.	33.	34.	35.	36.	37.	38.	39.	40.



LÍNGUA PORTUGUESA

QUESTÕES DE 1 A 10

INSTRUÇÃO:

Para responder a essas questões, assinale APENAS UMA ÚNICA alternativa correta e marque o número correspondente na Folha de Respostas.

CENA DE RUA

“RIO DE JANEIRO – Durou duas horas, ou mais, a tentativa do amigo em provar que a violência está entranhada no homem desde os tempos da criação do mundo, é peça de nosso equipamento básico, como os rins, o fígado, o esôfago e o piloro. Como prova, citou desde o assassinato de Abel por seu irmão Caim até a chacina da Baixada Fluminense.

Pensando bem, dei-lhe razão em parte. A história e as lendas da humanidade são uma sucessão de guerras, crimes pessoais e coletivos provocados por motivos fúteis. No campo da lenda, a guerra de Tróia, por causa de uma mulher, ou a morte de Desdêmona, por causa de um lenço. No campo da história, brigou-se por causa de cavalos, de vasos tidos como sagrados. Nos tempos da nobreza, por filhos que não nasceram na hora devida e por outros que nasceram na indevida hora.

Critiquei a generalização do amigo, mas aqui, no fundo, concordei com quase tudo que ele dizia. A violência é tão humana quanto o amor – sentimento que também causa violência quando contrariado ou traído.

Após a conversa, voltando para o carro, vi uma velhinha ser assaltada na esquina da Barata Ribeiro com Santa Clara, um sujeito magrinho, de short, tirou-lhe a bolsa com força, a velhinha caiu, ajudei-a a levantar-se, alguém já havia pedido uma ambulância pelo celular. Tudo bem, segui meu caminho e só então, quando peguei o volante do carro, notei que minha mão estava suja do sangue da velhinha. Ela se machucara na frente e eu havia segurado sua cabeça.

Cena que deveria esquecer logo e, mesmo que não a esquecesse, não mereceria memória e crônica. Mas fiquei impressionado com aquele sangue. Lembrei da conversa do amigo, a violência que faz parte do equipamento humano.

Limpei a mão e o volante com o lenço de papel que apanhei no porta-luvas. Joguei o lenço num bueiro junto à calçada. Um cidadão ia passando e me reprovou a falta de educação e civilidade. Xingou minha mãe. Eu xinguei a dele e fui embora. “

Carlos Heitor Cony. **Gazeta do Povo**, Curitiba, 17 mar. 2005



QUESTÃO 01

O autor diz que a cena que serviu de mote para a crônica sequer mereceria a memória ou o registro. O que o fez mudar de ideia? Assinale:

- a) A comparação com o amor, que causa violência quando contrariado ou traído.
- b) Ter visto uma velhinha ser assaltada e machucada no centro da cidade.
- c) A lembrança da conversa com o amigo, que o fez concluir que a violência faz parte do equipamento humano.
- d) Uma pessoa tê-lo ofendido por jogar um lenço de papel num bueiro perto da calçada.
- e) A reprovação de um indivíduo que ao passar reprovo-o por ter sido mal educado ao jogar o lenço num bueiro.

QUESTÃO 02

O uso do diminutivo pode sugerir vários sentidos. Assinale a alternativa que expressa os sentidos sugeridos pelo uso do diminutivo de “velha” e “magro”, respectivamente, no trecho:

“Após a conversa, voltando para o carro, vi uma **velhinha** ser assaltada na esquina da “Barata Ribeiro com Santa Clara, um sujeito **magrinho**, de short, tirou-lhe a bolsa com força...”

- a) Tamanho e tamanho.
- b) Tamanho e desprezo.
- c) Carinho e tamanho.
- d) Carinho e carinho.
- e) Tamanho e esnobação

QUESTÃO 03

O texto está dividido em seis parágrafos, cada um deles possui uma ideia central. Assinale a alternativa que expressa às ideias centrais por parágrafo:

- a)
 - I. Um amigo do narrador tenta convencê-lo de que a violência é inerente ao ser humano.
 - II. Exemplos de atos de violência por motivos fúteis são apresentados para defender a tese do amigo.
 - III. O narrador assume que concorda com quase tudo que o amigo disse, embora critique a generalização feita por ele.
 - IV. O narrador presencia um assalto cometido contra uma velhinha, logo após a conversa, antes mesmo de chegar ao carro e a auxilia.
 - V. O sangue na mão do narrador o impressiona e o leva a refletir sobre a conversa com o amigo.
 - VI. Ao jogar o lenço sujo de sangue na rua, o narrador é repreendido e ofendido, então, ofende também quem o ofendeu e vai embora.
- b)
 - I. O tempo de conversa entre o narrador e seu amigo foi muito longo.
 - II. Exemplos de atos de violência por motivos fúteis são apresentados para refutar a tese do amigo.
 - III. Comparação entre a violência e o amor.



IV. O narrador presencia um assalto cometido contra uma velhinha, logo após a conversa, antes mesmo de chegar ao carro e a auxilia.

V. O sangue na mão do narrador o impressiona, mas o fato logo deve cair no esquecimento.

VI. Ao jogar o lenço sujo de sangue na rua, o narrador é repreendido e ofendido, então, cala-se e vai embora.

c)

I. O tempo de conversa entre o narrador e seu amigo foi muito longo.

II. Alguns atos de violência por motivos fúteis não podem servir para justificar a tese do amigo.

III. Embora critique a generalização feita pelo amigo, o narrador assume que concorda com quase tudo que ele disse.

IV. O narrador, dias depois, presencia um assalto cometido contra uma velhinha.

V. O sangue na mão do narrador o impressiona, mas o fato logo deve cair no esquecimento.

VI. Ao jogar o lenço sujo de sangue na rua, o narrador é repreendido e ofendido, então, cala-se e vai embora.

d)

I. Um amigo do narrador tenta convencê-lo de que a violência é inerente ao ser humano.

II. Exemplos de atos de violência por motivos fúteis são apresentados para defender a tese do amigo.

III. O narrador presencia um assalto cometido contra uma velhinha, logo após a conversa, antes mesmo de chegar ao carro e a auxilia.

IV. Embora critique a generalização feita pelo amigo, o narrador assume que concorda com quase tudo que ele disse.

V. O sangue na mão do narrador o impressiona e o leva a refletir sobre a conversa com o amigo.

VI. Ao jogar o lenço sujo de sangue na rua, o narrador é repreendido e ofendido, então, cala-se e vai embora.

e)

I. O narrador comete um ato de violência e tenta convencer o amigo a fazer o mesmo

II. Nenhum caso de violência serve para ilustrar a posição de defesa do amigo sobre o ser humano

III. Ao ser repreendido por sua falta de educação ele dar razão ao amigo sobre a índole do ser humano

IV. O narrador se lembra de um ato de violência que presenciou há alguns atrás para provar sua tese

V. Ele se ofende por ter sido repreendido por sua falta de educação ao jogar o lenço na rua

VI. Ao se ferir ele lembra da conversa que teve com o amigo sobre a violência inerente ao ser humano

QUESTÃO 04

Assinale a alternativa que completa corretamente os espaços em branco:

“É preciso que _____ novidades interessantes que _____ e _____ ao mesmo tempo”.

a) surjam – divertem – instruem;

b) surjam – divirtam – instruem;

c) surjam – divirtam – instruem;

d) surgem – divertem – instruem;

e) surgem – divirtam – instruem.



Leia o poema abaixo do poeta romântico Álvares de Azevedo, escrito um mês antes de sua morte em seguida responda as questões propostas.

Se eu morresse amanhã

Se eu morresse amanhã, viria ao menos
 Fechar meus olhos minha triste irmã;
 Minha mãe de saudades morreria
 Se eu morresse amanhã!

Que dor! Que céu azul! Que doce n'alva.
 Acorda a natureza mais louçã!
 Não me batera tanto amor no peito
 Se eu morresse amanhã!

Quanta glória pressinto em meu futuro!
 Que aurora de porvir e que manhã!
 Eu perdera chorando essas coroas
 Se eu morresse amanhã

Mas essa dor da vida que devora
 À ânsia de glória, o dolorido afã...
 A dor no peito emudecera ao menos
 Se eu morresse amanhã

(In: Álvares de Azevedo. São Paulo: Abril
 educação, 1982.p. 51 Literatura
 Comentada).

QUESTÃO 05

Ao longo do poema os tempos verbais sofrem variação. Observe as formas verbais empregadas na 1ª estrofe. Em que tempo e modo estão?

- Morresse*: pretérito imperfeito do subjuntivo; *viria* e *morreria*: futuro do pretérito do indicativo.
- Morresse*: pretérito Imperfeito do Indicativo; *viria* e *morreria*: pretérito Mais-que-perfeito do Indicativo.
- Morresse*: Futuro do Pretérito do subjuntivo; *viria* e *morreria*: Futuro do Subjuntivo.
- Morresse*: pretérito Mais-que-perfeito do Indicativo; *viria* e *morreria*: Futuro do Presente do Indicativo.
- Morresse*: pretérito Perfeito do Indicativo; *viria* e *morreria*: Futuro do Subjuntivo.

QUESTÃO 06

De acordo com a variedade padrão da língua, os tempos e modos verbais da 1ª estrofe estão em perfeita correlação?

- Sim o pretérito imperfeito do indicativo se correlaciona com o pretérito mais-que-perfeito do indicativo
- Não, pois o futuro do pretérito do subjuntivo não se correlaciona com o futuro do subjuntivo.
- Sim, o futuro do pretérito do indicativo se correlaciona com o pretérito imperfeito do subjuntivo.
- Sim, pois o pretérito mais-que-perfeito do indicativo se correlaciona com o futuro do presente do indicativo.
- Sim, pois o pretérito perfeito do indicativo se correlaciona com o futuro do subjuntivo.

QUESTÃO 07

Observe agora que na 2ª, na 3ª e na 4ª estrofes são feitas as seguintes correlações verbais: *perdera/batera/emudecera* – *morresse*. As três primeiras formas estão no pretérito mais – que - perfeito do indicativo, mas tem, no contexto, valor semântico de outro tempo verbal. Qual é ele?

- Pretérito Imperfeito do indicativo
- Pretérito imperfeito do subjuntivo
- Pretérito perfeito do indicativo
- Futuro do pretérito do indicativo
- Futuro do pretérito do subjuntivo



QUESTÃO 08

Em todas as estrofes, há a conjunção *se* que funciona como suporte linguístico para o eu lírico adentrar o plano hipotético, o plano da fantasia. Qual dos seguintes valores semânticos ela expressa?

- a) Causa e indicação
- b) Consequência e proporção
- c) Tempo e valor
- d) Adversidade e adição
- e) Condição e concessão

QUESTÃO 09

Leia a frase abaixo de Millôr Fernandes

Beber é mal, mas é muito bom.

(FERNANDES, Millôr, Folha de S. Paulo, 5 de ago. 2001, p. 18.).

A palavra **mal**, no caso específico da frase acima de Millôr, é:

- a) Substantivo
- b) Advérbio
- c) Conjunção
- d) Preposição
- e) Adjetivo

QUESTÃO 10

Indique a única sequência em que todas as palavras estão grafadas corretamente:

- a) fanatizar - analisar - frizar.
- b) fanatisar - paralizar - frisar.
- c) banalizar - analisar - paralisar.
- d) realisar - analisar - paralizar.
- e) utilizar - canalisar - vasamento.



CONHECIMENTOS GERAIS/ATUALIDADES

QUESTÕES DE 11 A 15

QUESTÃO 11

Acompanhe a seguinte notícia publicada no site *G1 Notícias*, em 24/05/2012, às 15h45:

Comissão aprova projeto que inclui casamento gay no Código Civil

Proposta da senadora Marta Suplicy não interfere no casamento religioso.

Projeto ainda precisa passar por CCJ e plenário do Senado e pela Câmara.

“A Comissão de Direitos Humanos e Legislação Participativa (CDH) aprovou projeto de lei da senadora Marta Suplicy (PT-SP) que introduz no Código Civil a união estável entre casais homossexuais e a possibilidade da conversão dessa união em casamento civil”.

Sobre este tema, podemos afirmar corretamente todas as alternativas abaixo, exceto:

- a) A proposta não interfere nos critérios adotados pelas igrejas para o casamento religioso.
- b) O projeto de Marta Suplicy transforma em lei a decisão do Supremo Tribunal Federal (STF), que em maio do ano passado reconheceu a união estável entre homossexuais como unidade familiar.
- c) No Brasil, atualmente, outras instituições que já reconhecem a união de casais do mesmo sexo, como o Supremo Tribunal Federal, a Receita Federal e o Instituto Nacional do Seguro Social (INSS).
- d) Se transformado em lei, o projeto eliminará dificuldades de casais homossexuais para conseguir efetivar o casamento civil, já que, apesar da decisão do Supremo Tribunal Federal, alguns juízes argumentam que não existe legislação sobre o assunto.
- e) O reconhecimento da união estável homoafetiva não encontra respaldo em nenhuma legislação latino-americana, sendo que, caso o Projeto seja aprovado, o Brasil será o pioneiro no tema.

QUESTÃO 12

No último dia 21 do mês de maio, o Governo Federal anunciou redução em uma espécie de tributo para um setor bem específico da indústria, que gerou uma redução no preço de tais produtos, gerando descontos de até 10% (dez por cento) do valor antes comercializado. Que tributo foi este que sofreu redução e a que setor é destinado tal medida?

- a) IPI e Setor de Calçados.
- b) IR e Setor de Imóveis.
- c) IOF e Setor Farmacêutico.
- d) IPI e Setor Automobilístico.
- e) IOF e Setor Agroindústria.

QUESTÃO 13

O mais recente escândalo político de Brasília tem como personagem central o empresário goiano Carlos Augusto Ramos, o “Carlinhos Cachoeira”. Sobre tal assunto, avalie as seguintes afirmativas:

I – Na operação “Monte Carlo”, levada a frente pela Polícia Federal, as ligações grampeadas acabaram por mostrar uma ligação do contraventor com o Senador goiano Demóstenes Torres, que, uma vez acuado, prontamente se afastou de seu cargo no Congresso Nacional.



II – A ligação obscura com Cachoeira, levou Demóstenes Torres a ser alvo de inquérito junto ao Supremo Tribunal Federal (STF), perder a liderança do seu partido (PSOL, do qual pediu, posteriormente, para sair), responder processo no Conselho de Ética e Disciplina do Senado Federal e ter seu sigilo bancário quebrado por ordem judicial.

III – Em 17 de abril de 2012, líderes partidários apresentaram requerimento de criação da Comissão Parlamentar de Inquérito (CPI) mista para investigar as relações do contraventor Carlinhos Cachoeira com agentes públicos e privados, entre os quais parlamentares e empresários. Dois dias depois, o requerimento é lido em sessão conjunta do Congresso, e a CPI é oficialmente criada.

IV – Em 3 de maio de 2012, o relator da denúncia contra Demóstenes no Conselho de Ética e Decoro Parlamentar, senador Humberto Costa (PT-PE) pede abertura de processo disciplinar contra Demóstenes Torres, que resultou em sua cassação, poucos dias depois.

Dessa forma, podemos afirmar que:

- a) Somente os itens I e II estão corretos.
- b) Somente os itens III e IV estão corretos.
- c) Somente o item III está correto.
- d) Todos os itens estão corretos.
- e) Todos os itens estão incorretos.

QUESTÃO 14

Sobre a cúpula do BRICS, que ocorreu no fim de março de 2012, podemos afirmar todas as alternativas abaixo, exceto:

- a) A cúpula dos BRICS de 2012 foi a quarta versão do evento anual, uma conferência de relações internacionais à qual comparecem os chefes de estado dos cinco países-membros: Brasil, Rússia, Índia, China e África do Sul.
- b) Esta foi a primeira reunião com a participação da África do Sul, o último país a entrar na cúpula.
- c) O tema do evento foi "A Parceria dos BRICS para a Estabilidade Global, Segurança e Prosperidade".
- d) A cúpula teve diversas discussões entre os chefes de estado sobre questões políticas, incluindo a economia global, o terrorismo e a segurança energética.
- e) A cúpula aconteceu no hotel Taj Palace em Nova Déli, sendo a primeira vez que a Índia hospedou a cúpula dos BRICS.

QUESTÃO 15

O ano de 2012 tem sido um ano de importantes mudanças no cenário político mundial, já que figuras importantes politicamente foram eleitas, enquanto outras caíram por meio de golpes ou crises. Desta forma, julgue os itens abaixo:

- () François Hollande foi eleito presidente da França.
- () Taur Matan Ruak foi eleito presidente de Timor-Leste.
- () Vladimir Putin foi eleito presidente da Rússia.
- () Em 17 de fevereiro, Christian Wulff, presidente da Suíça, apresenta a sua demissão.
- () Em 12 de abril, uma junta militar toma o poder em golpe de estado na Guiné-Bissau.

Desta forma, o correto preenchimento das lacunas acima leva à seguinte sequência:

- a) V – V – V – F – V.
- b) V – F – V – F – V.
- c) V – V – F – F – V.
- d) F – V – V – F – F.
- e) V – V – V – F – F.



CONHECIMENTOS LOCAIS

QUESTÕES DE 16 A 20

QUESTÃO 16

Com uma área total de 957, 62 km² (quilômetro quadrado) o município de Altos-PI encontra-se localizado na mesorregião do:

- a) Centro-Norte Piauiense
- b) Sudoeste Piauiense
- c) Centro Sul Piauiense
- d) Oeste Piauiense
- e) Norte Piauiense

QUESTÃO 17

Sobre o município de Altos-PI, marque a alternativa CORRETA:

- I.A BR 316 é a via que liga Altos a Teresina, longitudinalmente.
 - II.O município de Altos-PI originou-se do povoado chamado Olho d'água, caracterizado pela existência de uma nascente, no local conhecido como olho d'água do Éneas.
 - III.Dentre as pessoas com 15 anos, menos da metade é alfabetizada;
 - IV.O município é limitado a norte por José de Freitas e Campo Maior, a leste por Coivaras, a sul por Pau D'Arco do Piauí e a Oeste por Teresina.
- a) Os itens I e III estão corretos.
 - b) Apenas o item I está correto.
 - c) Apenas o item IV está correto.
 - d) Existem três itens corretos.
 - e) Apenas o item II está correto.

QUESTÃO 18

Sobre o município de Altos-PI, julgue os itens a seguir:

- I. O município conta com rios perenes, cachoeiras e riachos com piscinas naturais, possuindo uma estrutura propícia ao ecoturismo e a prática de esportes radicais.
 - II. A cidade de Altos possui três sítios paleontológicos, com a presença de lenhas fósseis que datam de 230 a 250 milhões de anos (Era Paleozóica) localizadas nas zonas rurais Gameleira, Serra do Gustavo (também conhecida como Boqueirão do Brejo) e Barrinha.
 - III. A cidade de Altos possui a Floresta Nacional dos Palmares (único do estado) com 170 ha, unidade de conservação ambiental federal administrado pelo IBAMA.
 - IV. Em 1938, através da Lei Estadual nº 159 de 16/12/1938, foi criado o distrito com a denominação de Altos-PI, ainda estão subordinado a Campo Maior
- a) Os itens I e III estão corretos.
 - b) Apenas o item I está correto.
 - c) Apenas o item IV está correto.
 - d) Existem três itens corretos.
 - e) Os itens II e III estão errados.

**QUESTÃO 19**

Identifique a alternativa correta.

- a) Altos-PI possui uma biblioteca Municipal Dr. José Barros, situada na Praça Cônego Honório, no centro da Cidade.
- b) O município de Altos-PI é constituído de uma grande rede de ensino nas redes pública e privada. A rede municipal dispõe 78 escolas, a rede estadual 17 escolas e a rede particular conta com 15 (quinze) escolas, atendendo os níveis de ensino infantil, fundamental e médio.
- c) Riquezas minerais do município de Altos-PI: Amianto, Barita, Granito, Opala, Chumbo e Talco.
- d) A vegetação de Altos, é composta por caatingas, arbustivas, caatingas arbóreas e campo cerrado.
- e) O maior lençol freático do mundo localiza-se em solos piauienses e boa parte desse potencial pertence à região de Altos-PI.

QUESTÃO 20

Fundado em 1922, o município de Altos-PI encontra-se localizado na microrregião:

- a) Grande Teresina
- b) Médio Parnaíba
- c) Alto Parnaíba
- d) Litoral Piauiense
- e) Baixo-Parnaíba.

ÁREA LIVRE



CONHECIMENTOS ESPECÍFICOS

QUESTÕES DE 21 A 40

QUESTÃO 21

Que fundamento do futebol serve para você passar a bola em um momento que você já está fora de sua posição original, ou acha que alguém irá tomá-la?

- a) Passe
- b) Chutes
- c) Cabeceio
- d) Cruzamento
- e) Drible

QUESTÃO 22

A Política Nacional de Assistência Social rege-se pelos seguintes princípios democráticos, **EXCETO**:

- a) Supremacia do atendimento às necessidades sociais sobre as exigências de rentabilidade econômica;
- b) Universalização dos direitos sociais, a fim de tornar o destinatário da ação assistencial alcançável pelas demais políticas públicas;
- c) Respeito à dignidade do cidadão, à sua autonomia e ao seu direito a benefícios e serviços de qualidade, bem como à convivência familiar e comunitária, vedando-se qualquer comprovação vexatória de necessidade;
- d) Relatividade de direitos no acesso ao atendimento, privilegiando os de natureza econômica mais elevada e priorizando as populações urbanas;
- e) Divulgação ampla dos benefícios, serviços, programas e projetos assistenciais, bem como dos recursos oferecidos pelo Poder Público e dos critérios para sua concessão.

QUESTÃO 23

As políticas sociais públicas fazem parte das respostas que o Estado oferece às expressões da questão social. Nesse sentido, o Estado é concebido como:

- a) Uma articulação entre a classe trabalhadora e a “dona” do capital, supondo a consciência da desigualdade e a resistência à opressão por parte dos que vivem do trabalho.
- b) Um conjunto de desigualdades sociais engendradas pelas relações sociais constitutivas do capitalismo contemporâneo.
- c) Um incentivador da benemerência e da filantropia, unicamente, constituindo a dualização entre o pobre e o cidadão.
- d) Um regulador das relações econômicas, exclusivamente, considerando o mercado globalizado, a flexibilização das relações de trabalho e o capitalismo contemporâneo.
- e) Uma relação de forças, assimétrica e desigual, que interfere tanto na viabilização da acumulação, como na reprodução social das classes subalternas.

**QUESTÃO 24**

A família está, atualmente, no centro das políticas de proteção social. Exemplo disso é a centralidade atribuída à família na política de Assistência Social. Assim sendo, as funções da família e das políticas sociais são:

- a) Completamente antagônicas, pois, quando uma tem suas responsabilidades no âmbito privado, a outra o fará na esfera pública.
- b) Semelhantes, pois ambas visam à reprodução e a proteção social dos grupos que estão sobre sua responsabilidade.
- c) Opostas, pois o Estado moderno reduziu e até assumiu algumas atribuições que eram próprias da família.
- d) Integrantes, pois, de um lado, mantém seus entes fortemente conectados e, por outro, extremamente vulnerabilizados em seus vínculos relacionais de inclusão e pertença.
- e) Partilhadas, pois, nos últimos anos, vem se observando uma ênfase do Estado em compor com e para a família projetos de ajustamento mais efetivos.

QUESTÃO 25

Julgue as afirmações abaixo, acerca do debate sobre famílias, políticas sociais e suas contribuições para a educação profissional nessa área colocando V(Verdadeiro) e F(Falso), em seguida assinale a alternativa com a sequência correta de cima para baixo.

- () A redução da dependência em relação aos serviços públicos e a redescoberta da autonomia da família como possibilidade de resolver problemas familiares podem ser explicadas pela crise do estado de bem-estar, que provocou a adoção de uma solução familiar para a proteção social.
 - () A capacidade da família em prover as necessidades de seus membros independe da posição que esta ocupa nas relações de produção e no mercado de trabalho.
 - () As respostas políticas às questões da família estão relacionadas à concepção de pluralismo liberal, que prevê a participação da sociedade civil, embora não descarte a presença do Estado na provisão social.
 - () A concepção pluralista coletivista é aquela centrada na ideia de transferência da responsabilidade do Estado à sociedade civil para a prestação de serviços dirigidos às famílias.
 - () Na análise da família como instituição social, a perspectiva de gênero deve ser adotada por oferecer subsídios para ressignificar os lugares ocupados por homens, mulheres e crianças na família e no contexto de relações sociais mais amplas.
- a) V - V - V - V - V
 - b) F - F - F - F - F
 - c) V - F - F - F - V
 - d) V - F - V - V - V
 - e) V - F - V - V - F

QUESTÃO 26

O Serviço Social tem na questão social o elemento central do projeto da profissão, a qual se particulariza no dia a dia da intervenção, de variadas formas. O trabalho que o monitor Social desenvolve, nos diferentes espaços institucionais que ocupa, é composto por um objeto, constituinte e constituído pela:

- a) Regra.
- b) Lei.
- c) Realidade social.
- d) Ética.
- e) Liberdade.

**QUESTÃO 27**

Quando o monitor Social entende que a sociedade é toda harmônica e integrada está com a visão

- a) Democrática da sociedade.
- b) Dialética.
- c) Tradicional.
- d) Ética.
- e) Crítica.

QUESTÃO 28

A Política Pública de Assistência Social realiza-se de forma integrada às políticas setoriais, considerando as desigualdades sócio-territoriais, visando seu enfrentamento, à garantia dos mínimos sociais, ao provimento de condições para atender contingências sociais e à universalização dos direitos sociais. Sob essa perspectiva, objetiva:

- I. Prover serviços, programas, projetos e benefícios de proteção social básica e, ou, especial para famílias, indivíduos e grupos que deles necessitarem;
- II. Contribuir com a inclusão e a equidade dos usuários e grupos específicos, ampliando o acesso aos bens e serviços socioassistenciais básicos e especiais, em áreas urbana e rural;
- III. Assegurar que as ações no âmbito da assistência social tenham centralidade na família, e que garantam a convivência familiar e comunitária.

Analisando os itens acima se pode afirmar que estão corretos somente em:

- a) I
- b) II
- c) III
- d) II e III
- e) I, II e III

QUESTÃO 29

Constitui o público usuário da Política de Assistência Social, cidadãos e grupos que se encontram em situações de vulnerabilidade e riscos, tais como:

- a) Famílias e indivíduos com perda ou fragilidade de vínculos de afetividade, pertencimento e sociabilidade;
- b) Indivíduos em ciclos de vida e com identidades estigmatizadas em termos étnico, cultural e sexual;
- c) Indivíduos em desvantagem pessoal resultante de deficiências;
- d) Indivíduos em exclusão pela pobreza e, ou, no acesso às demais políticas públicas e Indivíduos em uso de substâncias psicoativas;
- e) Indivíduos em diferentes formas de confortabilidade social e advinda do núcleo familiar ajustado social e economicamente.



QUESTÃO 30

Coloque C(Certo) e E (Errado) sobre as afirmações sobre os Direitos Humanos em seguida assinale a alternativa com a sequência correta de cima para baixo.

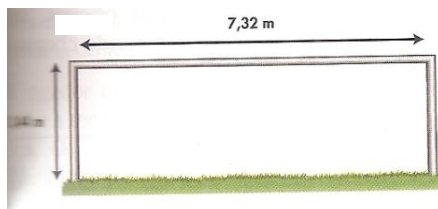
- () Direitos humanos derivam da dignidade e valor inerente à pessoa humana, e esses são universais, inalienáveis e igualitários. Isto
- () Os Direitos Humanos são inerentes a cada ser humano, não podem ser tirados ou alienados por qualquer pessoa;
- () todos têm os direitos humanos em igual medida – independente do critério de raça, cor, sexo, idioma, religião, política ou outro tipo de opinião, nacionalidade ou origem social, propriedades, nascimento ou outro status qualquer.
- () Os Direitos Humanos estão assegurados e constantes nos instrumentos internacionais como: *Declaração Universal dos Direitos Humanos*, *O Pacto Internacional sobre os Direitos Econômicos, Sociais e Culturais*, *O Pacto Internacional sobre os Direitos Cívicos e Políticos*, tratados regionais de direitos humanos, e instrumentos específicos lidando com aspectos da proteção dos direitos humanos como, por exemplo, a proibição da tortura.

- a) C – C – C – C
- b) E – E – C – C
- c) E – E – E – E
- d) C – C – E – E
- e) C – E – C – E

QUESTÃO 31

Como se pode observar, a figura abaixo é a baliza ou gol, porem a metragem saiu escura e não se pode ver. Qual alternativa indica a metragem correta?

- a) 3,44 m por 8,32
- b) 2,44 m por 7,32
- c) 1,44 m por 5,32
- d) 2,1 m por 6,32
- e) 2,55 m por 7,84



QUESTÃO 32

A figura abaixo mostra uma bola de futebol é uma bola redonda feita de couro sintético, consideradas as mudanças realizadas no mundial da Coreia e do Japão, no qual foram modificadas a textura e o material. O peso oscila entre _____ e _____ gramas e a circunferência, entre _____ e _____ cm. Assinale a alternativa que completa os espaços acima respectivamente.

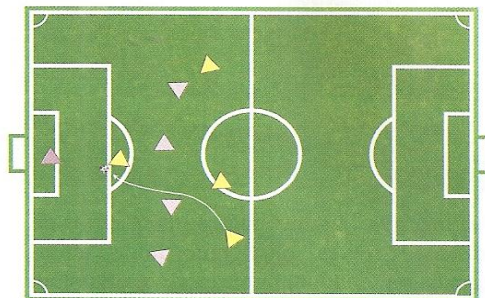
- a) 596 e 653 – 60 e 68
- b) 396 e 453 – 68 e 71
- c) 496 e 353 – 58 e 81
- d) 696 e 253 – 48 e 51
- e) 796 e 653 – 38 e 91




QUESTÃO 33

A figura abaixo está mostrando uma situação bastante comum que acontece no futebol. Esta situação é:

- a) Tiro inicial
- b) Substituições
- c) Cobrança de escanteio
- d) Impedimento
- e) Pênalti


QUESTÃO 34

O número de substituições permitidas é de no máximo:

- a) Seis em partidas oficiais
- b) Cinco em partidas oficiais
- c) Três em partidas oficiais
- d) Quatro em partidas oficiais
- e) Duas em partidas oficiais

QUESTÃO 35

Analise as seguintes afirmações sobre o escanteio no futebol

- I. O escanteio funciona como um método para reiniciar uma partida, e deve ser feito pela equipe atacante quando a bola sair completamente do campo pela linha de fundo sem que um gol tenha sido marcado, tendo sido tocada por último por um jogador da equipe adversária.
- II. No momento da cobrança, a bola deve estar parada sobre a marca de escanteio, a bandeira não pode se mover e os adversários devem estar a, pelo menos, 9,15 m de distância.
- III. O jogador que executou a cobrança não pode tocar na bola uma segunda vez sem que outro jogador tenha tocado nela.
- IV. O escanteio é cobrado no ponto em que se juntam a linha de fundo e a linha lateral mais próxima do lugar onde a bola saiu

Analisando os itens acima se pode concluir que estão corretos somente em:

- a) I e II
- b) I, II e III
- c) I, II, III e IV
- d) II, III e IV
- e) III e IV

**QUESTÃO 36**

O impedimento ou fora de jogo é uma das regras mais complexas do futebol, porque envolve tanto o conceito de posicionamento em campo quanto à capacidade de avaliação por parte do árbitro da influência que um jogador pode exercer em um lance. Aliado ao fato de que muitas vezes os fatores objetivos desta regra envolvem centímetros e frações de segundo, tudo contribui para tornar o assunto um dos mais polêmicos deste esporte. O jogador **NÃO** estará impedido nas seguintes condições, **EXCETO**:

- a) Cobrança de escanteio;
- b) Se um jogador estiver na metade do seu campo e partir para o campo adversário depois que a bola for tocada;
- c) Se o último a tocar a bola para chegar ao jogador adiantado for um jogador da equipe adversária;
- d) Se o jogador está mais próximo da linha do gol do oponente do que o penúltimo adversário.
- e) Se houver dois jogadores adversários entre o atacante e a linha de gol, inclusive o goleiro;

QUESTÃO 37

Quando uma falta é cometida dentro da grande área o árbitro marca uma falta chamada de:

- a) Impedimento
- b) Escanteio
- c) Tiro livre direto
- d) Tiro livre indireto
- e) Pênalti

QUESTÃO 38

São infrações cometidas no futebol às abaixo relacionadas, **EXCETO**:

- a) Chutar, fazendo cair um adversário.
- b) Um tiro de meta; ou um arremesso lateral; ou uma cobrança de tiro de canto.
- c) Saltar sobre o corpo de um adversário
- d) Agarrar um adversário
- e) Jogar o peso do corpo sobre um adversário, por trás.

QUESTÃO 39

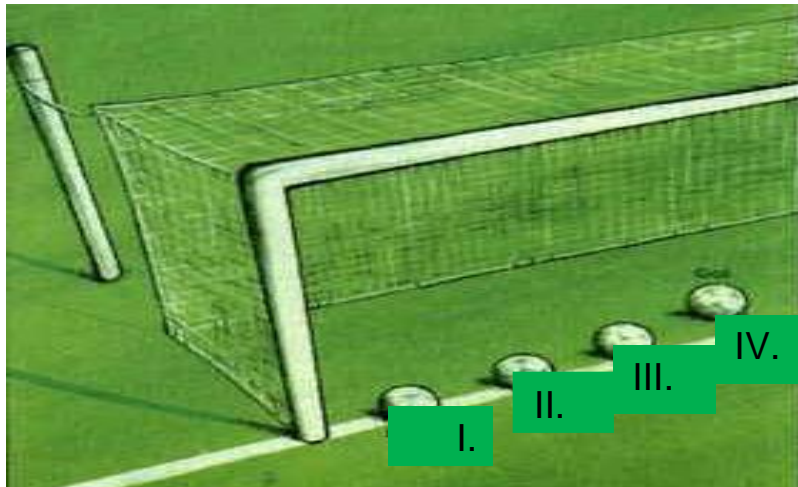
O cartão amarelo é utilizado normalmente em vários desportos pelo árbitro, no sentido de indicar ao jogador que recebe um determinado nível de punição pela sua conduta, servindo como aviso a este, que cometeu uma infração leve. Pode ter também outros significados, fora do contexto do desporto. No futebol é mostrado a um jogador o cartão amarelo quando, **EXCETO**:

- a) Ao seguir as regras corretamente
- b) Entrar ou sair do campo sem autorização do árbitro
- c) Caso um jogador persista em cometer as mesmas infrações
- d) Caso não aceite a decisão do árbitro
- e) Por conduta antiesportiva e perda deliberada de tempo



QUESTÃO 40

Observe a figura abaixo e analise os itens e assinale a alternativa **CORRETA**



- a) Em I a bola está em cima da linha, portanto pela regra é gol.
- b) Em II a bola ultrapassou a metade da linha do gol também caracteriza gol.
- c) Em III a bola está quase que totalmente ultrapassando a linha, mas tem um traço dela em cima da linha caracterizando pela regra em gol.
- d) A IV é a única que ultrapassou totalmente a linha constituindo gol
- e) A III e a IV constitui gol