



# CONCURSO PÚBLICO 2013

Caderno de Provas  
001 / 2013

VOCÊ ESTÁ RECEBENDO UM CADERNO COM QUESTÕES DE:  
**LINGUA PORTUGUESA, MATEMÁTICA E CONHECIMENTOS GERAIS.**

Nome: \_\_\_\_\_

RG: \_\_\_\_\_

PARTE I

1) A coleta de lixo também contribui para a limpeza dos locais onde se vive. Como a quantidade de lixo está aumentando e como boa parte desse lixo pode ser reciclada, as pessoas devem contribuir para diminuir o problema do lixo na cidade onde vivem, através da coleta seletiva, separando:

- ( A ) papel e vidro
- ( B ) papel, vidro e metal
- ( C ) papel, vidro, metal e plástico
- ( D ) papel, vidro, metal, plástico e restos de comida.

2) Os japoneses são responsáveis pela entrada dos chinelos de dedo em nosso país e os alemães trouxeram a cerveja. Hoje em dia essas coisas fazem parte da cultura brasileira.

Assinale de acordo com o texto:

- ( A ) a cerveja é fabricada somente por japoneses
- ( B ) os alemães trouxeram a cerveja para o Brasil
- ( C ) os chineses não são da China
- ( D ) os brasileiros casaram-se todos com japoneses.

3) De acordo com o texto **Gratificação** significa:

PROCURA-SE

Cão de porte pequeno. Raça: Fox paulistinha.  
Cor: branco com manchas marrons. Atende pelo nome de Bobi.

Quem o encontrar, favor entrar em contato com Adriana, pelo telefone 0110-0030, ou indo até a rua Bem-t-vi, 152.

**Oferece-se gratificação**

- (A) mostrar a raça do cachorro
- (B) contar quem é o dono
- (C) recompensa em dinheiro
- (D) contar quem é o dono do cão

4) Assinale o feminino de: ator- médico-professor-dentista:

- ( A ) atora, médica, professora, dentista
- ( B ) atriz, médico, professora, dentista
- ( C ) atriz, médica, professora, dentista
- ( D ) nenhuma das alternativas

5) Leia o texto abaixo

**Vira-pulga**

Eu sou um cachorro de cidade. Não tenho raça nenhuma, me chamam injustamente de vira-lata, quando na verdade deveriam me chamar de fura-saco pois não existe mais lata de lixo hoje pela rua. Apesar de ser um vira-lata, ou melhor, um fura-saco, eu tenho nome: PALITO, que foi dado por minha dona, que achava o meu latido muito fino...

O cachorro se chama Palito por que:

- ( A ) mora na cidade
- ( B ) é um cachorro de rua
- ( C ) não tem nenhuma raça
- ( D ) late muito fino

6) Leia a Anedota:

Joãozinho quebrou o braço e teve que usar uma tipóia. Preocupado, pergunta ao médico:

- Doutor, o senhor acha que depois que eu tirar o gesso vou conseguir tocar piano?

- Claro, meu filho!

- Que bom! Antes eu não conseguia de jeito nenhum!

O menino não conseguia tocar piano por que:

- ( A ) ele usava gesso no braço o tempo todo
- ( B ) nunca soube tocar piano
- ( C ) aprendeu tocar piano depois que quebrou o braço
- ( D ) o gesso atrapalhava tocar piano

7) Você sabia...que para fazer um favo de mel de 500 gramas as abelhas precisam colher o néctar de quase dois milhões de flores?

A frase acima está fazendo:

- ( A ) uma brincadeira
- ( B ) uma pergunta
- ( C ) uma piada
- ( D ) uma afirmação

8) Assinale a alternativa onde as palavras estão acentuadas corretamente:

- ( A ) papéis, café, plásticos
- ( B ) televisão, café, senhóra

- ( C ) lâmpada, cenôura, senhora
- ( D ) papeis, café, plásticos

9) O computador é um aparelho muito utilizado atualmente. Sua função é facilitar o trabalho das pessoas nos bancos, nas escolas, nas fábricas, nas repartições públicas e em muitos outros lugares. Hoje o computador é um equipamento indispensável em alguns segmentos de trabalho. Segundo o texto a função do computador é:

- ( A ) divertir
- ( B ) só assistir filmes
- ( C ) facilitar o trabalho das pessoas nos bancos, nas escolas, nas fábricas, nas repartições públicas e muitos outros lugares.
- ( D ) só para entrar na internet.

10) Inventada há quase dois anos, a bicicleta é hoje um dos principais meios de transporte individual em diversos países do mundo, como a China e a Holanda. China e Holanda são:

- ( A ) substantivos simples
- ( B ) verbos
- ( C ) substantivos próprios
- ( D ) adjetivos

11) Marque a resposta onde as palavras no diminutivo estão corretas:

- ( A ) gotinha, casinha, galinha
- ( B ) carrinho, gotinha, mesinha
- ( C ) cozinha, galinha, rainha
- ( D ) chapéu, chapeuzinho, chapinha

12) Assinale a alternativa correta das palavras que estão no **singular** e no **plural**.

- ( A ) pão/pães
- ( B ) vassoura/ vassourais
- ( C ) bala/ balões
- ( D ) carro/ carrilhões

13) Marque a única alternativa que apresenta erro na classificação da divisão silábica.

- ( A ) árvore ( trissílaba)
- ( B ) desmatamento ( polissílaba)
- ( C ) plantando ( trissílaba)
- ( D ) não ( dissílaba)

14) Assinale a frase em que o verbo está colocado no tempo presente.

- ( A ) O cão mordeu a menina
- ( B ) O cão morde a menina
- ( C ) O cão morderia a menina
- ( D ) O cão mordia a menina

15) Assinale a frase que está com o pronome adequado.

- ( A ) Eles tenho muitas roupas.
- ( B ) Ele conversamos muito.
- ( C ) Ela fizeram toda a tarefa.
- ( D ) Eu tenho muitas roupas.

16) Marque a frase que está correta.

- ( A ) O motorista soou, pois estava calor.
- ( B ) O motorista suou, pois estava calor.
- ( C ) O motorista suo , pois estava calor.
- ( D ) O motorista suado, pois estava calor.

17) Assinale onde está empregada corretamente a palavra destacada.

- ( A ) A biblioteca não funcionou no sábado **porque**?
- ( B ) **Por que** você chegou atrasada hoje?
- ( C ) **Porque** você chegou atrasada hoje?
- ( D ) Ninguém sabe o **por que** da falta da cozinheira.

18) Um atestado médico serve para:

- ( A ) solicitar o pagamento.
- ( B ) justificar e/ou abonar a falta.
- ( C ) expressar o seu desejo de faltar ao trabalho
- ( D ) avisar que o filho está doente.

**ATESTADO MÉDICO**

Atesto, para os devidos fins, a pedido do interessado, que  
portador do RG: \_\_\_\_\_, foi submetido à  
consulta médica nesta data, no horário das \_\_\_\_\_ horas,  
sendo portador da afecção CID - 10 \_\_\_\_\_.

Em decorrência, deverá permanecer afastado de suas atividades  
laborativas por um período de \_\_\_\_\_ ( \_\_\_\_\_ )  
dias, a partir desta data.

Macapá/AP, \_\_\_\_\_/\_\_\_\_\_/\_\_\_\_\_.

Assinatura e Carimbo do Médico

**AUTORIZAÇÃO**

Eu, \_\_\_\_\_, autorizo o  
Dr(a) \_\_\_\_\_ a registrar o  
diagnóstico codificado CID ou por extenso neste atestado médico.

Assinatura do Paciente ou Responsável

19) Assinale a alternativa que completa correta a frase abaixo.

- I. No trabalho devemos evitar \_\_\_\_\_
- ( A ) discursões vazias
  - ( B ) discuções vazias
  - ( C ) discussões vazias
  - ( D ) discusões vazias

20) Quando as pessoas ficam doentes, vão ao médico e logo após compram os remédios ou procuram na farmácia pública de seu município. A **BULA** serve para:

- ( A ) dar ao paciente vários dias de atestado
- ( B ) informar sobre o medicamento
- ( C ) informar o preço do produto
- ( D ) dar ao paciente a certeza da cura.

PARTE II

21) Juntando dois pedaços retos de um cano, um medindo 2m e o outro 80cm, obterá um cano reto de:

- ( A ) um metro e noventa centímetros
- ( B ) dois metros e trinta centímetros
- ( C ) dois metros e meio
- ( D ) dois metros e oitenta centímetros

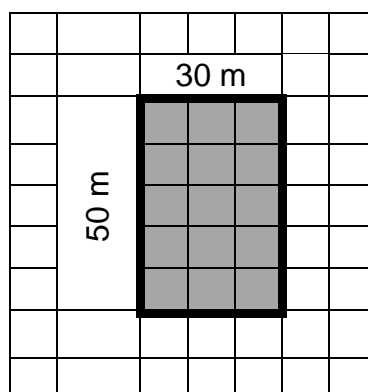
22) Um guardião trabalha 12 horas e folga 24. Trabalhando 48 horas, ele terá folgado.

- ( A ) 5 dias
- ( B ) 6 dias
- ( C ) 4 dias
- ( D ) 3 dias

23) Um homem nasceu em 1.960 e casou com 28 anos. Em que ano ele casou?

- ( A ) 1.980
- ( B ) 1.982
- ( C ) 1.984
- ( D ) 1.988

24) Ricardo anda de bicicleta na praça perto de sua casa. Observe a representação na figura abaixo. Se ele der a volta completa na praça, andar:



- ( A ) 160 m
- ( B ) 100 m
- ( C ) 80 m
- ( D ) 60 m

25) Uma sala é bem iluminada por uma lâmpada com potência de 120W. A mesma potência pode ser obtida com:

- ( A ) duas lâmpadas de 30 W
- ( B ) duas lâmpadas de 60 W
- ( C ) três lâmpadas de 60 W
- ( D ) três lâmpadas de 100 W


26) Luís comprou dois pãezinhos para dividir entre seus 4 filhos. Então cada filho ganhou:

- ( A )  $\frac{1}{4}$  de pãozinho
- ( B )  $\frac{1}{2}$  pãozinho
- ( C ) 1pãozinho
- ( D ) 2 pãezinhos


27) Um ônibus percorre 76 km do centro da cidade até o ponto final, em frente ao portão de uma fazenda. No retorno, o percurso é o mesmo. Qual a quantidade de quilômetros que o ônibus percorre no trajeto de ida e volta?

- ( A ) 152 km
- ( B ) 176 km
- ( C ) 76 km
- ( D ) 86 km


28) Os funcionários de uma loja saem para almoçar em diferentes horários. Qual dos relógios marca o horário que o último funcionário saiu para almoçar.



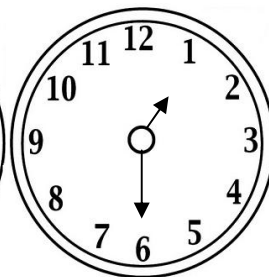
( A )



( B )



( C )



( D )



29) A coleção de CD e DVD de Bruno estão em um armário, distribuído conforme representa a figura a seguir.

FILMES	MÚSICAS
	JOGOS

A porcentagem que corresponde a música é :

- ( A ) 20%
- ( B ) 25%
- ( C ) 30%
- ( D ) 75%

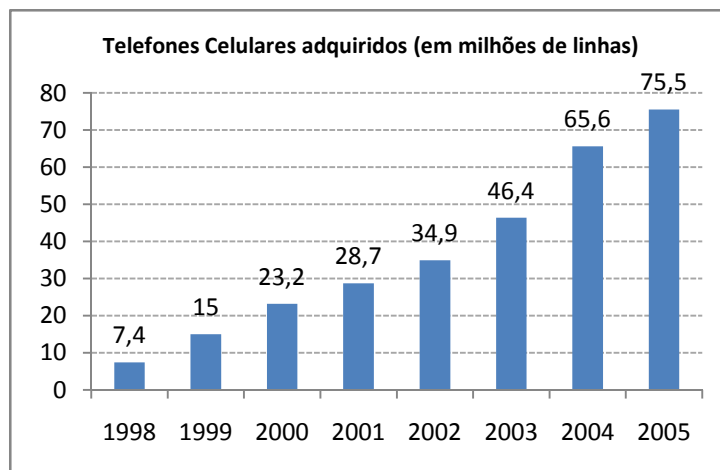
30) Na figura abaixo, vemos parte da planta de um bairro. As ruas Vermelha e Esmeralda são transversais e as ruas Azul, Branca e Amarela são:




- ( A ) paralelas
- ( B ) concorrentes
- ( C ) congruentes
- ( D ) perpendiculares

31) Quantos milhões de linhas de telefones celulares foram adquiridos no ano de 2.000?

- ( A ) 7,4 milhões
- ( B ) 23,2 milhões
- ( C ) 34,9 milhões
- ( D ) 65,6 milhões



32) Artur é arquiteto. Ele está verificando as medidas de um projeto. No desenho abaixo, podemos ver a linha que Artur está medindo.

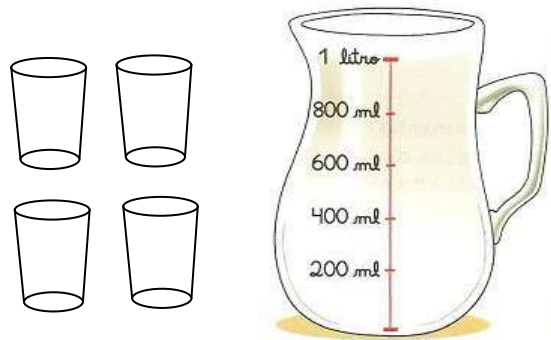


A medida desta linha é:

- (A) 4 m
- (B) 3,4 cm
- (C) 4,3 cm
- (D) 4 cm

33) A jarra da figura abaixo tinha um litro de leite. Silvia colocou a mesma quantidade de leite em cada um dos copos representados na figura.. Quantos ml ela colocou em cada copo?

- (A) 200 ml
- (B) 250 ml
- (C) 225 ml
- (D) 500 ml



34) Um carro consome um litro de gasolina para percorrer 10 KM. Mantendo esse consumo, quantos litros de gasolina serão necessários para o carro percorrer 100 km?

- (A) 2
- (B) 4
- (C) 8
- (D) 10

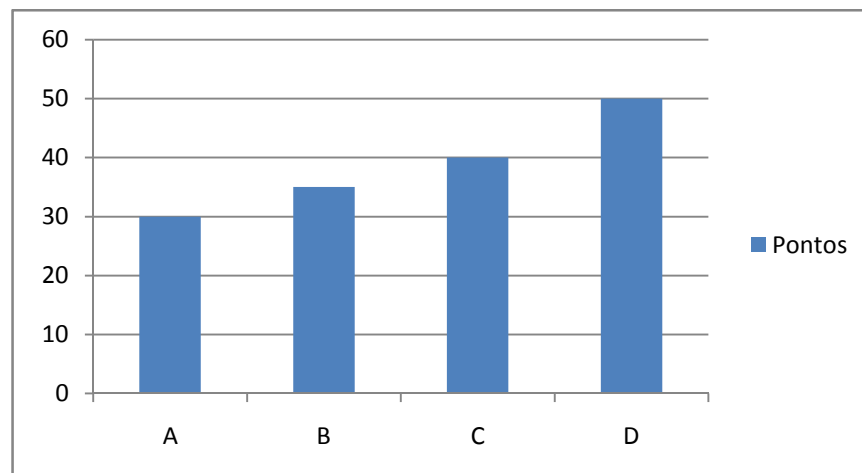
35) Veja quanto tempo os materiais abaixo levam para se decompor.

PAPEL	TOCO DE CIGARRO	CHICLETES	PLÁSTICO	PNEU
3 a 6 meses	20 meses	5 anos	100 anos	600 anos

Se você jogar hoje 1 chiclete na natureza, em que ano ele irá se decompor?

- (A) 2.020
- (B) 2.018
- (C) 2014
- (D) 2.016

36) O gráfico abaixo mostra a quantidade de pontos feitos pelos times A, B, C, D no campeonato de futebol da escola.



De acordo com o gráfico, quantos pontos o time C conquistou?

- (A) 50
- (B) 40
- (C) 35
- (D) 30

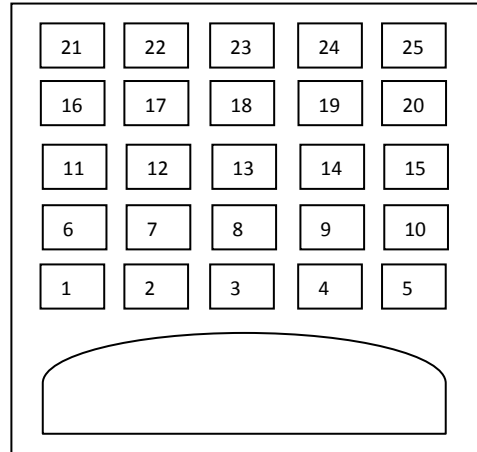
37) Uma pessoa precisava escrever as palavras QUARTA E QUINTA. Quantas letras da palavra QUARTA são também encontradas em QUINTA?

- (A) 2
- (B) 3
- (C) 4
- (D) 5

38)A figura abaixo mostra um teatroonde as cadeiras da plateia são numeradas de 1 a 25. Patrícia recebeu um ingresso de presente que dizia o seguinte:

Sua cadeira está localizada exatamente no centro da plateia

- ( A ) 12
- ( B ) 13
- ( C ) 22
- ( D ) 23



39)O circo Dente de Leão estava realizando espetáculos em diferentes cidades do Brasil. Observe a tabela de preços e depois calcule.

Preço cadeira.....	R\$ 7,00
Preço arquibancada.....	R\$ 4,00

Maria comprou2 bilhetes para sentar nas cadeiras e deu uma nota de R\$ 50,00. Quanto ela recebeu de troco?

- ( A )R\$ 36,00
- ( B ) R\$ 86,00
- ( C )R\$ 54,00
- ( D ) R\$ 90,00

40)A calibragem correta de um pneu é 28 “libras”.Se o calibrador indica que o pneu está com 30 “libras”, a operação a ser feita para calibrar corretamente o pneu é:

- ( A ) diminuir 2 “libras”
- ( B ) adicionar 30 “libras”
- ( C ) dividir por dois a pressão do pneu
- ( D ) multiplicar por 2 a pressão do pneu

PARTE III

41) Leia:

"Marchemos unidos  
Cheios de vida e emoção  
Procuremos sempre  
Sua vitória de coração."

O trecho acima é do:

- ( A ) Hino Nacional Brasileiro
- ( B ) Hino de Jaguariaíva
- ( C ) Hino da Independência
- ( D ) Hino da Proclamação da República

42) Dentro do Parque Linear está localizado o "cachoeirão". Em qual rio?

- ( A ) Rio Diamante
- ( B ) Rio das Mortes
- ( C ) Rio Capivari
- ( D ) Rio Três Bocas

43) O nome do atual prefeito do Município de Jaguariaíva é:

- ( A ) Baroni José Slobodá
- ( B ) Odilon Viana Baroni
- ( C ) Otélio Renato Baroni
- ( D ) Renato Otélio Baroni

44) As pessoas que moram na cidade recebem em suas casas, água tratada, isto é, a água que foi tornada potável nas estações de tratamento. Em Jaguariaíva o tratamento da água é realizado pelo:

- ( A ) SANEPAR
- ( B ) SAMA
- ( C ) SAMAE
- ( D ) SMECE

45) Atualmente há na Câmara de vereadores:

- ( A ) 9 vereadores
- ( B ) 7 vereadores
- ( C ) 13 vereadores
- ( D ) 11 vereadores

46) A cidade de Jaguariaíva é dividida em cidade baixa e cidade alta. Assinale o nome da praça que está no centro da cidade baixa.

- ( A ) Praça Parque Linear
- ( B ) Praça da Saudade
- ( C ) Praça Getúlio Vargas
- ( D ) Praça Izabel Branco

47) Quando utilizado em plantações contamina o solo e os rios, prejudicando a saúde das pessoas. A informação se refere a:

- ( A ) queimadas
- ( B ) desmatamento
- ( C ) erosão
- ( D ) agrotóxicos

48) Jaguariaíva faz limites territoriais com:

- ( A ) Arapoti, Sengés, Piraí do Sul
- ( B ) São José da Boa Vista, Piraí do Sul, Sengés, Arapoti e Doutor Ulysses
- ( C ) Arapoti e Sengés
- ( D ) Arapoti, São José da Boa Vista, Sengés e Piraí do Sul

49) Após a renúncia do papa Bento XVI , foi eleito o papa:

- ( A ) José III
- ( B ) Pedro I
- ( C ) Francisco
- ( D ) Conclave

50) Quando temos conhecimento de uma criança que está sendo mal tratada devemos denunciar ao:

- ( A ) bombeiro
- ( B ) prefeito
- ( C ) Conselho Tutelar
- ( D ) Regional da saúde