

# **CONCURSO PÚBLICO EDITAL Nº 03/2013 PARA PROVIMENTO DE VAGAS PARA O CONCURSO PÚBLICO MUNICIPAL DO MUNICÍPIO DE FAZENDA RIO GRANDE - ESTADO DO PARANÁ**

**CARGO: TÉCNICO EM SAÚDE BUCAL - DATA: 09/06/2013  
PERÍODO DE PROVA: MANHÃ**

## **LEIA AS INSTRUÇÕES:**

- ✓ Verifique se este caderno de questões corresponde ao cargo que você concorre e se ele contém 50 (cinquenta) questões de múltipla escolha, com 4 alternativas (a,b,c,d) de resposta para cada uma, correspondentes à prova objetiva. Caso o caderno esteja incompleto, tenha qualquer defeito ou apresente alguma divergência ao cargo que você concorre, solicite ao fiscal de sala que tome as providências cabíveis, pois não serão aceitas reclamações posteriores nesse sentido;
- ✓ No momento da identificação, verifique o cartão resposta, se as informações relativas a você estão corretas. Caso haja algum dado a ser retificado, peça ao fiscal de sala para corrigir em Ata;
- ✓ Você dispõe de 4 (quatro) horas para fazer a prova objetiva;
- ✓ Na duração da prova, está incluído o tempo destinado à entrega do material de prova e ao preenchimento do cartão resposta;
- ✓ Você deve deixar sobre a carteira apenas o documento de identidade e a caneta esferográfica de tinta azul ou preta;
- ✓ Não é permitido durante a realização da prova o uso de aparelhos eletrônicos, tais como bip, telefone celular, walkman, agenda eletrônica, notebook, palmtop, pen drive, receptor, gravador, máquina de calcular, máquina fotográfica, controle de alarme de carro etc., bem como relógio de qualquer espécie, óculos escuros, protetor auricular ou quaisquer acessórios de chapelaria, tais como chapéu, boné, gorro etc., consulta a livros, dicionários, apontamentos e apostilas;
- ✓ É proibido fazer anotação de informações relativas às suas respostas no comprovante de inscrição e(ou)em qualquer outro meio, que não os permitidos;
- ✓ Não se comunique com outros candidatos nem se levante sem autorização;
- ✓ Somente após decorrida 1 (uma) hora do início da prova, você poderá se retirar da sala de aplicação de prova;
- ✓ Ao terminar a prova, chame o fiscal de sala, devolva-lhe o caderno de prova e o cartão resposta devidamente assinado e deixe o local de provas;
- ✓ A desobediência a qualquer uma das determinações constantes em edital, no presente caderno de prova e no cartão resposta poderá implicar na anulação da sua prova;
- ✓ Tenha calma para não prejudicar seu desempenho e boa prova.

**INSCRIÇÃO:** \_\_\_\_\_

**NOME COMPLETO:** \_\_\_\_\_

## O ESPELHO

Marcello Migliaccio

1º Falar \_\_\_\_\_ da TV virou moda. É "in" repudiar a baixaria, desancar o onipresente eletrodoméstico. E num país em que os domicílios sem televisão são cada vez mais raros, o que não falta é especialista no assunto. Se um dia fomos uma pátria de 100 milhões de técnicos de futebol, hoje, mais do que nunca, temos um considerável rebanho de briosos críticos televisivos.

2º Depois de azular as janelas das grandes e das pequenas cidades, os televisores ganharam as ruas. Hoje não se encontra um boteco, padaria ou consultório dentário que não tenha um. Há até taxistas que trabalham com um olho no trânsito e outro na novela. E, nas esquinas escuras \_\_\_\_\_ se come o suspeitíssimo cachorro-quente, pode-se assistir ao "Jornal Nacional" e ser assaltado em tempo real.

3º Mas, quando os "especialistas" criticam a TV, estão olhando para o próprio umbigo. Feita ..... nossa imagem e semelhança, ela é resultado do que somos enquanto rebanho globalizado. Macaqueia e realimenta nossos conceitos e preconceitos quando ensina, diariamente, o bê-á-bá a milhões de crianças.

4º Reclamamos que, na programação, só vemos sexo, violência e consumismo. Ora, isso é o que vemos também ao sair à rua. E, se fitarmos o espelho do banheiro com um pouco mais de atenção, levaremos um susto com a reprise em cartaz. Talvez por isso a TV nos choque, por nos mostrar, sem rodeios, a quantas anda o inconsciente coletivo. E não adianta dourar a pílula; já tentaram, mas não deu ibope.

5º Aqui e ali, alguns vão argumentar que cultivam pensamentos mais nobres e que não se sentem representados no vídeo. Mas a fração que lhes cabe está lá, escondidinha como é próprio às minorias. Está nos bons documentários, nas belas imagens dos eventos esportivos, na dramaturgia sensível, no humorismo que surpreende, nos desenhos e nas séries inteligentes, no entrevistador que sabe ouvir o entrevistado, nas campanhas altruístas.

6º Reclama-se muito que, nas novelas, os negros fazem, quase sempre, papéis de subalternos. Mas é essa condição que a sociedade reserva à maioria deles, e também ..... maior parte dos nordestinos, na vida real. O que a televisão fornece é um retrato da desigualdade no país.

7º E, quando explora a mulher, estigmatiza gays, restringe o mercado para o ator idoso ou vende cerveja, maledicência e atrocidade na programação vespertina, ela reflete o mundo dominado pelo macho-adulto-branco-capitalizado.

8º A televisão mostra ainda violência no \_\_\_\_\_, gritam os pacifistas na sala de estar. Como se não houvesse milhões de Stallones, Gibsons, Bronsons, Van Dammes e Schwarzeneggers armados até os dentes no Afeganistão, Golfo Pérsico, Colúmbia, Mianmar, favelas brasileiras ou trincheiras angolanas.

9º É natural que uma parte de nós se revolte, o que parece tão compreensível quanto inócuo. Campanhas contra a baixaria televisiva lembram a piada do marido traído que encontra a mulher com o amante no sofá da sala e, no dia seguinte, vende o móvel para solucionar o problema. Garrotear a TV é tapar o sol com a peneira.

10 Enquanto a discussão ganha adeptos, continuamos devorando nosso tubo de imagem de estimação. Depois, de barriga cheia, saímos à rua para ratificar, legitimar com pensamentos, palavras e atitudes, que as coisas são mesmo assim e que, pelo jeito, a reprise continuará.

11 Aquele repórter sensacionalista que repete ..... exaustão a cena de linchamento, o apresentador que tripudia sobre o drama do desvalido, a loura que vê na criança um consumidor a mais, o jovem que tem num "reality show" desumano a alternativa para sua falta de horizonte, amenina precocemente erotizada, no fundo, somos todos nós.

(Folha de S. Paulo, 19/10/2003.)

### 01 - Assinale a alternativa que completa corretamente as lacunas de linha contínua do texto:

- a) mau – onde – dia a dia.
- b) mau – aonde – dia-a-dia.
- c) mal – onde – dia a dia.
- d) mal – aonde – dia-a-dia.

### 02 - Assinale a alternativa que preenche corretamente as lacunas de linha pontilhada do texto:

- a) à – à – à.
- b) a – a – a.
- c) a – à – à.
- d) à – a – a.

### 03 - Assinale a alternativa em que a palavra destacada não seja um pronome relativo:

- a) (...) que trabalham com um olho no trânsito e outro na novela. (2º parágrafo)
- b) (...) que cultivam pensamentos mais nobres (...) (5º parágrafo)
- c) (...) que sabe ouvir o entrevistado (...) (5º parágrafo)
- d) (...) que encontra a mulher com o amante no sofá da sala (...) (9º parágrafo)

**04 - "Se um dia fomos uma pátria (...)"**. O verbo empregado nos mesmos tempo e modo que o grifado acima está em:

- a) virou moda.
- b) temos um considerável rebanho.
- c) fitarmos o espelho.
- d) tripudia sobre o drama do desvalido.

**05 - "(...) o apresentador que tripudia sobre o drama do desvalido (...)"**. O verbo que exige o mesmo tipo de complemento que o grifado acima está empregado em:

- a) A televisão mostra muita violência.
- b) Mas a fração que lhes cabe está lá.
- c) Ela reflete o mundo dominado.
- d) Os negros fazem, quase sempre, papéis de subalternos.

**06 - O uso das aspas em "especialistas" (3º parágrafo) foram empregadas para:**

- a) Acentuar o valor significativo da palavra no contexto.
- b) Reforçar o sentido próprio da palavra.
- c) Assinalar no contexto o sentido irônico atribuído à palavra.
- d) Isolar uma explicação mencionada incidentalmente.

**07 - Analise as afirmações sobre a formação das palavras retiradas do texto e em seguida assinale a afirmação incorreta:**

- a) As palavras *preconceitos* (3º parágrafo) e *precocemente* (11 parágrafo) apresentam prefixos de mesmo significado.
- b) A palavra *onipresente* (1º parágrafo) tem como prefixo *oni* que significa tudo, todo.
- c) O sufixo de "*compreensível*" (9º parágrafo) significa "*passível de*".
- d) As palavras "*eletrodomésticos* e *televisão*" são formadas por derivação parassintética.

**08 - Assinale a alternativa em que a função sintática do termo destacado está corretamente identificada:**

- a) (...) a discussão ganha adeptos (...) – adjunto adnominal.
- b) (...) as coisas são mesmo assim (...) – predicativo do sujeito.
- c) (...) temos um considerável rebanho de briosos críticos televisivos. – sujeito simples.
- d) (...) a loura vê nas crianças um consumidor a mais (...) – predicado verbal.

**09 - Em "(...) se fitarmos o espelho (...)" (4º parágrafo).**

**"(...) mas não deu ibope (...)" (4º parágrafo).**

**"Enquanto a discussão ganha adeptos (...)" (10 parágrafo).**

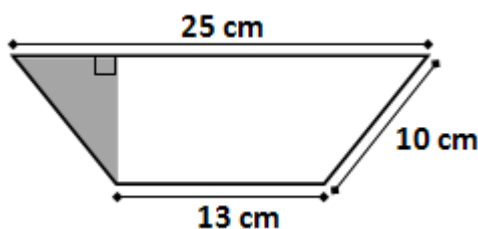
**Os elementos coesivos destacados introduzem ideia de:**

- a) condição, oposição, tempo.
- b) consequência, adição, conformidade.
- c) concessão, explicação, causa.
- d) tempo, concessão, consequência.

**10 - O texto é formado por onze parágrafos. A ideia principal do texto está apresentada no:**

- a) 1º parágrafo – Falar mal da TV virou moda.
- b) 3º parágrafo – A programação de TV copia e realimenta nossos conceitos e preconceitos.
- c) 4º parágrafo – Sexo, violência e consumismo.
- d) 8º parágrafo – A TV mostra muita violência.

**11 - A área e o perímetro do trapézio isósceles abaixo medem, respectivamente:**



- a) 304 cm<sup>2</sup> e 58 cm.
- b) 152 cm<sup>2</sup> e 58 cm.
- c) 152 cm<sup>2</sup> e 48 cm.
- d) 76 cm<sup>2</sup> e 58 cm.

**12 - Uma empresa de turismo está organizando um cruzeiro pela costa brasileira. O navio possui capacidade para 100 passageiros mais a tripulação, de modo que de cada passageiro, será cobrado R\$ 800,00 mais R\$ 10,00 por cada lugar vago. Para que essa empresa obtenha rentabilidade máxima nesse cruzeiro, o número de passageiros deve ser igual a:**

- a) 85.
- b) 90.
- c) 95.
- d) 100.

**13 - Maurício pretende comprar um veículo da seguinte maneira: uma entrada de R\$ 8200,00 no ato da compra, mais 35 parcelas mensais, sendo a primeira no valor de R\$ 940,00 e, a partir da segunda, o valor de cada parcela será reduzido em R\$ 15,50 do valor pago no mês anterior. Dessa forma, Maurício irá pagar pelo veículo:**

- a) menos de 27 mil reais.
- b) entre 27 mil e 31 mil reais.
- c) entre 31 mil e 34 mil reais.
- d) Nenhuma das alternativas anteriores.

**14 - Fábio possui uma caixa em formato de prisma quadrangular regular cuja diagonal da base é  $30\sqrt{2}$  cm e a diagonal da face lateral mede 50 cm. O volume dessa caixa é igual a:**

- a) 36 L.
- b) 18 L.
- c)  $15 \text{ dm}^3$ .
- d)  $1200 \text{ cm}^3$ .

**15 - Num grupo de amigos há 4 rapazes e 5 moças. Serão escolhidas aleatoriamente 3 pessoas desse grupo para formar uma comissão para representá-los na Jornada Mundial da Juventude, a ser realizada neste ano, no Rio de Janeiro. A probabilidade de haver, na comissão escolhida, pelo menos um rapaz é de:**

- a) menos de 50%.
- b) mais de 50% e menos de 75%.
- c) aproximadamente 88%.
- d) aproximadamente 95%.





**16 - Ana é 5 anos mais velha que Bruno. A razão entre os quadrados das idades de Ana e Bruno é 4/9. Ana tem:**

- a) 2 anos.
- b) 5 anos.
- c) 7 anos.
- d) 10 anos.

**17 - Um computador é basicamente composto por software e hardware. Entre as alternativas que seguem, a seguinte opção não remete a um exemplo de hardware:**

- a) Sistema Operacional.
- b) Disco Rígido (HD).
- c) Interface USB.
- d) Mouse.

**18 - Um dos softwares básicos presentes no sistema operacional Microsoft Windows é o aplicativo Microsoft Paint. Neste programa, a seguinte opção pode ser utilizada com o objetivo de realizar a seleção de uma região de forma livre:**

- a) 
- b) 
- c) 
- d) 

**19 - A Suíte para escritório BrOffice (hoje conhecida como LibreOffice) possui um aplicativo voltado a edição de textos (assim como o Word no pacote Microsoft Office). A seguinte opção apresenta o nome deste aplicativo:**

- a) Base.
- b) Draw.
- c) Impress.
- d) Writer.

**20 - O seguinte aplicativo pode ser utilizado para visualização de arquivos do tipo *Portable Document Format*:**

- a) Adobe Reader.
- b) Microsoft Access.
- c) Notepad.
- d) Wordpad.

**21 - O seguinte software não está presente nativamente no sistema operacional Microsoft Windows, ou seja, precisa ser adquirido separadamente:**

- a) Microsoft Office.
- b) Microsoft Internet Explorer.
- c) Microsoft Paint.
- d) Bloco de Notas (Notepad).

**22 - De acordo com os dados oficiais do Censo 2.010 do IBGE, a população atual de Fazenda Rio Grande é de quantos habitantes?**

- a) 81.576 habitantes.
- b) 81.675 habitantes.
- c) 81.756 habitantes.
- d) 81.765 habitantes.

**23 - Em meados de maio, uma legião de pessoas invadiram várias agências bancárias com a finalidade de tentar sacar os benefícios do Bolsa Família e um suposto pagamento extra pelo dia das mães. Em que regiões brasileiras ocorreram a maioria dos tumultos em agências da Caixa Econômica Federal?**

- a) Centro-Oeste e Nordeste.
- b) Centro-Oeste e Norte.
- c) Nordeste e Norte.
- d) Sudeste e Sul.

**24 - No ano passado mais de 500 mil cédulas falsas foram retiradas de circulação, este ano quase 100 mil cédulas já foram recolhidas. Que instituição abaixo é a responsável pelo controle e recolhimento final das cédulas falsas em todo o país?**

- a) Banco Central.
- b) Banco do Brasil.
- c) Caixa Econômica Federal.
- d) Casa da Moeda.

**25 - Qual dos juristas abaixo é o mais novo Ministro do Supremo Tribunal Federal?**

- a) Ari Pargendler.
- b) Barros Levenhagen.
- c) Jorge Mussi.
- d) Teori Zavascki.

**26 - Assinale a alternativa que apresenta o ângulo adequado que deve ser formado entre o instrumento periodontal e a pedra durante o processo de afiação do mesmo:**

- a) 40 a 50 graus.
- b) 80 a 90 graus.
- c) 100 a 110 graus.
- d) 180 a 190 graus.

**27 - O grampo 14 está indicado para o isolamento do seguinte elemento dentário:**

- a) Incisivos fraturados.
- b) Pré molares fraturados.
- c) Caninos recém erupcionados.
- d) Molares recém erupcionados.

**28 - Assinale a alternativa que apresenta uma enfermidade que não é transmitida através da via parenteral:**

- a) AIDS.
- b) Hepatite A.
- c) Hepatite B.
- d) Hepatite C.

**29 - Assinale a alternativa que apresenta a correta função do músculo bucinador, quando o mesmo é contraído:**

- a) Tracionar os cantos da boca para trás, pressionando a região das bochechas.
- b) Elevar e fechar a mandíbula.
- c) Elevar os cantos da boca, como em um sorriso.
- d) Elevar o lábio superior.

**30 - Assinale a alternativa que apresenta o número de dias que o instrumental pode permanecer armazenado após a esterilização em autoclave:**

- a) 7 dias.
- b) 15 dias.
- c) 30 dias.
- d) 45 dias.

**31 - Assinale a alternativa que não apresenta o nome de um agente evidenciador de placa bacteriana:**

- a) Fucsina.
- b) Eritrosina.
- c) Azul de metileno.
- d) Violeta genciana.

**32 - Assinale a alternativa que não apresenta o nome de uma broca que deve ser utilizada em baixa rotação:**

- a) Peso.
- b) Gates.
- c) Endo Z.
- d) Largo.

**33 - O capeamento direto deve ser realizado quando:**

- a) Ocorre necrose pulpar após a cimentação de uma peça de resina.
- b) Ocorre exposição pulpar durante a remoção do tecido cariado.
- c) O preparo cavitário está muito próximo ao canal causando sensibilidade.
- d) A lesão cariosa já causou exposição pulpar.

**34 - Assinale a alternativa que apresenta o correto momento da aplicação da resina composta:**

- a) Após o preparo cavitário.
- b) Após o condicionamento ácido.
- c) Após a remoção do tecido cariado.
- d) Após a aplicação do adesivo.

**35 - Assinale a alternativa que não apresenta o nome de um anestésico local utilizado na prática odontológica:**

- a) Lidocaína.
- b) Mepivacaína.
- c) Articaína.
- d) Livocaína.

**36 - Assinale a alternativa que apresenta o respectivo nome dos elementos dentários 83 e 38:**

- a) canino superior direito decíduo e terceiro molar superior esquerdo.
- b) canino inferior direito decíduo e terceiro molar inferior esquerdo.
- c) canino superior esquerdo decíduo e terceiro molar superior direito.
- d) canino inferior esquerdo decíduo e terceiro molar inferior direito.

**37 - Com relação ao uso do flúor e controle da doença cárie, assinale a alternativa incorreta:**

- a) O flúor importante é aquele mantido constante na cavidade bucal.
- b) O flúor é capaz de reduzir a quantidade de minerais perdidos quando do fenômeno de desmineralização.
- c) O flúor é capaz de evitar a formação da placa bacteriana e transformação de açúcares em ácido.
- d) O flúor participa da redução da manifestação da doença, em termos dos seus sinais.

**38 - Assinale a alternativa incorreta com relação à doença cárie:**

- a) A cárie é uma doença infecciosa bacteriana, virótica e fúngica.
- b) Entre os microorganismos considerados cariogênicos destacam-se os *Streptococcus grupo mutans*.
- c) A cárie é uma condição patológica de etiologia multifatorial.
- d) Uma diminuição do fluxo salivar é capaz de alterar a microbiota da placa bacteriana.

**39 - Assinale a alternativa que não apresenta um adoçante capaz de substituir o açúcar e ajudar na redução da produção de ácido no biofilme, inibindo o crescimento de os *Streptococcus grupo mutans*:**

- a) Xilitol.
- b) Sacarina.
- c) Lactose.
- d) Aspartame.

**40 - Assinale a alternativa que não apresenta um agente antimicrobiano capaz de diminuir a formação de placa bacteriana:**

- a) Triclosan.
- b) Clorexidina.
- c) Eucaliptol.
- d) Fluoreto de estanho.

**41 - Assinale a alternativa apresenta o material utilizado para realizar o teste de vitalidade pulpar com o frio:**

- a) Guta percha resfriada.
- b) Cloreto de etila.
- c) Álcool.
- d) Peróxido de carbamida.

**42 - O extirpa nervo é utilizado para qual procedimento?**

- a) Capeamento direto.
- b) Pulpotomia.
- c) Capeamento indireto.
- d) Pulpectomia.

**43 - Assinale a alternativa que apresenta o elemento dentário onde podem estar presentes as pontes de esmalte:**

- a) Incisivo central.
- b) Canino inferior.
- c) Segundo pré molar.
- d) Primeiro molar superior.

**44 - Assinale a alternativa que apresenta a principal consequência da toxicidade crônica do flúor:**

- a) Irritação gástrica.
- b) Vômito.
- c) Fluorose.
- d) Diarréia.

**45 - Assinale a alternativa que não apresenta uma função da língua:**

- a) Fonação.
- b) Gustação.
- c) Deglutição.
- d) Salivação.

**46 - Assinale a alternativa que não está correta com relação ao cálculo supragengival e ao cálculo subgengival:**

- a) O cálculo subgengival localiza-se coronalmente à margem gengival.
- b) O cálculo subgengival não é visível no exame clínico de rotina.
- c) O cálculo subgengival é tipicamente duro e denso.
- d) O cálculo supragengival é geralmente branco ou branco-amarelado.

**47 - Com relação à doença periodontal em pacientes tabagistas, assinale a alternativa incorreta:**

- a) O fumo é um fator de risco importante para o aumento da prevalência e severidade da destruição periodontal.
- b) O uso do tabaco para mastigar tem sido associado com leucoplasia oral e carcinoma.
- c) Fumantes ativos têm uma maior extensão de colonização por patógenos periodontais.
- d) A inflamação gengival em fumantes é aumentada.

**48 - As fibras principais do ligamento periodontal são de natureza:**

- a) Cementária.
- b) Dentinária.
- c) Colágena.
- d) Inorgânica.

**49 - Assinale a alternativa que apresenta um critério para se optar pelo controle preventivo de uma lesão cariosa ao invés do tratamento restaurador:**

- a) Sintomas de dor pulpar advindos de cárie.
- b) Cárie de cicatrícula ou fissura que se julgue envolver mais do que o esmalte e a dentina superficial.
- c) Defeito não cariioso associado a uma restauração existente.
- d) Cárie secundária que se acredita ser ativa e envolva a dentina.

**50 - A língua é formada por quantos tipos de músculos?**

- a) 1.
- b) 2.
- c) 3.
- d) 4.

DESTAQUE AQUI

-----  
**PREENCHA AQUI SUAS RESPOSTAS**

01	02	03	04	05	06	07	08	09	10	11	12	13	14	15	16	17	18	19	20
21	22	23	24	25	26	27	28	29	30	31	32	33	34	35	36	37	38	39	40
41	42	43	44	45	46	47	48	49	50										