



CÂMARA MUNICIPAL DE SÃO CARLOS

CONCURSO PÚBLICO

004. PROVA OBJETIVA

ANALISTA ADMINISTRATIVO

- ◆ Você recebeu sua folha de respostas e este caderno contendo 50 questões objetivas.
- ◆ Confira seu nome e número de inscrição impressos na capa deste caderno e na folha de respostas.
- ◆ Quando for permitido abrir o caderno, verifique se está completo ou se apresenta imperfeições. Caso haja algum problema, informe ao fiscal da sala.
- ◆ Leia cuidadosamente todas as questões e escolha a resposta que você considera correta.
- ◆ Marque, na folha de respostas, com caneta de tinta azul ou preta, a letra correspondente à alternativa que você escolheu.
- ◆ A duração da prova é de 3 horas, já incluído o tempo para o preenchimento da folha de respostas.
- ◆ Só será permitida a saída definitiva da sala e do prédio após transcorridos 75% do tempo de duração da prova.
- ◆ Ao sair, você entregará ao fiscal a folha de respostas e este caderno, podendo levar apenas o rascunho de gabarito, localizado em sua carteira, para futura conferência.
- ◆ Até que você saia do prédio, todas as proibições e orientações continuam válidas.

AGUARDE A ORDEM DO FISCAL PARA ABRIR ESTE CADERNO DE QUESTÕES.

CONHECIMENTOS GERAIS

LINGUA PORTUGUESA

Leia o texto para responder às questões de números **01** a **03**.

Acesso à internet mais que dobra no Brasil de 2005 a 2011

Quase metade da população brasileira com 10 anos ou mais de idade (46,5%) acessava a internet em 2011. Segundo estudo do IBGE, o índice é mais do que o dobro do percentual registrado em 2005, quando aproximadamente 21% da população haviam acessado a internet. No mesmo período, a população nessa faixa etária cresceu 9,7%.

(*Brasil de Fato*. Fatos em foco – da Redação. 23 a 29 maio de 2013. p.03)

01. O uso da crase, empregado no título da notícia, seria desnecessário se a palavra **internet** fosse substituída por

- (A) rede digital.
- (B) espaço virtual.
- (C) informatização.
- (D) navegação virtual.
- (E) pesquisa digital.

02. No texto, o verbo **haver** está no plural, concordando com

- (A) 21%.
- (B) população.
- (C) dobro.
- (D) índice.
- (E) percentual.

03. Ao se usar a expressão “quase metade”, compreende-se que

- (A) os dados apontados pelo IBGE não são confiáveis.
- (B) é impossível calcular todos os percentuais.
- (C) a quantidade de usuários da internet é pequena.
- (D) os 3,5% pouco afetam a noção de “metade”.
- (E) o texto busca registrar apenas dados exatos.

Leia o texto para responder às questões de números **04** e **05**.

Com temor de gripe A, igreja suspende hóstia na boca e abraço.

Para tentar evitar a transmissão da gripe, principalmente do vírus H1N1, dioceses do interior paulista mudaram os rituais das missas.

Em cidades como Aparecida, Taubaté e Franca, o abraço da paz de Cristo, a oração do pai-nosso feita de mãos dadas e a entrega da hóstia na boca foram suspensos.

O Estado de São Paulo registra 90% das mortes por gripe A no país.

(*Folha de S.Paulo*. 30 maio 2013. Capa)

04. No título, a expressão “com temor da gripe A” tem função

- (A) adjetiva.
- (B) substantiva.
- (C) verbal.
- (D) adverbial.
- (E) prepositiva.

05. De acordo com o texto, pode-se afirmar que

- (A) não se entregam mais hóstias na igreja.
- (B) as práticas religiosas não foram afetadas pela gripe.
- (C) o contato físico está sendo evitado.
- (D) alguns termos da oração foram modificados.
- (E) o abraço na igreja está sendo punido.

Leia o texto para responder às questões de números **06** a **08**.

Tratado de paz

Na esteira dos recentes casos de violência – entre eles a morte de Kevin Espada –, o governo federal organizou um seminário para elaborar uma carta sul-americana de intercâmbio e colaboração na prevenção da violência no futebol. O encontro, marcado para 6 e 7 de junho, terá a participação de representantes de nove países, que compartilharão ideias sobre o combate a atos violentos envolvendo torcedores nos estádios.

Unidos. Representantes da Inglaterra, país que conseguiu conter a violência dos torcedores, e da Espanha participarão do seminário. Colômbia, Uruguai, Brasil, Argentina, Equador, Chile e Peru são os sul-americanos que enviarão membros ao encontro, capitaneado pelo Ministério do Esporte.

(*Folha de S.Paulo*. Esporte. 30 maio 2013. p.D-2)

06. A expressão “na esteira” pode ser substituída, sem prejuízo de sentido para o texto, por

- (A) como exemplo.
- (B) na contramão.
- (C) como resultado.
- (D) na onda.
- (E) contrapondo-se.

07. De acordo com o texto, os “casos de violência” em foco referem-se a

- (A) brigas entre jogadores.
- (B) conflitos entre torcedores.
- (C) discussões entre equipes.
- (D) embates entre times.
- (E) problemas entre seguranças.

08. A expressão “unidos”, subtítulo da matéria, refere-se

- (A) aos jogadores dos países citados.
- (B) a um problema comum no futebol daqueles países.
- (C) à reunião dos representantes dos nove países.
- (D) aos países norte-americanos no combate à violência.
- (E) aos torcedores dos países em questão.

Leia o texto para responder às questões de números 09 e 10.

Prepare-se para uma viagem inesquecível

Guias indicam verdadeiros paraísos na Terra. Escolha o seu destino e embarque com todas as dicas e informações em mãos!

Guias turísticos da Folha de S. Paulo

(Folha de S. Paulo. Turismo. 30 maio 2013. p.-F-4. Adaptado)

09. Ao se empregar o modo **imperativo**, na peça publicitária, o texto tem como objetivo

- (A) determinar.
- (B) recomendar.
- (C) impor.
- (D) argumentar.
- (E) ordenar.

10. De acordo com a peça publicitária, além da visita a “paraísos na Terra”, para que a viagem seja inesquecível é importante

- (A) escolher o destino.
- (B) ir a lugares paradisíacos.
- (C) comportar-se como turista.
- (D) preparar-se para o embarque.
- (E) ter informações corretas.

Leia o texto para responder às questões de números 11 a 13.

Vírus e espíões

Um cidadão comum, inocente nas manhas da internet, pode ver-se em tantos perigos na rede quanto Chapeuzinho Vermelho na floresta. O mundo está cheio de parentes eletrônicos do Lobo Mau – gente cruel, que se diverte induzindo a abrir os anexos e *links* que disparam para ter nosso computador invadido por seus vírus e espíões.

E como fazem isso? Enviando uma mensagem do “nosso interesse”. É o banco fulano que precisa “atualizar” nosso acesso ao seu sistema de identificação, ou o banco beltrano que, como se fundiu com o sicrano, precisa “reconfigurar” nosso cadastro. Para isso, diz o texto, basta clicar abaixo e, depois, em “salvar” e “executar”. Quando você acorda e se dá conta de que não é cliente daqueles bancos, é tarde – seus dados bancários já foram.

Outra armadilha é a do “Ministério Público da Justiça” que, no desempenho de suas atribuições etc., com fundamento nos artigos tais, inciso xis da Lei Complementar de 30 de fevereiro de 1993, intima Vossa Senhoria – você, o otário – a comparecer à Procuradoria do Trabalho para participar de audiência relativa ao “procedimento investigatório em epígrafe”. Para saber mais, “clique no link”. Faça isto – e você verá o inciso que o espera.

Mas as campeãs de audiência são as mensagens que começam com “Oiêêê, quanto tempo... Já se esqueceu de tudo? Olha o que eu fiz com as nossas fotos. Não deixe ninguém ver, hein?”, e o convidam a clicar para ver as “fotos”. Você não se lembra de foto nenhuma, mas sabe-se lá? Pois, no que clicou, como diria o presidente Lula, sifu.

O que nos salva e nos impede de abrir essas tentações é o português de quinta com que as mensagens são escritas. Elas são criativas, mas escritas por semianalfabetos, gente ruim de pronomes e vírgula.

(Castro, Ruy. *Crônicas para ler na escola*. Rio de Janeiro: Objetiva, 2010. p.149-150)

11. A pergunta “sabe-se lá?”, empregada pelo narrador no quarto parágrafo, refere-se

- (A) à certeza sobre o conteúdo.
- (B) a uma dúvida do remetente.
- (C) aos argumentos da mensagem.
- (D) à curiosidade do cronista.
- (E) a uma hipótese remota.

12. Ao comentar as mensagens que se dizem do “Ministério Público”, o narrador aponta uma forma de tratamento pessoal característica desse meio:

- (A) você.
- (B) inciso.
- (C) Lei Complementar.
- (D) Vossa Senhoria.
- (E) audiência.

13. De acordo com o texto, o que aproxima o cidadão comum da figura de Chapeuzinho Vermelho na floresta é/são:
- (A) a ignorância sobre a internet.
 - (B) as maldades da floresta.
 - (C) as armadilhas de ambos os mundos.
 - (D) os perigos dos anexos e links.
 - (E) a convivência entre seres virtuais.

Leia o texto para responder às questões de números 14 e 15.

Biografia

Entre o olhar suspeito da tia
E o olhar confiante do cão
O menino inventava a poesia...

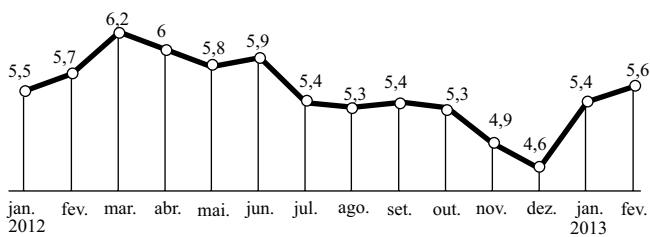
(Mário Quintana, *in: Amores diversos*. Ilustr. Edith Derdyk. São Paulo: Melhoramentos, 2003. Col. Literatura em minha casa. p.20)

14. Em relação ao terceiro verso, os dois primeiros versos do poema apresentam
- (A) a reação do menino em relação à tia e ao cão.
 - (B) a situação em que o menino criava poesia.
 - (C) os pensamentos do menino sobre a poesia.
 - (D) a criatividade do menino e seu fazer poético.
 - (E) a valorização da criatividade e da poesia.
15. Os dois primeiros versos do poema exercem a função de
- (A) complemento verbal.
 - (B) adjunto adverbial.
 - (C) oração coordenada.
 - (D) complemento nominal.
 - (E) predicativo do sujeito.

16. Na câmara municipal de certa cidade, os vereadores estabeleceram que, a cada 4 dias úteis, haveria atendimento aos munícipes e, a cada 5 dias úteis, haveria uma sessão deliberativa. Em um certo mês sem feriados ou pontos facultativos, o atendimento ao público e a reunião deliberativa ocorreram no mesmo dia 2, uma segunda-feira. A próxima coincidência, em que atendimento e reunião ocorrerão no mesmo dia, ou seja, na mesma data, será no dia
- (A) 27.
 - (B) 28.
 - (C) 29.
 - (D) 30.
 - (E) 31.
17. Ao participar de um evento dirigido à população, uma caminhada pelas avenidas de sua cidade, uma garota cronometrou o tempo gasto para percorrer 500 m, que foi de 4,0 min. Desejando estimar quanto tempo gastaria para cobrir a distância total prevista pelos organizadores, 8,5 km, mantendo a mesma frequência e extensão de seus passos, concluiu, corretamente, que demoraria
- (A) 48min.
 - (B) 52min.
 - (C) 58min.
 - (D) 1h 8min.
 - (E) 1h 18min.
18. Nas últimas semanas de maio passado, o preço do dólar norte-americano aumentou sensivelmente do valor médio de R\$ 2,00, mantido por vários meses, para R\$ 2,15. Este valor representa um aumento, em relação ao preço médio, de
- (A) 5,0%.
 - (B) 7,5%.
 - (C) 10,0%.
 - (D) 12,5%.
 - (E) 15,0%.

19. O gráfico mostra a evolução do desemprego em certo país, em termos percentuais, ao longo tempo.

Taxa de desemprego (em %)



Se, de janeiro de 2013 para fevereiro de 2013, entraram 10 mil pessoas para a lista de desempregados, o número total de desempregados na ocasião era de

- (A) 50 mil.
(B) 200 mil.
(C) 500 mil.
(D) 2 milhões.
(E) 5 milhões.
20. O IPTU (imposto predial e territorial urbano), pago anualmente pelos proprietários de imóveis nas cidades às respectivas prefeituras, é calculado proporcionalmente à área do lote de terreno, adicionado ao cálculo proporcional da área construída e adicionado também à taxa fixa, relativa aos serviços de manutenção, limpeza e recolhimento de resíduos. Neste ano, em determinado bairro, o metro quadrado de terreno é taxado a R\$ 1,20, e o metro quadrado da área construída é taxado a R\$ 1,00. A taxa de manutenção é fixada em R\$ 180,00. Assim, o proprietário de uma casa de 120 m² construída num lote de 300 m² está pagando de IPTU
- (A) R\$ 360,00.
(B) R\$ 420,00.
(C) R\$ 480,00.
(D) R\$ 520,00.
(E) R\$ 660,00.
21. Na prefeitura de certo município há 9 funcionários recebendo salários de R\$ 900,00 cada um, 4 funcionários com salário de R\$ 1.400,00 cada, 5 funcionários com salário de R\$ 2.200,00 cada; o vice-prefeito ganha R\$ 3.200,00 por mês, e o prefeito recebe R\$ 4.000,00 mensalmente. A média salarial mensal paga por essa prefeitura é, em reais, mais próxima de
- (A) 1.600.
(B) 1.800.
(C) 2.000.
(D) 2.200.
(E) 2.300.

22. Fábio comprou uma casa financiada pelo sistema de juros simples, a uma taxa de 8,0% ao ano, calculada sobre o saldo devedor. A quantia financiada é de R\$ 200.000,00 e será quitada em 4 prestações anuais de R\$ 50.000,00 acrescidos dos respectivos juros de cada período. Ao final do empréstimo, Fábio terá pago um total, em reais, de

- (A) 204.000.
(B) 212.000.
(C) 216.000.
(D) 240.000.
(E) 264.000.
23. Em determinada casa de espetáculos, paga-se um ingresso de R\$ 30,00 aos quais serão acrescidos R\$ 6,50 cada vez que o espectador solicitar uma bebida ou um petisco. Se, em uma mesa ocupada por 4 pessoas, o gasto total, incluindo os ingressos, foi de R\$ 198,00, a quantidade de bebidas e petiscos consumida foi de
- (A) 8.
(B) 9.
(C) 10.
(D) 11.
(E) 12.
24. O gabinete de cada vereador de certa câmara municipal é retangular, tendo 20,00 m de perímetro. O comprimento de cada gabinete é o triplo da respectiva largura. A medida desse comprimento, em metros, é igual a

- (A) 8,00.
(B) 7,75.
(C) 7,50.
(D) 5,00.
(E) 2,50.

25. Certa câmara municipal remunera seus vereadores de forma diferente da habitual: cada vereador recebe pelo número de horas trabalhadas em cada sessão e por projeto aprovado. Cada hora de sessão é remunerada por R\$ 20,00, e cada projeto aprovado rende R\$ 1.000,00 a seu autor. As sessões são semanais e, em um mês em que houve 4 sessões, o número de vereadores presentes, o número de horas por eles trabalhadas e o de projetos aprovados estão na tabela.

| SESSÃO | VEREADORES PRESENTES | HORAS TRABALHADAS | PROJETOS APROVADOS | TOTAL |
|-----------------|----------------------|-------------------|--------------------|-------|
| 1. ^a | 10 | 3 | 2 | |
| 2. ^a | 12 | 3 | 2 | |
| 3. ^a | 12 | 4 | 3 | |
| 4. ^a | 15 | 3 | 3 | |
| Total | | | | |

Nesse mês, a despesa gerada por essas atividades dos vereadores aos cofres da prefeitura desse município foi, em reais, mais próxima de

- (A) 11.000.
 (B) 12.000.
 (C) 13.000.
 (D) 14.000.
 (E) 15.000.
26. A unidade de velocidade mais usada hoje em dia é o quilômetro por hora (km/h). Mas, no Sistema Internacional de unidades (SI), em que a unidade de comprimento é o metro (1 km = 1000 m) e a unidade de tempo é o segundo (1 h = 3 600 s), a unidade de velocidade é o metro por segundo (m/s). Assim, se um veículo está se deslocando a 72 km/h, sua velocidade, expressa em m/s, será de

- (A) 20.
 (B) 25.
 (C) 30.
 (D) 35.
 (E) 36.

27. A biblioteca municipal de certa cidade possui uma videoteca com fitas de videocassete e dvd's que ficam dispostos na posição vertical em uma estante, de tal modo que os títulos em suas lombadas sejam visíveis, como mostram as figuras. As arestas das caixas que embalam as fitas medem 19 cm por 13,5 cm por 2,5 cm (Figura 1), e as de dvd's medem 19 cm por 10,5 cm por 1,5 cm (Figura 2), todas em forma de paralelepípedo reto retângulo.



FIGURA 1

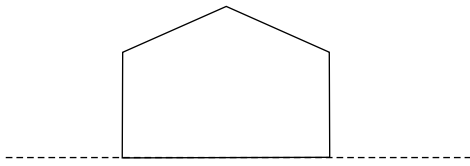


FIGURA 2

Cada compartimento da estante, com profundidade e altura suficientes para abrigar as caixas, mede 1,50 m e abriga ou somente fitas ou somente dvd's. Em cada compartimento cabe uma quantidade máxima de fitas ou dvd's, respectivamente, de

- (A) 50 e 100.
 (B) 60 e 100.
 (C) 60 e 150.
 (D) 90 e 100.
 (E) 90 e 150.

28. A soma dos ângulos internos (S_i) de um polígono convexo é dada pela expressão $S_i = (n-2) \cdot 180^\circ$, onde n é o número de lados do polígono. A figura, fora de escala, ilustra o corte em perfil de uma das paredes de uma sala cujo teto acompanha a declividade do telhado.



Sabe-se que os três ângulos obtusos são congruentes e que as paredes são verticais com o piso horizontal. Cada ângulo obtuso mede, então,


- (A) 110° .
 (B) 112° .
 (C) 115° .
 (D) 120° .
 (E) 124° .
29. Telas de TV, de monitores de computadores, de celulares etc. têm seu tamanho expresso em polegadas, sendo que tal valor representa a medida de sua diagonal. Adota-se $1 \text{ pol} = 2,5 \text{ cm}$.

Se o telão retangular de uma TV exposta numa praça pública tem 6,0 m de largura por 4,0 m de altura, a sua diagonal mede, em polegadas,

- (A) 200.
 (B) 400.
 (C) 500.
 (D) 600.
 (E) 800.

30. A Figura (1) mostra parte do teclado de um piano com a nota **dó** identificada. Sabe-se que a escala musical é composta pelas notas naturais **dó, ré, mi, fá, sol, lá** e **si**, e as notas correspondem às teclas brancas em sequência, da esquerda para a direita.

FIGURA (1)



Na Figura (2), a seta aponta para a nota

FIGURA (2)



- (A) fá.
 (B) sol.
 (C) lá.
 (D) si.
 (E) dó.

ATUALIDADES

31. “Em ato contra Assad, Brasil ficará sem embaixador na Síria”.

A chamada de uma notícia do jornal *Folha de S. Paulo* de 9 de janeiro está relacionada à

- (A) implantação da ditadura nesse país do Oriente Médio.
- (B) política repressiva desse governo às manifestações sociais.
- (C) ruptura comercial da Síria com países do Mercosul.
- (D) aproximação política e militar desse país com a Rússia.
- (E) adoção de um modelo teológico de poder por Assad.

32. Papa Bento XVI renuncia em 28 de fevereiro: “Sinto o peso do cargo”.

O Papa justificou sua atitude como fruto

- (A) da crise econômica vivida pela Igreja Católica.
- (B) do despreparo religioso para o pontificado.
- (C) da idade avançada, que dificultava a realização de certas obrigações.
- (D) da necessidade de tomar decisões políticas para governar Roma.
- (E) dos problemas derivados pelo conflito com outras religiões.

33. “Desemprego em 2012 é o menor já registrado; renda tem alta recorde. Aumento do rendimento familiar é acompanhado de queda do número de jovens que buscam trabalho.”

(*Folha de S. Paulo*, 01.02.2013)

A frase que condiz com a manchete e com a situação do Brasil é:

- (A) No ano passado o país conheceu um grande salto econômico.
- (B) A origem desses dados está na valorização da moeda frente ao dólar.
- (C) Maior nível de emprego está associado à política de estatização.
- (D) O crescimento da renda foi maior na zona rural.
- (E) A indústria foi responsável pela queda do índice de desemprego.

34. Pode-se dizer que nos últimos anos a divisão da sociedade se aprofundou; no entanto, com a morte do presidente, eleito mais uma vez pela grande massa popular, essa cisão se agudizou e os conflitos se ampliaram no país, mesmo após a realização de novas eleições.

As informações referem-se

- (A) aos conflitos que ocorrem no Egito.
- (B) aos movimentos denominados de “primavera árabe”.
- (C) ao processo de sucessão de Hugo Chávez na Venezuela.
- (D) à ascensão de Cristina Kirchner na Argentina, após a morte do marido.
- (E) ao assassinato do líder líbio Muammar Kadafi.

35. “Como empregadas, uma parte está formalizada. Como empregadoras, a maioria contrata informalmente. A nova regra deve abalar esse importante segmento de mercado.” José Pastore, professor da USP e especialista em relações do trabalho e recursos humanos.

(*Folha de S. Paulo*, 01.03.2013)

O texto se refere à Lei que

- (A) permite licença-gestante remunerada a todas as trabalhadoras domésticas, independentemente do tempo de serviço.
- (B) abala o segmento de trabalho informal, seja ele doméstico ou empreendedor, envolvendo desde empregadas até ambulantes.
- (C) garante aos empregados domésticos todos os benefícios que os demais trabalhadores possuem, mesmo sem Carteira de Trabalho.
- (D) amplia os direitos trabalhistas das empregadas domésticas nas cidades com mais de 500 mil habitantes.
- (E) estabelece direitos como hora extra, adicional noturno e jornada máxima de trabalho a empregados domésticos.

36. “Há uma síndrome que costuma acometer as autoridades brasileiras quando se trata de inflação: a dificuldade em perceber que se trata de um esporte coletivo.

A inflação não é fruto de jogadas individuais que encantam ou irritam torcedores e dirigentes, de vilões ou heróis facilmente identificáveis, mas do trabalho de uma equipe muito grande manobrando atabalhoadamente um transatlântico”.

As frases, publicadas no jornal *O Estado de S. Paulo* em 20 de abril, são de Gustavo Franco, ex-presidente do Banco Central e, a partir delas, podemos concluir que

- (A) o aumento da inflação detectado em março foi determinado pela elevação do preço do tomate.
- (B) há uma crítica ao comportamento da área econômica do governo e não apenas à Presidente do país.
- (C) a inflação é determinada pela incompetência dos políticos, mais preocupados com as eleições.
- (D) são as diversas esferas do poder, municipal, estadual e federal, que determinam o índice de inflação.
- (E) o autor responsabiliza a sociedade pelo aumento da inflação, devido à elevação do consumo.

37. Em março deste ano o Congresso Nacional derrubou o veto da Presidente Dilma e, dessa forma, a divisão dos *royalties* deve ser mais equilibrada entre os diversos estados da federação. Tal medida determina grande perda para o Rio de Janeiro e o Espírito Santo e está associada

- (A) ao aumento das forças policiais.
- (B) à redução do IPI sobre carros.
- (C) ao combate ao tráfico de drogas.
- (D) à exploração de petróleo.
- (E) aos investimentos em turismo.

38. Em abril de 2013, o país foi impactado por um novo atentado. Parecia que o pesadelo de mais de dez anos voltaria. O pânico tomou conta das pessoas presentes no evento; nas horas seguintes, contagiou todo o país e durante semanas se manteve como uma sombra constante.

O texto faz alusão

- (A) à explosão de bombas na Maratona de Boston, nos Estados Unidos.
- (B) aos ataques do crime organizado a bases policiais em São Paulo.
- (C) à ação dos grupos paramilitares nos morros do Rio de Janeiro.
- (D) ao atentado à embaixada dos Estados Unidos na África.
- (E) à violência dos grupos de oposição a Evo Morales, na Bolívia.

39. A ex-primeira-ministra do Reino Unido Margaret Thatcher, de 87 anos, morreu em consequência de um derrame cerebral, disse nesta segunda-feira (08/04) um porta-voz da família. “É com grande pesar que Mark e Carol Thatcher anunciam que a mãe deles, baronesa Thatcher, morreu em paz depois de um acidente vascular cerebral nesta manhã”, afirmou o porta-voz, lorde Timothy Bell.

(<http://www.cartacapital.com.br/internacional/morre-ex-premie-britanica-margaret-thatcher>)

A morte de Thatcher foi noticiada com destaque, pois a primeira-ministra

- (A) foi representante máxima do neoliberalismo no Reino Unido e no mundo.
- (B) foi a principal questionadora do imperialismo dos Estados Unidos ao longo de décadas.
- (C) promoveu reformas políticas e sociais, ampliando as conquistas trabalhistas na Inglaterra.
- (D) inspirou, como líder política, diversos governantes a adotarem uma política populista.
- (E) foi a principal crítica às reformas políticas que determinaram a extinção da antiga URSS.

40. Em 2013, os países que compõem a União Europeia veem suas economias manterem o processo decadente. Mais uma vez, houve recuo do PIB (Produto Interno Bruto) e a elevação da taxa de desemprego. A crise, mais acentuada em alguns países, tem provocado intensas manifestações sociais que se dirigem contra governantes e contra a “troika”.

A expressão “troika” se refere aos

- (A) três países mais ricos do continente, Alemanha, Inglaterra e França.
- (B) gigantes da economia mundial, com suas políticas imperialistas sobre a Europa.
- (C) países que formam os BRICs, que tomaram os mercados europeus.
- (D) agentes financeiros internacionais, que fazem imposições para a concessão de recursos.
- (E) organismos internos da ONU, que se recusam a ajudar os países mais endividados.

Observe a janela do MS-Windows 7, em sua configuração original, que contém os itens da pasta São Carlos e responda às questões de números 41 a 43.



41. Assinale a alternativa que contém o nome de pelo menos um item de cada tipo relacionado a seguir:

- I. Página Web
- II. Atalho
- III. Subpasta vazia
- IV. Item do Outlook

- (A) I. Concurso Câmara São Carlos, II. Câmara, III. Câmara Municipal, IV. Analista RH.
- (B) I. Concurso Câmara São Carlos, II. Simulador Questões São Carlos, III. Câmara Municipal, IV. Comunicação Concurso.
- (C) I. Consultor Administrativo, II. Hino Nacional, III. Prefeitura São Carlos, IV. Câmara.
- (D) I. Técnico Administrativo, II. Concurso Câmara São Carlos, III. Prefeitura São Carlos, IV. Municipal.
- (E) I. Analista Administrativo, II. Comunicação Concurso, III. Prefeitura São Carlos, IV. Simulador Questões São Carlos.

42. Considerando apenas o nome dos arquivos e subpastas, assinale a alternativa que contém a quantidade de itens que serão visualizados após se digitar o argumento de pesquisa Camara OR Concurso na caixa

Pesquisar São Carlos

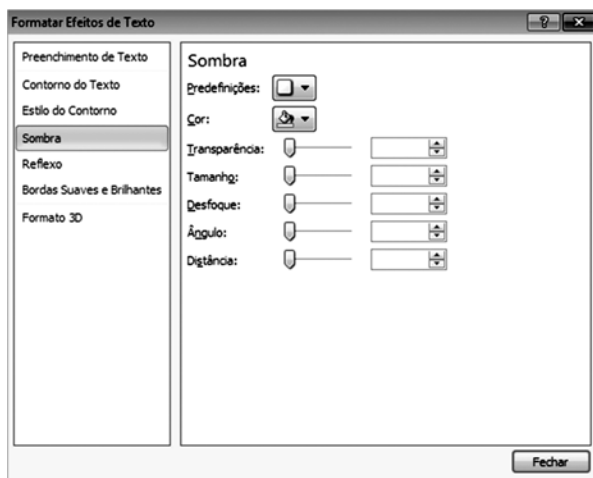
- (A) 2, sem contar subpastas.
- (B) 3, incluindo subpastas.
- (C) 4, incluindo subpastas.
- (D) 12, incluindo itens do Outlook.
- (E) 15, incluindo itens MPEG Layer 3.

43. Quanto ao modo de exibição e ao painel de visualização, podemos afirmar, respectivamente:

Foi aplicado o modo de exibição

- (A) Ícones Médios, e o painel de visualização está inativo.
- (B) Ícones Médios, e o painel de visualização está ativo.
- (C) Ícones Pequenos, e o painel de visualização está ativo.
- (D) Ícones Grandes, e o painel de visualização está inativo.
- (E) Ícones Grandes, e o painel de visualização está ativo.

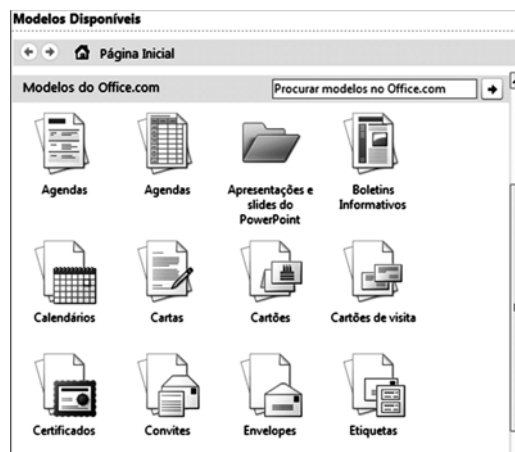
44. Considere a janela de efeitos de texto do MS-Word 2010, na sua configuração padrão.



Esta janela é acessada a partir do seguinte botão da guia de opções Página Inicial:

- (A)
- (B)
- (C)
- (D)
- (E)

45. Observe os modelos do Office.com acessados pelo MS-Word 2010, em sua configuração original, exibidos parcialmente na figura.



Estes modelos são acessados por meio da seguinte opção encontrada na guia Arquivo:

- (A) Salvar.
 - (B) Abrir.
 - (C) Opções.
 - (D) Recente.
 - (E) Novo.
46. É possível aumentar ou diminuir o *zoom* aplicado em uma planilha do MS-Excel 2010, na sua configuração padrão, utilizando a tecla
- (A) Shift e apertando o botão direito do *mouse*.
 - (B) Shift e apertando o botão esquerdo do *mouse*.
 - (C) Alt e deslocando a roda do *mouse*.
 - (D) Ctrl e deslocando a roda do *mouse*.
 - (E) Ctrl e apertando o botão direito ou esquerdo *mouse*.
47. No MS-Excel 2010, em sua configuração original, as planilhas consistem em colunas, linhas e células. Analise as seguintes perguntas:
- I. Qual dos elementos citados tem cabeçalhos em ordem alfabética, começando com A, B, C e assim por diante?
 - II. Depois das primeiras 26 letras do alfabeto, o Excel continua o cabeçalho desse elemento com quais indicadores?
- Assinale a alternativa que responde, correta e respectivamente, as perguntas I e II.
- (A) I. Célula; II. A1 a Z1.
 - (B) I. Coluna; II. AA a AZ.
 - (C) I. Coluna; II. A1 a Z1.
 - (D) I. Linha; II. AA a AZ.
 - (E) I. Linha; II. A1 a Z1.

48. No MS-PowerPoint 2010, em sua configuração original, o modo de exibição que preenche a tela com os *slides* em forma de miniaturas é
- (A) Classificação de slides.
 - (B) Normal.
 - (C) Modo de exibição de leitura.
 - (D) Apresentação de slides.
 - (E) Estrutura de tópicos.

49. Observe a imagem incluída no MS-PowerPoint 2010, na sua configuração padrão, exibida na Figura I.

FIGURA I








Note que a imagem da Figura I sofreu alteração, conforme se verifica na Figura II.

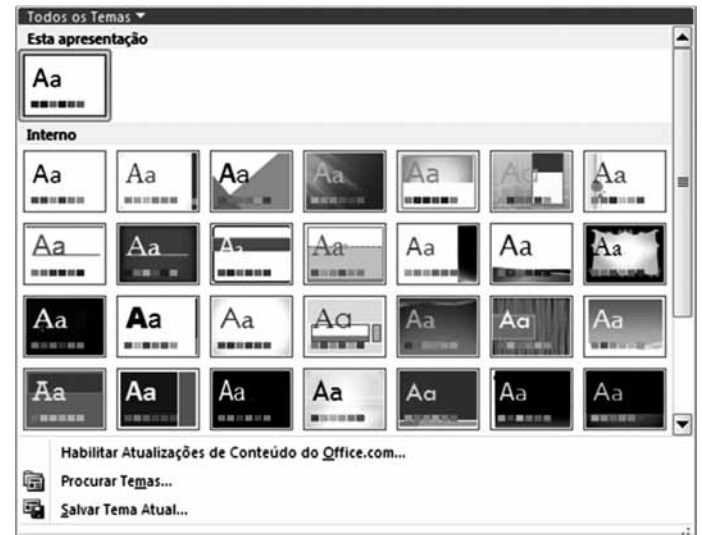
FIGURA II



A guia Formatar aparece automaticamente quando uma imagem é selecionada. Assinale a alternativa que contém a opção, disponível nessa guia, que permite transformar a imagem da Figura I naquela visualizada na Figura II.

- (A)  Efeitos de Imagem ▾
- (B)  Efeitos Artísticos ▾
- (C) 
Cortar ▾
- (D) 
Formas ▾
- (E)  Layout de Imagem ▾

50. Considere a janela de Temas do MS-PowerPoint 2010, na sua configuração padrão.



Esta opção é encontrada na seguinte guia:

- (A) Exibição.
- (B) Animações.
- (C) Página Inicial.
- (D) Inserir.
- (E) Design.

