



CONCURSO PÚBLICO

**002. PROVA OBJETIVA**

## TÉCNICO DE CONTABILIDADE

- ◆ Você recebeu sua folha de respostas e este caderno contendo 50 questões objetivas.
- ◆ Confira seu nome e número de inscrição impressos na capa deste caderno e na folha de respostas.
- ◆ Quando for permitido abrir o caderno, verifique se está completo ou se apresenta imperfeições. Caso haja algum problema, informe ao fiscal da sala.
- ◆ Leia cuidadosamente todas as questões e escolha a resposta que você considera correta.
- ◆ Marque, na folha de respostas, com caneta de tinta azul ou preta, a letra correspondente à alternativa que você escolheu.
- ◆ A duração da prova é de 3 horas, já incluído o tempo para o preenchimento da folha de respostas.
- ◆ Só será permitida a saída definitiva da sala e do prédio após transcorridos 75% do tempo de duração da prova.
- ◆ Ao sair, você entregará ao fiscal a folha de respostas e este caderno, podendo levar apenas o rascunho de gabarito, localizado em sua carteira, para futura conferência.
- ◆ Até que você saia do prédio, todas as proibições e orientações continuam válidas.

AGUARDE A ORDEM DO FISCAL PARA ABRIR ESTE CADERNO DE QUESTÕES.



## LÍNGUA PORTUGUESA

Considere o texto a seguir para responder às questões de números **01 a 04**.

### *A banda mais segura da cidade*

Hora do rush de terça-feira. Pessoas se aglomeram na plataforma de embarque da estação Ana Rosa, linha 1 – azul do metrô. Trens vão e vêm, mas elas continuam ali. Querem ver a Banda dos Seguranças do Metrô tocar.

Em uma hora de show, o conjunto, formado há dez meses e vestindo o uniforme de trabalho, dedica-se à interpretação de Zeca Pagodinho a Queen\*. “Variamos o repertório para agradar todo mundo”, diz Wagner Tadeu da Silva Júnior, 34, que toca cavaquinho e violão. Além dele, outros oito seguranças de diversas estações participam do grupo.

O conjunto surgiu depois que alguns dos integrantes se apresentaram em um asilo como parte de uma ação voluntária. Perceberam a afinidade no palco e resolveram montar a banda, cujos shows ocorrem dentro das estações, fora do horário de trabalho. O Metrô garante o espaço para ensaios e os equipamentos.

A primeira apresentação ocorreu em fevereiro, na Sé. A ideia foi bem recebida e o Metrô decidiu agendar shows mensais, ao final da tarde – horário estratégico para atrair público e desafogar os vagões. O próximo será na Palmeiras-Barra Funda.

Uma semana antes, nove estações recebem o *Souderground*, festival internacional com músicos habituados a tocar no metrô. Entretanto, apesar da receptividade do grupo paulistano, nenhum dos seguranças pensa em largar o serviço para buscar a fama. O vocalista Ivan chegou a ser chamado por um programa, mas preferiu a estabilidade do emprego.

Na hora de subir no palco, eles deixam de lado algemas e coletes à prova de balas. “Esse é um projeto que ajuda a aproximar o usuário do funcionário do metrô”, diz o chefe do departamento de segurança da empresa, Rubens Menezes. “É uma ideia que quebra o paradigma do uniforme preto.”

(Renata Miranda, revista *São Paulo*, 21 a 27.10.2012. Adaptado)

\*Banda de rock britânica

**01.** Pela leitura do texto, é correto afirmar que

- (A) a Banda dos Seguranças do Metrô formou-se quando um dos integrantes foi convidado para participar de um programa de TV.
- (B) os shows ocorrem ao final da tarde, quando se reduz o fluxo de passageiros nas principais estações do metrô.
- (C) os músicos apresentam aos usuários, durante uma hora de espetáculo, predominantemente canções famosas do rock internacional.
- (D) os seguranças, ao assumirem o papel de artistas, estabelecem uma relação de proximidade com o público, favorecendo a imagem do metrô paulistano.
- (E) a banda realiza, durante o expediente, shows mensais em diferentes estações do metrô, pois quer atender ao público de outras regiões da cidade.

**02.** Segundo o chefe do departamento de segurança, a banda *É uma ideia que quebra o paradigma do uniforme preto*. A expressão em destaque significa que a banda

- (A) atenua a imagem de autoridade e repressão associada ao uniforme preto dos seguranças.
- (B) faz propaganda da pontualidade e eficiência do sistema metropolitano.
- (C) organiza shows cujo objetivo é agradar especialmente a um público jovem.
- (D) foi criada com a intenção de motivar pessoas a substituírem outros meios de transporte pelo metrô.
- (E) apresenta-se sem o uniforme, pois os músicos não podem ser confundidos com os seguranças de plantão.

**03.** Analise os trechos do texto e assinale a alternativa em que ocorre a ideia de oposição.

- (A) “Variamos o repertório para agradar todo mundo”, diz Wagner Tadeu da Silva Júnior, 34, que toca cavaquinho e violão.
- (B) Além dele, outros oito seguranças de diversas estações participam do grupo.
- (C) O conjunto surgiu depois que alguns dos integrantes se apresentaram em um asilo como parte de uma ação voluntária.
- (D) A ideia foi bem recebida e o Metrô decidiu agendar shows mensais, ao final da tarde – horário estratégico para atrair público e desafogar os vagões.
- (E) Entretanto, apesar da receptividade do grupo paulistano, nenhum dos seguranças pensa em largar o serviço para buscar a fama.

**04.** Considere o trecho a seguir.

O metrô paulistano, \_\_\_\_\_ quem a banda recebe apoio, garante o espaço para ensaios e os equipamentos; e a estabilidade no emprego, vantagem \_\_\_\_\_ que muitos trabalhadores sonham, é o que leva os integrantes do grupo a permanecerem na instituição.

As preposições que preenchem o trecho, correta, respectivamente e de acordo com a norma-padrão, são:

- (A) a ... com
- (B) de ... com
- (C) de ... a
- (D) com ... a
- (E) para ... de

05. Suponha-se que o cartaz a seguir seja utilizado para informar os usuários sobre o festival *Sounderground*.

Prezado Usuário

\_\_\_\_\_ de oferecer lazer e cultura aos passageiros do metrô, \_\_\_\_\_ desta segunda-feira (25/02), \_\_\_\_\_ 17h30, começa o *Sounderground*, festival internacional que prestigia os músicos que tocam em estações do metrô.

Confira o dia e a estação em que os artistas se apresentarão e divirta-se!

Para que o texto atenda à norma-padrão, devem-se preencher as lacunas, correta e respectivamente, com as expressões

- (A) A fim ... a partir ... as
- (B) A fim ... à partir ... às
- (C) A fim ... a partir ... às
- (D) Afim ... a partir ... às
- (E) Afim ... à partir ... as

Considere a tirinha para responder às questões de números 06 e 07.



(Adão, *Folha de S. Paulo*, 19.06.2011)

06. Observando a tirinha, pode-se afirmar que o termo **atropelada** foi empregado em sentido
- (A) próprio, indicando que o marido não é uma pessoa sensível e compreensiva com a esposa.
  - (B) próprio, indicando que a esposa é vaidosa e sente-se frustrada com a perda da beleza.
  - (C) figurado, indicando que as crianças são tranquilas mas exigem total disponibilidade da mãe.
  - (D) figurado, indicando que o marido recusa-se a realizar as tarefas domésticas.
  - (E) figurado, indicando que as responsabilidades familiares comprometeram a juventude da esposa.
07. De acordo com a norma-padrão, no segundo quadrinho, em lugar de – Há anos eu não tinha nenhuma ruga... – a esposa poderia ter dito:
- (A) Passou quatro anos de casamento e agora já tenho rugas.
  - (B) Lá se vai quatro anos de casamento e agora já tenho rugas.
  - (C) Faz quatro anos que nos casamos e agora já tenho rugas.
  - (D) Foi-se quatro anos de casamento e agora já tenho rugas.
  - (E) Têm quatro anos que nos casamos e agora já tenho rugas.
08. Assinale a alternativa em que o verbo foi empregado corretamente.
- (A) Se a proprietária **manter** o valor do aluguel, poderemos permanecer no apartamento.
  - (B) Se os operários **fazerem** o acordo, a greve terminará.
  - (C) Se a empresa **propuser** um estágio no exterior, ele não recusará.
  - (D) Se estas caixas **caberem** no armário, a sala ficará organizada.
  - (E) Se o microempresário **querer**, poderá fazer futuros investimentos.

09. Considere a tirinha em que se vê Honi conversando com seu namorado Lute.



(Dik Browne, *Folha de S. Paulo*, 26.01.2013)

É correto afirmar que a expressão **contanto que** estabelece entre as ideias relação de

- (A) causa, pois Honi quer ter filhos e não deseja trabalhar depois de casada.
- (B) comparação, pois o namorado espera ter sucesso como cantor romântico.
- (C) tempo, pois ambos ainda são adolescentes, mas já pensam em casamento.
- (D) condição, pois Lute sabe que exercendo a profissão de músico provavelmente ganhará pouco.
- (E) finalidade, pois Honi espera que seu futuro marido torne-se um artista famoso.
10. Assinale a frase correta quanto à concordância verbal e nominal.
- (A) Com os shows da banda, os músicos propõem um momento de descontração para os passageiros.
- (B) Por causa da paralisação, as férias dos alunos terminou mais cedo.
- (C) Na cidade, já se esgotou as vagas nos hotéis para o período de Carnaval.
- (D) Ela próprio passou o uniforme de trabalho.
- (E) Seguem anexadas ao email o cronograma do curso e o currículo dos inscritos.

## MATEMÁTICA

11. Para envernizar madeiras, um pintor dilui o verniz colocando 150 mL de solvente para cada 900 mL de verniz. Se para realizar determinado serviço foram gastos 35 litros de verniz diluído (verniz + solvente), então a quantidade de solvente utilizada, em litros, foi
- (A) 3.
- (B) 4.
- (C) 5.
- (D) 6.
- (E) 7.
12. Do total de empregados contratados por uma firma, 20% foram demitidos no 1.º mês de serviço e 5% dos demais contratados foram demitidos no 2.º mês de serviço. Em relação ao número total de empregados contratados, o número de demitidos nos dois primeiros meses representa uma porcentagem de
- (A) 42%.
- (B) 36%.
- (C) 32%.
- (D) 28%.
- (E) 24%.
13. Cláudia comprou cinco latas de refrigerante A por R\$ 1,40 cada uma, três latas de refrigerante B a R\$ 1,50 cada uma e sete latas de refrigerante C. Considerando-se o total de latas compradas, na média, o preço de uma lata foi de R\$ 1,28. O preço de uma lata do refrigerante C era
- (A) R\$ 1,25.
- (B) R\$ 1,20.
- (C) R\$ 1,15.
- (D) R\$ 1,10.
- (E) R\$ 1,05.

14. Caio aplicou R\$ 700,00 a juros simples por 5 meses e, ao término desse período, recebeu de juros o valor de R\$ 26,25. A taxa mensal dessa aplicação era

- (A) 0,75%.
- (B) 0,70%.
- (C) 0,65%.
- (D) 0,60%.
- (E) 0,55%.

15. O funcionário encarregado pelas compras de um escritório recebeu certa quantia de dinheiro para comprar várias calculadoras todas de mesmo modelo e preço. Porém, ao efetuar a compra, percebeu que se comprasse 30 calculadoras ficariam faltando R\$ 30,00, mas se comprasse 28 calculadoras sobriam R\$ 18,00. O valor disponibilizado para o funcionário comprar as calculadoras era

- (A) R\$ 725,00.
- (B) R\$ 715,00.
- (C) R\$ 690,00.
- (D) R\$ 675,00.
- (E) R\$ 660,00.

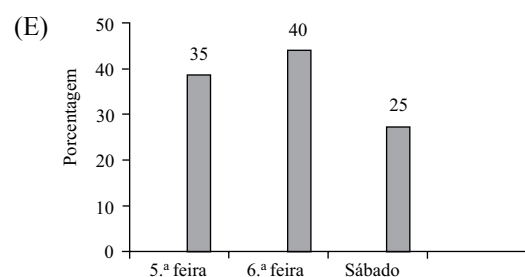
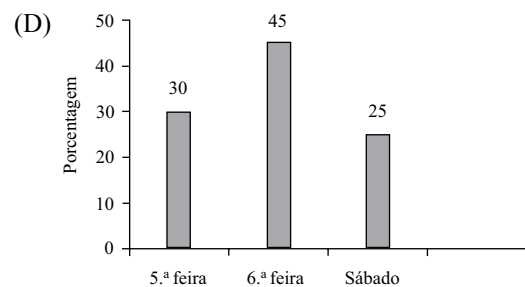
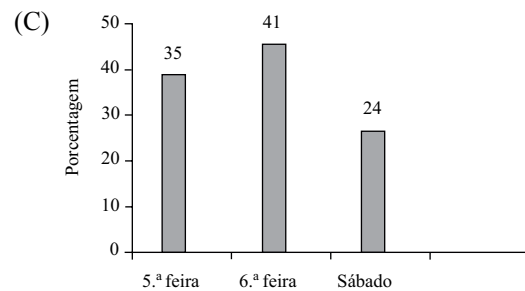
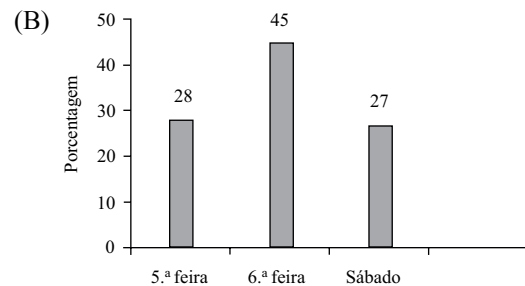
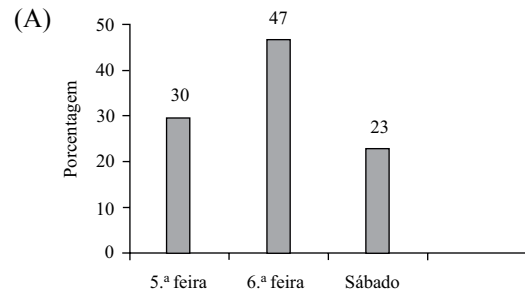
16. Uma pessoa entrou em uma loja de artigos de iluminação e escolheu uma luminária, um ventilador de teto e um lustre. O preço das três peças juntas era R\$ 1.000,00, mas o ventilador de teto custava R\$ 150,00 mais caro do que o preço da luminária e R\$ 100,00 mais barato do que o preço do lustre. Se essa pessoa decidir comparar apenas a luminária e o ventilador de teto, então o valor a ser pago será de

- (A) R\$ 350,00.
- (B) R\$ 400,00.
- (C) R\$ 450,00.
- (D) R\$ 500,00.
- (E) R\$ 550,00.

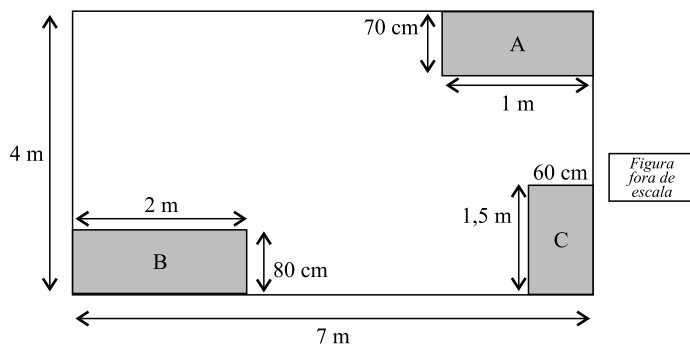
17. Uma loja fez o levantamento do número total de fantasias vendidas em três dias anteriores ao carnaval. O resultado foi registrado na tabela.

	Número de fantasias vendidas
5. <sup>a</sup> feira	360
6. <sup>a</sup> feira	540
Sábado	300

Considerando-se o total de fantasias vendidas nos três dias registrados na tabela, pode-se apresentar essas informações, em porcentagem, por meio do seguinte gráfico:

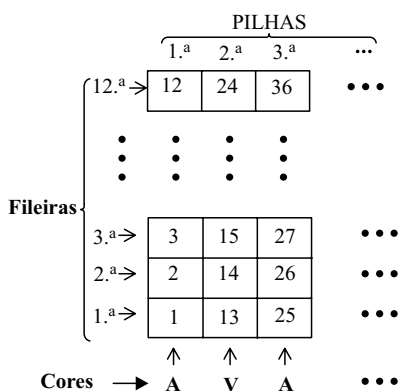


18. Em uma sala retangular de 4m de largura por 7 m de comprimento, foram colocados três armários com bases retangulares (A, B e C), conforme mostra a figura.



A área livre dessa sala, em  $m^2$ , após a colocação dos armários, passou a ser de

- (A) 25,0.  
 (B) 24,8.  
 (C) 24,2.  
 (D) 23,7.  
 (E) 23,3.
19. Para organizar o estoque, uma loja utiliza caixas azuis (A) e vermelhas(V), de modo que as pilhas de caixas têm sempre a mesma quantidade de caixas e a ordem das cores alternadas, isto é, a primeira pilha só tem caixas azuis, a segunda pilha só tem caixas vermelhas, a terceira pilha só tem caixas azuis novamente e, assim, sucessivamente, mantendo sempre essa mesma ordem de cores. Cada uma das caixas tem também uma etiqueta numerada obedecendo a seguinte ordem, conforme mostra a figura.



Mantendo-se sempre essa mesma ordem apresentada na figura, pode-se concluir que a fileira e a cor da caixa que possui a etiqueta de número 123 são, respectivamente,

- (A) 4.<sup>a</sup> e azul.  
 (B) 3.<sup>a</sup> e azul.  
 (C) 3.<sup>a</sup> e vermelha.  
 (D) 2.<sup>a</sup> e azul.  
 (E) 2.<sup>a</sup> e vermelha.

20. O jornal *Folha de S.Paulo*, em janeiro de 2013, publicou a seguinte informação sobre a comercialização de cerveja.



(Sicobe e Nielsen)

De acordo com o gráfico apresentado, a produção de cerveja em 2012 apresentou um aumento em relação à produção de 2011 de, aproximadamente,

- (A) 3%.  
 (B) 4%.  
 (C) 5%.  
 (D) 6%.  
 (E) 7%.

## LEGISLAÇÃO

21. A República Federativa do Brasil, formada pela união indissolúvel dos Estados e Municípios e do Distrito Federal, constitui-se em Estado Democrático de Direito e tem como um de seus fundamentos
- (A) o monismo político.  
 (B) a cidadania.  
 (C) a propriedade.  
 (D) os valores éticos das empresas.  
 (E) a autonomia da iniciativa privada.

22. Sobre os direitos e deveres individuais e coletivos, assinale a alternativa correta.
- (A) É livre a manifestação do pensamento, sendo facultado o anonimato, nos casos definidos em lei.
  - (B) A expressão da atividade intelectual, artística, científica e de comunicação depende de prévia licença da autoridade competente.
  - (C) É livre a manifestação do pensamento, desde que citada a fonte e referenciada a obra.
  - (D) A expressão da atividade intelectual, artística, científica e de comunicação depende de prévia censura do órgão competente.
  - (E) É livre a manifestação do pensamento, sendo vedado o anonimato.
23. O prazo de validade do concurso público será
- (A) de até um ano, prorrogável uma vez, por igual período.
  - (B) indeterminado, se não houver dispositivo legal em contrário.
  - (C) de até dois anos, prorrogável uma vez, por igual período.
  - (D) determinado por lei específica daquele certame.
  - (E) de até três anos, improrrogável.
24. Dispõe a Constituição da República, a respeito da Educação, que
- (A) o ensino público em estabelecimentos oficiais será sempre gratuito.
  - (B) os profissionais da educação escolar ingressarão nas redes públicas preferencialmente por meio de concurso público, de provas e títulos.
  - (C) o acesso e a permanência na escola serão avaliados pela autoridade competente, mediante critérios de conveniência e oportunidade.
  - (D) a gestão do ensino privado, à semelhança do ensino público, deverá ser democrática, na forma da lei.
  - (E) lei federal não estabelecerá piso salarial nacional para os profissionais da educação escolar pública.

25. De acordo com o Regimento Geral da UNESP, a competência para aplicação das penas disciplinares impostas ao corpo técnico e administrativo será
- (A) do Professor Assistente, nos casos de advertência verbal.
  - (B) do Professor Titular, nos casos de repreensão.
  - (C) do Diretor de Departamento e de Divisão, nos casos de suspensão.
  - (D) do Reitor, em caso de demissão.
  - (E) do Secretário de Estado da Educação, em caso de expulsão.

### NOÇÕES DE INFORMÁTICA

26. No MS-Windows 7, em sua configuração padrão, a partir da área de trabalho, é possível alterar a resolução do vídeo. Para isso, pode-se clicar num espaço livre na área de trabalho, com o botão direito do mouse e escolher a opção \_\_\_\_\_.
- Assinale a alternativa que completa corretamente a lacuna do texto.
- (A) Configurar vídeo
  - (B) Resolução de Tela
  - (C) Configurar resolução
  - (D) Alterar resolução
  - (E) Alterar configuração de vídeo
27. Um usuário do MS-Word 2010, em sua configuração padrão, deseja adicionar um cabeçalho a um documento que está sendo editado.
- Assinale a alternativa que contém o nome correto da guia onde se localiza o grupo *Cabeçalho e Rodapé*, que possui o item *cabeçalho*.
- (A) Página Inicial.
  - (B) Exibição.
  - (C) Referências.
  - (D) Inserir.
  - (E) Layout da Página.



## CONHECIMENTOS ESPECÍFICOS

28. Observe a planilha a seguir, editada no MS-Excel 2010, em sua configuração padrão.

	A	B	C	D
1	A	6	2	
2	3	B	6	
3	4	7	C	
4				

Assinale a alternativa que indica o valor correto exibido na célula A4, ao ser preenchida com a fórmula: =MÁXIMO(A1;A2;B2;C1;C3)

- (A) C  
(B) 2  
(C) 3  
(D) 4  
(E) 6
29. Um usuário deseja criar um álbum de fotografias com uma apresentação do MS-PowerPoint 2010, em sua configuração padrão.
- Observe o ícone a seguir, utilizado para criar álbum de fotografia.



Álbum de Fotografias ▼

Assinale a alternativa correta em relação às imagens adicionadas ao álbum de fotografia criado por meio do ícone mostrado.

- (A) As imagens serão adicionadas no primeiro slide.  
(B) O usuário escolherá quantas imagens serão adicionadas em cada slide.  
(C) As imagens serão adicionadas lado a lado em cada slide.  
(D) Cada slide receberá até duas imagens, de acordo com o tamanho de cada imagem.  
(E) Cada imagem será colocada em um slide individual.
30. Assinale a alternativa que indica, corretamente, a tecla de atalho utilizada no Internet Explorer 9, em sua configuração padrão, utilizado para selecionar todo o conteúdo exibido em uma página.
- (A) CTRL + A  
(B) CTRL + F  
(C) CTRL + J  
(D) ALT + CTRL + A  
(E) ALT + F

31. O Princípio que reconhece o Patrimônio como objeto da Contabilidade e afirma a autonomia patrimonial, a necessidade da diferenciação de um Patrimônio particular no universo dos patrimônios existentes, independentemente de pertencer a uma pessoa, um conjunto de pessoas, uma sociedade ou instituição de qualquer natureza ou finalidade, com ou sem fins lucrativos, é o

- (A) da entidade.  
(B) do custo histórico.  
(C) da essência sobre a forma.  
(D) do lucro.  
(E) do patrimônio líquido.

32. Refere-se ao processo de mensuração e apresentação dos componentes patrimoniais para produzir informações íntegras e tempestivas. A falta de integridade e tempestividade na produção e na divulgação da informação contábil pode ocasionar a perda de sua relevância, por isso é necessário ponderar a relação entre a oportunidade e a confiabilidade da informação.

O texto refere-se

- (A) um princípio contábil.  
(B) à escrituração contábil.  
(C) à necessidade de a contabilidade escriturar o livro diário.  
(D) à prestação de contas.  
(E) às demonstrações financeiras.

33. Determine os valores finais de estoques de uma empresa varejista, que possui o controle de estoques avaliados por meio do custo médio, considerando as seguintes informações:

- I. Em 30/11/12, o seu estoque final de produtos para revenda era de 3 000 unidades com um custo unitário de R\$ 14,00.  
II. Todas as operações que envolvam compras e vendas de mercadorias estão livres de impostos.  
III. Durante o mês de dezembro de 2012, ocorreram as seguintes operações com mercadorias:
- Em 10.12.12, compra à vista de 1 400 unidades com o custo unitário de R\$ 15,00.
  - Em 15.12.12, compra a prazo de 1 000 unidades com o custo unitário de R\$ 17,00.
  - Em 21.12.12, venda à vista de 2 400 unidades.

De acordo com essas informações, o saldo final de estoques em 31.12.12 era:

- (A) 3 000 unidades, custo unitário de R\$ 14,45 e saldo final de R\$ 44.795.  
(B) 3 000 unidades, custo unitário de R\$ 14,81 e saldo final de R\$ 44.444.  
(C) 3 000 unidades, custo unitário de R\$ 15,00 e saldo final de R\$ 46.500.  
(D) 3 000 unidades, custo unitário de R\$ 16,00 e saldo final de R\$ 49.600.  
(E) 3 000 unidades, custo unitário de R\$ 17,00 e saldo final de R\$ 52.700.

34. Conforme determinam as Normas Brasileiras de Contabilidade, para fins de mensuração dos estoques, a regra será:
- (A) valor do custo padrão ou mercado.
  - (B) valor médio ou valor de custo histórico, dos dois o maior.
  - (C) valor de custo ou de realização, dos dois o maior.
  - (D) custo ou fabricação dos dois o maior.
  - (E) valor de custo ou realizável líquido, dos dois o menor.

35. Demonstre o saldo da rubrica contábil “Caixa” de uma empresa no período encerrado em 31 de dezembro de 2012, considerando os seguintes valores apresentados nas contas do balancete de verificação, naquela data. Note que a rubrica não foi apresentada, portanto, deverá ser calculada considerando os saldos devedores e credores apresentados.

	R\$
Capital	25.000,00
Contas a receber	50.000,00
Salários a pagar	23.000,00
Provisão para garantias	7.000,00
Estoques	25.000,00
Duplicatas descontadas	7.000,00
Provisão para desvalorização dos estoques	5.000,00
Financiamentos	15.000,00
Lucros a realizar	5.000,00
Depósitos judiciais	7.000,00
Imobilizado	15.000,00

- (A) R\$ 6.000,00
- (B) R\$ 10.000,00
- (C) R\$ 12.000,00
- (D) R\$ 24.000,00
- (E) R\$ 34.000,00

36. Uma empresa de transporte decidiu pela venda de um veículo à vista, a qual foi realizada pelo valor de custo histórico, livre da depreciação, não obtendo lucro ou prejuízo na transação. À luz das atuais Normas Brasileiras de Contabilidade, o registro dessa transação na contabilidade considerou os seguintes lançamentos:

- (A) débito de despesas não operacionais e crédito de veículos; débito de despesas não operacionais e crédito de disponibilidades.
- (B) débito de veículos e crédito de caixa e crédito de receitas não operacionais.
- (C) crédito de veículos e débito de contas a receber e crédito e vendas.
- (D) débito de veículos e crédito de receitas não operacionais; débito de caixa e crédito de receitas de vendas.
- (E) débito de disponível e crédito de outras receitas operacionais; débito de outras despesas operacionais e crédito de veículos.

37. De acordo com o Artigo 10 da Constituição do Estado de São Paulo (Redação dada pela Emenda Constitucional n.º 36, de 17 de maio de 2012), a Assembleia Legislativa funcionará em sessões públicas, presente, nas sessões deliberativas, pelo menos

- (A) metade de seus membros e, nas sessões exclusivamente de debates, pelo menos um oitavo de seus membros.
- (B) um terço de seus membros e, nas sessões exclusivamente de debates, pelo menos um oitavo de seus membros.
- (C) um quarto de seus membros e, nas sessões exclusivamente de debates, pelo menos um oitavo de seus membros.
- (D) um quinto de seus membros e, nas sessões exclusivamente de debates, pelo menos um oitavo de seus membros.
- (E) um sexto de seus membros e, nas sessões exclusivamente de debates, pelo menos um oitavo de seus membros.

38. No que tange à Execução Orçamentária, bem como ao Cumprimento de Metas, o Poder Executivo estabelecerá a programação financeira e o cronograma de execução mensal de desembolso em até

- (A) dez dias após a publicação dos orçamentos, nos termos em que dispuser a lei de diretrizes orçamentárias e observado o disposto na alínea c do inciso I do art. 4.º.
- (B) vinte dias após a publicação dos orçamentos, nos termos em que dispuser a lei de diretrizes orçamentárias e observado o disposto na alínea c do inciso I do art. 4.º.
- (C) trinta dias após a publicação dos orçamentos, nos termos em que dispuser a lei de diretrizes orçamentárias e observado o disposto na alínea c do inciso I do art. 4.º.
- (D) quarenta dias após a publicação dos orçamentos, nos termos em que dispuser a lei de diretrizes orçamentárias e observado o disposto na alínea c do inciso I do art. 4.º.
- (E) cinquenta dias após a publicação dos orçamentos, nos termos em que dispuser a lei de diretrizes orçamentárias e observado o disposto na alínea c do inciso I do art. 4.º.

39. De acordo com o Decreto-Lei n.º 101/2000, art. 9.º, se verificado, \_\_\_\_\_, que a realização da receita poderá não comportar o cumprimento das metas de resultado primário ou nominal estabelecidas no Anexo de Metas Fiscais, os Poderes e o Ministério Público promoverão, por ato próprio e nos montantes necessários, \_\_\_\_\_, limitação de empenho e movimentação financeira, segundo os critérios fixados pela lei de diretrizes orçamentárias.

Assinale a alternativa que completa, correta e respectivamente, as lacunas do texto.

- (A) ao final de um bimestre ... nos sessenta dias subsequentes
- (B) ao final de um trimestre ... nos sessenta dias subsequentes
- (C) ao final de um semestre ... nos sessenta dias subsequentes
- (D) ao final de um bimestre ... nos trinta dias subsequentes
- (E) ao final de um decênio ... nos trinta dias subsequentes

40. Tributo é a receita derivada instituída pelas entidades de direito público, compreendendo os impostos, as taxas e contribuições nos termos da constituição e das leis vigentes em matéria financeira, destinando-se o seu produto ao custeio de atividades gerais ou específicas exercidas por essas entidades.
- A receita, tratada pelo art. 11 da Lei n.º 4.320/64, classificar-se-á nas seguintes categorias econômicas:
- (A) Receitas Tributárias e Receitas de Investimentos.
  - (B) Receitas Atuais e Receitas de Inversões.
  - (C) Lucros Correntes e Lucros de Capital.
  - (D) Ganhos Correntes e Ganhos de Investimentos.
  - (E) Receitas Correntes e Receitas de Capital.
41. As dotações destinadas a: I – aquisição de imóveis, ou de bens de capital já em utilização; II – aquisição de títulos representativos do capital de empresas ou entidades de qualquer espécie, já constituídas, quando a operação não importe aumento do capital; e III – constituição ou aumento do capital de entidades ou empresas que visem a objetivos comerciais ou financeiros, inclusive operações bancárias ou de seguros, classificam-se como
- (A) Inversões Financeiras.
  - (B) Bens do Ativo.
  - (C) Investimentos Financeiros.
  - (D) Inversões Correntes.
  - (E) Bens Financeiros.
42. De acordo com a Lei n.º 4.320/64, o exercício financeiro coincidirá com o ano civil e pertencem ao exercício financeiro as receitas nele arrecadadas, bem como as despesas nele legalmente empenhadas. Nesse contexto, consideram-se Restos a Pagar
- (A) as despesas e receitas empenhadas, mas pagas até o último dia do mês empenhado, distinguindo-se as processadas das não processadas.
  - (B) as despesas não empenhadas, mas não pagas até o dia 31 de dezembro, distinguindo-se as processadas das não processadas.
  - (C) as despesas empenhadas, mas não pagas até o dia 31 de dezembro, distinguindo-se as processadas das não processadas.
  - (D) as despesas incorridas, mas não pagas até o último dia do exercício corrente, distinguindo-se as processadas das não processadas.
  - (E) as despesas a incorrer e não empenhadas, mas não pagas até o dia 31 de dezembro, distinguindo-se as processadas das não processadas.
43. O art. 1.º da Lei n.º 8.666/93 estabelece normas gerais sobre licitações e contratos administrativos pertinentes a obras, serviços, inclusive de publicidade, compras, alienações e locações no âmbito dos Poderes da União, dos Estados, do Distrito Federal e dos Municípios. Subordinam-se ao regime desta Lei, além dos órgãos da administração direta,
- (A) os fundos, as autarquias mistas, as fundações privadas, as empresas públicas, as sociedades de economia mista e demais entidades controladas diretamente pela União, Estados, Distrito Federal e Municípios.
  - (B) os fundos especiais, as autarquias, as fundações privadas, as empresas públicas, privadas, as sociedades de economia mista e demais entidades controladas direta ou indiretamente pela União, Estados, Distrito Federal e Municípios.
  - (C) os fundos especiais, as autarquias, as fundações privadas, as empresas públicas privadas, as sociedades de economia mista e demais entidades controladas direta ou indiretamente pela União, Estados, e Municípios, bem como, em alguns casos, por empresas privadas.
  - (D) os fundos especiais, as autarquias, as fundações públicas, as empresas públicas, as sociedades de economia mista e demais entidades controladas direta ou indiretamente pela União, Estados, Distrito Federal e Municípios.
  - (E) os fundos, as autarquias mistas, as fundações privadas, as empresas públicas, as sociedades de economia mista e demais entidades controladas diretamente pela União, Estados, Distrito Federal e Municípios e, em casos específicos e homologados, por empresas privadas.
44. As licitações, no que tange à execução de obras e à prestação de serviços, obedecerão ao disposto no artigo 7.º da Lei n.º 8.666/93, e em particular, à seguinte sequência:
- I. projeto básico
  - II. projeto de engenharia
  - III. projeto executivo
  - IV. projeto de meio ambiente
  - V. execução das obras e serviços
  - VI. conclusão
- Estão corretos apenas os itens
- (A) I, III e IV.
  - (B) I, IV e V.
  - (C) II, IV e VI.
  - (D) II, V e VI.
  - (E) III, V e VI.

45. A modalidade de licitação entre quaisquer interessados para escolha de trabalho técnico, científico ou artístico, mediante a instituição de prêmios ou remuneração aos vencedores, conforme critérios constantes em edital publicado na imprensa oficial com antecedência mínima de 45 (quarenta e cinco) dias, é
- (A) a concorrência.
  - (B) o concurso.
  - (C) a tomada de preços.
  - (D) o convite.
  - (E) o leilão.
46. A lei que institui, no âmbito da União, Estados, Distrito Federal e Municípios, nos termos do art. 37, inciso XXI, da Constituição Federal, modalidade de licitação denominada pregão, para aquisição de bens e serviços comuns, e dá outras providências, é a
- (A) 4.320/64.
  - (B) 9.394/93.
  - (C) 10.520/02.
  - (D) 11.638/07.
  - (E) 11.941/09.
47. De acordo com o art. 3.º da Lei n.º 6.544/89, a licitação destina-se a selecionar a proposta mais vantajosa para a Administração e será processada e julgada em estrita conformidade com os princípios básicos
- (A) da igualdade, da adversidade, da probidade administrativa, da vinculação ao instrumento convocatório, do julgamento objetivo, do interesse público e dos que lhe são correlatos.
  - (B) da igualdade, da publicidade, da improbidade administrativa, da vinculação ao instrumento convocatório, do julgamento objetivo, do interesse público e dos que lhe são correlatos.
  - (C) da igualdade, da adversidade, da probidade administrativa, da vinculação ao instrumento convocatório, do julgamento objetivo, do interesse público e dos que lhe são correlatos.
  - (D) da igualdade, do *marketing*, da probidade administrativa, da vinculação ao instrumento convocatório, do julgamento objetivo, do interesse público e dos que lhe são correlatos.
  - (E) da igualdade, da publicidade, da probidade administrativa, da vinculação ao instrumento convocatório, do julgamento objetivo, do interesse público e dos que lhe são correlatos.
48. A empresa que mantiver empregado não registrado, nos termos do art. 41 e seu parágrafo único da CLT, incorrerá na multa de valor igual a:
- (A) 1 (um) salário-mínimo regional, por empregado não registrado, acrescido de igual valor em cada reincidência.
  - (B) 5 (cinco) salários-mínimos regionais, por empregado não registrado, acrescido de igual valor em cada reincidência.
  - (C) 10 (dez) salários-mínimos regionais, por empregado não registrado, acrescido de igual valor em cada reincidência.
  - (D) 15 (quinze) salários-mínimos regionais, por empregado não registrado, acrescido de igual valor em cada reincidência.
  - (E) 20 (vinte) salários-mínimos regionais, por empregado não registrado, acrescido de igual valor em cada reincidência.
49. A tabela de contribuição mensal vigente a partir de 1.º de janeiro de 2013 para retenção da contribuição previdenciária sobre salários, de que trata a Portaria Interministerial MPS/MF n.º 15, de 10 de janeiro de 2013, cita os seguintes percentuais aplicáveis aos limites estabelecidos periodicamente:
- (A) até R\$1.247,70 – 6%; de R\$1.247,71 até R\$2.079,50 – 7%; e de R\$2.079,51 até R\$4.159,00 – 8%
  - (B) até R\$1.247,70 – 8%; de R\$1.247,71 até R\$2.079,50 – 9%; e de R\$2.079,51 até R\$4.159,00 – 10%
  - (C) até R\$1.247,70 – 7%; de R\$1.247,71 até R\$2.079,50 – 8%; e de R\$2.079,51 até R\$4.159,00 – 10%
  - (D) até R\$1.247,70 – 8%; de R\$1.247,71 até R\$2.079,50 – 9%; e de R\$2.079,51 até R\$4.159,00 – 11%
  - (E) até R\$1.247,70 – 8%; de R\$1.247,71 até R\$2.079,50 – 10%; e de R\$2.079,51 até R\$4.159,00 – 11%
50. O valor da dedução por dependente, para fins de retenção do imposto de renda pessoa física, de que trata a Lei n.º 9.250/95, alterada pela Lei n.º 12.469/11, vigente para o ano calendário de 2013, é de:
- (A) R\$ 150,69 (cento e cinquenta reais e sessenta e nove centavos).
  - (B) R\$ 157,47 (cento e cinquenta e sete reais e quarenta e sete centavos).
  - (C) R\$ 164,56 (cento e sessenta e quatro reais e cinquenta e seis centavos).
  - (D) R\$ 171,97 (cento e setenta e um reais e noventa e sete centavos).
  - (E) R\$ 179,71 (cento e setenta e nove reais e setenta e um centavos).