



## CÂMARA MUNICIPAL DE SÃO CARLOS

CONCURSO PÚBLICO

### 008. PROVA OBJETIVA

#### ASSESSOR TÉCNICO LEGISLATIVO

- ◆ Você recebeu sua folha de respostas e este caderno contendo 60 questões objetivas.
- ◆ Confira seu nome e número de inscrição impressos na capa deste caderno e na folha de respostas.
- ◆ Quando for permitido abrir o caderno, verifique se está completo ou se apresenta imperfeições. Caso haja algum problema, informe ao fiscal da sala.
- ◆ Leia cuidadosamente todas as questões e escolha a resposta que você considera correta.
- ◆ Marque, na folha de respostas, com caneta de tinta azul ou preta, a letra correspondente à alternativa que você escolheu.
- ◆ A duração da prova é de 3 horas e 30 minutos, já incluído o tempo para o preenchimento da folha de respostas.
- ◆ Só será permitida a saída definitiva da sala e do prédio após transcorridos 75% do tempo de duração da prova.
- ◆ Ao sair, você entregará ao fiscal a folha de respostas e este caderno, podendo levar apenas o rascunho de gabarito, localizado em sua carteira, para futura conferência.
- ◆ Até que você saia do prédio, todas as proibições e orientações continuam válidas.

AGUARDE A ORDEM DO FISCAL PARA ABRIR ESTE CADERNO DE QUESTÕES.



## CONHECIMENTOS GERAIS

### LÍNGUA PORTUGUESA

Leia o texto para responder às questões de números **01** a **03**.

#### *Mídia influencia satisfação corporal*

Um estudo com 159 estudantes universitários aponta que o padrão de beleza veiculado pela mídia pode causar insatisfação com o próprio corpo entre os jovens brasileiros. A pesquisa foi realizada no Departamento de Psicologia da USP de Ribeirão Preto, pela nutricionista Maria Fernanda Laus.

A nutricionista explica que estudos do mesmo tipo realizados em outros países já haviam relacionado “distúrbios da imagem corporal, mais precisamente a insatisfação, com exposição de imagens idealizadas pela mídia”. Assim, ela verificou essa relação em uma pequena amostra da população brasileira. De acordo com a pesquisadora, a literatura especializada sugere que a “insatisfação com o próprio corpo é resultado de uma discrepância entre a aparência autopercebida e a silhueta considerada ideal pela pessoa”.

Com essas informações, e usando fotografias, a pesquisadora dividiu os jovens em dois grupos: um experimental, ao qual foram apresentadas fotos de modelos que representam ideais de beleza, e outro de controle, cujos participantes foram expostos a fotos de objetos neutros.

Os resultados mostraram que “a exposição às imagens idealizadas pela mídia contribui para um aumento na insatisfação com o próprio corpo”. Antes de observar as imagens dos modelos de beleza, o índice de satisfação corporal dos grupos, tanto o experimental quanto o de controle, era praticamente o mesmo. Após a exposição aos estímulos, 37,50% das mulheres e 58,97% dos homens do grupo experimental selecionaram uma silhueta diferente da escolhida como desejada antes da visualização. Dentre estes, 80% das mulheres e 60,87% dos homens optaram por uma figura mais magra. As escolhas do grupo de controle permaneceram inalteradas.

(Marília Caliarí, *Agência USP de Notícias*, www.usp.br, 10.06.2013. Adaptado)

**01.** De acordo com o texto, a pesquisa da nutricionista Maria Fernanda Laus consistiu em

- (A) comparar o ideal de beleza veiculado pela mídia brasileira com imagens idealizadas pela mídia de outros países.
- (B) observar o comportamento de jovens que alteram sua aparência para se ajustarem ao ideal de beleza presente na mídia.
- (C) propor alternativas para tratar os distúrbios relativos à insatisfação do jovem brasileiro com sua aparência.
- (D) entrevistar jovens que se sentem satisfeitos com sua aparência e ignoram a mídia, no que se refere aos estereótipos de beleza.
- (E) avaliar o índice de satisfação corporal entre jovens e sua relação com imagens idealizadas pela mídia.

**02.** Em – De acordo com a pesquisadora, a literatura especializada sugere que a “insatisfação com o próprio corpo é resultado de uma **discrepância** entre a aparência autopercebida e a silhueta considerada ideal pela pessoa”. (segundo parágrafo) –, o termo em destaque é empregado com o sentido de

- (A) simetria.
- (B) divergência.
- (C) analogia.
- (D) correspondência.
- (E) interseção.

Considere o trecho do último parágrafo para responder à questão de número **03**.

Após a exposição aos estímulos, 37,50% das mulheres e 58,97% dos homens do grupo experimental selecionaram uma silhueta diferente da escolhida como desejada antes da visualização. Dentre estes, 80% das mulheres e 60,87% dos homens optaram por uma figura mais magra.

**03.** Ao interpretar os dados da pesquisa, é correto concluir que

- (A) o número de mulheres insatisfeitas com o próprio corpo é superior ao número de homens que gostariam de ter um corpo diferente.
- (B) metade do total de mulheres do grupo experimental demonstraram o desejo de ter um corpo diferente após serem expostas às fotos.
- (C) 80% do total das mulheres que participaram da pesquisa estão insatisfeitas com seus corpos e gostariam de alterar sua silhueta.
- (D) a maioria dos jovens que optaram por uma silhueta diferente após a visualização das fotos gostariam de ser mais magros.
- (E) o número de mulheres que selecionaram uma silhueta diferente após serem expostas às fotos é equivalente ao de homens.

**04.** Assinale a alternativa em que a concordância segue a norma-padrão da língua portuguesa.

- (A) A nutricionista conta que já havia sido realizados estudos sobre o mesmo assunto.
- (B) As informações obtidas a partir desse estudo aparentam ser muito interessante.
- (C) Foi percebido alguns indícios de que os jovens estavam insatisfeitos com seus corpos.
- (D) A pesquisa começou com algumas hipóteses, que foram testadas posteriormente.
- (E) Foi necessário a comparação entre as escolhas do grupo experimental e do grupo de controle.

05. Assinale a alternativa que completa, correta e respectivamente, as lacunas do texto, de acordo com as regras de regência.

Os estudos \_\_\_\_\_ quais a pesquisadora se reportou já assinalavam uma relação entre os distúrbios da imagem corporal e a exposição a imagens idealizadas pela mídia.

A pesquisa faz um alerta \_\_\_\_\_ influência negativa que a mídia pode exercer sobre os jovens.

- (A) dos ... na
- (B) nos ... entre a
- (C) aos ... para a
- (D) sobre os ... pela
- (E) pelos ... sob a

Leia o texto para responder às questões de números 06 a 09.

*O músico e escritor Jorge Mautner concede entrevista exclusiva à Revista E*

Jorge Mautner é um homem das artes. Músico, cantor e escritor, o carioca iniciou a vida profissional como jornalista, em 1958. Só mais tarde, em 1965, deu início à carreira musical, com o lançamento de um compacto simples pela RCA Victor. Como as músicas eram de protesto, naquele mesmo ano foi enquadrado na lei de segurança nacional pela ditadura militar e exilado. Inicialmente, foi para Nova York, onde trabalhou na Organização das Nações Unidas (ONU), foi massagista, garçom e secretário literário, por sete anos, do poeta norte-americano Robert Lowell. Depois se mudou para Londres, onde encontrou Caetano Veloso e Gilberto Gil e dirigiu seu único filme, *Demiurgo*. Regressou ao Brasil em 1972 e retomou a carreira de músico.

#### **O que você acha da música brasileira hoje?**

Eu a acompanho desde a geração de Dircinha e Linda Batista, Aracy de Almeida, Blecaute, Dolores Duran. Hoje em dia, a riqueza cultural e musical do Brasil é imensa. É como o [Rio] Amazonas e suas confluências. Por exemplo, a música erudita alemã, dodecafônica, atonal, foi combinada com a percussão popular. E há uma infinidade de misturas, como o *funk*, o *hip-hop*, o *rap*.

#### **Mas as pessoas reclamam que não há espaço no mercado para a música de qualidade.**

Pela multiplicidade e globalização que experimentamos agora, há oportunidades e chances para todo mundo, até para as coisas mais exóticas, estranhas e originais. Acontece que, antes, os autores eram muito interligados ao mundo literário, ao universo filosófico. Dolores Duran, por exemplo, lia Sartre, Albert Camus. Depois da queda do muro de Berlim, estamos numa plenitude do capitalismo liberal e da democracia. A música é mais de entretenimento.

#### **Como você, uma pessoa que gosta de informação, reage ao universo cibernético? O volume de informações cansa ou não?**

É ótimo, é o máximo, porque lugares são visitados e revisitados com mais rapidez. As notícias são sempre novíssimas, por causa das novas lentes, das novas máquinas de pesquisa digital. Na parte da literatura, o acesso a autores maravilhosos ficou mais fácil. E há autores que são eternos, que, mesmo tendo escrito tempos atrás, sempre têm alguma ideia que se aplica ao século 21.

(Revista E, n. 100, www.secsp.org.br, 10.06.2013. Adaptado)

06. A apresentação de Jorge Mautner, no parágrafo que inicia o texto, dá ênfase à

- (A) razão que o levou a abandonar a profissão de jornalista.
- (B) influência da sua formação como jornalista em sua carreira musical.
- (C) produção literária e musical a que ele se dedicou durante os anos de exílio.
- (D) parceria com Caetano Veloso e Gilberto Gil no decorrer da década de setenta.
- (E) diversidade das atividades que ele realizou desde o início da vida profissional.

07. Considere o trecho do primeiro parágrafo:

**Como** as músicas eram de protesto, naquele mesmo ano foi enquadrado na lei de segurança nacional pela ditadura militar e exilado.

O termo **Como**, em destaque na primeira parte do enunciado, expressa ideia de

- (A) contraste e tem sentido equivalente a **porém**.
- (B) concessão e tem sentido equivalente a **mesmo que**.
- (C) conformidade e tem sentido equivalente a **conforme**.
- (D) causa e tem sentido equivalente a **visto que**.
- (E) finalidade e tem sentido equivalente a **para que**.

08. Considere o trecho:

Eu a acompanho desde a geração de Dircinha e Linda Batista, Aracy de Almeida, Blecaute, Dolores Duran. Hoje em dia, a riqueza cultural e musical do Brasil é imensa. É como o [Rio] Amazonas e suas confluências. Por exemplo, a música erudita alemã, dodecafônica, atonal, foi combinada com a percussão popular. E há uma infinidade de misturas, como o *funk*, o *hip-hop*, o *rap*.

Nesse contexto, são antônimos os termos

- (A) cultural e musical.
- (B) confluências e misturas.
- (C) riqueza e misturas.
- (D) erudita e popular.
- (E) riqueza e infinidade.

09. É correto concluir que, na opinião de Jorge Mautner,

- (A) não se faz mais música de qualidade no mundo globalizado.
- (B) existe espaço para todo o tipo de música, incluindo a de qualidade.
- (C) música de qualidade e música de entretenimento não podem coexistir.
- (D) a queda do muro de Berlim marcou o fim da música de qualidade.
- (E) é inviável fazer música de qualidade no contexto do capitalismo liberal.

10. Assinale a alternativa correta quanto à pontuação.

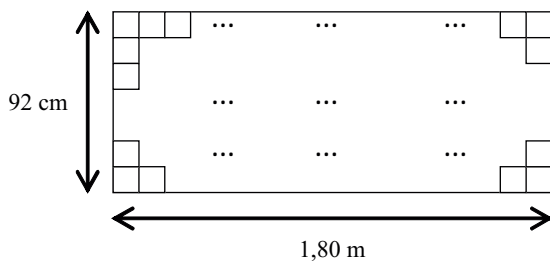
- (A) Músico, cantor e escritor, Jorge Mautner é um homem das artes.
- (B) O carioca iniciou em 1958, a vida profissional como jornalista.
- (C) Jorge Mautner inicialmente, foi para Nova York.
- (D) Depois encontrou em Londres, Caetano Veloso e Gilberto Gil.
- (E) Ele retomou ao regressar ao Brasil, a carreira de músico.

### MATEMÁTICA

11. Um jovem comprou, em uma mesma loja, uma blusa e uma calça, obtendo descontos de 20% e 10%, respectivamente, sobre os valores das peças. Sabendo-se que o preço final da compra, com todos os descontos, foi R\$ 171,00 e que o preço final da calça foi R\$ 27,00 mais caro que o preço final da blusa, é correto concluir que a porcentagem de desconto do valor final da compra, em relação ao preço inicial que seria pago (sem os descontos), foi de

- (A) 29,0%.
- (B) 26,5%.
- (C) 24,4%.
- (D) 18,0%.
- (E) 14,5%.

12. Uma pessoa precisa quadricular uma placa retangular de papelão de 1,80 m de comprimento por 92 cm de largura. A figura mostra uma parte do quadriculado.



Sabendo-se que todos os quadradinhos são iguais e de maior lado possível, e que a placa toda foi quadriculada, sem que ocorresse nenhuma sobra, então, o número total de quadradinhos desenhados nessa placa foi


- (A) 1 035.
- (B) 1 050.
- (C) 1 300.
- (D) 1 350.
- (E) 1 500.

13. O jornal *Folha de S.Paulo* publicou, em 19 de abril de 2013, a seguinte informação:

**“4 em cada 5 semáforos de São Paulo têm defeito”**

Sabendo-se que o número de semáforos com defeito é 4 800, então o número de semáforos que não precisam de reparos é

- (A) 2 400.  
(B) 1 800.  
(C) 1 200.  
(D) 1 000.  
(E) 800.
14. Em um escritório onde trabalham 7 pessoas, a média das idades é 36 anos. Um desses funcionários, com 32 anos de idade, pediu demissão e, para o seu lugar, foi contratado outro funcionário, o que fez com que a nova média das idades subisse para 37 anos. A idade, em anos, do novo funcionário contratado é
- (A) 40.  
(B) 39.  
(C) 38.  
(D) 37.  
(E) 36.
15. O jornal *Folha de S.Paulo* publicou, em 21 de maio de 2013, a seguinte informação:



(Eldorado Brasil Celulose. Adaptado)

Sabendo-se que 70 milhões de eucaliptos produzem 1,5 milhão de toneladas de celulose, o número de eucaliptos necessários, para que se possa produzir 4,5 milhões de toneladas de celulose representaria, em relação à previsão do ano de 2013, um aumento de

- (A) 260%.  
(B) 240%.  
(C) 220%.  
(D) 200%.  
(E) 180%.

16. João aplicou um capital de R\$ 500,00 a juro simples com taxa de 0,4% ao mês, durante certo tempo, e Pedro aplicou R\$ 800,00, também a juro simples, por um período de tempo equivalente a  $\frac{1}{3}$  do tempo da aplicação de João e obteve um juro 40% superior ao juro obtido por João. A taxa mensal de juro da aplicação de Pedro era
- (A) 0,65%.  
 (B) 0,70%.  
 (C) 0,85%.  
 (D) 0,90%.  
 (E) 1,05%.

17. Um professor tem, em sua casa, vários livros de matemática, de física e de biologia, num total de 173 livros. O número de livros de biologia corresponde a 15% do total do número de livros de matemática, e o número de livros de física excede em 17 o número de livros de biologia. O número total de livros de matemática é
- (A) 105.  
 (B) 120.  
 (C) 132.  
 (D) 143.  
 (E) 156.

18. A tabela mostra as alíquotas para o cálculo do Imposto de Renda (IR) do ano de 2013.

Base de Cálculo (R\$) (Valor bruto recebido)	Alíquota (%)	Parcela a deduzir do IR (R\$)
Até 1.710,78	–	–
De 1.710,79 até 2.563,91	7,5	128,31
De 2.563,92 até 3.418,59	15	320,6
De 3.418,60 até 4.271,59	22,5	577
Acima de 4.271,59	27,5	790,58

O cálculo do IR é feito da seguinte forma:

<b>Imposto a ser pago = (valor bruto recebido) x alíquota (%)</b> <b>– Parcela a deduzir</b>
---

Suponha que uma pessoa teve um desconto de IR na sua folha de pagamento no valor de R\$ 54,40. Sabendo-se que a alíquota utilizada é de 15%, então, o valor bruto do salário é

- (A) R\$ 2.100,00.  
 (B) R\$ 2.300,00.  
 (C) R\$ 2.500,00.  
 (D) R\$ 2.700,00.  
 (E) R\$ 2.900,00.

19. Com determinada quantia disponível de dinheiro, uma empresa poderia comprar vários aparelhos de telefone com fio, no valor de R\$ 70,00 cada um. No ato da compra, essa empresa conseguiu um desconto de R\$ 10,00 por aparelho, o que permitiu que, com a mesma quantia disponível, comprasse 5 aparelhos a mais. O valor total disponível, em dinheiro, para essa compra era

- (A) R\$ 2.100,00.
- (B) R\$ 1.890,00.
- (C) R\$ 1.680,00.
- (D) R\$ 1.470,00.
- (E) R\$ 1.050,00.

20. Uma pessoa está imprimindo um texto com 118 páginas, mas a impressora está apresentando o seguinte defeito: imprime duas folhas boas (B) e a terceira com defeito (D); depois, imprime mais três folhas boas e a folha seguinte com defeito e assim sucessivamente, conforme mostra o esquema.

Páginas	1. <sup>a</sup>	2. <sup>a</sup>	3. <sup>a</sup>	4. <sup>a</sup>	5. <sup>a</sup>	6. <sup>a</sup>	7. <sup>a</sup>	8. <sup>a</sup>	9. <sup>a</sup>	10. <sup>a</sup>	11. <sup>a</sup>	12. <sup>a</sup>	13. <sup>a</sup>	14. <sup>a</sup>	...
Qualidade	B	B	D	B	B	B	D	B	B	D	B	B	B	D	...

Ao termino dessa impressão, o número de folhas impressas com defeito será

- (A) 36.
- (B) 35.
- (C) 34.
- (D) 33.
- (E) 32.



## ATUALIDADES

21. O Congresso Nacional derrubou ontem os vetos da presidente Dilma Rousseff à lei que muda a divisão dos *royalties* do petróleo, abrindo nova fase na disputa que os Estados travam por essas receitas há mais de três anos. (...)  
A presidente Dilma, que era contra a mudança, avisou que respeitará a decisão do Congresso.

(Folha de S.Paulo, 08.03.2013)

Essa mudança, que tem gerado polêmica e a contestação da lei,

- (A) distribui os *royalties* apenas para os estados produtores de petróleo, o que desagradou às demais unidades da federação.
- (B) busca uma divisão mais igualitária dos *royalties* entre todos os estados, questionada pelos estados produtores.
- (C) reserva mais da metade do valor dos *royalties* para os estados não produtores, em prejuízo da União.
- (D) limita a arrecadação dos *royalties* ao pré-sal das bacias de Campos e de Santos, criticada pelos estados não produtores.
- (E) favorece os estados da região Sudeste na distribuição dos *royalties*, gerando disparidades sociais e econômicas no país.

22. A (...) escolheu, na terça-feira [07.05.2013], o primeiro latino-americano para comandar a entidade, substituindo o francês Pascal Lamy na direção-geral do órgão a partir de 31 de agosto. O brasileiro Roberto Azevedo, considerado o diplomata do Itamaraty com maior conhecimento sobre a (...), venceu o mexicano Hermínio Blanco com forte apoio dos países emergentes, um reflexo da capacidade negociadora do Brasil nos acordos e da imagem de um dos países mais atuantes do órgão.

(<http://www.cartacapital.com.br/internacional/brasil-na-...>, 08.05.2013. Adaptado)

Esse brasileiro passará a chefiar a

- (A) FAO – Organização das Nações Unidas para a Alimentação e a Agricultura.
- (B) OIT – Organização Internacional do Trabalho.
- (C) OMC – Organização Mundial do Comércio.
- (D) OMS – Organização Mundial da Saúde.
- (E) UNESCO – Organização das Nações Unidas para a Educação, a Ciência e a Cultura.

23. As redes sociais são uma das maiores ameaças para a sociedade, segundo o primeiro-ministro da Turquia, Recep Tayyip Erdogan, e a melhor ferramenta para uma participação democrática nela, segundo seus jovens oponentes, que há uma semana estão nas ruas da Turquia.

(<http://noticias.terra.com.br/mundo/europa/amplo-uso-de-redes-sociais-serve-de-estrutura-para-protestos-na-turquia...html>, 05.06.2013)

Esses recentes protestos na Turquia,

- (A) em defesa da incorporação do país à União Europeia, demonstram que a hostilidade dos europeus aos muçulmanos ainda persiste.
- (B) decorrentes do elevado índice de desemprego entre os jovens, reforçam o fracasso da política econômica adotada pelo partido islamita.
- (C) favoráveis à libertação de jovens que se negaram a usar o véu islâmico, mostram o acelerado processo de modernização do país.
- (D) desencadeados pela construção de um centro comercial em Istambul, revelam a oposição à política conservadora do partido governista.
- (E) em retaliação ao resultado da última eleição para o Parlamento, confirmam que os ideais da Primavera Árabe chegaram a mais um país.

24. O ministro da justiça, José Eduardo Cardozo, afirmou que 110 homens da Força Nacional e 100 da Polícia Federal chegaram na manhã de hoje a Campo Grande, no Mato Grosso do Sul.

(<http://exame.abril.com.br/brasil/noticias/mato-grosso-do-sul-recebe-forca-nacional-e-policia-federal>, 05.06.2013)

Essa medida foi tomada para

- (A) impedir o aliciamento de populações locais pelo tráfico de drogas, que abastece as metrópoles do país.
- (B) reforçar a fiscalização na fronteira, por onde entra a maior parte das armas e munições contrabandeadas.
- (C) conter os conflitos entre indígenas e fazendeiros, devido a divergências na demarcação de terras no estado.
- (D) desestruturar o Movimento dos Trabalhadores Sem Terra, responsável pela invasão de áreas improdutivas.
- (E) combater os narcotraficantes dos países vizinhos, que estabeleceram bases em reservas indígenas da fronteira.

25. O líder americano afirmou que seu governo alcançou o “equilíbrio correto entre segurança e privacidade”, acrescentando que o monitoramento da internet não tem como alvo cidadãos americanos ou residentes do país. (...)

As declarações de Obama se referiam a revelações feitas nesta semana pelos jornais *Guardian*, do Reino Unido, e *Washington Post*, dos EUA, de que a Agência de Segurança Nacional (NSA, na sigla em inglês) está coletando vastas quantidades de dados de telefone e de comunicações da internet.

(<http://ultimosegundo.ig.com.br/mundo/2013-06-07/obama-programas-de-vigilancia-dos-eua-equilibram-seguranca-e-privacidade.html>, 07.06.2013)

De acordo com o governo norte-americano, esse monitoramento

- (A) visa impedir a entrada e permanência de imigrantes ilegais no país.
- (B) está fundamentado na lei punitiva a ataques de *hackers* estrangeiros.
- (C) atinge as empresas que têm favorecido ou ocultado casos de pedofilia.
- (D) é justificado pela necessidade de prevenção e combate ao terrorismo.
- (E) pretende ser um instrumento legal contra a ciberespionagem industrial.

#### NOÇÕES DE INFORMÁTICA

26. O atalho que permite acionar a janela de Ajuda e Suporte do MS-Windows 7, em sua configuração padrão, a partir de uma janela aberta do Windows Explorer, é:

- (A) F5
- (B) F4
- (C) F3
- (D) F2
- (E) F1

27. Assinale a alternativa que indica o nome correto do ícone a seguir, retirado do grupo Ilustrações, da guia Inserir, do MS-Word 2010, em sua configuração padrão.



- (A) Imagem.
- (B) Clip-Art.
- (C) WordArt.
- (D) Figuras.
- (E) SmartArt.

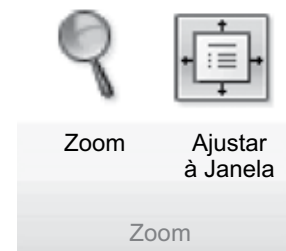
28. Observe a planilha a seguir, preenchida por meio do MS-Excel 2010, em sua configuração padrão.

	A	B	C
1	1	10	
2	2	3	
3	5	12	
4			

O valor obtido na célula A4, quando preenchida com a expressão =SOMASE(A1:C3; “<5”) é:

- (A) 1
- (B) 2
- (C) 3
- (D) 6
- (E) 11

29. A imagem a seguir foi retirada do grupo Zoom do MS-PowerPoint 2010, em sua configuração padrão.



Assinale a alternativa que contém o nome da guia a que pertence o grupo Zoom.

- (A) Exibição.
- (B) Mostrar.
- (C) Janela.
- (D) Revisão.
- (E) Transições.

30. O recurso que permite verificar a data de acesso aos sites visitados recentemente por meio do Internet Explorer 9, no MS-Windows 7, em sua configuração padrão, é:

- (A) Favoritos.
- (B) Navegação Offline.
- (C) Histórico.
- (D) Feeds.
- (E) Certificados Digitais.

## CONHECIMENTOS ESPECÍFICOS

31. Com relação à cooperação administrativa na federação brasileira, é correto afirmar que
- (A) os Municípios poderão se agrupar em regiões metropolitanas, independentemente de legislação estadual.
  - (B) as regiões metropolitanas serão organizadas por meio de legislação federal.
  - (C) os Estados poderão, mediante lei complementar, instituir regiões metropolitanas.
  - (D) as microrregiões serão instituídas por meio de lei ordinária comum dos Municípios.
  - (E) somente por meio de Emenda Constitucional poderão ser constituídas regiões metropolitanas.
32. Os Municípios
- (A) somente poderão ser criados por lei federal.
  - (B) possuem Poder Judiciário próprio, visando atender ao interesse público local.
  - (C) possuem autonomia legislativa mas não autonomia política.
  - (D) poderão ser desmembrados por lei estadual, independentemente de plebiscito.
  - (E) poderão criar, organizar e suprimir distritos, observada a legislação estadual.
33. O controle da constitucionalidade das leis
- (A) não poderá ser exercido pela Câmara Municipal.
  - (B) será exercido com exclusividade pelo Poder Judiciário.
  - (C) não poderá ser exercido pelo Poder Executivo.
  - (D) quando repressivo é exercido pelo Poder Judiciário.
  - (E) somente é exercido pelo Supremo Tribunal Federal.
34. Com relação à política urbana prevista na Constituição Federal, é correto afirmar que:
- (A) há possibilidade de os imóveis públicos serem adquiridos por usucapião.
  - (B) a propriedade urbana cumpre sua função social quando atende às exigências fundamentais de ordenação da cidade expressas no plano diretor.
  - (C) considerando o critério população é facultativo ao Município de São Carlos a existência de Plano Diretor.
  - (D) todos os municípios são obrigados a possuir Plano Diretor.
  - (E) todas as desapropriações de imóveis urbanos serão feitas com prévia e justa indenização por meio de títulos da dívida pública.
35. Com relação aos direitos políticos previstos na Constituição Federal, é correto afirmar que
- (A) a soberania popular será exercida pelo sufrágio universal e pelo voto direto e secreto, com valor igual para todos.
  - (B) o alistamento eleitoral e o voto são obrigatórios aos maiores de 16 anos.
  - (C) a nacionalidade brasileira não é uma condição de elegibilidade.
  - (D) poderão alistar-se como eleitores os estrangeiros e, durante o período do serviço militar obrigatório, os conscritos.
  - (E) o domicílio eleitoral na circunscrição não é uma condição de elegibilidade.
36. A Lei Orgânica dos Municípios será
- (A) instituída pelo Poder Legislativo Estadual.
  - (B) promulgada pelo Prefeito após a sua aprovação na Câmara Municipal.
  - (C) editada pelo Poder Executivo nos termos de sua competência.
  - (D) votada em dois turnos e aprovada por maioria absoluta.
  - (E) aprovada e promulgada pela própria Câmara Municipal.
37. A Constituição Federal determina que o Estado não intervirá em seus Municípios, exceto quando
- (A) deixar de elaborar o seu Plano Diretor.
  - (B) não fomentar a produção agropecuária.
  - (C) o Prefeito perder o mandato por decisão parlamentar.
  - (D) não forem prestadas contas devidas, na forma da lei.
  - (E) atrasar o pagamento dos salários dos funcionários públicos.
38. Todos são iguais perante a lei, sem distinção de qualquer natureza, garantindo-se aos brasileiros e aos estrangeiros residentes no País a inviolabilidade do direito à vida, à liberdade, à igualdade, à segurança e à propriedade, nos termos seguintes:
- (A) é livre a expressão da atividade intelectual, artística, científica e de comunicação, podendo porém ser objeto de censura pelo poder público.
  - (B) é inviolável o sigilo da correspondência, salvo por ordem judicial em caso de investigação criminal ou administrativa.
  - (C) é livre o exercício de qualquer trabalho, ofício ou profissão, atendidas as qualificações profissionais que a lei estabelecer.
  - (D) é inviolável o sigilo das comunicações de dados, salvo por ordem do Ministério Público em caso de processo judicial.
  - (E) é livre a manifestação do pensamento, sendo autorizado o anonimato.

39. Com relação ao Poder Legislativo, é correto afirmar que
- (A) a Câmara dos Deputados compõe-se de representantes do povo, eleitos, pelo sistema proporcional, em cada Estado, em cada Território e no Distrito Federal.
  - (B) é constituído, em âmbito federal, pela Câmara Legislativa e Senado da República.
  - (C) constitui atribuição do Senado Federal autorizar o Presidente da República a declarar guerra.
  - (D) compete ao Congresso Nacional processar e julgar o Presidente da República nos crimes de responsabilidade.
  - (E) o Senado Federal compõe-se de representantes do povo, eleitos segundo o princípio majoritário.
40. São, entre outros, remédios constitucionais previstos na Constituição Federal:
- (A) *habeas corpus*, mandado de segurança e plebiscito.
  - (B) mandado de segurança, ação popular e direito de petição.
  - (C) ação popular, *habeas data* e direito de resposta.
  - (D) inquérito civil, *habeas data* e ação popular.
  - (E) direito de petição, *habeas corpus* e direito de resposta.
41. A Administração Pública, direta e indireta, de qualquer dos Poderes da União obedecerá aos princípios:
- (A) legitimidade, pessoalidade, moralidade, confidencialidade e especificidade.
  - (B) anterioridade, pessoalidade, habitualidade, publicidade e eficiência.
  - (C) legalidade, impessoalidade, moralidade, publicidade e eficiência.
  - (D) autonomia do poder público, pessoalidade, moralidade, publicidade e especificidade.
  - (E) federativo, impessoalidade, habitualidade, confidencialidade e eficiência.
42. O serviço autônomo, criado por lei, com personalidade jurídica, patrimônio e receita próprios, para executar atividades típicas da Administração Pública, que requeiram, para seu melhor funcionamento, gestão administrativa e financeira descentralizada, é a
- (A) autarquia.
  - (B) fundação.
  - (C) concessionária.
  - (D) empresa pública.
  - (E) permissionária.
43. O requerimento inicial do interessado, salvo casos em que for admitida solicitação oral, deve ser formulado por escrito e conter, entre outros, o seguinte dado:
- (A) fato administrativo e a data de sua ocorrência.
  - (B) cópia da sentença emanada em processo judicial.
  - (C) certidão negativa de débitos com a autoridade administrativa a que se dirige.
  - (D) formulação do pedido, com exposição dos fatos e de seus fundamentos.
  - (E) comprovação da necessidade de tutela antecipada do pedido.
44. No exercício de sua função administrativa, a Administração Pública é vinculada quando
- (A) está sujeita a uma condição ou termo para que comece a produzir efeitos.
  - (B) a lei estabelece os requisitos e condições de realização de seus atos, sem margem de apreciação subjetiva.
  - (C) o dispositivo normativo permite certa margem de liberdade para a atividade pessoal do agente público, dentro dos limites constitucionais.
  - (D) está autorizada a agir de maneira coercitiva em face do particular, dependendo de prévio laudo exarado pela autoridade administrativa competente.
  - (E) emana decisões colegiadas, com vários órgãos de uma mesma pessoa jurídica de direito público.
45. A ação punitiva da Administração Pública Federal, direta e indireta, no exercício do poder de polícia, objetivando apurar infração à legislação em vigor, prescreve
- (A) em três anos, contados da data da prática do ato ou, no caso de infração permanente ou continuada, do dia em que tiver cessado.
  - (B) em cinco anos, contados da data da prática do ato ou, no caso de infração permanente ou continuada, do dia em que tiver cessado.
  - (C) em dez anos, contados da data da prática do ato ou, no caso de infração permanente ou continuada, do dia em que tiver cessado.
  - (D) em três anos, contados da data da prática do ato ou, no caso de infração permanente ou continuada, do dia em que tiver iniciado.
  - (E) em dois anos, contados da data da prática do ato ou, no caso de infração permanente ou continuada, do dia em que tiver iniciado.

46. É dispensável a licitação
- (A) para as compras de material de uso pessoal e administrativo pelas Forças Armadas, quando houver necessidade de manter a padronização requerida pela estrutura de apoio logístico dos meios navais, aéreos e terrestres, mediante parecer de comissão instituída por decreto.
  - (B) na contratação de instituição brasileira incumbida regimental ou estatutariamente da pesquisa institucional, desde que a contratada detenha inquestionável reputação ético-profissional e tenha fins lucrativos.
  - (C) na contratação da coleta, processamento e comercialização de resíduos sólidos urbanos recicláveis ou reutilizáveis, em áreas com sistema de coleta seletiva de lixo, efetuados por pequenas e médias empresas formadas por pessoas jurídicas especializadas nessa atividade.
  - (D) quando houver possibilidade de comprometimento da segurança nacional, ou ameaça estrangeira à manutenção de reservas indígenas, conforme estabelecido em decreto legislativo.
  - (E) na contratação de associação de portadores de deficiência física, sem fins lucrativos e de comprovada idoneidade, por órgãos ou entidades da Administração Pública, para a prestação de serviços ou fornecimento de mão de obra, desde que o preço contratado seja compatível com o praticado no mercado.
47. Quanto à demissão de servidor de seu emprego público ou função pública, é correto afirmar que
- (A) ocorre quando não satisfeitas as condições do estágio probatório.
  - (B) ocorre quando, tendo tomado posse, o servidor não entrar em exercício no prazo estabelecido.
  - (C) se dará a pedido do servidor, ou de ofício.
  - (D) constitui uma penalidade decorrente da prática de ilícito administrativo.
  - (E) poderá ser realizada sem justa causa.
48. O processo de desapropriação de imóvel rural, por interesse social, para fins de reforma agrária, é de competência
- (A) comum da União e dos Municípios.
  - (B) comum dos Estados e dos Municípios.
  - (C) privativa dos Municípios.
  - (D) privativa dos Estados.
  - (E) privativa da União.
49. Constitui motivo para rescisão do contrato administrativo,
- (A) a alteração social da estrutura da empresa, ainda que não afete a execução do contrato.
  - (B) o cumprimento irregular de cláusulas contratuais, especificações, projetos e prazos.
  - (C) o atraso dos pagamentos devidos pela Administração decorrentes de obras, serviços ou fornecimento, em caso de calamidade pública.
  - (D) o atraso justificado no início da obra, serviço ou fornecimento.
  - (E) a paralisação da obra, do serviço ou do fornecimento, com justa causa e prévia comunicação à Administração.
50. O artigo 225 da Constituição Federal prevê que “todos têm direito ao meio ambiente ecologicamente equilibrado, bem de uso comum do povo e essencial à sadia qualidade de vida, impondo-se ao Poder Público e à coletividade o dever de defendê-lo e **preservá-lo para as presentes e futuras gerações**”. O princípio de Direito Ambiental a que se refere especificamente o texto grifado é o princípio
- (A) do Poluidor-pagador.
  - (B) do Desenvolvimento Sustentável.
  - (C) da Informação Ambiental.
  - (D) da Responsabilização Ambiental.
  - (E) da Participação.
51. No que diz respeito ao procedimento para alteração de leis, por meio de substituição, no próprio texto, do dispositivo alterado, ou acréscimo de dispositivo novo, assinale a alternativa correta.
- (A) É possível o aproveitamento do número de dispositivo revogado, vetado, ou declarado inconstitucional pelo Supremo Tribunal Federal.
  - (B) É vedada, mesmo quando recomendável, qualquer renumeração de artigos e de unidades superiores ao artigo.
  - (C) É vedada a reordenação interna das unidades em que se desdobra o artigo, exceto quando houver revogação.
  - (D) É possível o aproveitamento do número de dispositivo revogado, devendo a lei alterada manter sua indicação, seguida da expressão “revogado”.
  - (E) É vedada a fusão de disposições repetitivas ou de valor normativo idêntico, homogeneizando a terminologia do texto.

- 52.** Há conflito de competência quando
- (A) entre dois ou mais juízes surge controvérsia acerca da reunião ou separação de processos.
  - (B) a incompetência territorial for declarada de ofício, sem que a parte interessada a tenha alegado.
  - (C) declarada a incompetência absoluta, remetem-se os autos ao juiz competente para apreciar a questão.
  - (D) prorrogada a competência, o réu não opuser exceção declinatoria do foro e de juízo, no caso e prazo legais.
  - (E) alegada a nulidade da cláusula de eleição de foro, em contrato de adesão, declinando-se a competência ao domicílio do réu.
- 53.** É admissível a assistência
- (A) daquele que detiver a coisa em nome alheio, sendo-lhe demandada em nome próprio.
  - (B) de quem pretender, no todo ou em parte, a coisa ou o direito sobre que controvertem autor e réu.
  - (C) pendendo uma causa entre duas ou mais pessoas, de quem tiver o interesse jurídico em que a sentença seja favorável a uma delas.
  - (D) do alienante, na ação em que terceiro reivindica a coisa, cujo domínio foi transferido à parte.
  - (E) de todos os devedores solidários, quando o credor exigir de um ou de alguns deles, parcial ou totalmente, a dívida comum.
- 54.** Tem legitimidade para propor ação de nunciação de obra nova:
- (A) o representante do Ministério Público, quando a obra for pública e não houver outros interessados.
  - (B) o condômino, para impedir que o co-proprietário execute obra necessária em seu imóvel.
  - (C) o poder público, quando a edificação de obra nova causar prejuízos a prédio público e houver representação judicial.
  - (D) o Município, a fim de impedir que o particular construa em contravenção da lei, do regulamento ou de postura.
  - (E) o proprietário ou possuidor, a fim de impedir que a edificação de obra nova em imóvel vizinho moleste seu exercício de posse.
- 55.** Quanto ao mandado de segurança, assinale a alternativa correta.
- (A) Caberá contra atos de gestão comercial praticados pelos administradores de empresas públicas.
  - (B) Caberá em caso de violação a direito líquido e certo, em que pese o direito de requerê-lo em *habeas data*.
  - (C) Quando o direito ameaçado ou violado couber a várias pessoas, todos os interessados deverão impetrar o mandado de segurança.
  - (D) Os efeitos da medida liminar, ainda que revogada ou cassada, persistirão até a prolação da sentença.
  - (E) O pedido de mandado de segurança poderá ser renovado dentro do prazo decadencial, se a decisão denegatória não lhe houver apreciado o mérito.
- 56.** A sentença de mérito, transitada em julgado, pode ser rescindida quando
- (A) proferida por juiz impedido ou relativamente incompetente.
  - (B) depois da sentença, o autor obtiver documento novo, que por si só, lhe assegura pronunciamento favorável.
  - (C) resultar de dolo ou culpa da parte vencedora em detrimento da parte vencida, a fim de fraudar a lei.
  - (D) homologar acordo formulado em colusão entre as partes, com a finalidade de prejudicar terceiros.
  - (E) se fundar em prova, cuja falsidade tenha sido apurada em processo criminal ou seja provada na própria ação rescisória.
- 57.** Poderão ser opostos embargos de terceiros
- (A) a qualquer tempo no processo de conhecimento enquanto não transitada em julgado a sentença.
  - (B) a qualquer tempo, desde que o bem não tenha sido arrematado, adjudicado ou remido na fase de liquidação.
  - (C) no processo de execução, até quinze dias depois da arrematação, adjudicação ou remição, mas sempre antes da assinatura da respectiva carta.
  - (D) nas ações de divisão ou de demarcação, até cinco dias depois de transitada em julgada a sentença.
  - (E) para o credor com garantia real obstar alienação judicial do objeto da hipoteca, penhor ou anticrese, até o início da fase de execução.

- 58.** A iniciativa popular pode ser exercida pela apresentação à Câmara Municipal de São Carlos de propostas de emendas à Lei Orgânica Municipal ou Projetos de Lei de interesse específico do Município, da cidade ou de bairros, por meio de manifestação de, pelo menos,
- (A) três por cento do eleitorado local.
  - (B) cinco por cento do eleitorado local.
  - (C) sete por cento do eleitorado local.
  - (D) dez por cento do eleitorado local.
  - (E) quinze por cento do eleitorado local.
- 59.** De acordo com a Lei Federal n.º 4.320/64, que dispõe sobre normas para elaboração e controle dos orçamentos e balanços da União, dos Estados, dos Municípios e do Distrito Federal, são admitidas emendas ao projeto de Lei de Orçamento que visem
- (A) alterar a dotação solicitada para despesa de custeio, quando provada, nesse ponto, a inexatidão da proposta.
  - (B) conceder dotação para o início de obra cujo projeto não esteja aprovado pelos órgãos competentes.
  - (C) conceder dotação para instalação ou funcionamento de serviço que não esteja anteriormente criado.
  - (D) conceder dotação superior aos quantitativos previamente fixados em resolução do Poder Legislativo para concessão de auxílios e subvenções.
  - (E) conceder dotação superior aos quantitativos previamente fixados em resolução do Poder Legislativo, sem atendimento às disposições da Lei n.º 8.666/93.
- 60.** A despesa com pessoal ativo e inativo da União, dos Estados e dos Municípios não poderá exceder os percentuais da receita corrente líquida, a seguir discriminados:
- (A) União: 60% (sessenta por cento); Estados: 50% (cinquenta por cento); Municípios: 60% (sessenta por cento).
  - (B) União: 50% (cinquenta por cento); Estados: 60% (sessenta por cento); Municípios: 50% (cinquenta por cento).
  - (C) União: 60% (sessenta por cento); Estados: 60% (sessenta por cento); Municípios: 50% (cinquenta por cento).
  - (D) União: 60% (sessenta por cento); Estados: 50% (cinquenta por cento); Municípios: 50% (cinquenta por cento).
  - (E) União: 50% (cinquenta por cento); Estados: 60% (sessenta por cento); Municípios: 60% (sessenta por cento).

