

# Conselho Regional de Enfermagem Estado do Maranhão

**CONCURSO PÚBLICO Nº. 001/2012**



**AGENTE ADMINISTRATIVO**

**MANHÃ**

**CARGO: AGENTE ADMINISTRATIVO**

**Texto**

**Muito além de impressões digitais**

Um passado sem rosto e sem rastro transformou a figura da mãe numa pálida lembrança. E levou consigo a imagem da menina Camila, ex-moradora de rua, sem deixar na adulta a certeza de como era quando criança. Com a morte da mãe no parto do oitavo irmão, há nove anos, depois de peregrinar com os sete irmãos pelas ruas de diversos bairros, ela ganhou uma casa. Foi morar com a tia e cada irmão seguiu para viver com um parente.

A história da família Gomes, até a geração de Camila Cláudia, hoje com 21 anos, é apenas oral. Não há um único registro fotográfico dessa vida nômade. Nem fotos, nem documentos. Camila não tem certidão de nascimento, o que impede o acesso aos direitos mais elementares. E não se lembra de ter visto fotos da mãe.

Uma aflição latente ficou de herança. Os nascimentos de Camille, de 2 anos, e Sofia, de 5 meses, trouxeram um novo desejo à vida da menina sem foto. Há pouco menos de dois anos, ela comprou um celular com câmera, exclusivamente para fotografar a primeira filha.

Camila tem a chance agora de deixar impressa sua passagem pelo mundo. Ela ilustra a farta variedade de estatísticas que apontam para o consumo crescente de celulares e câmeras digitais no país, instrumentos também de inclusão. Nos últimos três anos, o item de consumo que mais cresceu no Brasil foi a câmera digital (de 20% para 35%), indicam os dados da consultoria *Kantar WorldPanel*, divulgados em setembro. Um estudo da Fecomércio do ano passado mostra que, de 2003 a 2009, o gasto com celular já havia aumentado 63,6% em todas as classes sociais. Na E, chegou a 312%. Soma-se a estes um outro dado, e a equação se completa: cerca de 66% dos brasileiros usam o celular para tirar fotografias, segundo pesquisa do Instituto Data Popular colhida este ano.

A democratização do acesso se consolidou. Estamos diante de novos tempos, moldados pela democratização do acesso ao registro de imagens. As classes populares deixaram de ser apenas o objeto fotografado e tornaram-se também agentes desse universo pictórico: são produtores em escala crescente, de imagens de seu cotidiano.

*(Revista O globo, novembro de 2012.)*

**01**

**Observe as afirmativas.**

- I. A aquisição de produtos eletrônicos causa o endividamento da classe popular.
- II. O uso do celular facilitou a comunicação entre as pessoas.
- III. A democratização do registro fotográfico é instrumento de inclusão.
- IV. O acesso a celulares e máquinas digitais é crescente.

**As afirmativas que são compostas exclusivamente de informações fornecidas pelo texto são**

- A) I e III, apenas.
- B) I, II, III e IV.
- C) I, II e IV, apenas.
- D) III e IV, apenas.
- E) I e IV, apenas.

**02**

**Após a leitura do texto, infere-se que seu título**

- A) versa sobre o acesso a documentos.
- B) afirma que a função do registro fotográfico é ampla.
- C) afirma que os não alfabetizados têm acesso à fotografia.
- D) considera que o cotidiano pode ser registrado por todos.
- E) sugere que o registro fotográfico é uma descoberta recente.

**03**

**No trecho “Não há um único registro fotográfico dessa vida nômade”, a palavra grifada se refere**

- A) ao tempo de vida.
- B) ao poder aquisitivo.
- C) à precariedade da vida.
- D) à falta de perspectiva da vida.
- E) aos deslocamentos ao longo da vida.

**04**

**“O gasto com celular já havia aumentado...” Quanto ao processo de formação de palavras, a palavra “gasto” constitui exemplo de derivação**

- A) sufixal.
- B) prefixal.
- C) imprópria.
- D) regressiva.
- E) parassindética.

**05**

Em “... *trouxeram um novo desejo à vida da menina sem foto*”, a utilização do acento gráfico indicativo de crase é justificada pela ocorrência da fusão do artigo “a” e a preposição “a”. Assinale a alternativa na qual o sinal da crase **NÃO** deve ser utilizado.

- A) Escreveu suas memórias a caneta.
- B) Algumas pessoas fazem um acervo a moda antiga.
- C) Voltou a casa da tia, onde morou por muitos anos.
- D) Perguntei aquela moça se ela tinha certidão de nascimento.
- E) A inclusão aumenta a medida que mais pessoas adquirem máquinas digitais.

**06**

Observe o trecho “*Máquinas fotográficas eram artigos de luxo*.” Assinale a alternativa na qual o trecho em destaque tem classificação sintática igual a do item sublinhado no período anterior.

- A) Ela comprou um celular.
- B) Ela não se lembra de seu passado.
- C) Os dados foram divulgados em setembro.
- D) A máquina com defeito foi trocada na loja.
- E) Atualmente, as possibilidades de registro são maiores.

**07**

A preposição “até” no trecho “*A história da família Gomes, até a geração de Camila Cláudia, hoje com 21 anos, é apenas oral*”, introduz ideia de

- A) lugar.
- B) modo.
- C) tempo.
- D) limite.
- E) finalidade.

**08**

Analise os termos grifados quanto à classificação gramatical “*Nem fotos, nem documentos. Camila não tem certidão de nascimento, o que impede o acesso aos direitos mais elementares*.” Os vocábulos são, respectivamente,

- A) artigo, verbo e adjetivo.
- B) conjunção, verbo e substantivo.
- C) conjunção, substantivo e adjetivo.
- D) preposição, substantivo e adjetivo.
- E) preposição, substantivo e substantivo.

**09**

O uso de vírgulas no período “*E levou consigo a imagem da menina Camila, ex-moradora de rua, sem deixar na adulta a certeza de como era quando criança*”, se justifica por

- A) evidenciar o vocativo.
- B) isolar aposto explicativo.
- C) indicar a elipse do verbo.
- D) separar constituintes sintáticos idênticos.
- E) separar termos coordenados ligados por conjunção.

**10**

Assinale a alternativa na qual nenhuma das palavras contém dígrafo.

- A) exceto – prova – colhida
- B) gasto – peregrinar – ilustra
- C) detalhes – quando – morte
- D) pesquisa – impossível – abrir
- E) narrativa – fotografias – história

### **RACIOCÍNIO LÓGICO**

**11**

Beatriz ganhou duas caixas de bombons, uma grande e uma pequena. Considere que ela comeu  $\frac{2}{3}$  dos bombons da caixa grande mais 7 bombons e ainda sobraram 9. Sabe-se que na caixa pequena havia inicialmente metade dos bombons da caixa grande. Quantos bombons Beatriz ainda possui?

- A) 29
- B) 31
- C) 33
- D) 35
- E) 37

12

Numa geladeira há sucos de laranja, pêsego e uva. Esses sucos estão armazenados em recipientes distintos. Considere que, pelo menos, uma das afirmativas a seguir seja falsa:

- Na jarra há suco de pêsego.
- O suco de uva não está em uma garrafa.
- O suco de laranja não está em uma caixa.

Os sucos de laranja, pêsego e uva **NÃO** podem estar, portanto, respectivamente, em

- |                            |                            |
|----------------------------|----------------------------|
| A) garrafa, jarra e caixa. | D) garrafa, caixa e jarra. |
| B) jarra, caixa e garrafa. | E) jarra, garrafa e caixa. |
| C) caixa, jarra e garrafa. |                            |

13

Qual das figuras a seguir **NÃO** pertence ao grupo?


A)	D)
B)	E)
C)	

14

Os quadrados na figura apresentada têm perímetros iguais a 72 cm e 20 cm.

A área em **negrito** no interior da figura mede

- A) 235 cm<sup>2</sup>.
- B) 241 cm<sup>2</sup>.
- C) 253 cm<sup>2</sup>.
- D) 259 cm<sup>2</sup>.
- E) 267 cm<sup>2</sup>.



15

A metade da idade de Leonardo mais o dobro da idade de seu filho Tiago é igual a 51 anos. Se a soma das idades de pai e filho é igual a 72, então quantos anos Leonardo tinha quando Tiago nasceu?

- |       |       |       |       |       |
|-------|-------|-------|-------|-------|
| A) 39 | B) 42 | C) 46 | D) 48 | E) 52 |
|-------|-------|-------|-------|-------|

16

Um certo ano bissexto teve 5 quintas-feiras no mês de fevereiro. O ano bissexto que antecedeu esse referido ano teve no mês de fevereiro 5

- |                     |              |
|---------------------|--------------|
| A) sextas-feiras.   | D) domingos. |
| B) segundas-feiras. | E) sábados.  |
| C) quintas-feiras.  |              |

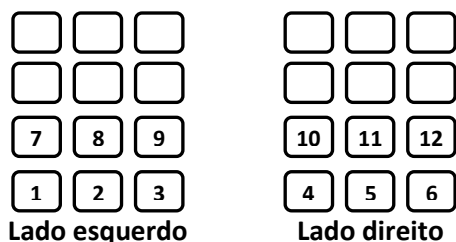
17

Para atravessar uma ponte, um veículo em velocidade constante gasta 40 s. Considere que, se a velocidade aumentasse em 5 m/s, o tempo gasto para atravessar a mesma ponte seria de 32 s. A extensão dessa ponte é um número

- |                     |                                |
|---------------------|--------------------------------|
| A) divisível por 3. | D) com 3 algarismos iguais.    |
| B) divisível por 4. | E) com 3 algarismos distintos. |
| C) de 4 algarismos. |                                |

18

Um avião apresenta 300 poltronas para os passageiros distribuídas e numeradas conforme indicado na figura.



Sobre as numerações das poltronas é correto afirmar que a(s)

- A) a poltrona 230 fica no corredor do lado direito.
- B) a poltrona 229 fica na janela do lado esquerdo.
- C) as poltronas 135 e 136 ficam no mesmo lado do avião.
- D) a poltrona 207 não fica nem na janela nem no corredor.
- E) as poltronas 189 e 190 ficam no lado esquerdo do avião.

19

Para realizar um trabalho, uma pessoa deseja escolher 2 dias da primeira quinzena de um mês. De quantas maneiras ela poderá escolher esses dias, considerando que os dias não podem ser consecutivos?

- A) 90
- B) 91
- C) 121
- D) 195
- E) 196

20

Cíntia preparou 400 bombons com e sem açúcar, conforme indicado na tabela a seguir.

Recheio	Bombons com açúcar	Bombons sem açúcar
Coco	120	y
Morango	x	100

Escolhendo-se ao acaso um dos bombons, a probabilidade de que este seja de morango é igual a 52,5%. Assim, a diferença entre os valores x e y é

- A) 30.
- B) 35.
- C) 40.
- D) 45.
- E) 47.

### CONHECIMENTOS ESPECÍFICOS

21

Considere as partes que compõem a carta comercial:

- |                       |                     |
|-----------------------|---------------------|
| 1. Iniciais.          | 6. Texto.           |
| 2. Cumprimento final. | 7. Índice e número. |
| 3. Referência.        | 8. Timbre.          |
| 4. Localidade e data. | 9. Assinatura.      |
| 5. Invocação.         | 10. Anexos.         |

Indique a sequência correta em que devem aparecer na estrutura do documento.

- |                                  |                                  |
|----------------------------------|----------------------------------|
| A) 4, 1, 5, 7, 6, 3, 2, 10, 9, 8 | D) 7, 4, 8, 5, 6, 9, 2, 10, 3, 1 |
| B) 5, 4, 6, 2, 9, 3, 7, 8, 1, 10 | E) 1, 8, 5, 4, 7, 6, 9, 2, 10, 3 |
| C) 8, 7, 4, 3, 5, 6, 2, 9, 10, 1 |                                  |

22

Para se solicitar à autoridade pública algo que tenha amparo legal, tal como auxílio doença, ajuda de custo, férias e salário família, qual documento deve ser utilizado?

- A) Ata.
- B) Telegrama.
- C) Procuração.
- D) Requerimento.
- E) Carta comercial.

23

Ao redigir uma Circular, todas as partes são obrigatórias, ou seja, devem constar do corpo do documento, exceto uma, que é opcional. Assinale-a.

- A) Data.
- B) Texto.
- C) Timbre.
- D) Invocação.
- E) Título e número.

**24**

“Na redação administrativa, é preciso pautar-se em regras que facilitam a elaboração de documentos e fazem com que a mensagem que queremos transmitir seja redigida de forma clara. Entre estas regras está o(a) \_\_\_\_\_, que consiste em evitar digressões inúteis, palavras supérfluas, adjetivação desmedida e períodos extensos e emaranhados.” Assinale a alternativa que completa corretamente a afirmativa anterior.

- A) concisão                      B) pleonasma                      C) preciosismo                      D) ambiguidade                      E) estrangeirismo

**25**

Todo arquivo precisa ser organizado de forma que proporcione condições de segurança, precisão, simplicidade, flexibilidade e acesso. Chama-se de “equipamento” o móvel utilizado para arquivamento de documentos. Em relação ao equipamento vertical, marque V para as afirmativas verdadeiras e F para as falsas.

- ( ) A iluminação é direta.  
 ( ) Há a necessidade de retirar o documento para fazer anotações.  
 ( ) Proporciona fácil manuseio.  
 ( ) Ocupa muito espaço, se comparado a um equipamento horizontal.  
 ( ) Permite pouca visibilidade do documento dentro do arquivo.

A sequência está correta em

- A) F, V, F, F, V                      B) V, V, F, V, F                      C) V, F, V, F, F                      D) F, V, V, F, V                      E) V, F, F, V, F

**26**

O *Microsoft Word* é um poderoso editor de textos que possui várias funções que auxiliam os usuários de um computador. Na elaboração de um texto é comum utilizar funções que deixam o texto com um *layout* melhor definido. A figura apresenta a seleção para “justificar” um texto (ou parágrafo, por exemplo), após selecionar as seguintes teclas



- A) CTRL + Q.                      B) CTRL + J.                      C) CTRL + E.                      D) CTRL + G.                      E) CTRL + S.

**27**

Observe a planilha do Excel 2010.

	A	B	C	D
1	125	234	221	234
2	137	145	201	124
3	145	154	209	167
4	125	122	211	145

Para selecionar apenas as células A1, B2, C3 e D4, qual a sequência de comandos deverá ser utilizada?

- A) Selecionar a célula A1, depois as células B2, C3 e D4.  
 B) Selecionar A1, pressionar a tecla ALT, manter a tecla ALT pressionada e selecionar, em seguida, as células B2, C3 e D4.  
 C) Selecionar A1, pressionar a tecla CTRL, manter a tecla CTRL pressionada e selecionar, em seguida, as células B2, C3 e D4.  
 D) Selecionar A1, pressionar a tecla SHIFT, manter a tecla SHIFT pressionada e selecionar, em seguida, as células B2, C3 e D4.  
 E) Selecionar A1, pressionar a tecla CTRL + SHIFT, manter as teclas CTRL + SHIFT pressionadas e selecionar, em seguida, as células B2, C3 e D4.

**28**

“O *Excel 2007* oferece suporte para vários tipos de gráficos com a finalidade de exibir dados da maneira mais significativa possível. Os gráficos do tipo \_\_\_\_\_ são úteis para mostrar as alterações de dados em um período de tempo ou para ilustrar comparações entre itens.” Assinale a alternativa que completa corretamente a afirmativa anterior.

- A) Coluna                      B) Pizza                      C) Área                      D) Dispersão                      E) Rosca



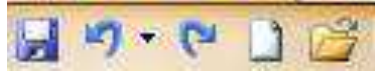
**29**

Pode-se definir um atalho como sendo um caminho mais rápido para se chegar a um determinado lugar. Em computação, utiliza-se o atalho para acionar um comando mais rapidamente, evitando todos os caminhos necessários para se chegar ao comando a ser utilizado. Dentre os atalhos mais utilizados estão: Recortar, Copiar e Colar. Organizados nessa ordem, quais são os atalhos que correspondem, exatamente, a essa sequência?

- A) CTRL + X / CTRL + C / CTRL + V  
B) CTRL + Z / CTRL + X / CTRL + Y  
C) CTRL + Y / CTRL + V / CTRL + C  
D) CTRL + C / CTRL + Z / CTRL + S  
E) CTRL + V / CTRL + X / CTRL + C

**30**

A barra de inicialização rápida no *Microsoft Office 2010* possui comandos executados com frequência na edição de um documento. Assinale a alternativa correta, acerca dos nomes dos comandos apresentados sequencialmente na figura.



- A) Salvar / Desfazer (comando) / Repetir (comando) / Novo Documento / Abrir  
B) Salvar como / Desfazer (comando) / Repetir (comando) / Abrir Novo documento / Abrir Arquivo  
C) Salvar Como / Repetir (comando) / Desfazer (comando) / Abrir Documento / Abrir Novo Documento  
D) Abrir Arquivo em Disquete / Desfazer (comando) / Repetir (comando) / Abrir Documento Novo / Abrir Arquivo  
E) Abrir Arquivo em Disquete / Repetir (comando) / Desfazer (comando) / Abrir Documento / Abrir Novo Documento

### **CONHECIMENTOS GERAIS**

**Leia o trecho para responder às questões de 31 a 33.**

A reeleição do atual presidente dos Estados Unidos, o democrata *Barack Obama*, foi destaque na imprensa mundial. Os sites dos principais jornais e televisões do mundo trazem nesta quarta-feira (07/11/2012) o resultado das eleições americanas como manchete. Nos Estados Unidos, o “*New York Times*” chamou a noite de terça-feira de “noite de Obama”, destacando a margem apertada da vitória de Obama no voto popular. O “*Washington Post*” anunciou “um segundo mandato”, assim como o “*Wall Street Journal*”, e o “*USA Today*” disse que Obama “fez história outra vez”. No Reino Unido, a recepção da vitória de Obama foi menos entusiasmada. O “*Financial Times*” falava sobre a festa dos democratas nas ruas americanas e o “*Guardian*” falava sobre o discurso de vitória de *Barack Obama*, que prometeu que “o melhor ainda está por vir”.  
(Folha online – [www.folha.uol.com.br](http://www.folha.uol.com.br) – 07/11/2012.)

**31**

**Sobre o processo eleitoral mencionado no texto é correto afirmar que**

- A) as prévias acontecem em cada estado, quando apenas os delegados escolhem o candidato de sua preferência para representar o partido nas eleições.  
B) cada estado tem 50 delegados que votam nas convenções para a escolha dos pré-candidatos à presidência dos EUA que, em seguida, vão à votação popular.  
C) como no Brasil, as eleições norte-americanas são realizadas de forma digital e os eleitores devem obrigatoriamente apresentar-se nas sessões para votação.  
D) os EUA, berço da democracia mundial, realizam eleições diretas de quatro em quatro anos para prefeitos, deputados, governadores, senadores e presidente.  
E) nas eleições presidenciais nos EUA são os delegados, orientados pelo voto da maioria da população de seu Estado de origem, que elegem o presidente.

**32**

**Para se reeleger presidente dos EUA, Barack Obama protagonizou uma disputa acirrada com o republicano Mitt Romney. Há quatro anos, para se eleger, o democrata derrotou o(a) republicano(a)**

- A) *George W. Bush*.  
B) *Hillary Clinton*.  
C) *John McCain*.  
D) *Rudolph Giuliani*.  
E) *Sarah Palin*.

**33**

**Qual foi a posição do governo brasileiro no que diz respeito às eleições mencionadas no texto?**

- A) Agiu com indiferença ao processo, não se manifestando após o resultado, por considerá-lo injusto.
- B) Apoiou publicamente Obama por considerar suas propostas mais adequadas à política externa brasileira.
- C) Manteve uma postura discreta durante o processo eleitoral, manifestando-se satisfatoriamente a reeleição.
- D) Participou ativamente a favor do candidato reeleito por acreditar que sua vitória traria benefícios para o Brasil.
- E) Posicionou-se a favor de *Romney* por fazer oposição às políticas bélicas e protecionistas do atual governo norte-americano.

**34**

**Uma das maiores atrações de entretenimento da televisão brasileira, as telenovelas, muitas vezes, mesclam ficção e realidade, trazendo à tona momentos importantes da história do Brasil, como vem ocorrendo na produção da TV Globo denominada “Lado a Lado”. Incluído no enredo desta novela de época está o movimento conhecido como “Revolta da Chibata” ocorrido no Rio de Janeiro, no início do século XX, quando**

- A) educadores das principais cidades do Brasil, no início do século XX, manifestaram-se contra o uso da chibata nas escolas.
- B) escravos se revoltaram nas fazendas de Minas Gerais e São Paulo, tomaram as casas grandes, exigindo melhores condições de vida.
- C) integrantes do Exército, Marinha e Aeronáutica realizaram a primeira grande greve do Brasil reivindicando melhores salários.
- D) liderados por um negro, João Cândido, os marinheiros reivindicavam o fim dos castigos físicos e melhores condições no trabalho.
- E) negros alforriados tomaram o centro da capital federal, Rio de Janeiro, contra os maus tratos que foram submetidos após a escravidão.

**35**

**“O Brasil dá início a uma série de grandes eventos internacionais esportivos que culminam nas Olimpíadas de 2016, realizadas no Rio de Janeiro. Este ano, já acontece o primeiro destes eventos internacionais que terá sua abertura em junho na capital federal e a partida de encerramento no estádio do Maracanã, no Rio de Janeiro. As sedes serão em Belo Horizonte, Fortaleza, Brasília, Rio de Janeiro, Salvador e Recife.” Trata-se da**

- A) Copa América.
- B) Paraolimpíadas.
- C) Copa das Confederações.
- D) Copa do Mundo de Futebol.
- E) Liga dos Campeões da UEFA.

**Leia o trecho para responder às questões de 36 a 38.**

A corrida pela descoberta de exoplanetas está rendendo frutos. Tecnologias cada vez mais avançadas e um número crescente de cientistas engajados nesse campo da astronomia têm contribuído para o aumento de candidatos à “vida extraterrestre”. O mais novo da lista é o HD 40307 g, localizado na constelação de Pictor, a insignificantes 44 anos-luz da Terra. Nem as ressalvas mais céticas conseguiram ofuscar o entusiasmo com que a descoberta foi anunciada pelo grupo de pesquisadores europeus do RoPACS (Planetas Rochosos ao Redor de Estrelas Frias, na sigla em inglês), responsáveis pelo estudo. *(Revista ISTOÉ – Edição nº 2244, 14/11/2012, p. 23.)*

**36**

**A euforia com a descoberta deste planeta se dá pela**

- A) indicação de existir seres vivos.
- B) comprovada existência de água.
- C) homogenia de tamanho com a Terra.
- D) semelhança de condições com a Terra.
- E) rotação em torno de estrela idêntica ao Sol.

**37**

**O conjunto de corpos celestes que giram em torno do Sol, sob a influência de sua força gravitacional, passou por uma mudança em agosto de 2006, quando uma reclassificação reconheceu apenas oito planetas. Passou a ser considerado planeta-anão**

- A) Júpiter.
- B) Marte.
- C) Mercúrio.
- D) Plutão.
- E) Saturno.



**38**

**Sobre a localização da Terra no universo é correto afirmar que, EXCETO:**

- A) A Lua, satélite natural da Terra, é o quinto maior satélite do Sistema Solar.
- B) A Terra é um corpo que orbita uma estrela, incapaz de emitir luz própria.
- C) A Terra é um planeta do Sistema Solar que faz sua rota em torno da estrela Sol.
- D) Nosso planeta está próximo à Via Láctea, maior galáxia já descoberta no universo.
- E) Está localizada na Via Láctea, uma das milhões de galáxias existentes, como Andrômeda.

**39**

**“As duas maiores potências do planeta definiram, no final de 2012, a direção política para 2013. Enquanto os EUA reelegeram *Barack Obama* para presidente, o(a) \_\_\_\_\_ terá como presidente, a partir de março, \_\_\_\_\_ consagrado no 18º Congresso do Partido Comunista deste país.” Assinale a alternativa que completa correta e respectivamente a afirmativa anterior.**

- A) Alemanha / *Christian Wulff*
- B) China / *Xi Jinping*
- C) França / *François Hollande*
- D) Grã-Bretanha / *David Cameron*
- E) Japão / *Yoshihiko Noda*

**40**

**A Petrobras Biocombustível e o Ministério da Pesca firmaram uma parceria para intensificar os estudos para, a partir das vísceras, extrair o óleo de peixe. A ideia é que o subproduto do pescado passe a integrar o grupo de produtos que o Brasil transforma em *biodiesel*. Hoje, grande parte da produção de *biodiesel* no país vem da região Centro-Oeste, tendo como matéria-prima o(a)**

- A) soja.
- B) algodão.
- C) girassol.
- D) mamona.
- E) sebo bovino.

**PROVA DISCURSIVA**

**ORIENTAÇÕES GERAIS**

- A Prova Discursiva é de caráter eliminatório e classificatório, constituída de uma redação.
- Para a redação da Prova Discursiva, o candidato deverá formular texto com extensão máxima de 30 (trinta) linhas, em que conste resposta concisa, atendo-se ao tema proposto.
- A Prova Discursiva deverá ser manuscrita, em letra legível, com caneta esferográfica de corpo transparente e de tinta azul ou preta, não sendo permitida a interferência e/ou a participação de outras pessoas, salvo em caso de candidato inscrito na condição de pessoa com deficiência que o impossibilite de redigir textos, como também no caso de candidato que solicitou atendimento especial para este fim, nos termos do Edital nº 001/2012. Nesse caso, o candidato será acompanhado por um fiscal do IDECAN devidamente treinado, para o qual deverá ditar o texto, especificando oralmente a grafia das palavras e os sinais gráficos de pontuação.
- O candidato receberá nota zero na Prova Discursiva em casos de fuga ao tema, de não haver texto, de manuscruver em letra ilegível ou grafar por outro meio que não o determinado no item anterior, bem como no caso de identificação em local indevido.
- Será desconsiderado, para efeito de avaliação, qualquer fragmento de texto que for escrito fora do local apropriado ou que ultrapassar a extensão máxima permitida.
- A Prova Discursiva terá o valor de 40 (quarenta) pontos. Para efeito de avaliação serão considerados os seguintes elementos:

ELEMENTOS DE AVALIAÇÃO DA PROVA DISCURSIVA (REDAÇÃO)		
Critérios	Elementos da Avaliação	Total de pontos por critério
Aspectos Formais e Aspectos Textuais	Observância das normas de ortografia, pontuação, concordância, regência e flexão, paragrafação, estruturação de períodos, coerência e lógica na exposição das ideias.	25 pontos
Aspectos Técnicos	Pertinência da exposição relativa ao tema, à ordem do desenvolvimento e conteúdo programático propostos.	15 pontos
<b>TOTAL DE PONTOS</b>		<b>40 pontos</b>

**Texto I**

Na contemporaneidade, o fenômeno da violência parece cada vez mais assolar a existência do ser humano, pois alcança progressivamente proporções maiores em todo o mundo, afetando as diferentes culturas, religiões e classes sociais, assumindo um papel de destaque nas estatísticas de morbimortalidade. A violência pode ser compreendida como um fenômeno construído socialmente e influenciado pelas transformações políticas, sociais, educacionais e culturais. Compreende-se, contudo, que a violência tem suas raízes na estrutura e no modo de viver de cada sociedade, por isso ganha novas formas e conotações em cada momento da história.

Apesar de atos violentos serem praticados desde os primórdios da humanidade, somente no século XX foram identificados como obstáculo para a saúde das crianças e adolescentes, passando a chamar a atenção da sociedade. Entende-se, portanto, que a violência que acomete essa faixa etária é atravessada por relações de poder, historicamente construídas e que se perpetuam no contexto atual.

*(Zanatta E.A., Pal D.D., Resta D.G., Argenta C., Motta M.G.C. Caracterização das notificações de violência contra adolescentes. Revista Oficial do Conselho Federal de Enfermagem. Vol. 3, nº 4. Novembro/2012.)*

**Texto II**

**Crescer sem violência**

A violência contra crianças e adolescentes se manifesta em todos os lugares. Pode ser na comunidade onde moram, na escola, nas instituições sócio-educativas e na família.

Para dar uma resposta positiva ao problema, há que se considerar uma faceta cruel dessas agressões: a invisibilidade. Muitos dos casos de violência, seja ela física, sexual ou psicológica, não são notificados e, muito menos, investigados. A vulnerabilidade é ainda maior quando se fala em pessoas com deficiência, negros, adolescentes em conflito com a lei, moradores de rua e de meninas e meninos que vivem em comunidades populares dos grandes centros urbanos.

As prioridades do UNICEF no enfrentamento da violência contra crianças e adolescentes são:

- combater o abuso físico e sexual de crianças em casa;
- prevenir a violência contra adolescentes, em especial, homicídios e exploração sexual, considerando as questões de raça e gênero;
- promover reformas na justiça juvenil e nas políticas e práticas de proteção à criança, com finalidade de reduzir a institucionalização e a violência contra a infância e a adolescência.

(Disponível em: <[http://www.unicef.org/brazil/pt/activities\\_9410.htm](http://www.unicef.org/brazil/pt/activities_9410.htm)>.)

Texto III



(Disponível em: <<http://blog.opovo.com.br/propares/abuso-e-violencia-sexual-contracrianca-e-adolescente-denuncie-faca-a-sua-parte-ajude-a-mudar-essa-realidade/18-de-maio-exploracao-sexual-da-pena/>>.)

De acordo com documento do Ministério da Saúde – Violência contra a criança e o adolescente: proposta preliminar de prevenção e assistência à violência doméstica (Brasília: MS, SASA, 1997), a violência que atinge crianças e adolescentes tem tamanha importância que “mobiliza todos os setores da sociedade, sendo reconhecida como problema de saúde pública”. Considerando os textos anteriores como motivadores, redija um texto dissertativo-argumentativo a respeito do seguinte tema:

**“O papel da sociedade na proteção de crianças e adolescentes.”**

REDAÇÃO

01	
02	
03	
04	
05	
06	
07	
08	
09	
10	
11	
12	
13	
14	
15	
16	
17	
18	
19	
20	
21	
22	
23	
24	
25	
26	
27	
28	
29	
30	

RASCUNHO









## INSTRUÇÕES

1. Material a ser utilizado: caneta esferográfica de tinta azul ou preta. Os objetos restantes devem ser colocados em local indicado pelo fiscal da sala, inclusive aparelho celular desligado e devidamente identificado.
2. Não é permitida, durante a realização das provas, a utilização de máquinas calculadoras e/ou similares, livros, anotações, impressos ou qualquer outro material de consulta, protetor auricular, lápis, borracha, corretivo. Especificamente, não é permitido que o candidato ingresse na sala de provas sem o devido recolhimento, com respectiva identificação, dos seguintes equipamentos: bip, telefone celular, agenda eletrônica, *notebook*, *palmtop*, receptor, gravador, máquina fotográfica, controle de alarme de carro, relógio digital, etc.
3. Durante a prova, o candidato não deve levantar-se, comunicar-se com outros candidatos e nem fumar.
4. A duração da prova é de 03 (três) horas, já incluindo o tempo destinado à entrega do Caderno de Provas e à identificação – que será feita no decorrer da prova – e ao preenchimento do Cartão de Respostas (Gabarito) e Folha de Resposta (Prova Discursiva).
5. Somente em caso de urgência pedir ao fiscal para ir ao sanitário, devendo no percurso permanecer absolutamente calado, podendo antes e depois da entrada sofrer revista através de detector de metais. Ao sair da sala no término da prova, o candidato não poderá utilizar o sanitário. Caso ocorra uma emergência, o fiscal deverá ser comunicado.
6. O Caderno de Provas consta de 40 (quarenta) questões de múltipla escolha. Leia-o atentamente.
7. Serão aplicadas provas escritas discursivas para todos os cargos constituída de 1 (uma) redação.
8. **As questões das provas objetivas são do tipo múltipla escolha, com 05 (cinco) alternativas (A a E) e uma única resposta correta.**
9. Ao receber o material de realização das provas, o candidato deverá conferir atentamente se o Caderno de Provas corresponde ao cargo a que está concorrendo, bem como se os dados constantes no Cartão de Respostas (Gabarito) e Folha de Resposta (Prova Discursiva) que lhe foi fornecido, estão corretos. Caso os dados estejam incorretos, ou o material esteja incompleto ou tenha qualquer imperfeição, o candidato deverá informar tal ocorrência ao fiscal.
10. Os fiscais não estão autorizados a emitir opinião e prestar esclarecimentos sobre o conteúdo das provas. Cabe única e exclusivamente ao candidato interpretar e decidir.
11. O candidato poderá retirar-se do local de provas somente a partir dos 90 (noventa) minutos após o início de sua realização, contudo não poderá levar consigo o Caderno de Provas, sendo permitida essa conduta apenas no decurso dos últimos 30 (trinta) minutos anteriores ao horário previsto para o seu término.
12. Os 3 (três) últimos candidatos de cada sala somente poderão sair juntos. Caso o candidato insista em sair do local de aplicação das provas, deverá assinar um termo desistindo do Concurso Público e, caso se negue, deverá ser lavrado Termo de Ocorrência, testemunhado pelos 2 (dois) outros candidatos, pelo fiscal da sala e pelo coordenador da unidade.

## RESULTADOS E RECURSOS

- As provas aplicadas, assim como os gabaritos preliminares das provas objetivas serão divulgados na Internet, no site [www.idecan.org.br](http://www.idecan.org.br), às **15h00min do dia útil subsequente ao da realização da prova escrita.**

- O candidato que desejar interpor recursos contra os gabaritos oficiais preliminares das provas objetivas disporá de **02 (dois) dias úteis**, a contar do dia subsequente à divulgação, em requerimento próprio disponibilizado no *link* correlato ao Concurso Público no site [www.idecan.org.br](http://www.idecan.org.br).

- A interposição de recursos poderá ser feita **somente via Internet**, através do **Sistema Eletrônico de Interposição de Recursos**, com acesso pelo candidato ao fornecer dados referentes à sua inscrição apenas no prazo recursal, ao **IDECAN**, conforme disposições contidas no site [www.idecan.org.br](http://www.idecan.org.br), no *link* correspondente ao Concurso Público.