

ESTADO DO RIO GRANDE DO NORTE  
PREFEITURA MUNICIPAL DE SÃO MIGUEL

# CONCURSO PÚBLICO

PROVA PARA CARGO DE:

## Agente de Fiscalização Ambiental e Sanitária

\* ATENÇÃO - CONFIRA SE ESTA PROVA CORRESPONDE AO CARGO QUE VOCÊ CONCORRE

\* Neste Caderno de Questões, você encontra:

- 20 questões ESPECÍFICAS
- 10 questões de Português
- 10 questões de Matemática

\* Só inicie a prova após a autorização do Fiscal de Sala.

\* Duração da prova: 3 horas. O Candidato só poderá retirar-se do recinto das provas após 01 hora, contada a partir do seu efetivo início.

\* O candidato só terá o direito de levar o caderno de prova após 02:00 horas do início dos trabalhos, e deixará apenas o Cartão de Respostas.

\* Caso o candidato opte em sair antes de 02:00 horas do início dos trabalhos; NÃO será permitido a anotação do gabarito seja qual for a forma.

\* Os Fiscais de Sala não estão autorizados a prestar quaisquer esclarecimentos sobre a resolução das questões; esta tarefa é obrigação do candidato.

\* Não é permitido que os candidatos se comuniquem entre si. É proibida também a utilização de quaisquer equipamentos eletrônicos.

\* O candidato receberá do Fiscal de Sala, 01 (hum) Cartão de Respostas correspondente às questões objetivas.

\* Assine o seu Cartão de Respostas (Gabarito). Assinale apenas uma opção em cada questão. Não deixe questão em branco, nem assinale mais de uma opção, para seu Cartão não ter questões anuladas.

\* O seu Cartão de Respostas é pessoal e insubstituível. Portanto, CUIDADO, não rasure, dobre ou amasse seu Cartão de Respostas pois em hipótese alguma ele será substituído, salvo por erro do fiscal ou por falha de impressão. Confira seus dados, leia as instruções para seu preenchimento e assinale no local indicado.

\* A assinatura no Cartão de Respostas é obrigatória.

\* O Gabarito desta prova estará disponível no dia 16/12/2013, no site [www.conpass.com.br](http://www.conpass.com.br).

\* Para exercer o direito de recorrer contra qualquer questão, o candidato deve seguir as orientações constantes da Cláusula XI do Edital do Concurso Público nº 001/2013 da PREFEITURA MUNICIPAL DE SÃO MIGUEL de 02/10/2013.

\* Após o término da prova, o candidato deverá deixar a sala e em hipótese alguma poderá permanecer no estabelecimento onde realizou a mesma.

**BOA PROVA!!**

**DATA: 15 DE DEZEMBRO DE 2013**

**CONPASS**

Concursos Públicos  
e Assessorias

## **PARTE I – AG.DE FISCALIZAÇÃO AMBIENTAL E SANITÁRIA**

01 - Historicamente importantes atos foram fundamentais na trajetória das conquistas dos trabalhadores para a saúde pública do Brasil. A Lei que cria as Caixas de Aposentadorias e Pensões conferiu estatuto legal a iniciativas já existentes de organização dos trabalhadores por fábricas, visando garantir pensão em caso de algum acidente ou afastamento do trabalho por doença, e uma futura aposentadoria. Como ficou conhecida esta Lei?

- A) Lei de Caixas
- B) Lei Oswaldo Cruz
- C) Lei Maior
- D) Lei Eloy Chaves
- E) Lei do Estado

02 - O Movimento da Reforma Sanitária lançou novas bases do Sistema Único de Saúde e representou um conjunto de ideias que se tinha em relação às mudanças e transformações necessárias na área da saúde. Quem foi o grande articulador dessa reforma?

- A) Ulisses Guimarães
- B) Sérgio Arouca
- C) Tancredo Neves
- D) Fernando Henrique Cardoso
- E) José Serra

03 - A Lei 8.080/90, conhecida como Lei Orgânica da Saúde dispõe sobre as condições para a promoção, proteção e recuperação da saúde, a organização e o funcionamento dos serviços correspondentes e dá outras providências. De acordo com essa lei assinale a alternativa em que todas as ações estão incluídas no campo de atuação do Sistema Único de Saúde:

- A) Vigilância sanitária; administração e controle de lojas de vestuário; saúde do trabalhador.
- B) Regulação de planos de saúde; vigilância sanitária; vigilância epidemiológica; repasse de recursos para as escolas municipais.
- C) Fiscalização de frequências dos trabalhadores de escolas; saúde do trabalhador; assistência terapêutica integral, inclusive farmacêutica.
- D) Vigilância sanitária; arrecadação de impostos municipais referentes à saúde, vigilância epidemiológica; saúde do trabalhador; assistência terapêutica integral, inclusive farmacêutica.
- E) Vigilância sanitária; vigilância epidemiológica; saúde do trabalhador; assistência terapêutica integral, inclusive farmacêutica.

04 - A Lei 8.142/90 regulamenta as instâncias colegiadas, que são responsáveis pelo controle social do Sistema Único de Saúde. Assinale a alternativa que se refere a essas instâncias colegiadas:

- A) Conferências e Conselhos de Saúde
- B) Câmara dos Vereadores e Conselhos de Saúde
- C) Prefeitura e Câmara dos Vereadores
- D) Conselhos de Saúde e Prefeituras
- E) Câmara dos Vereadores e Conferências de Saúde

05 - Ainda em relação à Lei 8080/90, no que se refere ao funcionamento dos Serviços Privados de Assistência à Saúde assinale a alternativa incorreta:

- A) A participação complementar dos serviços privados será formalizada mediante contrato ou convênio, excetuando-se o respeito às normas de direito público.
- B) Os serviços privados de assistência à saúde caracterizam-se pela atuação, por iniciativa própria, de profissionais liberais, legalmente habilitados, e de pessoas jurídicas e de direito privado na promoção, proteção e recuperação da saúde.
- C) A assistência à saúde é livre à iniciativa privada.
- D) Na prestação de serviços privados de assistência à saúde, serão observados os princípios éticos e as normas expedidas pelo órgão de direção do Sistema Único de Saúde, quanto às condições para seu funcionamento.
- E) É vedada a participação direta ou indireta de empresas ou de capitais estrangeiros na assistência à saúde, salvo através de doações de organismos internacionais vinculados à Organização das Nações Unidas, de entidades de cooperação técnica e de financiamento e empréstimos.

06 - Desde o início do processo de implantação do SUS, foram publicadas três Normas Operacionais Básicas, NOB/SUS 01/91, NOB/SUS 01/93 e NOB/SUS 01/96. Em 2001 foi publicada a primeira Norma Operacional da Assistência à Saúde, NOAS/SUS 01/01, que foi revista e publicada em 2002, a qual se encontra atualmente em vigor, que é a NOAS/SUS 01/02. Em qual das dessas Normas foram criadas as Comissões Intergestores.

- A) NOB/SUS 01/91
- B) NOB/SUS 01/96
- C) NOAS/SUS 01/01
- D) NOAS/SUS 01/02
- E) NOB/SUS 01/93

07 - A Constituição de 1988 diz em seu Artigo 1º, que a República Federativa do Brasil, formada pela união indissolúvel dos Estados e Municípios e do Distrito Federal, constitui-se em Estado Democrático de Direito e tem como fundamentos: a soberania; a cidadania; a dignidade da pessoa humana; os valores sociais do trabalho e da livre iniciativa; o pluralismo político. Qual dos artigos dessa Constituição refere que a assistência à saúde é livre à iniciativa privada?

- A) Artigo 196
- B) Artigo 199
- C) Artigo 200
- D) Artigo 197
- E) Artigo 198

08 - Qual das alternativas a seguir está relacionada à Malária?

- A) Flebótomo
- B) *Aedes aegypti*
- C) *Anopheles*
- D) *Culex*
- E) *Stegomyia*

09 - O Pacto pela Saúde é um conjunto de reformas nas relações institucionais e fortalecimento da gestão do SUS. O Pacto introduziu mudanças nas relações entre os entes federados, inclusive nos mecanismos de financiamento, significando, portanto, um esforço de atualização e aprimoramento do SUS. Para a adesão dos gestores ao Pacto, é assinado um termo de compromisso, onde se estabelecem compromissos entre os gestores em três dimensões, que são:

- A) Pacto Municipal, Pacto Estadual e Pacto Federal.
- B) Pacto pela Educação, Pacto de Combate a Fome e Pacto de Organização.
- C) Pacto pela Vida, Pacto pela Atenção Básica e Pacto de Geração de Empregos.
- D) Pacto pela Vida, Pacto em Defesa do SUS e Pacto de Gestão.
- E) Pacto pelos Idosos, Pacto pela Mulher e Pacto de Limitação.

10 - É fundamental nos serviços de saúde, a utilização correta do material para punção venosa, visando a segurança do profissional e do paciente e o controle de gastos. Dessa forma qual das alternativas não se refere a material necessário para realização de punção venosa periférica em adultos:

- A) Algodão
- B) Álcool
- C) Jelco
- D) Esparadrapo
- E) Luvas estéreis

11 - As indicações corretas para a realização de certos procedimentos são fundamentais para o controle de dispensação de material em unidades de saúde, visando evitar o desperdício. Dessa forma, assinale a alternativa onde o material utilizado está errado em relação à sua indicação:

- A) Sonda de Nutrição Enteral (SNE) – para drenagem de secreção gástrica.
- B) Jelco - para punção venosa periférica.
- C) Esparadrapo – para fixação de acesso venoso periférico.
- D) Coletor de urina sistema fechado para sonda vesical de demora.
- E) Máscara facial - para realização de aspiração orotraqueal.

12 - Os indicadores de saúde são importantes instrumentos para a tomada de decisões dos gestores da saúde. Assinale a alternativa que relaciona corretamente o domínio ao indicador:

- A) Indicador de Mortalidade – Taxa de trabalho infantil
- B) Indicador Demográfico – Razão de sexo
- C) Indicador Socioeconômico – Taxa bruta de natalidade
- D) Indicador de Cobertura – Incidência de difteria
- E) Indicador de Morbidade – Proporção de internações hospitalares (SUS)

13 - Qual dos medicamentos a seguir não faz parte do esquema básico de tratamento da tuberculose para adultos e adolescentes?

- A) Clofazimina
- B) Rifampicina
- C) Etambutol
- D) Isoniazida
- E) Pirazinamida

14 - Qual das seguintes doenças pode atingir a pele e os nervos periféricos e é curável?

- A) Lúpus
- B) Hepatite
- C) Leishmaniose visceral
- D) Hanseníase
- E) Carbúnculo

15 - É uma das consequências da infecção humana produzida pelo protozoário flagelado *Trypanosoma cruzi*. Na ocorrência da doença, observam-se duas fases clínicas: uma aguda, que pode ou não ser identificada, podendo evoluir para uma fase crônica. A qual doença o texto se refere?

- A) Tuberculose
- B) Sífilis
- C) Doença de Chagas
- D) Esquistossomose
- E) Toxoplasmose

16 - De acordo com o Calendário Nacional de Vacinação, qual dos seguintes componentes não faz parte da Vacina Pentavalente?

- A) Difteria
- B) Tétano
- C) Hepatite b
- D) Haemophilus influenzae
- E) Varicela

17 - As gestantes devem realizar regularmente as consultas de pré-natal. Em relação às vacinas, quantas são as doses a serem orientadas às gestantes que nunca fizeram a vacina contra o tétano?

- A) 2 doses da vacina dupla adulto
- B) 1 dose da vacina dupla adulto
- C) 4 doses da vacina dupla adulto
- D) 3 doses da vacina dupla adulto
- E) 5 doses da vacina dupla adulto

18 - De acordo com o Ministério da Saúde, em situação de campanha, qual a faixa etária a ser vacinada contra a Poliomielite?

- A) Crianças de 2 meses a menores de 5 anos
- B) Crianças de 4 meses a menores de 5 anos
- C) Crianças de 12 meses a menores de 6 anos
- D) Crianças de 6 meses a menores de 6 anos
- E) Crianças de 6 meses a menores de 5 anos

19 - A Secretaria de Vigilância em Saúde gerencia os sistemas de informação para uso em epidemiologia, reunindo, organizando, analisando e divulgando informações epidemiológicas de interesse do país e da relação com países vizinhos. Qual das seguintes siglas não se refere a um sistema de informação da saúde?

- A) SINDACTA
- B) SIM
- C) SINASC
- D) SINAN
- E) SIAB

20 - A ISO 9001 é utilizada atualmente por mais de 750 mil organizações em 161 países, e define o padrão não só para sistemas de gestão da qualidade, mas para sistemas de gestão em geral. Qual das alternativas representa corretamente a série de ISO 9001?

- A) 9001, 9002, 9003.
- B) 9004, 9005, 9006.
- C) 9000, 9001, 9004.
- D) 9000, 9001, 9002.
- E) 9001, 9010, 9020.

## PARTE II – PORTUGUÊS

As questões 21 e 22 referem-se ao texto seguinte:

### **Nordestinos são vítimas de preconceito**

Muitos costumam desqualificar os nordestinos ao associar a migração para as grandes cidades, como São Paulo, à criminalidade. O certo é que a miséria estimula a violência, e a migração, em tempos de pouco emprego, é um ingrediente de degradação urbana.

Mas o preconceito de determinado tipo de paulistano contra os nordestinos existe e, assim como o preconceito racial, não é discutido nem assumido. Não são poucos os que **veem** os migrantes (assim como eram vistos os imigrantes) não como gente disposta a prosperar e trabalhar, mas estorvos que geram pobreza e mesmo violência. Crianças paulistanas acostumam-se a ouvir o substantivo **baiano** transformado em adjetivo genérico e negativo para designar os nordestinos.

Há um indício claro desse preconceito, graças em larga medida ao próprio Poder Público. São Paulo é a maior cidade com presença nordestina no Brasil, mas até hoje (e quase ninguém nem sequer pensa no assunto) não se imaginou um museu para contar a história da presença dos nordestinos na cidade, ao contrário do que existe para italianos, espanhóis, portugueses e judeus.

Fala-se, e muito, na introdução nos currículos escolares da questão africana para estudar o negro. Justo, claro. Mas raras escolas estimulam seus professores a discutir com os alunos a questão nordestina. Quando ocorre, geralmente é pelo lado depreciativo, como a pobreza das migrações.

Gilberto Dimenstein

<http://www1.folha.uol.com.br/folha/Dimenstein/Gilberto/gd110203.htm>. Adaptado.  
Acessado em 13/09/2011.

21 - Nesse texto, o autor defende uma opinião muito importante para destruir o preconceito que vitima muitos nordestinos em cidades grandes como São Paulo. Para ele:

- A) A imigração dos nordestinos para as grandes cidades é a causa da criminalidade.
- B) Os nordestinos são pessoas violentas.
- C) A imigração gera violência, pois diminui a quantidade de empregos nas grandes cidades.
- D) O desemprego gerado pela imigração de nordestinos para São Paulo aumenta a criminalidade.
- E) A imigração não provoca necessariamente o aumento da criminalidade.

22 - Os vocábulos ASSOCIAR (linha 2), ESTIMULA (linha 3) e GERAM (linha 11) existentes no texto podem ser substituídos, respectivamente, sem alteração semântica por:

- A) dissociar – incita – acarretam
- B) vincular – induz – acarretam
- C) relacionar – diminui – provocam
- D) vincular – incita – eliminam
- E) relacionar – induz – eliminam

23 - “Fidélíssimo” é o adjetivo “fiel” flexionado no grau:

- A) superlativo absoluto relativo.
- B) superlativo relativo de superioridade.
- C) superlativo absoluto sintético.
- D) comparativo de igualdade.
- E) comparativo de superioridade.

As questões 24 e 25 referem-se ao anúncio seguinte:



24 - Das afirmações seguintes:

- I. De uma forma irônica a placa alerta sobre o perigo de dirigir após a ingestão de bebida alcoólica.
- II. A intenção do anunciante ao publicar o anúncio foi provavelmente de sensibilizar as pessoas por meio de um apelo chocante.
- III. “Bebeu e está dirigindo?” é um período composto por coordenação.

- A) Apenas I e II estão corretas.
- B) Apenas II e III estão corretas.
- C) Apenas I e III estão corretas.
- D) Todas estão corretas.
- E) Apenas I está correta.

25 - Das afirmações seguintes:

I. “Se o carro pegar fogo” é oração subordinada adverbial causal.

II. Na frase “Bebeu e está dirigindo?”, a conjunção E tem valor semântico adversativo.

III. “Vai ser cremado” é oração principal do segundo período composto.

- A) Estão corretos apenas os itens I e II.
- B) Estão corretos apenas os itens I e III.
- C) Todos estão corretos.
- D) Apenas o item III está correto.
- E) Estão corretos apenas os itens II e III.

26 - O acento indicador de crase foi corretamente usado em todas as frases seguintes, exceto em:

- A) Dirigiu-se à Pedro com tom assustador.
- B) Voltarei à Espanha ainda este ano.
- C) Regressaremos às quinze horas ao consultório.
- D) O país cresce à medida que trabalhamos.
- E) Preparou para o almoço bifes à milanesa.

27 - Na frase “O vento esperto da manhã refrescou-as”, o vocábulo destacado assume a função sintática de:

- A) objeto indireto
- B) complemento nominal
- C) agente da passiva
- D) objeto direto
- E) aposto

28 - Das orações seguintes, identifique a que apresenta sujeito indeterminado:

- A) Estou apreensivo com o resultado da prova.
- B) Há bons cinemas neste shopping.
- C) Ventava forte naquela noite.
- D) Os amáveis anfitriões vão servir camarão.
- E) Aqui se fica bem instalado.

29 - A concordância nominal está incorreta em:

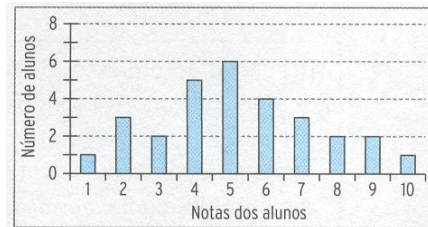
- A) A recepcionista resolveu mesmo nosso problema.
- B) Esse contrato oferece menos garantia.
- C) Esta blusa me saiu barata.
- D) Nova escola e professores terei este ano.
- E) A caminhada pela manhã é boa.

30 - Em que opção se empregou incorretamente a preposição?

- A) Todos somos passíveis em mudança.
- B) O avô era bastante generoso com seus netos.
- C) A distância provocou saudades de sua família.
- D) Provou-nos seu gosto em relação à música.
- E) Seu comportamento tornou-se um empecilho a sua reeleição.

### PARTE III - MATEMÁTICA

31 - As notas de um teste aplicado a um grupo de alunos estão descritos no gráfico a seguir

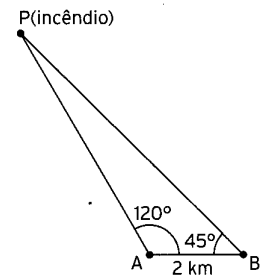


Com base nesse gráfico, qual é a probabilidade de um aluno escolhido ao acaso ter obtido uma nota superior a 6?

- A)  $\frac{10}{29}$
- B)  $\frac{8}{29}$
- C)  $\frac{12}{29}$
- D)  $\frac{7}{29}$
- E)  $\frac{11}{29}$

32 - De um posto de observação em um ponto A, um guarda florestal avista um foco de incêndio na posição P. Dessa posição ele se comunica com outro ponto de observação a 2 km dali na posição B. Qual é a distância de A ao incêndio em P, sabendo que o ângulo  $\hat{BAP}$  mede  $120^\circ$  e o ângulo  $\hat{ABP}$  mede  $45^\circ$ ?


Dados:
$\text{seno } 45^\circ = 0,71$
$\text{seno } 15^\circ = 0,26$
$\text{seno } 120^\circ = 0,87$



- A) 1,63 km
- B) 6,69 km
- C) 4,36 km
- D) 5,46 km
- E) 6,56 km



33 - Duas crianças e dois adultos viajarão de ônibus ocupando as poltronas numeradas de 1 a 4, com 1 e 2 juntas e 3 e 4 juntas, como no esquema.



De quantas maneiras eles podem se sentar nas quatro poltronas, de modo que ao lado de uma criança sempre esteja um adulto?

- A) 16 modos
- B) 32 modos
- C) 8 modos
- D) 64 modos
- E) Nenhuma alternativa anterior

34 - Em uma indústria,  $\frac{1}{3}$  dos trabalhadores tem idade inferior a 30 anos,  $\frac{1}{4}$  tem entre 30 e 40 anos, e 40 funcionários tem 40 anos ou mais. Quantas pessoas trabalham nessa indústria?

- A) Menos que 100 e mais que 80 pessoas.
- B) Mais de 60 e menos que 80 pessoas.
- C) Menos que 120 e mais que 100 pessoas.
- D) Mais de 30 e menos que 60 pessoas.
- E) Mais de 120 e menos que 150 pessoas.

35 - Patrícia aplicou R\$ 800,00, a juros simples, a uma taxa de 2,5% ao mês e, ao final de um certo tempo, recebeu R\$ 1080,00. Quanto tempo ela deixou o dinheiro aplicado a essa taxa?

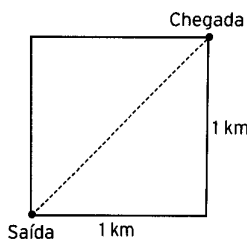
- A) 1 ano
- B) 18 meses
- C) 15 meses
- D) 14 meses
- E) 24 meses

36 - A importadora “Preço Baixo” importou uma caixa de vinho por R\$ 100,00. Retirou da caixa 4 garrafas e aumentou o preço da dúzia de garrafas em R\$ 10,00. Depois disso, colocou à venda a caixa com o restante das garrafas pelos mesmos R\$ 100,00. Quantas garrafas havia inicialmente na caixa?

- A) 20 garrafas
- B) 36 garrafas
- C) 24 garrafas
- D) 18 garrafas
- E) 40 garrafas

37 - Quanto tempo, aproximadamente, economizará uma pessoa que caminha 1 km em 12 minutos se, em vez de contornar 2 lados de um parque quadrado com 1 km de lado, ela o atravessar pela diagonal? Considere  $\sqrt{2} \approx 1,41$

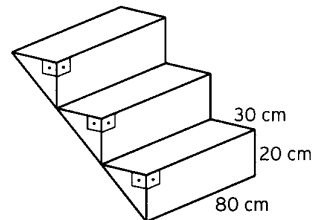
- A) 9 minutos
- B) 10 minutos
- C) 5 minutos
- D) 11 minutos
- E) 7 minutos



38 - O custo de transporte de uma certa carga por ferrovia é composto de uma unidade fixa de R\$ 100,00 mais R\$ 5,00 por quilômetro rodado. A mesma carga, transportada por rodovia, tem um custo fixo de R\$ 60,00 mais R\$ 6,00 por quilômetro rodado. Acima de quantos quilômetros rodados o custo do transporte por ferrovia é inferior ao custo por rodovia?

- A) Acima de 50 km
- B) Acima de 30 km
- C) Acima de 40 km
- D) Acima de 60 km
- E) Acima de 70 km

39 - Na figura estão representados três degraus iguais de uma escada de cimento. Cada degrau é um prisma triangular com as dimensões indicadas.



Se a escada tivesse 18 degraus, qual seria o volume, em litros, de cimento necessário para construí-la?

- A) 240
- B) 24000
- C) 2400
- D) 432
- E) 4320

40 - Dispomos de uma tela de arame com 28 metros de comprimento para cercar uma área retangular. Quais devem ser as medidas dos lados do retângulo para que a área cercada seja máxima?

- A) O retângulo deve ser um quadrado de lado 7 metros.
- B) O retângulo deve ter dimensões 2 m por 14 m.
- C) O retângulo deve ter dimensões 3 m por 11 m.
- D) O retângulo deve ter dimensões 2 m por 14 m.
- E) O retângulo deve ter dimensões 4 m por 10 m.