

CONCURSO PÚBLICO PARA CARGOS DE TÉCNICO-ADMINISTRATIVO EM EDUCAÇÃO

Edital N.º 76, de 08/10/2013



NÍVEL MÉDIO

Cargo:

Assistente de Aluno

CADERNO DE PROVA

Nome do candidato															

Número de inscrição						Assinatura do candidato					
					-						

INSTRUÇÕES

LEIA COM ATENÇÃO

1. Este Caderno de Prova, com páginas numeradas de 1 a 19, é constituído de **40 (quarenta)** questões objetivas, cada uma com **4 (quatro)** alternativas, assim distribuídas:
 - 01 a 10 – Língua Portuguesa
 - 11 a 20 – Matemática
 - 21 a 30 – Conhecimentos Gerais
 - 31 a 40 – Informática

2. Caso o Caderno de Prova esteja incompleto ou tenha qualquer defeito de impressão, solicite ao fiscal que o substitua.

3. **Sobre a Marcação do Cartão de Respostas**

As respostas deverão ser transcritas com caneta esferográfica de tinta azul ou preta não porosa para o Cartão de Respostas, que será o único documento válido para correção.

- 3.1. Para cada questão existe apenas uma alternativa que a responde acertadamente. Para a marcação da alternativa escolhida no **CARTÃO DE RESPOSTAS**, pinte **completamente** o círculo correspondente.

*Exemplo: Suponha que para determinada questão a alternativa **C** seja a escolhida.*

N.º da Questão
<input type="radio"/> A
<input type="radio"/> B
<input checked="" type="radio"/> C
<input type="radio"/> D

- 3.2. Marque apenas uma alternativa para cada questão.
 - 3.3. Será invalidada a questão em que houver mais de uma marcação, marcação rasurada ou emendada, ou não houver marcação.
 - 3.4. Não rasure nem amasse o **CARTÃO DE RESPOSTAS**.
4. Todos os espaços em branco, neste caderno, podem ser utilizados para rascunho.
 5. A duração da prova é **4 (quatro)** horas, já incluído o tempo destinado ao preenchimento do **CARTÃO DE RESPOSTAS**.
 6. Somente após decorridas **2 horas e 30 minutos** do início da prova, o candidato, depois de entregar seu Caderno de Prova e seu Cartão de Respostas poderá retirar-se da sala de prova. O candidato que insistir em sair da sala de prova antes desse tempo, deverá assinar **Termo de Ocorrência** declarando sua desistência do concurso.
 7. Será permitida a saída de candidatos levando o Caderno de Prova somente **na última meia hora** de prova.
 8. Na página **19** deste Caderno de Prova encontra-se a **Folha de Anotação do Candidato**, a qual poderá ser utilizada para a transcrição das respostas das questões objetivas, destacada e levada pelo candidato para posterior conferência com o gabarito.
 9. Após o término da prova, o candidato deverá, obrigatoriamente, entregar ao fiscal o **CARTÃO DE RESPOSTAS** devidamente assinado e preenchido.

LÍNGUA PORTUGUESA

INSTRUÇÃO: Leia atentamente o texto abaixo e responda às questões de 01 a 06.

A rede antissocial

1 O ser humano, como seus ancestrais macacos, é um animal gregário (que vive em bando), mas as megalópoles nos levaram a um paradoxo: quanto maior uma cidade, mais isolados estão seus habitantes. Desse paradoxo, nascem muitos problemas, e talvez o principal deles seja a epidemia de depressão crescente detectada pela Organização Mundial de Saúde. Nesse mesmo contexto, surge ainda uma praça
5 pública virtual, disponível a todos, o Facebook. Hoje, com 500 milhões de usuários, essa rede social é um fenômeno mundial.

A grande qualidade do Facebook é ter um sistema que incentiva a comunicação direta e contínua. Você escreve algo, e logo dez pessoas curtiram, duas comentaram e, de alguma forma, a sensação de estar se comunicando com outro ser humano acontece. Aparecem perguntas, aparecem respostas. Você
10 reencontra e convive com amigos há muito perdidos. De repente, parece que você, milagrosamente, encontrou uma sala de estar com alguns convivas para ir a qualquer hora do dia ou da noite.

Mas eu me questiono até que ponto essa sensação de encontro é verdadeira. Os debates e as declarações de amor ou de ódio estão ali, mas as pessoas... Elas estão cada vez mais enfiadas em suas casas – em frente a seus computadores. Até mesmo o telefone virou uma coisa para os muito íntimos.
15 Será que o Face, no fundo, não está mais próximo do autismo de um videogame do que da alegria de uma praça pública? Eu não sei, mas sinto que o crescimento das redes sociais indica que o ser humano está desesperadamente tentando voltar para casa. Só que ainda não sabe bem como.

(MUYLAERT, Anna. Gloss, dezembro de 2010.)

QUESTÃO 01

No texto, a autora defende um ponto de vista sobre as redes sociais na vida do ser humano. Sobre a construção desse ponto de vista, analise as afirmativas.

- I - Logo no primeiro parágrafo a autora mostra claramente que considera o Facebook uma rede antissocial, responsável por uma epidemia de depressão.
- II - O título, A rede antissocial, dá pista para que o leitor perceba, mesmo antes de ler o texto, a posição da autora sobre o assunto.
- III - O uso de certas palavras ao longo do texto, a exemplo de *parece*, *sensação*, *sinto*, minimiza o tom que a autora emprega para defender seu ponto de vista.
- IV - Na conclusão, a autora revela explicitamente que aprova as redes sociais, pois aproximam os seres humanos sem mesmo saírem de casa.

Estão corretas as afirmativas

- (A) I, II e IV, apenas.
- (B) I, III e IV, apenas.
- (C) II e IV, apenas.
- (D) II e III, apenas.

QUESTÃO 02

No trecho *Nesse mesmo contexto, surge ainda uma praça pública virtual, disponível a todos, o Facebook.*, a autora denomina o Facebook de praça pública. Qual seria um entendimento adequado a essa caracterização?

- (A) O contato que as pessoas têm em uma praça é o mesmo que elas têm no Facebook.
- (B) No Facebook, as pessoas se dirigem a outras de forma presencial, assim como em uma praça.
- (C) O toque, a palavra, o olhar, no Facebook e na praça pública, acontecem de igual maneira, são os mesmos.
- (D) Em uma praça, pessoas conversam, assim como fazem no Facebook.

QUESTÃO 03

Assinale o trecho que **NÃO** sugere o ponto de vista da autora sobre as redes sociais, principalmente o facebook.

- (A) *Você reencontra e convive com amigos há muito perdidos.*
- (B) *Mas eu me questiono até que ponto essa sensação de encontro é verdadeira.*
- (C) *Os debates e as declarações de amor ou de ódio estão ali, mas as pessoas...*
- (D) *Elas estão cada vez mais enfiadas em suas casas – em frente a seus computadores.*

QUESTÃO 04

Sobre a linguagem do texto, marque V para as afirmativas verdadeiras e F para as falsas.

- () O texto apresenta predominância de registro informal de linguagem sem cuidado com a escrita padrão, a exemplo de *Aparecem perguntas, aparecem respostas*.
- () O advérbio *ali* funciona como elemento coesivo referencial, seu sentido depende do contexto; no terceiro parágrafo (linha 13), retoma o sentido de encontro.
- () Se *gregário* (linha 1) é denominação para quem vive em bando, seu antônimo é solitário, desacompanhado.
- () Dentre os advérbios empregados no texto, há os que expressam tempo, como *hoje* (linha 5) e *logo* (linha 8), e os que expressam intensidade, como *desesperadamente* (linha 17) e *milagrosamente* (linha 10).

Assinale a sequência correta.

- (A) V, F, V, V
- (B) V, V, F, F
- (C) F, V, V, F
- (D) F, V, F, V

QUESTÃO 05

Leia o trecho *Você escreve algo, e logo dez pessoas curtiram, duas comentaram e, de alguma forma, a sensação de estar se comunicando com outro ser humano acontece. Aparecem perguntas, aparecem respostas.*

Sobre os recursos linguísticos e expressivos empregados, assinale a afirmativa **INCORRETA**.

- (A) A forma verbal *escreve* está no presente, mas *curtiram* e *comentaram* estão no pretérito, o que contribui para sugerir a rapidez com que são veiculadas as informações no Facebook.
- (B) A última frase apresenta ideias encadeadas, mas o sentido, devido à falta de conjunção, é de oposição.
- (C) A expressão verbal *estar se comunicando* indica uma ação contínua, em desenvolvimento.
- (D) As vírgulas em *e, de alguma forma*, separam a expressão adverbial fora de sua posição canônica.

QUESTÃO 06


Coesão é a propriedade pela qual as partes de um texto se ligam, estabelecendo uma sequência lógico-semântica. Sobre os elementos coesivos no texto, analise as afirmativas.

- I - Em diversas ocorrências do texto, a autora emprega o pronome *ocê*, remetendo especificamente ao jovem usuário do Facebook.
- II - Na linha 2, a autora usa o pronome *nos*, quando em outras situações do texto usa *eu*; com o *nos*, ela se inclui entre as pessoas que vivem em megalópoles.
- III - A palavra *que*, nas linhas 7, 10 e 16, exerce função coesiva, retomando o sentido do termo antecedente.
- IV - O conector *mas*, que inicia o terceiro parágrafo, estabelece contraposição aos argumentos dos parágrafos anteriores.
- V - No terceiro parágrafo, os pronomes *elas*, *suas* e *seus*, como elementos coesivos, retomam o sentido do mesmo referente.

Estão corretas as afirmativas

- (A) I, III e IV, apenas.
- (B) II e III, apenas.
- (C) II, IV e V, apenas.
- (D) I, II, IV e V, apenas.

INSTRUÇÃO: Leia atentamente a propaganda abaixo e responda às questões 07 e 08.



(CAMPOS, M. I. *Língua Portuguesa*. São Paulo: FTD, 2012.)

QUESTÃO 07

A leitura competente de uma propaganda exige entender os elementos verbais e não verbais. Sobre eles, marque V para as afirmativas verdadeiras e F para as falsas.

- () Em geral, a ampulheta simboliza o ciclo da vida; na propaganda, ela refere-se à vida das florestas, que são, no texto, o foco de luta da organização não governamental Greenpeace.
- () A imagem não verbal mostra a árvore transformando-se em pó ao escoar para a parte inferior da ampulheta, o que simboliza sua morte.
- () No texto verbal, o trecho *Não deixe que as florestas do Brasil fiquem no passado* pode significar que não mais serão plantadas novas árvores.
- () Quando se inverte a ampulheta, significa que o tempo de vida começa a contar de novo; no texto, significa iniciar o desmatamento.

Assinale a sequência correta.

- (A) V, F, F, V
- (B) F, V, F, F
- (C) F, F, V, V
- (D) V, V, F, F

QUESTÃO 08

A intencionalidade que rege a propaganda é

- (A) convencer o leitor a preservar as florestas, o meio ambiente.
- (B) persuadir o público a consumir um produto ou serviço.
- (C) envolver as pessoas em trabalhos voluntários.
- (D) informar o público sobre como manter a ética nas relações sociais.

INSTRUÇÃO: Leia o fragmento de resenha abaixo e responda às questões 09 e 10.

As coisas comuns da juventude

Livros que narram dramas, paixões e situações do cotidiano de “jovens adultos” ganham leitores e mais espaço nas estantes e nas telas de cinema.

Nem sempre mundos de mentirinha e heróis ou vilões fantásticos habitam as páginas mais consumidas por jovens leitores. Dois dos livros *young adults* (para “jovens adultos”) que chamaram a atenção este ano são, na verdade, “bem deste planeta”. Lidam com medos, dilemas, amores e vontades da adolescência e desenvolvem narrativas escritas do ponto de vista dos próprios personagens. Títulos capazes de gerar essa intimidade com os leitores não são novidade desde que *O apanhador no campo de centeio* (1951), de J. D. Salinger, é o que é: um clássico sem faixa etária. *A culpa é das estrelas*, lançado no Brasil este ano, e *As vantagens de ser invisível*, prensado lá fora em 1999, traduzido aqui em 2007 e reeditado em 2012 por conta da adaptação ao cinema, seguem o mesmo caminho: falam de coisas comuns, das dores de crescer, amar e querer ser alguém. E, por parecerem autênticos, são caros, queridos, próximos como amigos de quem os lê.

[...]

(MORAES, Felipe. In *Correio Brasiliense*, 06 de dezembro de 2012.)

QUESTÃO 09

Em relação ao fragmento, assinale a afirmativa correta.

- (A) O título da resenha, *As coisas comuns da juventude*, anuncia o assunto dos livros resenhados que tratam das dores de crescer, amar e querer ser alguém.
- (B) Como resenha, esse texto conclama os jovens para a leitura de livros que tratam de assuntos próprios do universo de interesses dos jovens.
- (C) O texto foi veiculado em um jornal de Brasília, o que revela que os leitores são exclusivamente os jovens.
- (D) O objetivo desse texto, além de apresentar e avaliar um objeto cultural, é recomendar livros a jovens adultos.

QUESTÃO 10

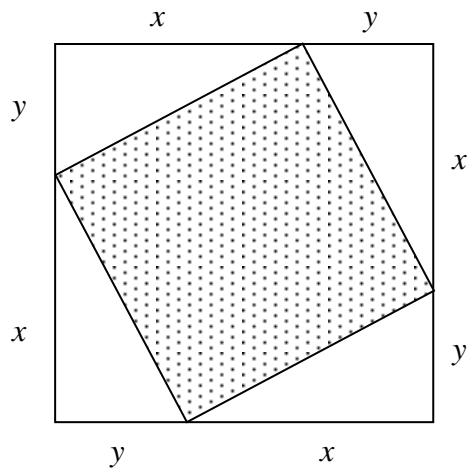
Assinale o trecho em que as vírgulas **NÃO** estão empregadas para separar elementos coordenados, dispostos em enumeração.

- (A) *Lidam com medos, dilemas, amores e vontades da adolescência e desenvolvem narrativas escritas do ponto de vista dos próprios personagens.*
- (B) *Dois dos livros young adults (para “jovens adultos”) que chamaram a atenção este ano são, na verdade, “bem deste planeta”.*
- (C) *falam de coisas comuns, das dores de crescer, amar e querer ser alguém.*
- (D) *são caros, queridos, próximos como amigos de quem os lê.*

MATEMÁTICA

QUESTÃO 11

A figura abaixo apresenta um quadrado sombreado com os vértices sobre os lados de outro quadrado.



A partir das informações, qual é a medida da área do quadrado sombreado?

- (A) $(x^2 + y^2)^{1/2}$
- (B) $x^2 + y^2$
- (C) $x^2 \cdot y^2$
- (D) $8xy$

QUESTÃO 12

Para aquecer as vendas, uma concessionária de veículos oferece como bônus para pagamento a vista, desconto de 8% no preço do seu modelo popular. Sabendo-se que, com o desconto, o preço a vista desse modelo de carro é R\$ 34.960,00, qual é o valor do bônus concedido por essa concessionária?

- (A) R\$ 3.400,00
- (B) R\$ 4.030,00
- (C) R\$ 3.040,00
- (D) R\$ 4.300,00

QUESTÃO 13

Sobre conjuntos numéricos, analise as afirmativas.

- I - Um número é racional se puder ser escrito como uma fração p/q , com p e q inteiros e $q \neq 0$.
- II - Um número cuja representação decimal infinita não é periódica é chamado número irracional.
- III - O conjunto formado pelos números racionais e pelos números irracionais é chamado conjunto dos números reais.

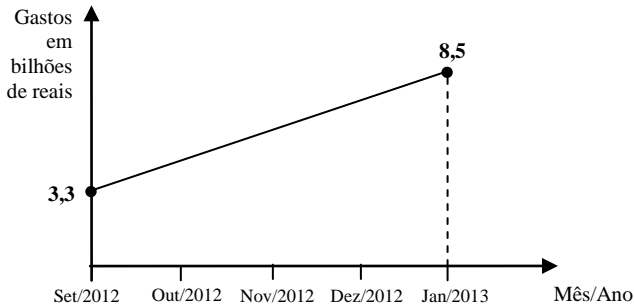
Está correto o que se afirma em

- (A) I, apenas.
- (B) I e II, apenas.
- (C) III, apenas.
- (D) I, II e III.

Espaço para rascunho

QUESTÃO 14

A revista Veja, de 14 de agosto de 2013, trouxe uma reportagem mostrando que a decisão do governo de impor redução nas tarifas de eletricidade representou uma despesa bilionária para o Tesouro Nacional. O gráfico abaixo, adaptado dessa reportagem, apresenta o crescimento dos gastos de setembro de 2012 a janeiro de 2013.



Admitindo que, nesse período, o crescimento dos gastos obedeça a uma função do primeiro grau, quanto o Tesouro Nacional gastou, em bilhões de reais, em nov/2012?

- (A) 5,9
- (B) 6,4
- (C) 4,7
- (D) 7,1

QUESTÃO 15

A editora de uma revista lançou como promoção de final de ano duas opções de assinatura:

<i>Opção 1</i>	<i>Opção 2</i>
<i>2 anos + 1 ano grátis por</i>	<i>2 anos + 20% de desconto por</i>
24 × R\$ 47,00	18 × R\$ 50,00

A partir das informações dadas, marque V para as afirmativas verdadeiras e F para as falsas.

- () A opção 2 é mais vantajosa, porque a quantidade de parcelas é menor.
- () A opção 1 é mais vantajosa, porque o valor anual da assinatura é menor.
- () É indiferente escolher a opção 1 ou a 2, pois em qualquer uma delas o preço final da assinatura é o mesmo.

Assinale a sequência correta.

- (A) F, F, V
- (B) F, V, F
- (C) V, F, F
- (D) V, V, F

Espaço para rascunho

QUESTÃO 16

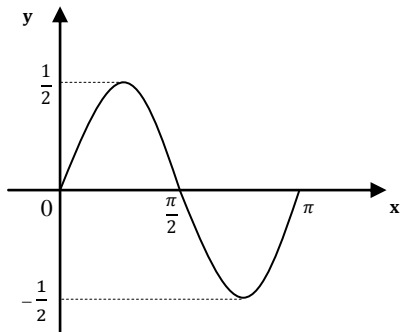
Considere duas cidades C_1 e C_2 com 100.000 habitantes cada. A população da cidade C_1 aumenta 1.000 habitantes por ano, enquanto que a da cidade C_2 aumenta 1% ao ano. Se PC_1 e PC_2 representam, respectivamente, as populações de C_1 e de C_2 , após 10 anos, $PC_2 - PC_1$ será igual a

- (A) 426
- (B) 462
- (C) 642
- (D) 624

Considere $(1,01)^{10} = 1,10462$

QUESTÃO 17

A figura abaixo representa o esboço do gráfico de $y = a \operatorname{sen} bx$, em que a e b são números reais e $x \in [0; \pi]$.

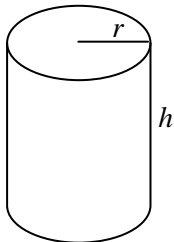


A partir das informações dadas, $a + b$ vale

- (A) $3/2$
- (B) 2
- (C) $5/2$
- (D) 4

QUESTÃO 18

A figura abaixo mostra um cilindro circular reto de raio r e altura h .



Sabendo-se que a medida do volume de um cilindro circular reto é dada por $V = \pi \cdot r^2 \cdot h$, se o raio for multiplicado por $\sqrt{2}$ e a altura por 2, por quanto ficará multiplicado o volume desse cilindro?

- (A) $2\sqrt{2}$
- (B) 2
- (C) 4
- (D) $\sqrt{2}$

Espaço para rascunho

QUESTÃO 19

A figura abaixo apresenta tipos de chocolates com a respectiva concentração de cacau e a quantidade de calorias em 100 gramas.



(Revista VEJA, 09/10/2013.)

A partir das informações dadas, marque V para as afirmativas verdadeiras e F para as falsas.

- () Quanto maior a concentração de cacau, maior o valor calórico.
- () A média aritmética dos valores calóricos dos chocolates apresentados na figura é 7,5 calorias mais que a quantidade de calorias do chocolate meio amargo e 7,5 calorias menos que a do chocolate ao leite.
- () Uma pessoa que comeu 50 g de chocolate ao leite, 25 g de chocolate amargo e 120 g de chocolate branco, ingeriu 1.044 calorias.

Assinale a sequência correta.

- (A) F, F, V
- (B) V, V, F
- (C) V, F, F
- (D) F, V, V

QUESTÃO 20

Um artista realizou um show em um espaço com 1000 lugares. As mesas localizadas próximas ao palco custavam R\$ 1.500,00 e as mais distantes R\$ 1.200,00. Sabendo-se que a arrecadação com a venda de ingressos foi R\$ 1.296.000,00, qual foi o número de mesas próximas ao palco?

- (A) 320
- (B) 395
- (C) 450
- (D) 525

CONHECIMENTOS GERAIS

QUESTÃO 21

Nascido em Cuiabá (MT), foi Ministro da Guerra de Vargas, ajudou na implantação do Estado Novo (1937), do qual participou até 1945, quando foi exonerado do cargo. Ajudou a depor Vargas em outubro desse mesmo ano. Candidato à presidência, recebeu apoio de Getúlio e elegeu-se para mandato entre 1946-1950. O texto refere-se ao

- (A) General Eurico Gaspar Dutra.
- (B) Brigadeiro Eduardo Gomes.
- (C) Capitão Luiz Carlos Prestes.
- (D) Marechal Floriano Peixoto.

Espaço para rascunho

QUESTÃO 22

Dante Martins de Oliveira, Deputado Federal por Mato Grosso, foi o autor de um dos mais importantes documentos produzidos no período final da ditadura militar no Brasil. Em defesa do documento, surgiu um grande movimento popular que ganhou as ruas. Votado pelo Congresso Nacional, sua demanda foi vencida em 1984. Qual foi esse documento e qual seu objetivo?

- (A) Emenda solicitando a incorporação das propostas populares na Constituição.
- (B) Projeto de Lei propondo o imediato julgamento dos acusados de tortura e crimes contra civis.
- (C) Proposta de Emenda Constitucional objetivando eleições diretas para Presidente da República.
- (D) Emenda Parlamentar visando à adoção da Constituição Federal brasileira de 1988.

QUESTÃO 23

Leia o atentamente o poema.

A Bomba Suja

Introduzo na poesia
A palavra diarreia.
Não pela palavra fria
Mas pelo que ela semeia.

...

No dicionário a palavra
é mera ideia abstrata.
Mais que palavra, diarreia
é arma que fere e mata.

Que mata mais do que faca,
mais que bala de fuzil,
homem, mulher e criança
no interior do Brasil.

Por exemplo, a diarreia,
no Rio Grande do Norte,
de cem crianças que nascem,
setenta e seis leva à morte.

É como uma bomba D
que explode dentro do homem
quando se dispara, lenta,
a espoleta da fome.

...

Bomba colocada nele
Pelos séculos de fome
e que explode em diarreia
no corpo de quem não come.

...

Cabe agora perguntar
quem é que faz essa fome,
quem foi que ligou a bomba
ao coração desse homem.

Quem é que rouba a esse homem
o cereal que ele planta,
quem come o arroz que ele colhe
se ele o colhe e não janta.

Quem faz café virar dólar
e faz arroz virar fome
é o mesmo que põe a bomba
suja no corpo do homem.

...

E sobretudo é preciso
trabalhar com segurança
pra dentro de cada homem
trocar a arma de fome
pela arma da esperança.


(Ferreira Gullar. A Bomba Suja. Rio, 1962.)

A discussão dos problemas sociais e a busca por soluções foram intensas durante o governo de João Goulart. Um dos temas mais polêmicos envolvia, como no poema acima, a condição de vida da população rural brasileira. Sobre o tema, assinale a afirmativa correta.

- (A) A reforma agrária proposta por Goulart foi aceita e implantada sem resistência ou oposição política.
- (B) O cerne das reformas de base foi a extensão de planos de saúde privados para atender a toda a população do campo brasileiro
- (C) A proposição de uma reforma agrária como parte das reformas de base suscitou inúmeras polêmicas na sociedade brasileira naquele período.
- (D) As reformas de base visaram principalmente à extinção das ligas camponesas para melhor controlar os movimentos sociais no campo.

QUESTÃO 24

Leia o cartum abaixo.



(Disponível em <https://www.facebook.com/Henfil>. Acessado em 20/10/2013.)

Durante o período militar no Brasil, a repressão política foi muito intensa e atingiu diversos setores sociais, cerceando grandemente a liberdade de expressão. Sobre esse tema, analise as afirmativas abaixo.

- I - Apesar da existência de censura a jornais, TV e outros meios de comunicação, as manifestações de rua foram aceitas e liberadas, sem que houvesse reação do Estado.
- II - O Ato Institucional n.5 foi o mais grave instrumento de cerceamento dos direitos políticos durante todo o período militar.
- III - O cerceamento das liberdades individuais e o agravamento da repressão política levaram muitos opositores do regime militar a buscar a luta armada.
- IV - A repressão durante o regime militar atingiu grupos armados e opositores políticos e não teve reflexos sobre os meios de comunicação de massa.

Estão corretas as afirmativas

- (A) I e III.
- (B) II e III.
- (C) II e IV.
- (D) I e IV.

QUESTÃO 25

Observe a gravura.



(Índios Apiaká no Rio Arinos. Aquarela de Aimé-Adrien Taunay -1803/1828. Disponível em <http://odeporica.blogspot.com.br/2010/03/viagens-fantasticas-expedicao.html>. Acessado em 20/10/2013.)

Após a abertura dos portos brasileiros (1808), várias expedições científicas vieram para o Brasil interessadas em conhecer melhor essa terra. Muitas delas passaram por Mato Grosso e deixaram registros acerca de diferentes aspectos. Sobre esse tema, assinale a afirmativa correta.

- (A) Essas expedições fizeram caça predatória e exploração ilegal de minério, deixando apenas destruição para os moradores de Mato Grosso.
- (B) Tais expedições científicas legaram um precioso conhecimento sobre costumes, festas, fauna e flora, reconhecidos em seu valor até nossos dias.
- (C) As expedições científicas interessaram-se apenas pela fauna e flora, desinteressando-se pelo registro da presença de índios.
- (D) Tais expedições tentaram fazer um grande levantamento de informações sobre o Brasil, mas os seguidos conflitos com os povos indígenas impediram sua continuidade.

QUESTÃO 26

Privatização é o processo de transferência de empresas estatais para a rede privada. No decorrer da década de 1990, o Brasil integrou-se ao processo de privatização, especialmente nos setores ligados à eletricidade, telecomunicação, mineração, entre outros. Sobre o assunto, analise as proposições.

- I - Em países subdesenvolvidos ou em desenvolvimento, um dos fatores negativos da privatização é a continuidade de sua dependência econômica e tecnológica dos países desenvolvidos; por outro lado, alguns setores avaliam que, a partir da venda das estatais, o poder público deixa de destinar recursos para tais empresas e passa a contar com os tributos gerados.
- II - A aplicação da política econômica socialista democrática, posta em prática por setores ligados ao sistema financeiro nacional a partir da década de 1940, é o principal fator que influenciou o processo de privatização das estatais brasileiras.
- III - As privatizações no Brasil tiveram relação com o Consenso de Washington (1989), que apresentava uma série de recomendações econômicas, funcionando como instrumento de pressão internacional para a adoção do neoliberalismo, principalmente pelos países subdesenvolvidos ou em desenvolvimento.
- IV - As privatizações asseguraram a melhoria das relações de trabalho, diminuíram o processo de terceirização da economia, contribuindo para o decréscimo dos índices de desemprego e aumento significativo da renda dos assalariados.

Estão corretas as proposições

- (A) I, III e IV.
- (B) I, II e IV.
- (C) II e IV, apenas.
- (D) I e III, apenas.

QUESTÃO 27

Integrantes do Movimento Sem Terra de Mato Grosso (MST-MT) bloquearam trechos das BR 070 e 364. A sede do Instituto Nacional de Colonização e Reforma Agrária (Incra) também foi alvo de manifestações, nesta segunda-feira (14). Esta é a quarta vez que o grupo tranca rodovias em menos de seis meses. [...]. Eles reivindicam assentamento imediato de 7,3 mil famílias que se encontram acampadas. A regularização de 20 áreas, além da retomada imediata de áreas da União. O grupo também reivindica investimentos em infraestrutura e desburocratização de acesso aos créditos.

(NASCIMENTO, Gustavo. **Assentamentos**. MST bloqueia rodovias e pede mais agilidade ao INCRA. Diário de Cuiabá, 15 de outubro de 2013.)

O texto revela características da dinâmica rural em Mato Grosso. Sobre o assunto, analise as afirmativas.

- I - A estrutura fundiária do estado de Mato Grosso está dividida de forma equilibrada, portanto todos têm acesso à terra.
- II - A reforma agrária consiste na distribuição justa das terras e no apoio para torná-las produtivas, especialmente via linhas de crédito.
- III - Os trabalhadores sem terra, na maioria das vezes, reivindicam ações que não fazem parte do Programa Nacional de Estrutura Fundiária (PNEF).
- IV - A luta pela posse da terra sempre existiu no Brasil, principalmente após a aprovação da Lei de Terras (1850).
- V - O Instituto Nacional de Colonização e Reforma Agrária (INCRA) é um dos responsáveis pela regularização fundiária no estado de Mato Grosso.

Estão corretas as afirmativas

- (A) II, IV e V.
- (B) I, III e IV.
- (C) I, II e V.
- (D) III e IV, apenas.

QUESTÃO 28

A coluna da esquerda apresenta denominação de paisagens vegetais brasileiras e a da direita, características de cada uma. Numere a coluna da direita de acordo com a da esquerda.

- | | | |
|------------------------|-----|-----------------------------------------------------------------------------------------------------------------------------------------------------------------------------------------------------------------------------------------------------------------------------|
| 1 - Floresta Amazônica | () | Localizada no litoral brasileiro, originalmente estendia-se por vários estados, atualmente apresenta elevados índices de destruição devido à intensa urbanização. É considerada uma das áreas mais ricas em biodiversidade e mais ameaçadas do planeta. |
| 2 - Mata Atlântica | () | Apresenta três tipos de matas: Igapó, localizada em solos permanentemente alagados; Várzeas, matas de inundação temporária e de composição vegetal variada, causada pela constante entrada e saída de água das marés fluviais; e Terra Firme com vegetação de grande porte. |
| 3 - Caatinga | () | Localizada em regiões nas quais predomina o clima subtropical, com invernos rigorosos e verões quentes, índices pluviométricos relativamente elevados e bem distribuídos durante o ano. |
| 4 - Mata de Araucária | () | Apresenta vegetação pobre, com plantas adaptadas à aridez denominadas xerófilas, que possuem folhas atrofiadas, caules grossos e raízes profundas para suportar o longo período de estiagem. |

Assinale a sequência correta.

- (A) 4, 1, 2, 3
- (B) 2, 3, 1, 4
- (C) 2, 1, 4, 3
- (D) 1, 2, 3, 4

QUESTÃO 29

As usinas de açúcar e álcool estão localizadas em vários estados brasileiros e têm causado importantes impactos ambientais, entretanto, são utilizadas diversas medidas com o objetivo de mitigar os efeitos negativos. Sobre tais medidas, marque a afirmativa **INCORRETA**.

- (A) A produção de açúcar e álcool utiliza grande quantidade de água; em algumas usinas, a água é reciclada e reutilizada através de circuitos fechados.
- (B) A queima do bagaço da cana para produzir energia elétrica foi proibida pelos órgãos ambientais, porque utiliza grande volume de combustíveis fósseis contribuindo para o aumento da poluição atmosférica.
- (C) A fertirrigação, ou seja, a aplicação de vinhaça em doses adequadas oferece uma série de benefícios, como a melhoria das propriedades físicas, químicas e biológicas do solo.
- (D) A colheita da cana-de-açúcar sem utilização da queima oferece, entre outras, as seguintes vantagens: melhor aproveitamento da cana do ponto de vista energético, melhoria da qualidade da matéria-prima e redução da poluição atmosférica.

QUESTÃO 30

Sobre a economia do Estado de Mato Grosso, marque V para as afirmativas verdadeiras e F para as falsas.

- () A agropecuária exerce importante função: abriga elevado número de latifúndios e se caracteriza pela exportação de produtos em estado bruto ou com pequeno grau de industrialização.
- () Devido ao crescimento econômico propiciado pelas exportações, Mato Grosso tornou-se um dos principais produtores e exportadores de soja do Brasil.
- () A indústria mato-grossense é voltada ao setor farmacêutico, as maiores empresas estão concentradas nos Distritos Industriais de Campo Verde e Primavera do Leste.
- () As condições naturais e a ausência de beleza cênica e atrativos impedem o desenvolvimento do turismo, setor que apresenta as menores taxas de crescimento nos últimos cinco anos.

Assinale a sequência correta.

- (A) F, F, V, V
- (B) F, V, V, F
- (C) F, F, F, V
- (D) V, V, F, F

INFORMÁTICA

QUESTÃO 31

Sobre Hardware, analise as afirmativas.

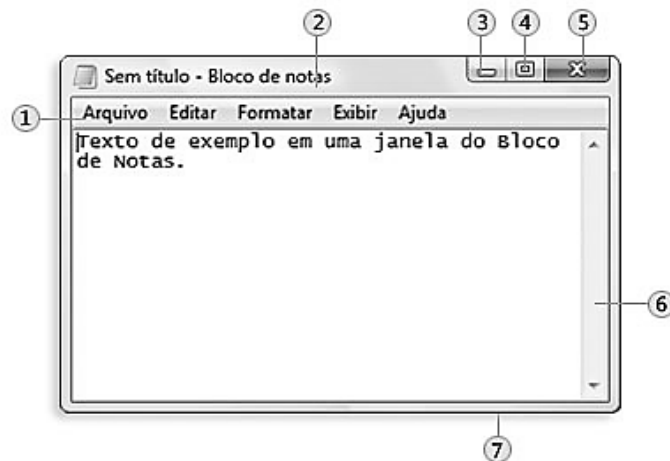
- I - RAM é um tipo de memória que tem seu conteúdo apagado quando o computador é desligado, o disco rígido é um exemplo de memória RAM.
- II - O que determina se um processador é mais rápido que outro é a velocidade de execução de instruções, que é medida em GB (GigaBytes).
- III - O pen-drive é um dispositivo de memória do tipo flash que pode ser conectado a um computador por uma porta USB.
- IV - O teclado e o mouse são exemplos de dispositivos de entrada de dados em um computador, enquanto a impressora é um exemplo de dispositivo de saída de dados.

Estão corretas as afirmativas

- (A) I, II e IV, apenas.
- (B) II e III, apenas.
- (C) III e IV, apenas.
- (D) I, III e IV, apenas.

QUESTÃO 32

A figura abaixo ilustra uma janela típica de um aplicativo do Windows 7, com suas partes básicas numeradas de 1 a 7.



A coluna da esquerda apresenta os números correspondentes aos componentes da janela numerados de 1 a 7 e a da direita, os nomes desses componentes. Numere a coluna da direita de acordo com a da esquerda.

- | | |
|------|----------------------|
| 1) 1 | () Barra de Rolagem |
| 2) 2 | () Botão Fechar |
| 3) 3 | () Barra de Menus |
| 4) 4 | () Borda |
| 5) 5 | () Barra de Título |
| 6) 6 | () Botão Maximizar |
| 7) 7 | () Botão Minimizar |

Assinale a sequência correta.

- (A) 1, 5, 6, 7, 2, 3, 4
- (B) 2, 3, 1, 7, 6, 5, 4
- (C) 6, 4, 2, 1, 5, 7, 3
- (D) 6, 5, 1, 7, 2, 4, 3

QUESTÃO 33

Considere dois documentos do Microsoft Word 2007 (idioma português) chamados de doc1 e doc2. A lista abaixo corresponde aos passos que podem ser utilizados para editar, copiar e colar um bloco de texto do documento doc2 para o documento doc1. Numere os passos de forma a apresentar a sequência correta.

- () Selecionar o bloco de texto no arquivo doc2.
- () Clicar com o botão direito do mouse no local desejado e selecionar a opção Colar.
- () Clicar com o botão direito do mouse sobre o bloco de texto e selecionar a opção Copiar.
- () Abrir os arquivos doc1 e doc2, nessa ordem.
- () Ativar a janela do arquivo doc1.

Assinale a sequência correta.

- (A) 2, 5, 3, 1, 4
- (B) 2, 3, 5, 4, 1
- (C) 5, 2, 3, 1, 4
- (D) 1, 3, 5, 4, 2

QUESTÃO 34

A planilha abaixo foi desenvolvida no Microsoft Excel 2007 (idioma português).

	A	B	C
1	4	7	
2	2	9	
3			

De acordo com a planilha, quais valores seriam exibidos nas células C1 e C2 se contivessem as fórmulas $=A1+B1*A2+B2$ e $=B2*A1-A2*B1$, respectivamente?

- (A) 121 e 126
- (B) 27 e 22
- (C) 27 e 126
- (D) 121 e 22

QUESTÃO 35

No site de pesquisa do Google, pode-se fazer uma busca do termo exato "**processo seletivo**" especificamente no site www.cba.ifmt.edu.br, digitando-se na barra de pesquisa:

- (A) "processo seletivo" site:www.cba.ifmt.edu.br
- (B) processo seletivo "localweb:www.cba.ifmt.edu.br"
- (C) processo seletivo "website:www.cba.ifmt.edu.br"
- (D) "processo seletivo domain:www.cba.ifmt.edu.br"

QUESTÃO 36

Sobre tipos de memórias voláteis e não voláteis, marque V para as afirmativas verdadeiras e F para as falsas.

- () O CD-ROM é um tipo de memória volátil.
- () O disco rígido é um tipo de memória não volátil.
- () A memória ROM é um tipo de memória não volátil.
- () O pen-drive é um tipo de memória volátil.

Assinale a sequência correta.

- (A) V, F, V, F
- (B) V, F, F, V
- (C) F, V, V, F
- (D) F, V, F, V

QUESTÃO 37

Assinale a alternativa que apresenta o recurso/campo de e-mail utilizado para enviar uma cópia oculta para beltrano@gmail.com.

- (A) CC
- (B) Para
- (C) De
- (D) CCo

QUESTÃO 38

A coluna da esquerda apresenta recursos da página inicial do Mozilla Firefox 22.0 (idioma português) em sua configuração padrão de instalação no Windows 7 e a da direita, a nomenclatura de cada um. Numere a coluna da direita de acordo com a da esquerda.

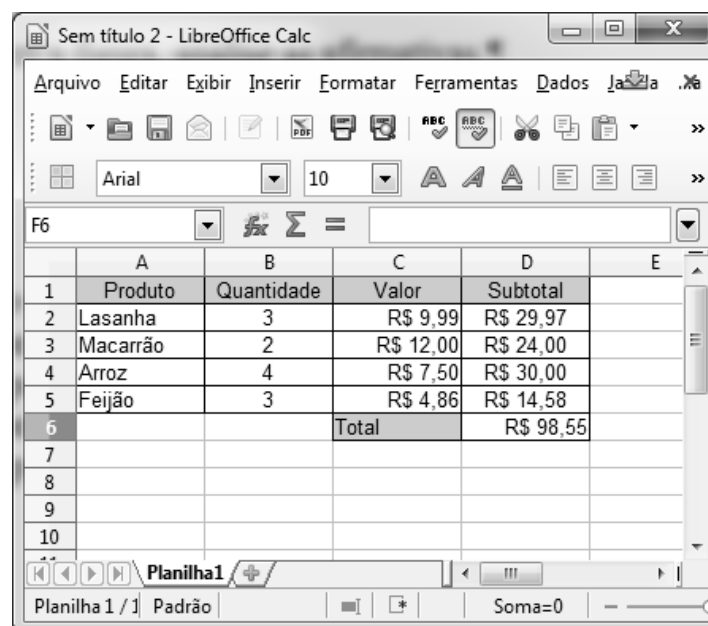
- 1 -  () Opções
- 2 -  () Complementos
- 3 -  () Favoritos
- 4 -  () Downloads

Marque a sequência correta.

- (A) 2, 1, 4, 3
(B) 4, 3, 2, 1
(C) 1, 2, 3, 4
(D) 3, 2, 1, 4

QUESTÃO 39

A figura abaixo apresenta uma planilha, contendo uma lista de compras, desenvolvida no LibreOffice Calc 4.0.4 (idioma português).



	A	B	C	D	E
1	Produto	Quantidade	Valor	Subtotal	
2	Lasanha	3	R\$ 9,99	R\$ 29,97	
3	Macarrão	2	R\$ 12,00	R\$ 24,00	
4	Arroz	4	R\$ 7,50	R\$ 30,00	
5	Feijão	3	R\$ 4,86	R\$ 14,58	
6			Total	R\$ 98,55	
7					
8					
9					
10					

De acordo com a figura, analise as afirmativas.


- I - Para calcular o subtotal do produto Arroz, pode-se utilizar a fórmula **=B4*C4**
II - O total da compra, expresso na célula D6, pode ser calculado pela fórmula **=SOMA(D2;D5)**
III - Uma fórmula para calcular o total apresentado na célula D6 é **=D2+D3+D4+D5**
IV - Uma das fórmulas para calcular o total da compra apresentado na célula D6 é **=SOMA(D2:D5)**

Estão corretas as afirmativas

- (A) I, II e IV, apenas.
(B) I, III e IV, apenas.
(C) I, II e III, apenas.
(D) II, III e IV, apenas.

QUESTÃO 40

Sobre o LibreOffice Write 4.0.4 (idioma português), marque V para as afirmativas verdadeiras e F para as falsas.


() O botão  serve para deixar o texto com alinhamento centralizado.

() Quando for necessário mudar a cor da fonte, pode-se utilizar o botão



() Para diminuir o recuo da linha ou parágrafo, pode-se utilizar o botão



() O botão  pode ser usado para inserir tabela no documento.

Assinale a sequência correta.

(A) V, V, F, V

(B) F, F, V, F

(C) V, F, V, F

(D) F, V, F, V

CONCURSO PÚBLICO PARA CARGOS DE TÉCNICO-ADMINISTRATIVO EM EDUCAÇÃO

Edital N.º 76, de 08/10/2013



Nome: _____

Cargo: *Assistente de Aluno*

FOLHA DE ANOTAÇÃO DO CANDIDATO

Questão	Alternativa
01	
02	
03	
04	
05	
06	
07	
08	
09	
10	
11	
12	
13	
14	
15	
16	
17	
18	
19	
20	

Questão	Alternativa
21	
22	
23	
24	
25	
26	
27	
28	
29	
30	
31	
32	
33	
34	
35	
36	
37	
38	
39	
40	

Esta folha é destinada para uso EXCLUSIVO do candidato.