

TÉCNICO EM ARQUIVO

26/05/2013

PROVAS	QUESTÕES
Língua Portuguesa	01 a 10
Matemática	11 a 15
Informática	16 a 20
Conhecimentos Específicos	21 a 50

SÓ ABRA ESTE CADERNO QUANDO AUTORIZADO LEIA ATENTAMENTE AS INSTRUÇÕES

1. Quando for permitido abrir o caderno, verifique se ele está completo ou se apresenta imperfeições gráficas que possam gerar dúvidas. Se houver algum defeito dessa natureza, peça ao aplicador de prova para entregar-lhe outro exemplar.
2. Este caderno consta de 50 questões objetivas. Cada questão apresenta quatro alternativas de resposta, das quais apenas uma é a correta. Preencha no cartão-resposta a letra correspondente à resposta assinalada na prova.
3. O cartão-resposta é personalizado e não será substituído, em caso de erro, durante o seu preenchimento. Ao recebê-lo, verifique se seus dados estão impressos corretamente; se for constatado algum erro, notifique ao aplicador de prova.
4. No cartão-resposta, as respostas devem ser marcadas com caneta esferográfica de tinta PRETA, preenchendo-se integralmente o alvéolo, rigorosamente dentro dos seus limites e sem rasuras.
5. Esta prova tem a duração de **quatro horas**, incluindo o tempo destinado à coleta de impressão digital, às instruções e à transcrição para o cartão-resposta.
6. Você só poderá retirar-se definitivamente da sala e do prédio após terem decorrido **duas horas** de prova, e somente será permitido levar o caderno de prova a partir das 16h30min, desde que permaneça na sala até esse horário.
7. AO TERMINAR, DEVOLVA O CARTÃO-RESPOSTA AO APLICADOR DE PROVA.

CONCURSO PÚBLICO TAE - 2013

Leia o texto a seguir para responder às questões de 01 a 08.

O luto dos animais

Harper e Kohl eram amigos inseparáveis. Por causa de uma fratura mal curada, Kohl não caminhava direito. Quando parou de andar e a dor se tornou insuportável, foi sacrificado. Harper assistiu ao procedimento, deitou-se ao lado do corpo e lá permaneceu por horas. Durante semana, Harper ia todos os dias ao local favorito da dupla, perto de uma lagoa em Watkins Glen, nos Estados Unidos. Quando as pessoas se aproximavam, ele ficava arredio e assustado. Depois de dois meses, Harper também morreu. Essa história, que descreve emoções muito humanas como tristeza e medo, aconteceu com dois patos e foi a que mais impressionou a antropóloga americana Barbara King durante suas pesquisas para o recém-lançado livro "How Animals Grieve" (Como os animais ficam de luto), sem versão em português.

Bárbara começou sua carreira estudando chimpanzés. Com o avanço das pesquisas, descobriu que um sistema emocional complexo e profundo, ainda não totalmente compreendido pelos cientistas, integra a personalidade de muitos animais, indo muito além dos primatas, elefantes e golfinhos [...]. "Cavalos, coelhos e pássaros são muito interessantes. Dependendo da personalidade do indivíduo e do estímulo que eles recebem, podem desenvolver um grau maior de empatia por seres semelhantes", afirma a pesquisadora. Essa empatia, que pode ser vista na tristeza demonstrada após a morte, está vinculada também à necessidade de alianças dentro de um bando. "Indivíduos dominantes sofrem mais com a morte de outro animal do grupo de que os submissos", diz o zootecnista e especialista em comportamento animal, Alexandre Rossi, apresentador do programa "Missão Pet", do canal National Geographic.

Entre animais selvagens, as cenas de luto e tristeza vão desde chimpanzés que observam em silêncio o companheiro morto até elefantes que estendem as trombas a um filhote moribundo. No caso dos animais domésticos, as ligações são ainda mais fortes. A empresária M. D., de São Paulo, passou por dificuldade com a labrador Luna quando a cadela perdeu a mãe, que sucumbiu a um câncer em fevereiro. "Ela ficou uma semana sem comer direito, não bebia água e ficava entrando e saindo da casinha, chorando", diz. Para ajudar a cadela a superar o luto, a família a deixou dormir dentro de casa e a submeteu a um tratamento com antidepressivos. "Ela parou de chorar e voltou a comer, mas virou a minha sombra, ficou superapegada a mim", diz M.

Embora o luto seja uma realidade entre os animais, Barbara ressalta que a ciência está longe de desvendar totalmente o grau de compreensão deles sobre a vida. "Nem toda resposta à morte significa luto", diz. Alguns bichos reagem com curiosidade, cutucando o cadáver. Outros parecem indiferentes à perda de um companheiro e até praticam canibalismo. "O luto deles é diferente do nosso. Pessoas sofrem por estranhos e conseguem canalizar esse sentimento de várias formas", diz. No entanto, a comprovação de que alguns bichos sentem a perda de seus semelhantes mostra que as emoções não são, definitivamente, exclusividade do ser humano.

TIRABOSCHI, Juliana. O luto dos animais. *IstoÉ*. São Paulo: Três, 1º maio 2013, p. 98-99. (Adaptado).

— QUESTÃO 01 —

O texto apresentado é do gênero reportagem. Nele, a sequência narrativa inicial

- (A) dá leveza a um tema evitado pela maioria das pessoas.
- (B) ajuda a atribuir veracidade às informações veiculadas.
- (C) apresenta fatos presenciados pela jornalista que assina a coluna.
- (D) reforça o apelo da pesquisadora por mais pesquisas que envolvam animais.

— QUESTÃO 02 —

Que aspecto das situações apresentadas ao longo do texto levou a pesquisadora a defender que há luto entre os animais?

- (A) A luta pela sobrevivência através do canibalismo.
- (B) A convivência harmônica em comunidade.
- (C) A necessidade de alianças dentro do grupo.
- (D) A demonstração de emoções típicas de humanos.

— QUESTÃO 03 —

Para que os textos alcancem seus objetivos, o desenvolvimento temático não deve deixar lacunas informacionais. Na reportagem, a suficiência do tema abordado é garantida, por exemplo, com a

- (A) menção ao comportamento de animais de diferentes tipos.
- (B) notícia da publicação do livro de Barbara King.
- (C) manutenção do sigilo a respeito da identidade de alguns personagens.
- (D) intervenção de Juliana Tiraboschi ao negritar uma informação importante.

— QUESTÃO 04 —

No trecho "Ela parou de chorar e voltou a comer" (3º parágrafo), o pronome faz referência à

- (A) Luna.
- (B) Barbara.
- (C) mãe de Luna.
- (D) empresária M.D.

— QUESTÃO 05 —

Uma das conclusões favorecidas pelas descobertas da pesquisadora é a de que

- (A) animais domésticos e animais selvagens têm as mesmas reações à morte de semelhantes.
- (B) demonstrações de luto constituem um dos aspectos referentes ao grau de compreensão animal a respeito da vida.
- (C) cenas de canibalismo são demonstração de luto em certas comunidades animais.
- (D) sentimentos animais são independentes de seu status na comunidade a que pertencem.

— QUESTÃO 06 —

No trecho “Ela ficou uma semana sem comer direito, não bebia água e ficava entrando e saindo da casinha, chorando” (3º parágrafo), o emprego da vírgula se deve à presença de seqüências

- (A) apositivas.
- (B) vocativas.
- (C) coordenadas.
- (D) repetitivas.

— QUESTÃO 07 —

Na expressão “a labrador Luna”, no que se refere à relação entre os elementos da sentença, há


- (A) equívoco de gênero, pois “labrador” é uma palavra masculina.
- (B) redundância, pois a palavra “labrador” dispensa artigo.
- (C) concordância implícita com a palavra “cadela”.
- (D) inadequação causada pela falta da palavra “raça”.

— QUESTÃO 08 —

Em “mas ela virou a minha sombra” (3º parágrafo), o significado contextual da palavra “sombra” é

- (A) companhia constante.
- (B) ausência de luz.
- (C) falta de ânimo.
- (D) presença angustiante.

Leia a charge a seguir para responder às questões 09 e 10.



ISTOÉ. São Paulo: Três, 1º maio 2013, p. 28.

— QUESTÃO 09 —

A charge faz um alerta a respeito de um importante compromisso da população brasileira, a declaração de Imposto de Renda. Para convencer o leitor, as informações verbais e não verbais se articulam para construir um argumento centrado

- (A) na deliberação pessoal.
- (B) no sentimento de responsabilidade.
- (C) no lúdico.
- (D) na ameaça.

— QUESTÃO 10 —

Animais são frequentemente utilizados como símbolos de instituições. Na charge, as características do leão metonimicamente aplicadas à instituição que ele representa são:

- (A) beleza e exuberância.
- (B) força, respeito e agilidade.
- (C) raridade e colorido.
- (D) rapidez, segurança e exemplo.

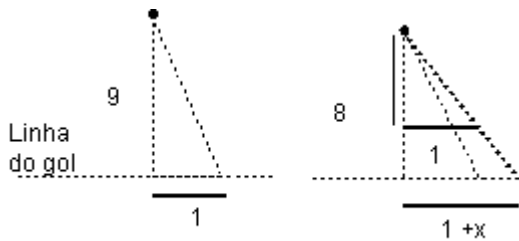
— QUESTÃO 11 —

Dois rolos de tecido têm a mesma largura e comprimento de 105 m e 30 m, respectivamente. Os tecidos devem ser cortados em peças de mesmo comprimento, de modo que cada peça tenha o maior comprimento possível, sem restar sobras nos rolos. Nesse sentido, o número total de peças após os cortes será:

- (A) 105/15
- (B) 135/15
- (C) 105x15
- (D) 135x15

— QUESTÃO 12 —

Um goleiro tem um raio de ação de um metro sobre a linha do gol, isto é, um metro para seu lado direito e um metro para seu lado esquerdo. Uma bola será chutada em linha reta da marca de 9 m de distância da linha do gol. Se o goleiro está adiantado um metro em direção à bola, ele adiciona ao raio de ação anterior x metros sobre a linha do gol, conforme a figura a seguir.



Nessas condições, o valor de x , em metros, é:

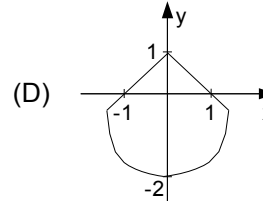
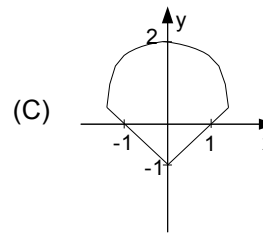
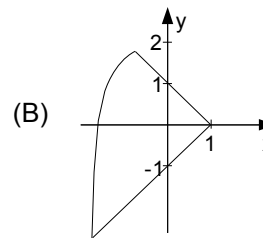
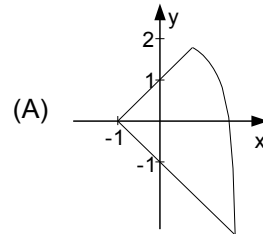
- (A) 1/3
- (B) 1/4
- (C) 1/8
- (D) 1/9

— QUESTÃO 13 —

Para calcular a área de uma região, um agrimensor esboçou-a, no plano cartesiano, como sendo a região delimitada pelos gráficos das funções:

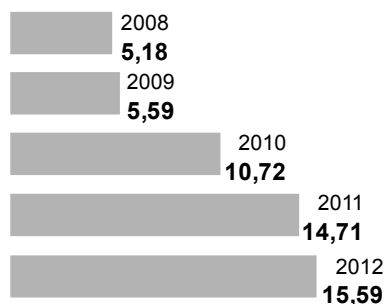
$$f(x) = 2 - x^2, \quad g(x) = -1 - x \quad \text{e} \quad h(x) = x + 1.$$

Essa região pode ser representada pela seguinte figura:



— QUESTÃO 14

O gráfico a seguir mostra a diferença entre o quanto o brasileiro gasta no exterior e o quanto o estrangeiro gasta no Brasil, em US\$ bilhões.



SALDO DA VIAGEM. *Folha de S. Paulo*, São Paulo, 5 maio 2013, p. B1.

De acordo com estes dados, admitindo-se que o crescimento dessa diferença de 2012 para 2013 será igual ao crescimento de 2011 para 2012, a diferença, em US\$ bilhões, entre o que o brasileiro gasta no exterior e o que o estrangeiro gasta no Brasil, em 2013, será:

- (A) 16,47
- (B) 16,52
- (C) 16,58
- (D) 18,70

— QUESTÃO 15

Uma empresa de metalurgia tem oito funcionários, sendo quatro soldadores e quatro auxiliares de soldador. Mensalmente, ela gasta com os salários desses funcionários R\$ 15.480,00. Para equilibrar as finanças da empresa, o proprietário resolveu dispensar um soldador e dois auxiliares de soldador. Com essa medida, a sua despesa mensal com os salários dos funcionários passou a ser de R\$ 9.890,00. De acordo com o exposto, conclui-se que os salários dos soldadores e dos auxiliares de soldador são, respectivamente,

- (A) R\$ 2.295,00 e R\$ 1.575,00.
- (B) R\$ 2.220,00 e R\$ 1.650,00.
- (C) R\$ 2.050,00 e R\$ 1.820,00.
- (D) R\$ 2.150,00 e R\$ 1.720,00.

— RASCUNHO

— QUESTÃO 16 —

No pacote de aplicativos LibreOffice, estilos são conjuntos de formatos aplicáveis a diversos elementos selecionados em um documento, de forma a alterar sua aparência com mínimo esforço. São tipos de estilos disponíveis no aplicativo LibreOffice Writer versão 3.4:

- (A) estilos de página, de parágrafo, de caractere e de quadro.
- (B) estilos de célula, de página, de texto e de desenho.
- (C) estilos de apresentação, de parágrafo, de texto e de numeração.
- (D) estilos de desenho, de célula, de base de dados e de caractere.

— QUESTÃO 17 —

Analise a planilha eletrônica a seguir, construída no aplicativo LibreOffice Calc versão 3.4.

	A	B	C	D	E	F	G
1				Distribuição das vagas			
2	Nome do curso	Grau Acadêmico	Turno	Total de Vagas	1º Sem.	2º Sem.	SISU
3	Engenharia Civil	bacharelado	integral	45	18	18	9
4	Sistemas de Informação	bacharelado	noturno	60	24	24	12

As fórmulas matemáticas correspondentes às células D3 e D4 são, respectivamente,

- (A) SOMA(E3-G3) e SOMA(E4-G4).
- (B) SOMA(E3:G3) e SOMA(E4:G4).
- (C) SOMATÓRIO(E3-G3) e SOMATÓRIO(E4-G4).
- (D) SOMATÓRIO(E3:G3) e SOMATÓRIO(E4:G4).

— QUESTÃO 18 —

Um cliente adquiriu um microcomputador com a seguinte configuração:

3ª Geração do Processador Intel® Core™ i3-3227U
1.9GHz
Monitor LED HD sensível a toque de 19" (1366x768) com True Life
Memória 8GB, Single Channel DDR3, 1600MHz (2x4Gb)
Disco Rígido 750GB, SATA (7200 RPM)
Gravador de DVD/CD (Unidade DVD+/- RW 8x)
Teclado 104 teclas ABNT2 USB
Mouse óptico sem fio USB

O item da configuração adquirido pelo cliente que descreve um dispositivo tanto de entrada quanto de saída de dados é o

- (A) teclado 104 teclas ABNT2 USB.
- (B) mouse óptico sem fio USB.
- (C) disco rígido 750GB, SATA (7200 RPM).
- (D) monitor LED HD sensível a toque de 19" (1366x768) com True Life.

— QUESTÃO 19 —

No sistema operacional Windows 7, em que situação um usuário exclui um arquivo de dados, mas esse arquivo não é movido para a Lixeira?

- (A) Se o arquivo encontrar-se na Área de Trabalho, protegida contra exclusões.
- (B) Se o arquivo estiver em uma pasta de um pen drive, conectado ao computador.
- (C) Se o usuário clicar no arquivo e, em seguida, pressionar a tecla Delete.
- (D) Se o usuário clicar no arquivo e acionar, ao mesmo tempo, as teclas Home e Delete.

— QUESTÃO 20 —

Usando o sistema de busca do Google, a expressão de busca que um usuário deve utilizar para recuperar páginas que contenham, nesta ordem, as palavras **centro de seleção da ufg** é:

- (A) site:www.cs.ufg.br
- (B) link:www.cs.ufg.br
- (C) "centro de seleção da ufg"
- (D) centro de seleção da ufg

— QUESTÃO 21 —

Escavações arqueológicas recentes revelaram um vasto patrimônio arquivístico deixado por grandes civilizações, na idade antiga, no que se refere ao registro de informações. Nesse contexto, os países que criaram procedimentos arquivísticos que prevalecem até a atualidade foram

- (A) Egito e Líbia.
- (B) Espanha e Portugal.
- (C) Grécia e Roma.
- (D) Inglaterra e Irlanda.

— QUESTÃO 22 —

O termo técnico utilizado para designar a recondução de documento ao fundo a que pertence ou ao arquivo é:

- (A) arquivamento.
- (B) reintegração.
- (C) tramitação.
- (D) transferência.

— QUESTÃO 23 —

A teoria arquivística considera que os documentos de arquivo passam por ciclo vital dividido em três fases que são:

- (A) ativa, intermediária e primária.
- (B) corrente, ativa e secundária.
- (C) corrente, intermediária e permanente.
- (D) municipal, estadual e federal.

— QUESTÃO 24 —

De acordo com Lopes (1996), a organização de um arquivo deverá ser sempre precedida pelo estudo e pela elaboração de

- (A) diagnóstico documental.
- (B) plano de descrição.
- (C) quadro de arranjo.
- (D) listagem de eliminação.

— QUESTÃO 25 —

A juntada de processos poderá ser executada por anexação ou por apensação. A principal diferença da primeira forma de juntada em relação à segunda é que a primeira é

- (A) provisória.
- (B) definitiva.
- (C) indeterminada.
- (D) determinada.

— QUESTÃO 26 —

Os autos de um processo não deverão exceder a 200 folhas em cada volume. No caso de um processo conter 180 folhas, ao qual deverá ser incluído um documento com 50 folhas, o procedimento a ser adotado é:

- (A) anexar as 20 primeiras folhas do documento ao primeiro volume e abrir o segundo volume com as 30 folhas restantes.
- (B) autuar novo processo com as 50 folhas em caso de impossibilidade de separar o documento, de forma a manter a compreensão da informação.
- (C) proceder à leitura das 50 folhas e separar o documento antes da vigésima folha, de modo que não impeça a compreensão da informação.
- (D) encerrar o primeiro volume com 180 folhas e abrir o segundo volume com o documento de 50 folhas.

— QUESTÃO 27 —

Segundo Paes (2005), para a organização de arquivos, é necessário utilizar métodos de arquivamento de acordo com cada atividade. Para ela, os métodos podem ser divididos em básicos e padronizados. São considerados métodos básicos:

- (A) ideográfico, numérico e geográfico.
- (B) roneo, simples e soundex.
- (C) dígito-terminal, variadex e automático.
- (D) automático, mneumônico e alfanumérico.

— QUESTÃO 28 —

Ao organizar um arquivo, utilizando-se números com dois dígitos, divididos em três grupos, adota-se o método

- (A) alfanumérico.
- (B) dígito-numérico.
- (C) numérico simples.
- (D) dígito-terminal.

— QUESTÃO 29 —

A análise e identificação do conteúdo de documentos e a seleção de categoria de assunto mediante a qual os documentos serão recuperados demonstra a atividade de

- (A) classificação.
- (B) descrição.
- (C) análise tipológica.
- (D) análise diplomática.

— QUESTÃO 30 —

O instrumento de classificação, temporalidade e destinação de documentos de arquivo relativos às atividades-meio da administração pública adotou o código de classificação decimal, que constitui um código numérico dividido em dez classes e estas em dez subclasses, e assim sucessivamente. As classes principais correspondem

- (A) ao conjunto de documentos normativos da instituição.
- (B) aos principais assuntos correntes na instituição.
- (C) à divisão hierárquica das atividades do órgão.
- (D) às grandes funções desempenhadas pelo órgão.

— QUESTÃO 31 —

Schellenberg (1974) afirma que a classificação de documentos, quando adequadamente aplicada, atenderá bem às necessidades das operações correntes. E, com o estudo dos elementos da classificação de documentos públicos, os métodos de classificação podem ser divididos em

- (A) departamental, decimal e eletrônico.
- (B) tipológico, estrutural e por funções.
- (C) funcional, organizacional e por assunto.
- (D) diplomático, seccional e por dossiês.

— QUESTÃO 32 —

A avaliação de documentos é um processo de análise dos documentos de arquivo. Nesse processo, estabelecem-se os prazos de guarda e a destinação de acordo com os valores que são atribuídos aos documentos. O instrumento que resulta desse processo é:

- (A) plano de arranjo.
- (B) tabela de temporalidade.
- (C) código de descrição.
- (D) quadro de classificação.

— QUESTÃO 33 —

A Resolução n. 7 do Conselho Nacional de Arquivos (CONARQ) determina que a eliminação dos documentos nos órgãos e nas entidades do poder público ocorrerá após concluído o processo de avaliação. O registro dos documentos a serem eliminados deverá ser feito por meio de

- (A) Listagem de Eliminação de Documentos e Termo de Eliminação de Documentos.
- (B) Listagem de Documentos Avaliados e Termo de Encerramento de Eliminação.
- (C) Tabela de Eliminação de Documentos e Resolução de Avaliação de Documentos.
- (D) Tabela de Documentos Eliminados e Resolução de Encerramento de Avaliação.

— QUESTÃO 34 —

Um setor de uma universidade mantém seus documentos sem organização e em caixas inadequadas. Nesse caso, o técnico de arquivo deverá alterar

- (A) o armazenamento e descrever os documentos.
- (B) a classificação e eliminar os documentos desnecessários.
- (C) o arranjo e elaborar listagens de eliminação de documentos.
- (D) o acondicionamento e identificar os documentos.

— QUESTÃO 35 —

Em uma unidade acadêmica de uma universidade, existe uma massa documental em depósito com boas condições de preservação e com acesso aos documentos, porém o conjunto documental ainda não passou pela avaliação. Nesse caso, é recomendado:

- (A) elaborar listagens de eliminação e encaminhar para análise da Comissão Permanente de Avaliação de Documentos.
- (B) elaborar listagens de avaliação e encaminhar ao diretor da unidade para proceder à eliminação.
- (C) proceder à eliminação dos documentos com anuência da Comissão Mista de Temporalidade e Destinação de Documentos.
- (D) solicitar a elaboração das listagens de eliminação de documentos à Comissão de Análise, Avaliação e Seleção de Documentos.

— QUESTÃO 36 —

A adoção de técnica de microfilmagem tem como objetivo primordial

- (A) a catalogação de acervos.
- (B) a fumigação de acervos.
- (C) a preservação de acervos.
- (D) o recolhimento dos acervos.

— QUESTÃO 37 —

Para que um documento eletrônico arquivístico tenha garantia da sua capacidade de testemunho, o elemento fundamental a ser considerado é o conceito de

- (A) gerenciamento.
- (B) metadado.
- (C) impressão.
- (D) transmissão.

— QUESTÃO 38 —

Os dispositivos de armazenamento de um Sistema Informatizado de Gestão Arquivística de Documentos (SIGAD) e os documentos neles armazenados devem estar sujeitos a ações de preservação que garantam sua conservação de longo prazo. Esses dispositivos devem

- (A) ser preferencialmente de padrões abertos.
- (B) prover funcionalidades de uma tabela de temporalidade.
- (C) prever a definição de prazos de guarda.
- (D) possibilitar a digitalização de documentos.

— QUESTÃO 39 —

O e-ARQ Brasil propõe um modelo de requisitos para um sistema informatizado, definido como:

- (A) conjunto de tecnologias utilizadas para organização de arquivos de um órgão ou entidade. Esse conjunto possui as seguintes funcionalidades: digitalização de documentos, gerenciamento de depósitos, produção de arquivos corrente, intermediário e permanente.
- (B) conjunto de equipamentos e programas computacionais que produzem, processam, armazenam e possibilitam acesso à informação proveniente de fontes internas e externas, de modo a apoiar o desempenho das atividades de um órgão ou uma entidade.
- (C) conjunto de procedimentos e de operações técnicas referentes à produção, tramitação, ao uso, à avaliação e ao arquivamento dos documentos em fase corrente e intermediária, visando à sua eliminação ou ao recolhimento para guarda permanente, processados por computador.
- (D) conjunto de tecnologias utilizadas para organização da informação não estruturada de um órgão ou entidade. Esse conjunto pode ser dividido nas seguintes funcionalidades: captura, gerenciamento, armazenamento e distribuição.

— QUESTÃO 40 —

De acordo com a Infra-Estrutura de Chaves Públicas Brasileira (ICP-Brasil), o procedimento inicial para que um usuário obtenha seu certificado digital é:

- (A) enviar documentos pessoais, via Correios, à Autoridade Certificadora Raiz do ICP-Brasil.
- (B) comparecer pessoalmente junto a uma autoridade de registro para que seja identificado e cadastrado.
- (C) preencher cadastro de dados pessoais no *website* do Instituto Nacional de Tecnologia da Informação.
- (D) solicitar o documento pessoalmente junto a uma entidade arquivística pública no seu local de residência.

— QUESTÃO 41 —

O Conselho Nacional de Arquivos (CONARQ) aprovou um modelo de norma para descrição de documentos. Esse modelo denomina-se:

- (A) Norma Brasileira de Descrição Arquivística.
- (B) Norma Brasileira de Descrição de Fundos.
- (C) Norma Nacional de Descrição de Acervos.
- (D) Norma Nacional de Descrição de Arquivos Públicos.

— QUESTÃO 42 —

O procedimento que se destina a orientar os usuários nas diversas modalidades de acesso a um acervo documental é

- (A) a autuação.
- (B) a descrição.
- (C) a juntada.
- (D) a apensação.

— QUESTÃO 43 —

Os procedimentos arquivísticos referentes à identificação de tipologias documentais determinam que estas devem estar vinculadas à estrutura

- (A) curricular.
- (B) física.
- (C) orçamentária.
- (D) organizacional.

— QUESTÃO 44 —

O instrumento de descrição que fornece informações básicas sobre um ou mais arquivos e seus fundos é o

- (A) catálogo.
- (B) guia.
- (C) manual.
- (D) repertório.

— QUESTÃO 45 —

O meio pelo qual se identificam, localizam, resumem ou transcrevem em diferentes graus e amplitudes os conjuntos documentais em um arquivo, visando a seu acesso, é

- (A) a amostragem classificatória.
- (B) o princípio da proveniência.
- (C) a sinopse temática.
- (D) o instrumento de pesquisa.

— QUESTÃO 46 —

De acordo com os critérios de conservação de acervos fotográficos, para o acondicionamento de primeiro nível, deve-se usar

- (A) papel couchê.
- (B) papel reciclado.
- (C) papel neutro.
- (D) papel vergê.

— QUESTÃO 47 —

Para preservar documentos em bom estado de conservação, a temperatura ambiental deve ser mantida entre

- (A) 20 °C e 22 °C.
- (B) 24 °C e 28 °C.
- (C) 26 °C e 30 °C.
- (D) 30 °C e 35 °C.

— QUESTÃO 48 —

O método atualmente adotado para a manutenção do ambiente em condições ideais de conservação dos documentos é

- (A) a laminação.
- (B) o alisamento.
- (C) a imersão.
- (D) a higienização.

— QUESTÃO 49 —

De acordo com a Lei de Acesso à Informação (Lei n. 12.527, de 18 de novembro de 2011), o serviço de busca da informação é gratuito, mas poderá ser cobrado se

- (A) houver informação em documentos sigilosos.
- (B) for necessária pesquisa aos documentos.
- (C) houver solicitação de reprodução de documentos.
- (D) houver necessidade de supressão de informação.

— QUESTÃO 50 —

No Brasil, a lei vigente que versa sobre a política nacional de arquivos públicos e privados é a de número

- (A) 5.379, de 07 de setembro de 1988.
- (B) 8.159, de 08 de janeiro de 1991.
- (C) 9.125, de 20 de outubro de 2000.
- (D) 10.127, de 14 de dezembro de 2004.