

CONCURSO PÚBLICO EDITAL Nº 03/2013 PARA PROVIMENTO DE VAGAS PARA O CONCURSO PÚBLICO MUNICIPAL DO MUNICÍPIO DE FAZENDA RIO GRANDE - ESTADO DO PARANÁ

CARGO: TÉCNICO EM CONTROLE DE OBRAS, ORÇAMENTOS E PROJETOS
DATA: 09/06/2013 - PERÍODO DE PROVA: MANHÃ

LEIA AS INSTRUÇÕES:

- ✓ Verifique se este caderno de questões corresponde ao cargo que você concorre e se ele contém 50 (cinquenta) questões de múltipla escolha, com 4 alternativas (a,b,c,d) de resposta para cada uma, correspondentes à prova objetiva. Caso o caderno esteja incompleto, tenha qualquer defeito ou apresente alguma divergência ao cargo que você concorre, solicite ao fiscal de sala que tome as providências cabíveis, pois não serão aceitas reclamações posteriores nesse sentido;
- ✓ No momento da identificação, verifique o cartão resposta, se as informações relativas a você estão corretas. Caso haja algum dado a ser retificado, peça ao fiscal de sala para corrigir em Ata;
- ✓ Você dispõe de 4 (quatro) horas para fazer a prova objetiva;
- ✓ Na duração da prova, está incluído o tempo destinado à entrega do material de prova e ao preenchimento do cartão resposta;
- ✓ Você deve deixar sobre a carteira apenas o documento de identidade e a caneta esferográfica de tinta azul ou preta;
- ✓ Não é permitido durante a realização da prova o uso de aparelhos eletrônicos, tais como bip, telefone celular, walkman, agenda eletrônica, notebook, palmtop, pen drive, receptor, gravador, máquina de calcular, máquina fotográfica, controle de alarme de carro etc., bem como relógio de qualquer espécie, óculos escuros, protetor auricular ou quaisquer acessórios de chapelaria, tais como chapéu, boné, gorro etc., consulta a livros, dicionários, apontamentos e apostilas;
- ✓ É proibido fazer anotação de informações relativas às suas respostas no comprovante de inscrição e(ou)em qualquer outro meio, que não os permitidos;
- ✓ Não se comunique com outros candidatos nem se levante sem autorização;
- ✓ Somente após decorrida 1 (uma) hora do início da prova, você poderá se retirar da sala de aplicação de prova;
- ✓ Ao terminar a prova, chame o fiscal de sala, devolva-lhe o caderno de prova e o cartão resposta devidamente assinado e deixe o local de provas;
- ✓ A desobediência a qualquer uma das determinações constantes em edital, no presente caderno de prova e no cartão resposta poderá implicar na anulação da sua prova;
- ✓ Tenha calma para não prejudicar seu desempenho e boa prova.

INSCRIÇÃO: _____

NOME COMPLETO: _____

O ESPELHO

Marcello Migliaccio

1º Falar _____ da TV virou moda. É "in" repudiar a baixaria, desancar o onipresente eletrodoméstico. E num país em que os domicílios sem televisão são cada vez mais raros, o que não falta é especialista no assunto. Se um dia fomos uma pátria de 100 milhões de técnicos de futebol, hoje, mais do que nunca, temos um considerável rebanho de briosos críticos televisivos.

2º Depois de azular as janelas das grandes e das pequenas cidades, os televisores ganharam as ruas. Hoje não se encontra um boteco, padaria ou consultório dentário que não tenha um. Há até taxistas que trabalham com um olho no trânsito e outro na novela. E, nas esquinas escuras _____ se come o suspeitíssimo cachorro-quente, pode-se assistir ao "Jornal Nacional" e ser assaltado em tempo real.

3º Mas, quando os "especialistas" criticam a TV, estão olhando para o próprio umbigo. Feita nossa imagem e semelhança, ela é resultado do que somos enquanto rebanho globalizado. Macaqueia e realimenta nossos conceitos e preconceitos quando ensina, diariamente, o bê-á-bá a milhões de crianças.

4º Reclamamos que, na programação, só vemos sexo, violência e consumismo. Ora, isso é o que vemos também ao sair à rua. E, se fitarmos o espelho do banheiro com um pouco mais de atenção, levaremos um susto com a reprise em cartaz. Talvez por isso a TV nos choque, por nos mostrar, sem rodeios, a quantas anda o inconsciente coletivo. E não adianta dourar a pílula; já tentaram, mas não deu ibope.

5º Aqui e ali, alguns vão argumentar que cultivam pensamentos mais nobres e que não se sentem representados no vídeo. Mas a fração que lhes cabe está lá, escondidinha como é próprio às minorias. Está nos bons documentários, nas belas imagens dos eventos esportivos, na dramaturgia sensível, no humorismo que surpreende, nos desenhos e nas séries inteligentes, no entrevistador que sabe ouvir o entrevistado, nas campanhas altruístas.

6º Reclama-se muito que, nas novelas, os negros fazem, quase sempre, papéis de subalternos. Mas é essa condição que a sociedade reserva à maioria deles, e também maior parte dos nordestinos, na vida real. O que a televisão fornece é um retrato da desigualdade no país.

7º E, quando explora a mulher, estigmatiza gays, restringe o mercado para o ator idoso ou vende cerveja, maledicência e atrocidade na programação vespertina, ela reflete o mundo dominado pelo macho-adulto-branco-capitalizado.

8º A televisão mostra ainda violência no _____, gritam os pacifistas na sala de estar. Como se não houvesse milhões de Stallones, Gibsons, Bronsons, Van Dammes e Schwarzeneggers armados até os dentes no Afeganistão, Golfo Pérsico, Colúmbia, Mianmar, favelas brasileiras ou trincheiras angolanas.

9º É natural que uma parte de nós se revolte, o que parece tão compreensível quanto inócuo. Campanhas contra a baixaria televisiva lembram a piada do marido traído que encontra a mulher com o amante no sofá da sala e, no dia seguinte, vende o móvel para solucionar o problema. Garrotear a TV é tapar o sol com a peneira.

10 Enquanto a discussão ganha adeptos, continuamos devorando nosso tubo de imagem de estimação. Depois, de barriga cheia, saímos à rua para ratificar, legitimar com pensamentos, palavras e atitudes, que as coisas são mesmo assim e que, pelo jeito, a reprise continuará.

11 Aquele repórter sensacionalista que repete exaustão a cena de linchamento, o apresentador que tripudia sobre o drama do desvalido, a loura que vê na criança um consumidor a mais, o jovem que tem num "reality show" desumano a alternativa para sua falta de horizonte, amenina precocemente erotizada, no fundo, somos todos nós.

(Folha de S. Paulo, 19/10/2003.)

01 - Assinale a alternativa que completa corretamente as lacunas de linha contínua do texto:

- a) mau – onde – dia a dia.
- b) mau – aonde – dia-a-dia.
- c) mal – onde – dia a dia.
- d) mal – aonde – dia-a-dia.

02 - Assinale a alternativa que preenche corretamente as lacunas de linha pontilhada do texto:

- a) à – à – à.
- b) a – a – a.
- c) a – à – à.
- d) à – a – a.

03 - Assinale a alternativa em que a palavra destacada não seja um pronome relativo:

- a) (...) que trabalham com um olho no trânsito e outro na novela. (2º parágrafo)
- b) (...) que cultivam pensamentos mais nobres (...) (5º parágrafo)
- c) (...) que sabe ouvir o entrevistado (...) (5º parágrafo)
- d) (...) que encontra a mulher com o amante no sofá da sala (...) (9º parágrafo)

04 - "Se um dia fomos uma pátria (...)". O verbo empregado nos mesmos tempo e modo que o grifado acima está em:

- a) virou moda.
- b) temos um considerável rebanho.
- c) fitarmos o espelho.
- d) tripudia sobre o drama do desvalido.

05 - "(...) o apresentador que tripudia sobre o drama do desvalido (...)". O verbo que exige o mesmo tipo de complemento que o grifado acima está empregado em:

- a) A televisão mostra muita violência.
- b) Mas a fração que lhes cabe está lá.
- c) Ela reflete o mundo dominado.
- d) Os negros fazem, quase sempre, papéis de subalternos.

06 - O uso das aspas em "especialistas" (3º parágrafo) foram empregadas para:

- a) Acentuar o valor significativo da palavra no contexto.
- b) Reforçar o sentido próprio da palavra.
- c) Assinalar no contexto o sentido irônico atribuído à palavra.
- d) Isolar uma explicação mencionada incidentalmente.

07 - Analise as afirmações sobre a formação das palavras retiradas do texto e em seguida assinale a afirmação incorreta:

- a) As palavras *preconceitos* (3º parágrafo) e *precocemente* (11 parágrafo) apresentam prefixos de mesmo significado.
- b) A palavra *onipresente* (1º parágrafo) tem como prefixo *oni* que significa tudo, todo.
- c) O sufixo de "*compreensível*" (9º parágrafo) significa "*passível de*".
- d) As palavras "*eletrodomésticos* e *televisão*" são formadas por derivação parassintética.

08 - Assinale a alternativa em que a função sintática do termo destacado está corretamente identificada:

- a) (...) a discussão ganha adeptos (...) – adjunto adnominal.
- b) (...) as coisas são mesmo assim (...) – predicativo do sujeito.
- c) (...) temos um considerável rebanho de briosos críticos televisivos. – sujeito simples.
- d) (...) a loura vê nas crianças um consumidor a mais (...) – predicado verbal.

09 - Em "(...) se fitarmos o espelho (...)" (4º parágrafo).

"(...) mas não deu ibope (...)" (4º parágrafo).

"Enquanto a discussão ganha adeptos (...)" (10 parágrafo).

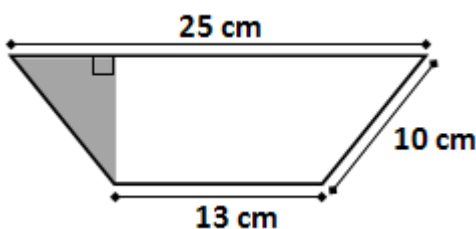
Os elementos coesivos destacados introduzem ideia de:

- a) condição, oposição, tempo.
- b) consequência, adição, conformidade.
- c) concessão, explicação, causa.
- d) tempo, concessão, consequência.

10 - O texto é formado por onze parágrafos. A ideia principal do texto está apresentada no:

- a) 1º parágrafo – Falar mal da TV virou moda.
- b) 3º parágrafo – A programação de TV copia e realimenta nossos conceitos e preconceitos.
- c) 4º parágrafo – Sexo, violência e consumismo.
- d) 8º parágrafo – A TV mostra muita violência.

11 - A área e o perímetro do trapézio isósceles abaixo medem, respectivamente:



- a) 304 cm² e 58 cm.
- b) 152 cm² e 58 cm.
- c) 152 cm² e 48 cm.
- d) 76 cm² e 58 cm.

12 - Uma empresa de turismo está organizando um cruzeiro pela costa brasileira. O navio possui capacidade para 100 passageiros mais a tripulação, de modo que de cada passageiro, será cobrado R\$ 800,00 mais R\$ 10,00 por cada lugar vago. Para que essa empresa obtenha rentabilidade máxima nesse cruzeiro, o número de passageiros deve ser igual a:

- a) 85.
- b) 90.
- c) 95.
- d) 100.

13 - Maurício pretende comprar um veículo da seguinte maneira: uma entrada de R\$ 8200,00 no ato da compra, mais 35 parcelas mensais, sendo a primeira no valor de R\$ 940,00 e, a partir da segunda, o valor de cada parcela será reduzido em R\$ 15,50 do valor pago no mês anterior. Dessa forma, Maurício irá pagar pelo veículo:

- a) menos de 27 mil reais.
- b) entre 27 mil e 31 mil reais.
- c) entre 31 mil e 34 mil reais.
- d) Nenhuma das alternativas anteriores.

14 - Fábio possui uma caixa em formato de prisma quadrangular regular cuja diagonal da base é $30\sqrt{2}$ cm e a diagonal da face lateral mede 50 cm. O volume dessa caixa é igual a:

- a) 36 L.
- b) 18 L.
- c) 15 dm^3 .
- d) 1200 cm^3 .

15 - Num grupo de amigos há 4 rapazes e 5 moças. Serão escolhidas aleatoriamente 3 pessoas desse grupo para formar uma comissão para representá-los na Jornada Mundial da Juventude, a ser realizada neste ano, no Rio de Janeiro. A probabilidade de haver, na comissão escolhida, pelo menos um rapaz é de:

- a) menos de 50%.
- b) mais de 50% e menos de 75%.
- c) aproximadamente 88%.
- d) aproximadamente 95%.





16 - Ana é 5 anos mais velha que Bruno. A razão entre os quadrados das idades de Ana e Bruno é 4/9. Ana tem:

- a) 2 anos.
- b) 5 anos.
- c) 7 anos.
- d) 10 anos.

17 - Um computador é basicamente composto por software e hardware. Entre as alternativas que seguem, a seguinte opção não remete a um exemplo de hardware:

- a) Sistema Operacional.
- b) Disco Rígido (HD).
- c) Interface USB.
- d) Mouse.

18 - Um dos softwares básicos presentes no sistema operacional Microsoft Windows é o aplicativo Microsoft Paint. Neste programa, a seguinte opção pode ser utilizada com o objetivo de realizar a seleção de uma região de forma livre:

- a) 
- b) 
- c) 
- d) 

19 - A Suíte para escritório BrOffice (hoje conhecida como LibreOffice) possui um aplicativo voltado a edição de textos (assim como o Word no pacote Microsoft Office). A seguinte opção apresenta o nome deste aplicativo:

- a) Base.
- b) Draw.
- c) Impress.
- d) Writer.

20 - O seguinte aplicativo pode ser utilizado para visualização de arquivos do tipo *Portable Document Format*:

- a) Adobe Reader.
- b) Microsoft Access.
- c) Notepad.
- d) Wordpad.

21 - O seguinte software não está presente nativamente no sistema operacional Microsoft Windows, ou seja, precisa ser adquirido separadamente:

- a) Microsoft Office.
- b) Microsoft Internet Explorer.
- c) Microsoft Paint.
- d) Bloco de Notas (Notepad).

22 - De acordo com os dados oficiais do Censo 2.010 do IBGE, a população atual de Fazenda Rio Grande é de quantos habitantes?

- a) 81.576 habitantes.
- b) 81.675 habitantes.
- c) 81.756 habitantes.
- d) 81.765 habitantes.

23 - Em meados de maio, uma legião de pessoas invadiram várias agências bancárias com a finalidade de tentar sacar os benefícios do Bolsa Família e um suposto pagamento extra pelo dia das mães. Em que regiões brasileiras ocorreram a maioria dos tumultos em agências da Caixa Econômica Federal?

- a) Centro-Oeste e Nordeste.
- b) Centro-Oeste e Norte.
- c) Nordeste e Norte.
- d) Sudeste e Sul.

24 - No ano passado mais de 500 mil cédulas falsas foram retiradas de circulação, este ano quase 100 mil cédulas já foram recolhidas. Que instituição abaixo é a responsável pelo controle e recolhimento final das cédulas falsas em todo o país?

- a) Banco Central.
- b) Banco do Brasil.
- c) Caixa Econômica Federal.
- d) Casa da Moeda.

25 - Qual dos juristas abaixo é o mais novo Ministro do Supremo Tribunal Federal?

- a) Ari Pargendler.
- b) Barros Levenhagen.
- c) Jorge Mussi.
- d) Teori Zavascki.

26 - De acordo com a Lei de Zoneamento do Município de Fazenda Rio Grande, o uso do Solo é o tipo de utilização de parcelas do solo urbano por certas atividades dentro de uma determinada zona, podendo ser esses usos definidos de acordo com os termos presentes nas alternativas abaixo, EXCETO:

- a) Permitidos.
- b) Permissíveis.
- c) Aleatórios.
- d) Proibidos.

27 - De acordo com a Lei de Zoneamento do Município de Fazenda Rio Grande assinale a alternativa a seguir que apresenta ERRONEAMENTE uma definição de um índice urbanístico incidente sobre o solo:

- a) Dimensão do Lote ou Fração Mínima: área mínima do lote individual, quando do parcelamento de uma gleba, ou fração pela qual a área total da gleba deve ser dividida, com a finalidade de obter as frações ideais aplicáveis para a gleba.
- b) Taxa de Ocupação: percentual expresso pela relação entre a área de projeção ortogonal da edificação ou edificações e a área total do lote onde se pretende edificar.
- c) Coefficiente de Aproveitamento: valor que deve ser multiplicado pela área do terreno para se obter a área mínima de projeção para a futura construção.
- d) Recuos Frontais, Laterais e de Fundos: distância entre o limite extremo da edificação e cada uma das divisas do lote; os recuos frontais serão medidos a partir do alinhamento predial, sendo que os demais a partir de linhas paralelas às divisas do lote, salvo projeções de saliências em edificações, nos casos previstos em lei.

28 - "Área de terra que não foi objeto de parcelamento urbano", segundo a Lei de Zoneamento do Município de Fazenda Rio Grande é a definição de:

- a) Chácaras.
- b) Áreas destinadas a uso público em novos loteamentos.
- c) Glebas.
- d) Zonas.

29 - De acordo com o Código de Obras do Município de Fazenda Rio Grande, assinale a alternativa a seguir que apresenta a escala que deve ser apresentada a Planta de Situação e Localização de novos projetos:

- a) 1:500 (um para quinhentos).
- b) 1:200 (um para duzentos).
- c) 1:100 (um para cem).
- d) 1:1000 (um para mil).

30 - De acordo com o Código de Obras do Município de Fazenda Rio Grande, nenhuma construção, demolição ou reparo poderá ser feita sem tapume que deverá ter uma altura mínima de (assinale a alternativa correta):

- a) 1,50m (um metro e cinquenta centímetros).
- b) 2,50m (dois metros e cinquenta centímetros).
- c) 2,90m (dois metros e noventa centímetros).
- d) 1,80m (um metro e oitenta centímetros).

31 - De acordo com o Código de Obras do Município de Fazenda Rio Grande, a definição "é a somatória das áreas computáveis e não computáveis de todos os pisos de uma edificação, inclusive as ocupadas por paredes e pilares" se refere à:

- a) Área computável geral.
- b) Área aberta.
- c) Área construída.
- d) Área edificável.

32 - De acordo com o Código de Obras do Município de Fazenda Rio Grande, nos edifícios de habitação unifamiliar ou coletiva e nos edifícios comerciais de prestação de serviços e outros, o número mínimo de vagas de estacionamento para veículos será em proporção compatível com o porte e o uso da edificação, de acordo, por exemplo, com as alternativas apresentadas abaixo, EXCETO:

- a) Habitação unifamiliar isolada: Uma vaga para cada unidade residencial.
- b) Habitação Coletiva: Uma vaga para cada unidade residencial ou uma vaga a cada 80 m².
- c) Restaurante, Lanchonete, Boate, Clube Noturno, Discoteca, Casa de Show, Danceteria, Café Concerto, Salão de Baile e Restaurante Dançante: Uma vaga a cada 25 m² de área construída.
- d) Hotel - acima de 12 unidades de alojamento: 2 vagas para cada 4 unidades de alojamento.

33 - De acordo com o Código de Posturas do Município de Fazenda Rio Grande, para proteger de maneira geral a paisagem, os monumentos e os locais dotados de particular beleza, bem como obras e prédios de valor artístico de interesse social, incumbe à prefeitura adotar medidas amplas visando objetivos específicos descritos a seguir, EXCETO:

- a) Preservar os recantos naturais de beleza paisagística, mantendo sempre que possível, a vegetação que caracteriza a flora natural da região.
- b) Proteger as áreas verdes existentes no Município, com objetivos urbanísticos, preservando, tanto quanto possível, a vegetação nativa e incentivando o reflorestamento.
- c) Preservar edificações, áreas e logradouros públicos relacionados com a identidade da cidade.
- d) Fiscalizar a divisão de glebas e zonas bucólicas no intuito de criar áreas de ecoturismo.

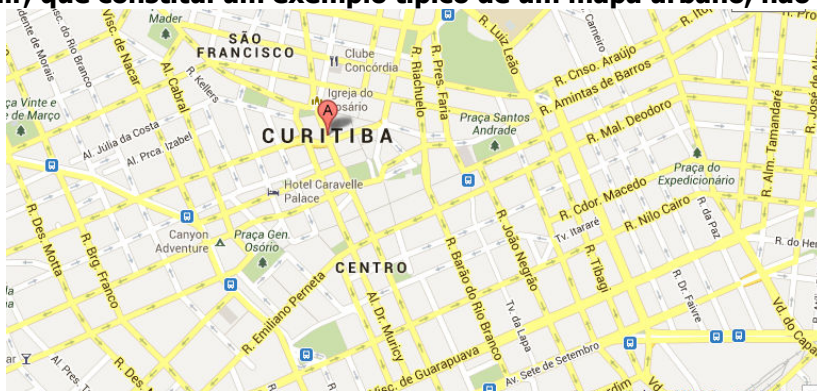
34 - Segundo a Legislação Ambiental expressa pela Lei nº 12.305, de 2 de Agosto de 2010, que Institui a Política Nacional de Resíduos Sólidos, a definição "série de etapas que envolvem o desenvolvimento do produto, a obtenção de matérias-primas e insumos, o processo produtivo, o consumo e a disposição final" refere-se à:

- a) Etapas de contaminação do produto.
- b) Cadeia possível de contaminação.
- c) Relações consequentes de responsabilidade ambiental.
- d) Ciclo de vida do produto.

35 - Segundo a Legislação Ambiental expressa pela Lei nº 12.305, de 2 de Agosto de 2010, que Institui a Política Nacional de Resíduos Sólidos, a definição "conjunto de ações voltadas para a busca de soluções para os resíduos sólidos, de forma a considerar as dimensões política, econômica, ambiental, cultural e social, com controle social e sob a premissa do desenvolvimento sustentável" refere-se à:

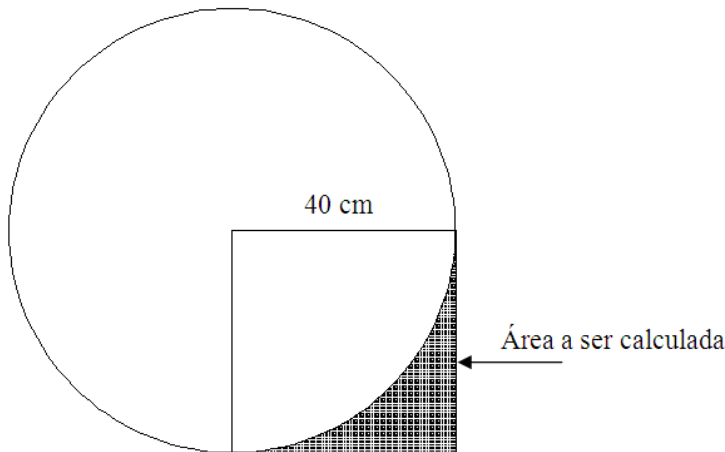
- a) Reciclagem.
- b) Gestão integrada de resíduos sólidos.
- c) Gerenciamento de resíduos sólidos.
- d) Logística reversa.

36 - Na figura a seguir, que constitui um exemplo típico de um mapa urbano, não é possível identificar:



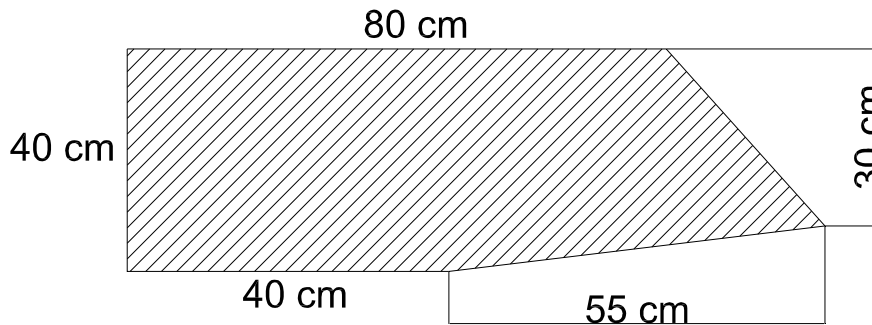
- a) Nomes de ruas.
- b) Cidade a que se refere o mapa.
- c) Posicionamento de praças.
- d) Fluxo de linhas de ônibus.

37 - A figura a seguir contém um círculo (de raio igual a 40 centímetros) sobrepondo um quadrado de lado possuindo também 40 centímetros. Parte do quadrado está ocupando uma região correspondente a um quarto da área do círculo. Nessas condições, considerando o valor de n (Pi) igual a 3,14 (três vírgula quatorze), a área hachurada indicada na figura tem o valor apresentado na alternativa:



- a) 1600 cm².
- b) 824 cm².
- c) 344 cm².
- d) 1286 cm².

38 - Assinale a alternativa que apresenta o valor da área da região hachurada apresentada na figura a seguir:



- a) 3300 cm^2 .
- b) 3800 cm^2 .
- c) 3575 cm^2 .
- d) 4250 cm^2 .

39 - Em Mecânica dos Solos, o "processo de decomposição da rocha sem alteração química dos seus componentes" é conhecido como:

- a) Intemperismo químico.
- b) Intemperismo físico.
- c) Intemperismo biológico.
- d) Intemperismo eólico.

40 - A Textura de um solo é o tamanho relativo e a distribuição das partículas sólidas que o formam. O estudo da textura dos solos é realizado por intermédio do ensaio de:

- a) *Slump* text.
- b) Compressão.
- c) Granulometria.
- d) Abrasão.

41 - O solo ao sofrer solicitações externas se deforma, modificando (assinale a alternativa correta):

- a) O seu volume e forma iniciais.
- b) A sua textura.
- c) O intemperismo.
- d) Todas as alternativas estão erradas.

42 - Sobre Escalas em Desenho Técnico é ERRADO afirmar:

- a) A Escala escrita como "ESCALA 1:2" é uma escala de redução.
- b) A Escala escrita como "ESCALA 1:1" é uma escala natural.
- c) A Escala escrita como "ESCALA 5:1" é uma escala de ampliação.
- d) A Escala escrita como "ESCALA 1:10" é uma escala de ampliação.

43 - Segundo as Normas de Desenho Técnico, o formato final do dobramento de cópias de desenhos formatos A0, A1, A2 e A3 deve ser o formato:

- a) A0.
- b) A2.
- c) 60 % do A0.
- d) A4.

44 - Assinale a alternativa que apresenta um tipo de régua, que possui várias escalas, usada em Desenho Técnico para eliminar o uso de cálculos para converter medidas:

- a) Teodolito.
- b) Aranha.
- c) Compasso.
- d) Escalímetro.

45 - Tratando-se da Segurança do Trabalho, um eficiente treinamento para o exercício das funções proporciona algumas vantagens. Assinale a alternativa que apresenta uma dessas vantagens:

- a) Diminuição dos custos da empresa pela diminuição da ocorrência de retrabalho.
- b) Diminuição da quantidade mas aumento da qualidade dos produtos produzidos.
- c) Aumento do número de afastamentos de saúde.
- d) Aleatoriedade da vocação dos trabalhadores.

46 - Assinale a alternativa que apresenta um tipo de EPI disponível no mercado:

- a) EPI´s para quedas de ferramentas das mãos.
- b) EPI´s para proteção contra perdas de olfato.
- c) EPI´s para proteção dos membros superiores.
- d) EPI´s para proteção dos membros médios.

47 - O computador realiza as operações básicas com dados apresentadas nas alternativas a seguir, EXCETO:

- a) Entrada de dados.
- b) Processamento de dados.
- c) Puncionamento de dados.
- d) Armazenagem de dados.

48 - A memória BUFFER dos computadores pode ser chamada de intermediária, pois se encontra entre a CPU (processador) e os periféricos de entrada e saída de informação. Suas principais funções estão apresentadas nas alternativas abaixo, EXCETO:

- a) Reter as informações enquanto o processador permanece ocupado.
- b) Armazenar as instruções para liberar o processador para outra tarefa.
- c) Fazer uma compatibilização de velocidade entre os periféricos de velocidades diferentes.
- d) Gerencia o processamento da linguagem de baixo nível.

49 - Em Informática, o que significa o termo *Plug And Play* que possui sigla "PnP":

- a) Se refere a programas desenvolvidos com aplicações definidas, que facilitam a operação do computador por parte do usuário.
- b) Se refere à instalação automática dos itens de hardware, sem a necessidade de se desligar o computador para iniciar sua instalação.
- c) Se refere aos programas que gerenciam todos os sistemas internos da máquina.
- d) Se refere a toda parte lógica programável do computador.

50 - O editor de textos presente no pacote Office chama-se Microsoft Word. Ele possui inúmeras ferramentas para criar e editar textos. Dentre as ferramentas do Microsoft Word, encontramos as teclas de atalho. Suponha que um usuário tenha digitado uma letra incorreta e queira desfazer sua última ação. Para realizar esta operação, utilizando as teclas de atalho, o usuário deverá pressionar:

- a) Ctrl + C.
- b) Ctrl + Z.
- c) Alt + V.
- d) Alt + L.

DESTAQUE AQUI

PREENCHA AQUI SUAS RESPOSTAS

01	02	03	04	05	06	07	08	09	10	11	12	13	14	15	16	17	18	19	20
21	22	23	24	25	26	27	28	29	30	31	32	33	34	35	36	37	38	39	40
41	42	43	44	45	46	47	48	49	50										