



PREFEITURA MUNICIPAL DE FORQUILHA - CE

CONCURSO PÚBLICO – EDITAL 001/2013

ENFERMEIRO HOSPITAL

NOME DO CANDIDATO: _____

RG: _____ ÓRGÃO EXPEDIDOR: _____

Nº DE INSCRIÇÃO

--	--	--	--	--	--

ASSINATURA: _____

LEIA COM ATENÇÃO E SIGA RIGOROSAMENTE ESTAS INSTRUÇÕES:

1. Este caderno está contendo 60 (sessenta) questões de múltipla escolha, numeradas de 01 a 60.
2. Cada uma das questões apresenta um enunciado seguido de 5 (cinco) alternativas, das quais somente uma é a correta. Assinale-a.
3. Examine se a prova está completa, com a sequência numérica das questões, se há falhas ou imperfeições gráficas que causem dúvidas. Qualquer reclamação deverá ser feita durante os 20 minutos iniciais. Após esse tempo, qualquer reclamação será desconsiderada.
4. Depois de decorrido 2 (duas) horas do início da prova, será distribuído o Cartão-Resposta, o qual será o único documento válido para a correção da prova. Ao recebê-lo, verifique se o seu nome e número de inscrição estão corretos. Reclame imediatamente se houver discrepância.
5. O cartão-resposta não pode ser dobrado, amassado, rasurado ou manchado. Exceto sua assinatura e inscrição, nada deve ser escrito ou registrado fora dos locais destinados às respostas. Tenha muita atenção ao marcar seu cartão-resposta, pois não haverá substituição por erro do candidato. Marque sua resposta pintando completamente o espaço correspondente à alternativa de sua opção.

Ex.: A B C D E
6. A leitora de marcas não registrará as respostas em que houver falta de nitidez, uso de corretivo, marcação a lápis ou marcação de mais de uma letra. Não serão computadas questões não assinaladas.
7. Durante a prova, é proibido o intercâmbio e o empréstimo de material de qualquer natureza entre os candidatos. A tentativa de fraude, a indisciplina e o desrespeito às autoridades encarregadas dos trabalhos são faltas que implicarão na desclassificação do candidato(a).
8. Qualquer forma de comunicação entre candidatos implicará na eliminação de ambos do certame.
9. Não será permitido ao candidato, durante a realização das provas, portar: armas; aparelhos eletrônicos de qualquer natureza; bolsas; livros; jornais ou impressos em geral; bonés, chapéus, lenço de cabelo, bandanas etc.
10. É vedado o uso de telefone celular ou de qualquer outro meio de comunicação. O candidato que for flagrado portando aparelho celular, durante o período de realização da prova, ou, ainda, aquele candidato cujo aparelho celular tocar será sumariamente eliminado do certame.
11. Em caso de dúvida, durante a prova, levante o braço para solicitar atendimento da fiscalização. Jamais pergunte em voz alta.
12. O Candidato que permanecer na sala de provas, por mais de 3h45min, poderá levar consigo a cópia do gabarito, em formulário específico, fornecido pela **ORGANIZADORA**.
13. Ao terminar a resolução da prova, entregue-a ao fiscal de sala juntamente com o **Cartão-Resposta** (devidamente assinado). Não esqueça, também, de **assinar a folha de frequência**.
14. As provas terão duração de 4 horas. Turno da Manhã com início às 08h00min e término às 12h00min e Turno da Tarde com início às 14h00min e término às 18h00min. Entretanto, o candidato só poderá ausentar-se da sala, depois de decorridas duas horas do início das provas.
15. Os **Gabaritos Preliminares das Provas Objetivas** serão divulgados 72 (setenta e duas) horas após a realização das mesmas.

CONHECIMENTOS GERAIS

Leia o texto a seguir para responder as questões de 1 a 3.

TEXTO I

Quarta-feira 07/08/13 8h – 84% se dizem a favor das manifestações populares recentes, em números do Ibope.

O Movimento de Combate à Corrupção Eleitoral divulgou pesquisa feita pelo Ibope que aponta o apoio de 85% da população brasileira à realização de reforma política, com validade já para as eleições de 2014. Na pesquisa, 92% dos entrevistados disseram que são a favor de que a reforma política aconteça por meio de proposta de iniciativa popular.

Sobre doações eleitorais, 78% se manifestaram contrário a que empresas privadas possam contribuir com recursos a partidos e candidatos. Na mesma linha, 80% dos entrevistados disseram que deveria haver um limite para uso do dinheiro público nas campanhas eleitorais. O Ibope mostrou também que 90% querem punição mais severa para quem pratica o Caixa 2. Por último, 84% disseram que são a favor das manifestações populares que tomaram as ruas do Brasil nos últimos meses.

(disponível em noticiasr7.com.R7)

1. Segundo o texto I, pode-se inferir que:

- a) De acordo com a população vai haver uma reforma política no Brasil.
- b) As empresas privadas vão poder contribuir com recursos a partidos políticos.
- c) Há um limite para uso do dinheiro público nas campanhas eleitorais.
- d) A minoria da população quer punição para quem pratica Caixa 2.
- e) As manifestações populares não tiveram o apoio da maioria da população.

2. Quem pratica o Caixa 2, segundo a população entrevistada pelo Ibope:

- a) Não tem punição.
- b) Tem punição leve.
- c) Tem punição severa.
- d) Tem a punição merecida.
- e) Não vai ter punição.

3. Considere o período a seguir:

O Movimento de Combate à Corrupção Eleitoral divulgou pesquisa feita pelo Ibope.

Em relação à afirmativa, marque a opção CORRETA.

- a) Tem sujeito simples: “o movimento”.
- b) Tem sujeito simples cujo núcleo é “combate”.
- c) Apresenta verbo transitivo indireto regido pela preposição “pelo”.
- d) Apresenta agente da passiva: pelo Ibope.
- e) Tem o termo “pelo Ibope” como complemento nominal.

4. Suponha este comunicado de uma empresa a seus funcionários:

A diretoria de Recursos Humanos informa que os funcionários, que se inscreverem no curso de computação, terão aulas às quartas e sextas-feiras, das 16h30min. às 18h30min. Informa também que os

funcionários que não fizeram sua inscrição deverão aguardar o início de um novo curso.

Analise as proposições e marque a opção CORRETA.

- a) As orações adjetivas que se inscreveram no curso de computação e que não fizeram sua inscrição, tal como se apresentam no texto, têm a mesma função sintática.
- b) Há uma incoerência de sentido nesse comunicado.
- c) Tal como se apresentam no texto, as orações adjetivas são, respectivamente, restritiva e explicativa.
- d) Se tirarmos as vírgulas da primeira oração adjetiva, o sentido do comunicado permanece o mesmo.
- e) Há uma dúvida nesse comunicado causado pela palavra “também”.

5. Analise os enunciados a seguir:

- I. **A ex-mulher de meu irmão, que é advogado, mora em Cuiabá.**
- II. **A ex-mulher de meu irmão que é advogado mora em Cuiabá.**

Marque a opção INCORRETA.

- a) Em I fica subtendido que o irmão do emissor separou-se uma única vez.
- b) Em II a oração adjetiva caracteriza irmão e tem valor de restrição.
- c) Nos dois períodos, o antecedente do pronome relativo que é o nome irmão.
- d) Em I a oração adjetiva caracteriza o nome ex-mulher e tem valor de explicação.
- e) Em II, fica subtendido que o emissor tem outro(s) irmão(s) que não é(são) advogado(s).

As questões de 6 a 8 referem-se ao texto II.

TEXTO II

Não se pode ser sem rebeldia

“Eu acho que os adultos, pais e professores, deveriam compreender melhor que a rebeldia, afinal, faz parte do processo da autonomia, quer dizer, não é possível ser sem rebeldia. O grande problema está em como amorosamente dar sentido produtivo, dar sentido criador ao ato rebelde e de não acabar com a rebeldia. Tem professores que acham que a única saída para a rebeldia é a punição, é a castração. Eu confesso que tenho grandes dúvidas em torno da eficácia do castigo.

Eu acho que a liberdade não se autentica sem o limite da autoridade, mas o limite que a autoridade se deve propor a si mesma, para propor ao jovem a liberdade, é um limite que necessariamente não se explica através de castigo. Eu acho que a liberdade precisa de limites, a autoridade inclusive tem a tarefa de propor os limites, mas o que é preciso, ao propor os limites, é propor à liberdade que ela interiorize a necessidade ética do limite, jamais através do medo.

A liberdade que não faz uma coisa porque teme o castigo não está “eticizando-se”. É preciso que eu aceite a necessidade ética, aí o limite é compromisso e não mais imposição, é assunção. O castigo não faz isso. O castigo pode criar docilidade, silêncio. Mas os silenciados não mudam o mundo.”

(Paulo Freire, Pedagogia dos sonhos possíveis.
Org. Ana M.A. Freire. Editora Unesp)

6. Analise as afirmativas e marque a opção INCORRETA.

- Trata-se de um texto dissertativo, no qual marcas linguísticas como “eu acho que”, “eu confesso que”, “que eu aceite” evidenciam um posicionamento nitidamente pessoal do autor relativamente ao tema.
- O termo “eticizando-se” (terceiro parágrafo), que significa “tornando-se ética”, está entre aspas por ser um neologismo, isto é, uma palavra inventada pelo autor do texto.
- Em “É preciso que eu aceite a necessidade ética”, a segunda oração funciona como sujeito da primeira.
- Em “Eu confesso que tenho grandes dúvidas em torno do castigo”, a segunda oração funciona como objeto direto da primeira.
- Se, no período “Eu acho que a liberdade não se autentica sem o limite da autoridade”, a oração principal for substituída por “É inquestionável”, a segunda oração, que funciona como objeto direto, passará a funcionar como sujeito, mas não haverá alteração alguma no grau de subjetividade da afirmação expressa nesse período.

7. De acordo com o texto II, é CORRETO afirmar que:

- Os professores acham que a única saída para a rebeldia é a castração.
- A autoridade é desnecessária.
- O castigo é necessário para explicar o limite da liberdade.
- A rebeldia é necessária para o processo de autonomia.
- Os adultos, pais e professores, não compreendem que a rebeldia faz parte do processo de autonomia.

8. Analisando foneticamente a palavra compromisso, temos:

- Dois dígrafos e um encontro consonantal.
- Um encontro consonantal e um dígrafo.
- Dois encontros consonantais e um dígrafo.
- Três dígrafos.
- Três encontros consonantais.

TEXTO III

PROFESSOR IDEAL

Atitudes mais valorizadas pelos alunos:

59% Tem senso de humor.

58% Dá atenção a seus alunos, ouve suas opiniões.

54% Não humilha, não debocha.

49% Trata o aluno de igual para igual.


48% Diverte-se junto com os alunos, bate-papo.

(Clube de pesquisa – opinião e mercado)

9. Marque a opção CORRETA de acordo com a análise do texto III.

- A maioria dos professores divertem-se junto com seus alunos.
- Há professores que debocham de seus alunos.
- Nenhum professor deixa de dar atenção a seus alunos.
- A maioria dos professores trata o aluno de igual para igual.
- Todos os professores têm senso de humor.

Leia a tirinha a seguir: e responda as questões 10 e 11.



10. Em relação à tirinha, marque a opção CORRETA.

- Apenas um dos quadrinhos não apresenta pronome possessivo.
- No primeiro quadrinho há a presença de adjetivo.
- No terceiro quadrinho há uma classe de palavra subentendida.
- Os verbos de todos os quadrinhos estão no presente.
- Em dois dos quadrinhos há pronome pessoal.

11. Ainda em relação à tirinha, marque a opção INCORRETA.

- O verbo ter, usado nos quadrinhos, é transitivo direto.
- Em “nosso céu”, a palavra nosso funciona como adjunto adnominal.
- O termo “minha terra” tem a função de sujeito.
- No último quadrinho, temos um predicativo do sujeito.
- O termo “mais” está sempre modificando um adjetivo.

12. Analise as afirmativas a seguir:

- O estado autorizou a _____ de terras aos homens do campo.
- Devido ao mau tempo, resolveram _____ a viagem programada.
- Após a tempestade, o submarino _____ e os soldados avistaram a terra.

Marque a opção CORRETA que completa as lacunas respectivamente.

- Sessão – deferir – emergiu.
- Cessão – diferir – imergiu.
- Seção – deferir – emergiu.
- Cessão – diferir – emergiu.
- Sessão – deferir – imergiu.

13. Analise o uso correto dos verbos intervir, contrapor e haver, para completar o período, a seguir:

Se o governo federal não tivesse _____ naquele momento e não tivesse _____ soluções para o problema, certamente os empresários _____ de criticá-lo.

Marque a opção CORRETA que completa as lacunas respectivamente.

- a) Intervindo, contraproposto, haveriam.
- b) Intervido, contraposto, haviam.
- c) Intervisto, contraproposto, haviam.
- d) Intervindo, contraproposto, haviam.
- e) Intervindo, contraposto, haveriam.

14. Analise as opções a seguir, quanto aos gêneros textuais e marque a opção INCORRETA.

- a) Uma receita de bolo é um texto instrucional.
- b) A "moral da história" está presente nas fábulas.
- c) Uma lenda é um texto narrativo.
- d) Um poema tem que ter rimas.
- e) Um e-mail é considerado um gênero textual.

15. Analise a regência verbal e marque a opção CORRETA em relação à norma culta.

- a) Nós nos valem dos artifícios que dispúnhamos para vencer.
- b) Avisaram-no que chegaríamos logo.
- c) Amanhã responderei essa carta.
- d) Ninguém obedece o horário.
- e) O presidente assiste em Brasília há quatro anos.

16. "A", "B" e "C" são matrizes quadradas de ordem 3, e "I" é a matriz identidade de mesma ordem. Marque a opção CORRETA.

- a) $(A + B)^2 = A^2 + 2AB + B^2$
- b) $C \cdot I = C$
- c) $I \cdot A = I$
- d) $(A + B) \cdot (A - B) = A^2 - B^2$
- e) $B \cdot C = C \cdot B$

17. A região do plano cartesiano determinada pelas inequações $x \geq 0$, $y \geq 0$, $x \leq 1$ e $y \leq 3^x$ tem uma área "S". Diante do exposto marque a opção CORRETA.

- a) $S < 0,75$
- b) $2 < S < 3$
- c) $2,25 < S < 3$
- d) $1 < S < 2$
- e) $S > 3$

18. Considere uma função f de \mathbb{R} em \mathbb{R} , em que $f(x) = \frac{3x+4}{2}$. O elemento do domínio que tem como

imagem o seu dobro é um número:

- a) Menor que 7
- b) Múltiplo de 3
- c) Maior que 11
- d) Ímpar.
- e) Negativo.

19. 30% da quinta parte de 3600 é igual a:

- a) 144
- b) 54
- c) 72

- d) 216
- e) 21,6

20. Seja α um número real tal que $\alpha > 2(1 + \sqrt{2})$ e considere a equação $x^2 - \alpha x + \alpha + 1 = 0$. Sabendo que as raízes reais dessa equação são as cotangentes de dois dos ângulos internos de um triângulo, então o terceiro ângulo interno desse triângulo vale:

- a) 30°
- b) 60°
- c) 135°
- d) 45°
- e) 120°

21. Sejam "a" e "b" dois números reais positivos tais que " $a < b$ " e " $a + b = 4$ ". Se o gráfico da função $y = |x - a| + |x - b|$ coincide com a função $y = 2$ no intervalo $a \leq x \leq b$, calcule os valores de "a" e "b".

- a) $a=3$ e $b=2$
- b) $a=2$ e $b=3$
- c) $a=5$ e $b=1$
- d) $a=1$ e $b=3$
- e) $a=3$ e $b=3$

22. Seja o número complexo $z = x + yi$, no qual $x, y \in \mathbb{R}$. Se $z \cdot (1 - i) = (1 + i)^2$, então?

- a) $x + y = 0$
- b) $x = y$
- c) $x \cdot y = 1$
- d) $y = 2x$
- e) $x - y = 2$

23. O valor da expressão $\frac{\sqrt{3}+1}{\sqrt{3}-1} + \frac{\sqrt{3}-1}{\sqrt{3}+1}$ é:

- a) 1
- b) 2
- c) 3
- d) 4
- e) 5

24. Calcule a soma dos 10 primeiros termos da P.G. (2, 4, 8, 16,...)

- a) 365
- b) 647
- c) 832
- d) 1243
- e) 2046

25. Vinte máquinas, trabalhando 16 horas por dia, levam 6 dias para fazer um trabalho. Quantas máquinas serão necessárias para executar o mesmo serviço, se trabalharem 20 horas por dia, durante 12 dias?

- a) 4
- b) 6
- c) 8
- d) 10
- e) 12

26. Marque a opção CORRETA que apresenta o tempo necessário para que um capital posto a juros, à taxa de 2% ao mês, produza juros equivalentes a 50% do mesmo capital.

- a) 13 meses.
- b) 18 meses.
- c) 25 meses.
- d) 28 meses.
- e) 32 meses.

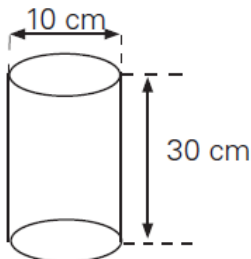
27. Um campo de futebol possui as seguintes dimensões, 155 m de comprimento e 75 m de largura. Quantos metros de tela serão necessárias para cercar este campo?

- a) 230m.
- b) 370m.
- c) 460m.
- d) 580m.
- e) 630m.

28. Uma das manifestações ocorridas recentemente no Brasil ocupou totalmente uma avenida de 1,25 km de extensão e 40 m de largura. Supondo que quatro pessoas ocupam 1 m², calcule quantas pessoas foram ao evento. Marque a opção CORRETA.

- a) 100.000 pessoas.
- b) 150.000 pessoas.
- c) 200.000 pessoas.
- d) 250.000 pessoas.
- e) 300.000 pessoas.

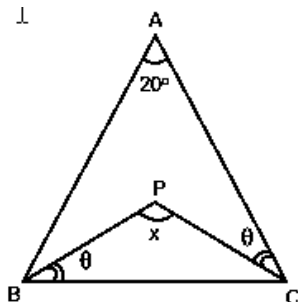
29. Determine a área lateral e a área total do cilindro da figura, respectivamente. Considere $\pi = 3,14$



Marque a opção CORRETA.

- a) 942 cm² e 1099 cm²
- b) 435cm² e 500cm²
- c) 1042cm² e 942cm²
- d) 1099cm² e 758cm²
- e) 942cm² e 1042cm²

30. O triângulo ABC, representado na figura, é isósceles. Determine a medida do ângulo "x" e assinale a opção CORRETA.



- a) 90°
- b) 180°
- c) 105°
- d) 110°
- e) 130°

31. Sobre o município de FORQUILHA é INCORRETO afirmar:

- a) Possui o açude Público Forquilha, de propriedade do DNOCS.
- b) Possui uma área de aproximadamente 516,88 km²
- c) De acordo com o Censo Democrático de 2010, a população de Forquilha é de aproximadamente 21.786 habitantes.
- d) Foi realizado o plebiscito em 1985 quando o povo se posicionou favorável à criação do município de Forquilha.
- e) A base da economia do município é agricultura, comércio, pecuária e piscicultura.

32. Quem foi o primeiro prefeito de Forquilha?

- a) Raimundo Azevedo Prado.
- b) Francisco José Frota Prado.
- c) José Antônio Dias Carneiro.
- d) Edmundo Rodrigues Junior.
- e) Francisco de Lira Pessoa.

HINO DO MUNICÍPIO DE FORQUILHA

Ó Forquilha tu és a esperança
Que teus filhos irão semear
No teu seio em que jorra a bonança
De águas limpas para terra regar...

33. A letra do hino de Forquilha foi feito por:

- a) Pe. Jairo Linhares Ponte.
- b) Abelardo Cavalcante de Vasconcelos.
- c) Pe. Jairo Linhares Ponte e Prof. Francisco Eduardo Mesquita Cavalcante.
- d) Pe. Gonçalo de Pinho Gomes.
- e) Abelardo Cavalcante de Vasconcelos e Pe. Jairo Linhares Ponte.

34. O Padroeiro de Forquilha é:

- a) São Pedro.
- b) Santo Antônio.
- c) Santo Agostinho.
- d) São Francisco de Assis.
- e) São Benedito.

35. Supremo conclui julgamento do mensalão após quatro meses e meio, 25 foram condenados, 12 absolvidos e um será julgado na 1ª instância. Sobre o maior esquema de corrupção já vivenciado no Brasil, Marque a opção CORRETA.

- a) Tinha Marcos Valério, como mandante intelectual do repasse de verbas públicas a parlamentares por meio de empreiteiras.
- b) Comprava votos no Congresso Nacional durante os primeiros anos do governo do ex-presidente Luiz Inácio Lula da Silva.
- c) Os parlamentares desviavam dinheiro público em acordos firmados com o Banco Rural.
- d) Afetou a Câmara dos Deputados com suborno na aprovação de projetos do governo na gestão do então Presidente Lula.
- e) Culminou com a perda de mandatos de parlamentares que se reelegeram contrariando o Projeto Ficha Limpa

36. Leia e reflita sobre os textos a seguir:

TEXTO 1

“O número de homicídios em Fortaleza **creceu 14%** de abril para maio, segundo dados divulgados pela Secretaria da Segurança Pública e Defesa Social (SSPDS) nesta segunda-feira (08). Em maio, o número de assassinatos foi de 156.

Durante os cinco meses deste ano, pelo menos **818 pessoas foram assassinadas** na capital cearense. Em média, Fortaleza tem **5 homicídios por dia**, segundo o relatório da Secretaria de Segurança. Os bairros mais violentos em maio foram Mondubim (9), Cristo Redentor (8), Granja Lisboa (8), Siqueira (7) e Jangurussu (7).”

“No total, **1.675 pessoas foram assassinadas em 2013.**”

(site: www.tribunadoceara.com.br, publicado em 08/07/2013)

TEXTO 2



Fazendo a relação de ambos os textos, marque a opção **CORRETA**.

- O TEXTO 1 difere do TEXTO 2.
- O TEXTO 2 não estabelece relação com o TEXTO 1.
- O TEXTO 2 confirma o TEXTO 1 satirizando-o.
- Os dois textos se contradizem pelo contexto.
- O TEXTO 1 é consequência do TEXTO 2.

37. Em julho deste ano, realizou-se no Brasil, na cidade do Rio de Janeiro, a Jornada Mundial da Juventude (JMJ), um evento internacional, que reúne jovens de todo o Mundo. Esse evento foi criado pelo Papa:

- Bento XVI.
- Paulo VI.
- Francisco.
- João Paulo II.
- João Paulo I.

38. O americano Edward Snowden, procurado pelo governo dos EUA por ter divulgado segredos sobre os sistemas de monitoramento de telecomunicações do governo, obteve asilo provisório, após quarenta dias em uma área de trânsito no aeroporto de:

- Londres.

- Moscou.
- Nova York.
- Lisboa.
- Paris.

39. As tartarugas-verdes - espécie marinha em perigo - estão ingerindo cada vez mais detritos humanos que podem ser letais. Essa é a conclusão de um estudo australiano publicado no periódico “ConservationBiology”. A pesquisa revisou toda a literatura científica sobre a ingestão de lixo humano no oceano por tartarugas marinhas desde 1985. A análise mostrou que há registro da ingestão de detritos em seis das sete espécies de tartarugas marinhas do mundo. Todas as seis são listadas como espécies vulneráveis ou em perigo. “Descobrimos que, para as tartarugas verdes marinhas, a probabilidade de ingestão de detritos quase dobrou nos últimos 25 anos”, disse o pesquisador QamarSchuyler, da Universidade de Queensland, que liderou o estudo. A pesquisa analisou 37 estudos publicados de 1985 a 2012 que reportou informações coletadas desde 1900 até 2011. Resultados mostram que tartarugas em quase todas as regiões ingerem detritos. “Nossos resultados mostram claramente que a ingestão de detritos por tartarugas marinhas é um fenômeno global de magnitude crescente”, diz o estudo. Dentre o lixo produzido pelo homem e lançado ao mar destaca-se pelo poder letal e de difícil decomposição:

- O plástico que é produzido em grande escala.
- O vidro hoje dominante no setor de armazenagem com conservantes.
- O alumínio usado predominantemente na indústria de bebidas.
- Os dejetos humanos lançados ao mar pelas redes de esgoto.
- Os produtos químicos usados, produzidos pelas indústrias de fertilizantes.

40. Segundo o Programa Mais Médicos do Governo Federal, que trata sobre o processo de 'Importação' de médicos estrangeiros, marque (V) para as afirmativas VERDADEIRAS e (F) para as FALSAS.

- () Os médicos estrangeiros serão destinados a locais carentes desse tipo de mão de obra.
 () Estes médicos serão destinados a todas as cidades brasileiras.
 () Será cobrado desses profissionais a realização do Revalida, prova de revalidação do diploma obrigatória para quem se formou fora do país.
 () Conselho Federal de Medicina (CFM), alegou que não há falta de profissionais no Brasil, mas estes são mal distribuídos pelas regiões do território nacional.

Marque a opção que apresenta a sequência CORRETA.

- F – V – F – V.
- V – F – F – F.
- F – V – F – F.
- V – F – V – V.
- V – F – F – V.

CONHECIMENTOS ESPECIFICOS

41. Sobre o trauma cranioencefálico que está entre as principais catástrofes devastadoras e letais em seres humanos, marque a opção CORRETA que caracteriza a principal complicação desencadeadora da morte encefálica.

- a) Dispneia.
- b) Hipertensão intracraniana.
- c) Hemorragia gástrica.
- d) Hiperglicemia.
- e) Edema facial.

42. Sobre os sintomas característicos de diabetes, marque a opção INCORRETA:

- a) Polifagia.
- b) Polidipsia.
- c) Oligoposia.
- d) Poliúria.
- e) Glicosúria.

43. Assinale a opção CORRETA que apresenta sinais e sintomas da DPOC (Doença pulmonar obstrutiva crônica).

- a) Dificuldade para respirar, sibilos, tosse, expectoração branca e espessa.
- b) Tosse e expectoração rósea aerada.
- c) Dor na garganta, hipertermia, mau hálito e anorexia.
- d) Apneia.
- e) Tontura, tosse e expectoração amarela.

44. Considerando que foi prescrito heparina 1000 UI e no setor só temos heparina de 5 ml com apresentação (5000 UI/ml), quantos ml devemos administrar?

- a) 0,2
- b) 0,25
- c) 0,3
- d) 0,4
- e) 0,5

45. Classifique corretamente as áreas hospitalares segundo o potencial de contaminação. Correlacione a coluna (B) pela coluna (A).

COLUNA A

- I. Áreas críticas.
- II. Áreas semicríticas.
- III. Áreas não críticas.

COLUNA B

- () Locais que se destinam a circulação de pessoas utilizando apenas jaleco, calça e gorro.
- () Locais onde se encontram pacientes imunodeprimidos.
- () Locais onde são realizados procedimentos invasivos.
- () Salas de parto, hemodiálise, banco de sangue, salas cirúrgicas.
- () Apresentam risco mínimo de transmissão de doenças.

Marque a opção que apresenta a sequência CORRETA:

- a) II – III – I – III – I.
- b) I – III – I – II – I.
- c) II – I – I – I – III.
- d) I – III – I – I – II.
- e) III – I – I – I – II.

46. Sobre as considerações gerais para a conservação e o armazenamento das amostras clínicas do escarro, marque a opção CORRETA:

- a) Conforme a Organização Mundial de Saúde as amostras podem ficar refrigeradas de cinco a sete dias no máximo.
- b) As amostras podem ficar em temperatura ambiente e ao abrigo da luz solar por um período máximo de 12 horas.
- c) Se a demora para o envio ao laboratório for superior a um dia, as amostras deverão ser mantidas refrigeradas entre 2°C e – 8°C para que não deteriore e se evite a ocorrências de resultados falsos-negativos.
- d) As amostras de escarro poderão ficar em temperatura ambiente por um período máximo de 8 horas.
- e) Conforme a organização Mundial de Saúde, as amostras podem ficar refrigeradas no máximo quatro dias, evitando assim os resultados falso-negativo.

47. Sobre o Programa Nacional de Imunização, assinale a opção CORRETA.

- a) O Programa Nacional de Imunização orienta que a administração da vacina Tríplice viral a partir de janeiro de 2013 deverá ser de duas doses, sendo a primeira aos 12 meses e a segunda aos 18 meses de idade.
- b) O Ministério da Saúde ampliou a oferta da vacina contra hepatite B para a faixa de 30 a 49 anos em 2013.
- c) O Programa Nacional de Imunização orienta que a administração da vacina Tríplice viral a partir de janeiro de 2013 deverá ser uma dose única aos 12 meses.
- d) Dando continuidade ao processo de busca de melhores condições de Saúde para a população, o Ministério da Saúde fará a ampliação da vacinação contra a hepatite B, para a faixa etária de 25 a 29 anos.
- e) O Programa Nacional de Imunização recomenda a administração simultânea entre a vacina febre amarela (atenuada) e a vacina sarampo, caxumba e rubéola (Tríplice viral).

48. Sobre as recomendações do armazenamento dos frascos de insulina em locais que não existam geladeiras, assinale (V) para as afirmações VERDADEIRAS e (F) para as FALSAS:

- () Nunca devemos armazenar insulinas em locais que não tenham geladeiras.
- () Uma vez aberto o frasco de insulina, só utilizar no máximo por 30 dias.
- () A insulina guardada fora da geladeira deve ser usada no prazo máximo de seis meses.
- () Em situações especiais, apenas os frascos de insulina NPH deverão ser mantidos no local mais fresco da casa.

Marque a opção que apresenta a sequência CORRETA:

- a) V – V – F – F.
- b) F – F – V – F.
- c) V – F – F – F.
- d) F – V – F – F.
- e) F – F – F – V.

49. Assinale a opção CORRETA que apresenta os sinais e sintomas de Diabetes Mellitus.

- a) Perda de peso, Poliúria, Polidipsia, Hálito cetônico, Glicemia de jejum igual a 90mg/dl.
- b) Glicemia de jejum igual ou maior a 126mg/dl, Polidipsia, Poliúria, Polifagia, Perda de peso.
- c) Aumento de peso, cefaleia intensa, Polaciúria, disúria, Glicemia de jejum igual a 200mg/dl.
- d) Febre baixa, icterícia, anúria.
- e) Polidipsia, Polifagia, Poliúria e Glicemia de jejum igual a 110mg/dl.

50. Notificação compulsória de doenças tem sido a principal fonte da vigilância epidemiológica. Em relação ao termo marque (V) para as afirmativas VERDADEIRAS e (F) para as FALSAS:

- () Notificação é a comunicação de determinada doença ou agravo à saúde feita a autoridade sanitária por profissionais de saúde exclusivamente.
- () Notificação é a comunicação de determinada doença ou agravo à saúde feita a autoridade sanitária por profissionais de saúde ou qualquer cidadão.
- () A notificação só poderá ser feita mediante confirmação da doença.
- () A notificação tem que ser sigilosa, só podendo ser divulgada no caso de risco para a comunidade respeitando o anonimato dos cidadãos.
- () O Sistema Nacional de Agravos de Notificação (SINAN) é o principal instrumento de coleta de dados das Doenças de Notificação Compulsória.

Marque a opção que apresenta a sequência CORRETA:

- a) F - V - F - V - F.
- b) F - V - F - V - V.
- c) V - F - F - V - F.
- d) V - F - V - V - V.
- e) V - F - V - F - V.

51. Sobre as penalidades a serem impostas pelo Conselho Regional e Federal de Enfermagem, conforme Artigo 18 da Lei nº 5905 de 12/07/1973, marque a opção INCORRETA.

- a) Advertência: Admoestação ao infrator verbal que será de forma reservada e na presença de duas testemunhas.
- b) Multa: Pagamento de 1 a 10 vezes o valor da anuidade da categoria profissional a qual pertence o infrator.
- c) Censura: Consiste em repreensão que será divulgada nas publicações oficiais dos Conselhos de Enfermagem e jornais de grande circulação.
- d) Suspensão do exercício profissional: Proibição do exercício profissional por período indefinido.
- e) Cassação do direito ao exercício profissional: Perda do direito ao exercício da profissão com divulgação.

52. Sobre o Programa de Saúde da Família, marque a opção INCORRETA:

- a) O PSF do Ministério da Saúde tem como objetivo priorizar ações de prevenção, promoção e recuperação da saúde.
- b) O PSF é um programa que se enquadra na atenção primária.
- c) A estratégia Saúde da Família tem como principal objetivo a reorientação do modelo assistencial a partir da atenção básica.
- d) No PSF a família passa a ser o objeto de atenção,

- no ambiente em que vive, permitindo uma compreensão ampliada do processo saúde/doença.
- e) São profissionais que fazem parte da equipe de saúde da família enfermeiros, médicos, odontólogos, agentes comunitários de saúde, técnicos de enfermagem e psicólogos.

53. O Brasil vem mantendo novos casos de Hanseníase anualmente, com um parâmetro de alta endemicidade. Sobre a Hanseníase, marque (V) para as afirmativas VERDADEIRAS e (F) para as FALSAS:

- () O homem é considerado a única fonte de infecção da hanseníase.
- () A Hanseníase é causada pelo bacilo de Hansen que é um parasita intracelular cujo reservatório é o homem.
- () A Hanseníase é uma doença infecto-contagiosa, lenta e curável, manifesta-se através de sinais e sintomas dermatológicos e neurológicos.
- () Na Hanseníase as lesões de pele sempre apresentam alterações de sensibilidade.
- () A Hanseníase não tem cura e por ser uma doença crônica o seu tratamento é eticamente recomendável na atenção básica.

Assinale a opção que apresenta a sequência CORRETA:

- a) V - F - F - F - V.
- b) F - V - F - F - F.
- c) V - V - V - V - F.
- d) V - V - F - F - F.
- e) V - V - V - V - V.

54. Marque a opção CORRETA que apresenta agravo de Notificação Compulsória imediata conforme o Ministério da Saúde.

- a) Difteria.
- b) Caso suspeito ou confirmado de raiva humana.
- c) Caso suspeito ou confirmado de tuberculose.
- d) Malária.
- e) Hepatites virais.

55. Sobre o Programa de Saúde da Família que é uma estratégia de organização da atenção primária, assinale (V) para as afirmações VERDADEIRAS e (F) para as FALSAS:

- () A saúde da família é entendida como uma estratégia de reorientação do modelo assistencial operacionalizada mediante implantação de equipes multiprofissionais na atenção básica.
- () As equipes atuam com ações de promoção da saúde, prevenção, recuperação e reabilitação de agravos mais frequentes.
- () O PSF é uma estratégia desenvolvida para atenção exclusiva ao grupo mulher e criança.
- () A implantação do PSF é operacionalizada unicamente a nível estadual.

Marque a opção que apresenta a sequência CORRETA:

- a) F - F - V - V.
- b) F - V - F - V.
- c) F - F - F - V.
- d) V - V - V - V.
- e) V - V - F - F.

56. Sobre o calendário de vacinação infantil definido pelo Programa Nacional de Imunizações do Ministério da Saúde, marque (V) para as afirmativas VERDADEIRAS e (F) para as FALSAS:

- () A 1ª dose da vacina injetável contra poliomielite (VIP) é administrada aos 2 meses de idade.
 () Não se utiliza mais a vacina oral contra poliomielite no calendário infantil.
 () Até hoje não existe nenhum tipo de doença totalmente erradicada.
 () A vacina contra febre amarela é recomendada pelo Ministério da Saúde para as pessoas que entrarão em contato com áreas de risco.
 () A vacina contra rotavírus é exclusivamente oral e confere imunidade permanente aos hemófilos.

Assinale a opção que apresenta a sequência CORRETA:

- a) F – F – F – V – V.
 b) F – V – F – V – F.
 c) F – F – V – V – F.
 d) V – V – V – V – F.
 e) V – F – F – V – F.

57. Sobre o Equipamento de Proteção Individual (EPI), marque a opção CORRETA.

- a) Os EPIs são todos os dispositivos que envolvem o uso individual no ambiente de trabalho e para ser comercializado deve apresentar certificado de aprovação emitido pelo Ministério do Trabalho e Emprego.
 b) As empresas não são obrigadas a fornecer EPI aos funcionários.
 c) A equipe de enfermagem deve fazer uso do EPI somente nas situações de risco.
 d) O descarte inadequado dos perfurocortantes não representa importante fonte de risco para os acidentes ocupacionais.
 e) A NR-32 não apresentou impacto para as Políticas de Saúde.

58. Sobre o Programa de Saúde da Família, analise as afirmativas a seguir:

- I. Um dos pontos fortes do PSF é a busca ativa.
 II. São alguns dos exemplos das várias ações e programas que o Ministério da Saúde realiza com a finalidade de promover a saúde para o cidadão: Combate a dengue, Farmácia popular, SAMU 92, UPA 24h e Brasil sorridente.
 III. O processo de capacitação dos profissionais do PSF deve ser contínuo e definido a partir das necessidades que as equipes de saúde identificam.
 IV. Em conformidade com o princípio da integralidade, o atendimento do PSF desenvolve com seriedade o sistema de referência e contra referência.
 V. Saneamento, educação, habitação, segurança e meio ambiente são algumas das áreas que devem estar integradas às ações do PSF.

Marque a opção que apresenta as afirmativas CORRETAS:

- a) I – III – V.
 b) I – II – III – IV – V.
 c) I – III.
 d) II – IV – V.
 e) I – II – III – V.

59. Sobre sistematização da Assistência de Enfermagem (SAE), marque a opção INCORRETA.

- a) Sistematização da Assistência de Enfermagem (SAE) ou Processo de Enfermagem (PE) é constituído por 5 etapas.
 b) A Sistematização da Assistência de Enfermagem norteia as atividades de toda equipe de enfermagem.
 c) A SAE é a essência da prática de enfermagem.
 d) O Processo de enfermagem deve ser exclusivo dos enfermeiros em hospitais privados.
 e) A Sistematização da Assistência de Enfermagem como objeto da Resolução COFEN 272/2000 é uma atividade privativa do enfermeiro.

60. Correlacione os atributos dos agentes etiológicos, coluna A, segundo a sua relação com o hospedeiro, coluna B:

COLUNA A

- I. Infectividade.
 II. Patogenicidade.
 III. Virulência.
 IV. Imunogenicidade.
 V. Dose infectante.
 VI. Poder invasivo.

COLUNA B

- () Capacidade do agente de após infecção, induzir a imunidade ao hospedeiro.
 () Capacidade do agente, uma vez instalado, de produzir sinais e sintomas.
 () Capacidade do agente de produzir efeitos graves ou fatais.
 () É a quantidade do agente etiológico necessária para iniciar uma infecção.
 () É a capacidade que tem o parasita de se difundir através dos tecidos, órgãos e sistemas do hospedeiro.
 () Capacidade de certos organismos de penetrar e se desenvolver em outro ocasionando uma infecção.

Marque a opção que apresenta a sequência CORRETA:

- a) I – II – V – IV – III – VI.
 b) VI – I – III – V – II – IV.
 c) IV – II – III – V – VI – I.
 d) IV – II – V – I – VI – III.
 e) I – II – IV – V – III – VI.