

CONCURSO PÚBLICO para o cargo de
Engenheiro / Área de atuação: Agronomia


PROVA
S05 - P
TARDE

ATENÇÃO:
Verifique se o tipo de prova deste caderno de questões confere com o seu cartão de respostas

TRANSCREVA EM ESPAÇO DETERMINADO NO SEU CARTÃO DE RESPOSTAS A FRASE DA ESCRITORA CORA CORALINA PARA EXAME GRAFOTÉCNICO
"Feliz aquele que transfere o que sabe e aprende o que ensina."

ATENÇÃO

 DURAÇÃO DA PROVA: 4 horas.




 ESTE CADERNO CONTÉM 60 (SESSENTA) QUESTÕES DE MÚLTIPLA ESCOLHA, CADA UMA COM 5 ALTERNATIVAS DE RESPOSTA – A, B, C, D e E – CONFORME DISPOSIÇÃO ABAIXO:

Disciplinas	Quantidade de questões	Valor de cada questão
Língua Portuguesa	15	1
Raciocínio Lógico	08	1
Informática Básica	07	1
Legislação e Ética na Administração Pública	10	1
Conhecimentos Específicos	20	3








 VERIFIQUE SE ESTE MATERIAL ESTÁ EM ORDEM, CASO CONTRÁRIO, NOTIFIQUE IMEDIATAMENTE O FISCAL.

 RESERVE OS 30 (TRINTA) MINUTOS FINAIS PARA MARCAR SEU CARTÃO DE RESPOSTAS.

LEIA AS INSTRUÇÕES ABAIXO

-  Após identificado e instalado na sala, você não poderá consultar qualquer material, enquanto aguarda o horário de início da prova.
-  Siga, atentamente, a forma correta de preenchimento do Cartão de Respostas, conforme estabelecido no próprio.
-  Não haverá substituição do Cartão de Respostas por erro do candidato.

Por motivo de segurança:

-  O candidato só poderá retirar-se definitivamente da sala após 1 (uma) hora do início efetivo da prova;
-  Somente faltando 1 (uma) hora para o término da prova, o candidato poderá retirar-se levando o seu Caderno de Questões;
-  O candidato que optar por se retirar sem levar o seu Caderno de Questões, não poderá copiar suas respostas por qualquer meio. O descumprimento dessa determinação será registrado em ata e acarretará a eliminação do candidato; e
-  Ao terminar a prova, o candidato deverá retirar-se imediatamente do local, não sendo possível nem mesmo a utilização dos banheiros e/ou bebedouros.
-  Ao terminar a prova, é de sua responsabilidade entregar ao fiscal o Cartão de Respostas assinado. Não se esqueça dos seus pertences.
-  Os três últimos candidatos deverão permanecer na sala até que o último candidato entregue o Cartão de Respostas.
-  O fiscal de sala não está autorizado a alterar quaisquer destas instruções. Em caso de dúvida, solicite a presença do coordenador local.

BOA PROVA!

www.funcab.org

Leia o texto abaixo e responda às questões propostas.

E se a revolução dos costumes tiver sido a verdadeira revolução deste século? Não a soviética ou a chinesa, nem a cubana, nem a portuguesa, muito menos a de 64, mas a que fez o homem e a mulher do século XX mudarem seu estilo de vida e seu modo de estar no mundo, tendo ao fundo o rock como trilha sonora.

O historiador Francisco Iglésias, por exemplo, achava isso. Talvez no futuro, quando se escrever a história definitiva deste século, “quando se quiser destacar o que aconteceu de mais importante”, vai-se chegar à conclusão de que esta foi a era do comportamento: a que reformou a velha ordem moral, instituindo novas atitudes e condutas sociais, psicológicas e culturais.

Num processo às vezes dramático de desconstrução e reconstrução, o homem e principalmente a mulher deste mundo pós-moderno transformaram suas concepções de família, suas relações afetivas, a maneira de se vestir, de fazer sexo, seus hábitos e atitudes comportamentais enfim – pelo menos como tendência ou possibilidade, quando não como realidade.

Esse processo de liberação se acelerou a partir da segunda metade do século, quando caíram as últimas resistências de pudicícia e pudor. Ainda em 1962, na França, a primeira imagem pública de uma mulher nua segurando uma rosa sobre o peito provocou um escândalo tão grande que os seios do anúncio tiveram que ser logo cobertos com um *soutien*. Em 1965, na terra de Bill Clinton, um cidadão cumpriu três anos de cadeia dos cinco a que fora condenado, por ter praticado sodomia com a esposa.

A “Revolução do Comportamento” talvez tenha conseguido tantos resultados porque sua ação atingiu primeiro a própria unidade constitutiva da sociedade: a família. Núcleo indissolúvel, em que os membros eram submetidos ao poder central do chefe, ao mesmo tempo déspota e provedor, com a mulher desempenhando apenas o papel de procriar e obedecer, aquela família patriarcal do começo do século virou outra: não tanto pela dissolução moral, como se temia, e sim pelo surgimento de novos núcleos afetivos.

É claro que tudo isso não aconteceu isoladamente, mas estimulado ou causado pelas invenções da ciência e da tecnologia em geral, especialmente a da comunicação. Com o poder de entrar não só dentro das casas, como dentro de seus próprios moradores, condicionando gostos, preferências e sensações, a mídia foi fundamental na criação desse ser planetário e tribal, que passou a viver numa aldeia global.

O homem moderno nem sempre se deu conta de que ao lado das descobertas espetaculares que mudaram a cabeça do século XX, como a bomba atômica, a fertilização artificial, a TV a cores, a Internet, os transplantes, as viagens interplanetárias, houve muitos achados minúsculos, como a pílula anticoncepcional, e outros que pareciam não passar de insignificantes trivialidades, como o biquíni, a minissaia, os *blue jeans*, o tênis, o rádio transístor, o clipe, o telefone celular, que transformaram nosso comportamento.

O corpo foi o espaço onde se travaram as batalhas comportamentais mais significativas. Permissivo e hedonista, o século XX desenvolveu como nunca o seu culto, aprimorando a plástica e as funções corporais – seja através de exercícios e de cirurgias embelezadoras, seja por intermédio de drogas que monitoram o seu metabolismo. Vivemos o tempo dos antidepressivos, dos excitantes ou relaxantes, dos moderadores de apetite, dos estimuladores do orgasmo feminino, das pílulas para ereção masculina, do Prozac, do Viagra, do Xenical.

Mas o comportamento não se destacou apenas pelos avanços.

Patologias e retrocessos, como o narcotráfico, a violência e a Aids, constituíram uma espécie ameaçadora de contrarrevolução. A esperança é que aconteça agora o que ocorreu com o século passado, que terminou derrotado pela sífilis. Era apenas uma derrota passageira.

(VENTURA, Zuenir. O Globo 2000: nº 1, p. 14-5.)

Questão 01

No curso de sua argumentação, o autor se vale de todos os procedimentos a seguir, COM EXCEÇÃO apenas de:

- A) apresentar como tese uma proposição de natureza hipotética.
- B) recorrer a fatos e exemplos para sustentar ponto de vista.
- C) apelar para o argumento de autoridade.
- D) admitir ponto de vista divergente da linha de orientação desenvolvida.
- E) ilustrar ponto de vista com citação extraída de texto literário.

Questão 02

O elemento do texto a que se refere o pronome possessivo está indicado com evidente equívoco em:

- A) seu estilo de vida (parágrafo 1) / o homem e a mulher do século XX.
- B) suas concepções de família (parágrafo 3) / o homem e principalmente a mulher deste mundo pós-moderno.
- C) sua ação (parágrafo 5) / A “Revolução do Comportamento”.
- D) seus próprios moradores (parágrafo 6) / as casas.
- E) seu culto (parágrafo 8) / o século XX.

Questão 03

Em: “Com o poder de entrar não só dentro das casas, como dentro de seus próprios moradores, condicionando gostos, preferências e sensações [...]” (parágrafo 6), para enfatizar seu ponto de vista, o autor recorre à seguinte figura de linguagem:

- A) pleonasma.
- B) anacoluto.
- C) hipérbole.
- D) eufemismo.
- E) elipse.

Questão 04

Altera-se fundamentalmente o sentido do enunciado com a substituição da locução em destaque por aquela que se encontra proposta em:

- A) A PARTIR Da segunda metade do século (parágrafo 4) / em começos de.
- B) PELO MENOS como tendência ou possibilidade, quando não como realidade (parágrafo 3) / no mínimo.
- C) AO MESMO TEMPO déspota e provedor (parágrafo 5) / a um tempo.
- D) AO LADO Das descobertas espetaculares que mudaram a cabeça do século XX (parágrafo 7) / de par com.
- E) POR INTERMÉDIO DE drogas que monitoram o seu metabolismo (parágrafo 8) / por via de.

Questão 05

Preserva-se o sentido de: “PERMISSIVO E HEDONISTA, o século XX desenvolveu como nunca o seu culto, aprimorando a plástica e as funções corporais [...]” (parágrafo 8), com a substituição dos termos em destaque por:

- A) Ainda que permissivo e hedonista
- B) Por muito que permissivo e hedonista
- C) Permissivo e hedonista que fosse
- D) Por ser permissivo e hedonista
- E) Conquanto permissivo e hedonista

Questão 06

Invertem-se os termos da relação de causalidade observada em: “[...] um cidadão cumpriu três anos de cadeia dos cinco a que fora condenado, por ter praticado sodomia com a esposa.” (parágrafo 4), na seguinte alternativa:

- A) um cidadão praticou sodomia com a esposa, pelo que cumpriu três anos de cadeia dos cinco a que fora condenado.
- B) um cidadão praticou sodomia com a esposa, cumprindo por isso três anos de cadeia dos cinco a que fora condenado.
- C) um cidadão praticou sodomia com a esposa, porquanto cumpriu três anos de cadeia dos cinco a que fora condenado.
- D) um cidadão praticou sodomia com a esposa, daí ter cumprido três anos de cadeia dos cinco a que fora condenado.
- E) um cidadão, visto ter praticado sodomia com a esposa, cumpriu três anos de cadeia dos cinco a que fora condenado.

Questão 07

A alternativa em que a palavra COMO tem o mesmo valor significativo que em: “[...] não tanto pela dissolução moral, COMO se temia [...]” (parágrafo 5) é:

- A) Como estava chovendo, não foi trabalhar.
- B) Era tão estudioso como o pai.
- C) Como eu dizia, ninguém é perfeito.
- D) Ainda não sei como ele está passando.
- E) É espantoso a como está sendo vendido o tomate.

Questão 08

Em: “[...] provocou um escândalo tão grande que os seios do anúncio tiveram que ser logo cobertos com um *soutien*.” (parágrafo 4), a segunda oração exprime:

- A) condição.
- B) concessão.
- C) causa.
- D) consequência.
- E) modo.

Questão 09

Mantém-se o sentido fundamental de: “[...] não tanto pela dissolução moral [...], e sim pelo surgimento de novos núcleos afetivos.” (parágrafo 5) com a seguinte redação:

- A) pela dissolução moral [...], tanto quanto pelo surgimento de novos núcleos afetivos.
- B) tanto pela dissolução moral [...], como pelo surgimento de novos núcleos afetivos.
- C) em parte pela dissolução moral [...], mas sobretudo pelo surgimento de novos núcleos afetivos.
- D) não só pela dissolução moral [...], mas também pelo surgimento de novos núcleos afetivos.
- E) não pela dissolução moral [...], senão pelo surgimento de novos núcleos afetivos.

Questão 10

Há identidade de valor significativo entre os prefixos usados na formação das palavras relacionadas em:

- A) RETROcessos (parágrafo 10) / REfluir.
- B) DESconstrução (parágrafo 3) / DISseminar.
- C) PÓS-moderno (parágrafo 3) / PREdestinação.
- D) INTERplanetárias (parágrafo 7) / INTRamuscular.
- E) ANTIconcepcional (parágrafo 7) / ANTEbraço.

Questão 11

Consideradas as normas vigentes, a mudança de pontuação INACEITÁVEL em relação ao último parágrafo do texto é aquela que se acha proposta na seguinte alternativa:

- A) trocar por travessões as vírgulas que isolam a sequência de nomes introduzida por COMO.
- B) marcar com vírgula a pausa facultativa entre o sujeito A ESPERANÇA e a forma verbal É.
- C) empregar (seguido de minúscula) o sinal de dois-pontos em vez de ponto, depois de SÍFILIS.
- D) usar reticências entre DERROTADO e PELA SÍFILIS, para gerar expectativa e surpresa.
- E) enfatizar o advérbio APENAS, grafando-o entre vírgulas.

Questão 12

A alternativa em que a proposta de substituição da forma ou formas verbais usadas no texto mantém-se em consonância com a norma de concordância prescrita pela gramática é a seguinte:

- A) “[...] mas a que FEZ o homem e a mulher do século XX mudarem seu estilo de vida e seu modo de estar no mundo [...]” (parágrafo 1) / fizeram.
- B) “[...] transformaram suas concepções de família, suas relações afetivas, a maneira de se VESTIR, de FAZER sexo [...]” (parágrafo 3) / vestirem, fazerem.
- C) “[...] com a mulher desempenhando apenas o papel de PROCRIAR e OBEDECER [...]” (parágrafo 5) / procriarem, obedecerem.
- D) “[...] de que ao lado das descobertas espetaculares que MUDARAM a cabeça do século XX [...]” (parágrafo 7) / mudou.
- E) “[...] HOUVE muitos achados minúsculos, como a pílula anticoncepcional, e outros [...]” (parágrafo 7) / houveram.

Questão 13

A substituição do complemento verbal em destaque por um pronome átono ocasiona ERRO de regência verbal em:

- A) “[...] a que reformou A VELHA ORDEM MORAL [...]” (parágrafo 2) / a reformou.
- B) “[...] o homem e principalmente a mulher [...] transformaram SUAS CONCEPÇÕES DE FAMÍLIA [...]” (parágrafo 3) / transformaram-nas.
- C) “[...] por ter praticado SODOMIA com a esposa.” (parágrafo 4) / tê-la praticado.
- D) “[...] em que os membros eram submetidos AO PODER CENTRAL DO CHEFE [...]” (parágrafo 5) / lhe eram submetidos.
- E) “[...] aprimorando A PLÁSTICA E AS FUNÇÕES CORPORAIS [...]” (parágrafo 8) / aprimorando-lhes.

Questão 14

Consideradas as normas de colocação pronominal, pode-se fazer a ênclise do pronome átono SE em:

- A) “[...] quando se escrever a história definitiva deste século [...]” (parágrafo 2)
- B) “Esse processo de liberação se acelerou a partir da segunda metade do século [...]” (parágrafo 4)
- C) “[...] como se temia [...]” (parágrafo 5)
- D) “[...] onde se travaram as batalhas comportamentais mais significativas.” (parágrafo 8)
- E) “Mas o comportamento não se destacou apenas pelos avanços.” (parágrafo 9)

Questão 15

Flexionam-se em número como CIDADÃO – “[...] um CIDADÃO cumpriu três anos de cadeia [...]” (parágrafo 4) – ambos os substantivos relacionados na alternativa:

- A) escrivão – órfão.
- B) acórdão – tabelião.
- C) sacristão – alemão.
- D) cristão – pagão.
- E) corrimão – limão.

RACIOCÍNIO LÓGICO

Questão 16

Assinale a alternativa que contém a negação da sentença lógica “Se fizer frio, eu compro um agasalho”.

- A) Se não fizer frio, eu compro um agasalho.
- B) Faz frio e eu não compro um agasalho.
- C) Não faz frio e eu não compro um agasalho.
- D) Se fizer frio, eu não compro um agasalho.
- E) Não faz frio e eu compro um agasalho.

Questão 17

Carla participa do projeto Mulheres na Construção ou João é pintor. Se Paula é azulejista, então Mário não é professor. Se João é pintor, então Mário é professor. Sabendo que Paula é azulejista, pode-se afirmar corretamente que:

- A) Carla participa do projeto Mulheres na Construção e João não é pintor.
- B) João é pintor ou Mário é professor.
- C) Mário é professor e Carla participa do projeto Mulheres na Construção.
- D) Carla não participa do projeto Mulheres na Construção e João é pintor.
- E) Paula é azulejista e Mário é professor.

Questão 18

Considerando que todo pintor é habilidoso e que alguns azulejistas não são habilidosos, é correto afirmar que:

- A) quem não é azulejista é habilidoso.
- B) alguns pintores que são azulejistas não são habilidosos.
- C) todo pintor que é azulejista é habilidoso.
- D) nenhum pintor é azulejista.
- E) todo azulejista é pintor.

Questão 19

Aline, Bruna, Camila, Elen e Daniela combinaram de se encontrar na portaria da Secretaria da Mulher do Distrito Federal para obterem informações sobre o projeto Mulheres na Construção. Sabendo que Aline chegou depois de Bruna, que Camila e Elen chegaram juntas, que Daniela chegou antes de Bruna e que, quem chegou primeiro, chegou sozinha, determine quem chegou primeiro.

- A) Aline.
- B) Bruna.
- C) Camila.
- D) Daniela.
- E) Elen.

Questão 20

Um professor do projeto Mulheres na Construção escreveu, no quadro, as quatro afirmações a seguir, para as suas alunas:

- Só uma dessas afirmações é incorreta.
- Só duas dessas afirmações são incorretas.
- Só três dessas afirmações são incorretas.
- As quatro afirmações são incorretas.

Assinale a alternativa que representa corretamente o número de afirmações INCORRETAS.

- A) Uma.
- B) Duas.
- C) Três.
- D) Quatro.
- E) Zero.

Questão 21

As pranchetas de Ana, Bianca e Clara são, não necessariamente nesta ordem, de ferro, de madeira e de plástico. Uma das pranchetas é branca, outra é verde e a outra é azul. A prancheta de Ana é branca, a de Clara é de plástico e a de Bianca não é verde e nem é de ferro. As cores das pranchetas de ferro, de madeira e de plástico são respectivamente:

- A) branca, azul e verde.
- B) branca, verde e azul.
- C) azul, branca e verde.
- D) azul, verde e branca.
- E) verde, azul e branca.

Questão 22

Considerando que viajo ou trabalho, que estudo ou não viajo, que brinco ou não trabalho, e que eu não brinco, pode-se afirmar que:

- A) trabalho e estudo.
- B) não estudo e viajo.
- C) estudo e viajo.
- D) trabalho e não estudo.
- E) não brinco e não estudo.

Questão 23

Ana, Marta e Paula são servidoras da SUDECO. Uma delas exerce a função A, outra a função B e, a outra, a função C. Considerando que:

- ou Ana exerce a função A, ou Paula exerce a função A.
- ou Ana exerce a função B, ou Marta exerce a função C.
- ou Paula exerce a função C, ou Marta exerce a função C.
- ou Marta exerce a função B, ou Paula exerce a função B.

Assinale a alternativa que representa corretamente as funções exercidas por Ana, Marta e Paula, nessa ordem.

- A) B, A e C.
- B) A, B e C.
- C) B, C e A.
- D) C, A e B.
- E) A, C e B.

INFORMÁTICA BÁSICA

Questão 24

Suponha que você, utilizando o navegador Windows Internet Explorer, esteja na página inicial da SUDECO e queira localizar todas as ocorrências da palavra CONCURSO. A tecla ou combinação de teclas de atalho indicada é:

- A) CTRL + F
- B) CTRL + L
- C) Page Down
- D) Esc
- E) F1

Questão 25

No Linux, o comando que permite mudar de diretório é:

- A) chmod
- B) ls
- C) cd
- D) mkdir
- E) rmdir

Questão 26

No BrOffice Calc, a fórmula =SOMA(C1:C4) retornará a soma de:

- A) C1, C2, C3 e C4
- B) C1 e C4
- C) C2 e C3
- D) C1, C2 e C3
- E) C2, C3 e C4

Questão 27

No BrOffice Writer, o ícone  :

- A) salva o documento.
- B) cria um novo documento.
- C) cria um novo arquivo.
- D) aplica negrito ao texto selecionado.
- E) aumenta o tamanho da fonte.

Questão 28

Para se estabelecer uma conexão com a Internet é preciso de algumas condições básicas, EXCETO:

- A) um provedor.
- B) um modem.
- C) um computador.
- D) um navegador da web.
- E) uma URL.

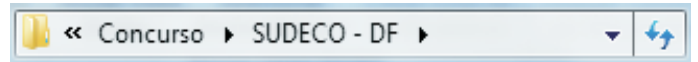
Questão 29

No sistema operacional Linux, o comando que NÃO está relacionado a manipulação de arquivos é:

- A) kill
- B) cat
- C) rm
- D) cp
- E) ftp

Questão 30

No Windows Explorer, a imagem abaixo representa:



- A) barra de ferramentas.
- B) barra de endereços.
- C) nome de um arquivo.
- D) um hyperlink.
- E) painel da biblioteca.

LEGISLAÇÃO E ÉTICA NA ADMINISTRAÇÃO PÚBLICA

Questão 31

Carlos, servidor público lotado na Superintendência de Desenvolvimento do Centro-Oeste – SUDECO, retirou fisicamente da unidade competente, sem prévia autorização por escrito, processos administrativos para analisá-los em sua residência, pois gostaria de adiantar o seu trabalho. Diante do caso concreto, é correto afirmar que Carlos cometeu falta administrativa?

- A) Sim, punível com pena de advertência verbal.
- B) Sim, punível com pena de advertência por escrito.
- C) Sim, punível com pena de suspensão.
- D) Sim, punível com pena de demissão.
- E) Não, pois apenas estava sendo diligente com suas obrigações.

Questão 32

Felipe, cargo em comissão na Superintendência de Desenvolvimento do Centro-Oeste – SUDECO, foi demitido, após cometer inúmeras faltas administrativas. Segundo a Lei nº 8.027/1990, Felipe está impedido de ser novamente investido em cargo público federal pelo prazo de:

- A) 1 (um) ano.
- B) 2 (dois) anos.
- C) 3 (três) anos.
- D) 4 (quatro) anos.
- E) 5 (cinco) anos.

Questão 33

A modalidade de licitação da qual podem participar quaisquer interessados e que tem como objetivo a escolha de trabalho técnico, científico ou artístico, mediante a instituição de prêmios ou remuneração aos vencedores, é denominada:

- A) Concurso.
- B) Concorrência.
- C) Convite.
- D) Pregão.
- E) Leilão.

Questão 34

A duração do contrato administrativo, que tem como objeto a prestação de serviços a serem executados de forma contínua, poderá ser prorrogado por iguais e sucessivos períodos com vistas à obtenção de preços e condições mais vantajosas para a Administração, segundo o artigo 57, inciso II da Lei nº 8.666/1993. Qual é o limite de meses estabelecido no referido artigo?

- A) 12 (doze) meses.
- B) 24 (vinte e quatro) meses.
- C) 36 (trinta e seis) meses.
- D) 48 (quarenta e oito) meses.
- E) 60 (sessenta) meses.

Questão 35

O servidor público poderá ausentar-se do serviço, sem qualquer prejuízo, em determinadas hipóteses, conforme dispõe o artigo 97 da Lei nº 8.112/1990. Assinale a alternativa que contenha a razão e o período pelo qual o servidor poderá ausentar-se, sem qualquer prejuízo:

- A) 3 (três) dias, para a doação de sangue.
- B) 1 (um) dia, para se alistar como eleitor.
- C) 5 (cinco) dias consecutivos em razão de casamento.
- D) 8 (oito) dias consecutivos em razão de falecimento da madrastra.
- E) 7 (sete) dias consecutivos em razão de falecimento do cônjuge.

Questão 36

Em consonância com a Lei nº 8.112/1990, que dispõe sobre o regime jurídico do servidor público civil da União, assinale a alternativa correta.

- A) Um dos deveres do servidor público é cumprir as ordens dos superiores, sem qualquer ressalva.
- B) É dever do servidor público representar contra ilegalidade, omissão ou abuso de poder.
- C) Não há vedação legal quanto à acumulação de cargo em comissão pelo servidor público.
- D) Ao servidor público é vedado atuar, como procurador ou intermediário, junto a repartições públicas, salvo quando se tratar de benefícios previdenciários ou assistenciais de cônjuge e de parentes de até o terceiro grau. Essa vedação não se aplica ao companheiro do servidor.
- E) A acumulação de cargos públicos, nos casos em que é lícita, não fica condicionada à comprovação de compatibilidade de horários.

Questão 37

A respeito da Lei nº 7.827/1989, que instituiu o FCO (Fundo Constitucional de Financiamento do Centro-Oeste), assinale a alternativa correta.

- A) Não possui como uma de suas diretrizes a preservação do meio ambiente.
- B) É financiado exclusivamente por meio de porcentagem do produto da arrecadação do IPI – Imposto sobre produtos industrializados.
- C) O FCO goza de isenção tributária.
- D) A administração do FCO será realizada conjuntamente com os Fundos Constitucionais do Norte e do Nordeste.
- E) O FCO é administrado exclusivamente pelo Ministério da Integração Nacional.

Questão 38

Em busca de melhorar a infraestrutura logística no Brasil, o governo federal lançou o Plano Nacional de Logística e Transportes (PNLT), em abril de 2007. No referido plano, uma das soluções propostas para a melhoria da logística e consequente diminuição dos custos foi a alteração da matriz modal do transporte de cargas. Atualmente, qual o meio de transporte mais utilizado no transporte de cargas no Brasil, segundo o levantamento realizado pelo PNLT?

- A) Ferroviário.
- B) Aquaviário.
- C) Dutoviário.
- D) Rodoviário.
- E) Aeroviário.

Questão 39

Em relação aos processos administrativos referentes aos convênios celebrados pela SUDECO, nos termos da Resolução SUDECO nº 01/2011, especificamente em seu artigo 2º, é correto afirmar:

- A) Antes da sua instrução, o processo administrativo deverá ser encaminhado à Procuradoria, para manifestação jurídica quanto ao objeto do convênio a ser celebrado.
- B) O processo administrativo deve ser instruído com o cadastro de pessoa física do representante legal do proponente, mas não há exigência quanto à juntada da cédula de identidade do proponente.
- C) Não há exigência da juntada, no processo administrativo, do comprovante de residência do proponente.
- D) O processo administrativo deve ser instruído com garantias bancárias apresentadas pelo proponente, para assegurar o cumprimento do objeto do convênio.
- E) Exige-se que o processo administrativo seja instruído com a declaração negativa de duplicidade de convênio.

Questão 40

Nos termos da Lei Complementar nº 129/2009, sobre a Superintendência de Desenvolvimento do Centro-Oeste – SUDECO – é correto afirmar:

- A) A área de atuação da SUDECO abrange os Estados do Mato Grosso, Mato Grosso do Sul, Goiás e o Distrito Federal.
- B) A natureza jurídica da SUDECO é de fundação pública.
- C) A SUDECO não possui autonomia financeira e administrativa, pois é vinculada ao Ministério de Integração Nacional.
- D) Não se trata de uma das competências da SUDECO a coordenação de programas de extensão e gestão rural.
- E) O desenvolvimento regional almejado pela SUDECO objetiva a integração competitiva da base produtiva na economia nacional, mas não internacional, devido ao seu caráter regional.

CONHECIMENTOS ESPECÍFICOS

Questão 41

Segundo EMBRAPA (1988) sobre as “Definição e notação de horizontes e camadas do solo”, existe uma camada superficial de cobertura do solo, de constituição orgânica, composta de restos mormente de origem vegetal, pouco ou não decompostos, muito ainda restando reconhecível da estrutura de partes de plantas e sobrejacentes ao solo propriamente dito, constituindo manta morta acrescida a superfície de solos minerais, sob condições de drenagem desimpedida, livre de saturação com água, ou ocasional saturação com água por somente uns poucos dias do ano. Essa camada é designada:

- A) T.
- B) L.
- C) O.
- D) A.
- E) B.

Questão 42

Em solos, existe uma propriedade que descreve a sua capacidade de transmitir fluidos, água ou ar, lateral ou verticalmente, ou a propriedade que permite a maior ou menor facilidade de penetração de água ou do ar no seio do solo. Essa propriedade é conhecida como:

- A) Transversalidade.
- B) Fluidez.
- C) Permeabilidade.
- D) Consistência.
- E) Porosidade.

Questão 43

Em solos, quando o elemento alumínio não está neutralizado, por exemplo pelo cálcio, vai existir um elemento, importante para a nutrição da planta, que estará insolúvel. E estando insolúvel não estará disponível para plantas. Qual é esse principal elemento indisponível em solos ácidos?

- A) Fósforo.
- B) Bromo.
- C) Iodo.
- D) Flúor.
- E) Cádmiio.

Questão 44

Em determinado perfil de solo, depois de analisado pelo corpo técnico da Superintendência, foi verificado que a atuação temporal da erosão eólica e hídrica promoveu uma perda de solo laminar de 150 metros cúbicos por hectare. Esse valor representa uma perda de camada de solo de profundidade de:

- A) 15 cm
- B) 1,5 m
- C) 150 mm
- D) 1,5 cm
- E) 0,15 cm

Questão 45

Assinale a alternativa que denomina um tipo de terraço no qual a terra utilizada para a construção do dique é removida de ambos os lados da linha que marca a curva de nível do terreno, em quantidades iguais, e é indicado para terrenos de declividade suaves e permeáveis.

- A) Magnum.
- B) Nichols.
- C) Patamar.
- D) Contínuo.
- E) Descontínuo.

Questão 46

Calcular a vazão (kg/min) de um determinado adubo que deve ser lançado em uma área para um conjunto operado com velocidade de 6,0 Km/h. O adubo deve ser lançado na dosagem de 2000 kg/ha, sendo a largura útil da faixa de trabalho de 5,0 metros. Sabendo que:

$$D = (10.000 \cdot Q) / L \cdot V,$$

sendo,

D – dosagem (kg/ha).

Q – vazão (kg/min).

L – largura útil de trabalho (m).

V – velocidade do conjunto (m/min).

- A) 1
- B) 10
- C) 50
- D) 60
- E) 100

Questão 47

No estudo de fitopatologia o sintoma morfológico refere-se a qualquer alteração visível na forma ou anatomia dos órgãos da planta decorrente da ação de um patógeno, sendo fator importante para o tratamento imediato da doença. Dependendo do tipo de modificação exibida pelo órgão afetado, os sintomas morfológicos podem ser qualificados como necróticos ou plásticos. Em se tratando de sintomas necróticos existe um sintoma que é caracterizado por lesões necróticas, deprimidas, mais frequentes nos tecidos corticais de caule, raiz e tubérculos. Eventualmente, esse tipo de sintoma é observado em folhas e frutos. Doenças com esse tipo de sintoma manifestam-se tanto em plantas perenes quanto em anuais. Como é denominado esse tipo de sintoma?

- A) Crestamento.
- B) Damping-off.
- C) Cranco.
- D) Escaldadura.
- E) Gomose.

Questão 48

Em topografia as escalas numéricas ou fracionárias figuram-se por frações, cujos denominadores representam as dimensões naturais e os numeradores as que lhes correspondem no mapa. Considerando-se duas escalas de 1:50.000 e de 1:25.000, quando é feita a leitura de 1 (um) centímetro no mapa, essa leitura equivale a quanto no terreno para cada escala? E a escala de 1:25.000 é maior ou menor que a escala de 1:50.000? Assinale a alternativa que responde, respectivamente, a essas duas perguntas.

- A) 5 e 2,5 metros, maior.
- B) 50 e 25 metros, menor.
- C) 50 e 25 metros, maior.
- D) 500 e 250 metros, menor.
- E) 500 e 250 metros, maior.

Questão 49

Conforme Lei nº 10.711, de 5 de agosto de 2003, que dispõe sobre o Sistema Nacional de Sementes e Mudanças e dá outras providências, a produção de sementes da classe não certificada (a partir de sementes certificadas, básicas ou genéticas, condicionada à prévia inscrição dos campos de produção no Mapa e ao atendimento às normas e padrões estabelecidos no regulamento dessa Lei) com origem genética comprovada poderá ser feita por, no máximo:

- A) 1 (uma) geração.
- B) 3 (três) gerações.
- C) 2 (duas) gerações.
- D) 5 (cinco) gerações.
- E) 4 (quatro) gerações.

Questão 50

De modo geral os dois principais parâmetros para estimar a quantidade de irrigação necessária em uma cultura são:

- A) evapotranspiração e precipitação efetiva.
- B) transpiração e precipitação efetiva.
- C) precipitação efetiva e água percolada.
- D) evapotranspiração e água percolada.
- E) transpiração e evapotranspiração.

Questão 51

Em campos de produção de sementes o “rouging” é praticamente a única forma de remover as plantas atípicas e de outras cultivares, de reduzir as incidências de algumas moléstias transmissíveis pelas sementes e também de eliminar as plantas daninhas e as plantas de outras culturas que não puderam ser controladas pelos cultivos manuais, mecânicos ou por herbicidas, e cujas sementes são de difícil separação no beneficiamento. A operação é particularmente difícil porque:

- A) os equipamentos para execução e herbicidas são muito caros.
- B) o campo deverá ser inteiramente percorrido.
- C) demandará de autorização da certificadora.
- D) sua execução exigirá contratação de empresa especializada.
- E) deverá ser executado sempre em triplicata.

Questão 52

Em irrigação existe um intervalo que representa o suprimento de água às plantas, de acordo com suas necessidades nos diferentes estádios de seu desenvolvimento e dentro das limitações de vazão e distribuição de água existente. Esse intervalo é denominado:

- A) ponto de murcha.
- B) capacidade de retenção de água no solo.
- C) tempo de retorno.
- D) turno de rega.
- E) intervalo de aplicação.

Questão 53

Os aspersores utilizados em pivô central podem ser classificados em quatro tipos comuns. Existe um tipo que é denominado difusores no qual o diâmetro do bocal ou tamanho do difusor aumenta à medida que se afasta do centro do pivô, mas a largura da faixa molhada permanece praticamente constante ao longo do pivô e é muito pequena, normalmente varia de 6 a 9 metros. A que tipo de aspersor essa afirmação se refere?

- A) 1
- B) 2
- C) A
- D) B
- E) C

Questão 54

Existe um sistema de drenagem que também é denominado sistema de drenagem em terraços ou sistema de drenagem transversal à principal declividade do terreno. Adaptando-se a áreas de solos pouco permeáveis, cuja principal fonte de água que mantém as áreas planas com alto teor de umidade é o fluxo do lençol freático proveniente das encostas. É um sistema bastante eficiente, por ser preventivo, o qual minimizará a capacidade dos drenos necessários nas áreas baixas. Esse sistema de drenagem é denominado:

- A) natural.
- B) camalhão.
- C) interceptor.
- D) rasos.
- E) paralelos.

Questão 55

A maturidade dos produtos hortícolas é considerada sob dois aspectos: a maturidade comercial e a fisiológica. Qual o produto hortícola abaixo que, normalmente, é colhido depois de atingida sua maturidade fisiológica?

- A) Tomate.
- B) Pepino.
- C) Quiabo.
- D) Brócolis.
- E) Couve-flor.

Questão 56

Os produtos hortícolas devem sempre apresentar boas características de qualidade não só quando se destinam ao comércio “in natura”, bem como ao processamento, embora as características para avaliação da qualidade nem sempre sejam as mesmas. Considerando os atributos de qualidade de frutas e hortaliças, os defeitos internos e externos estão relacionados com a:

- A) textura.
- B) aparência.
- C) flavor.
- D) rendimento.
- E) valor nutritivo.

Questão 57

Na montagem de experimentos visando análise estatística, um dos princípios básicos da experimentação consiste em atribuir a todos os tratamentos a mesma probabilidade de serem designados a qualquer das unidades experimentais, e tem por finalidade proporcionar uma estimativa válida para o erro experimental. Como é chamado esse princípio básico?

- A) Repetição.
- B) Casualização.
- C) Controle local.
- D) Experimentação.
- E) Probabilidade.

Questão 58

Uma maneira comumente usada para classificar os cursos d'água é a de tomar como base a constância do escoamento. Esse procedimento permite a determinação de três tipos. Um deles é um tipo de curso d'água que se faz presente apenas durante ou imediatamente após os períodos de precipitação e só transportam escoamento superficial. Esse tipo de curso d'água é o:

- A) perene.
- B) intermitente.
- C) transitivo.
- D) efêmero.
- E) provisório.

Questão 59

O esfriamento dinâmico ou adiabático é a principal causa da condensação e é responsável pela maioria das precipitações. Existe um tipo de precipitação que é típica das regiões tropicais. Nesse tipo, o aquecimento desigual da superfície terrestre provoca o aparecimento de camadas de ar com densidades diferentes, o que gera uma estratificação térmica da atmosfera em equilíbrio instável. Se esse equilíbrio, por qualquer motivo (vento, superaquecimento), for quebrado provoca uma ascensão brusca e violenta do ar menos denso, capaz de atingir grandes altitudes. Essas precipitações são de grande intensidade e curta duração, concentradas em pequenas áreas, sendo de grande importância para projetos em pequenas bacias. Como é denominada essa precipitação?

- A) Orográfica.
- B) Ciclônica.
- C) De massa.
- D) Convectiva.
- E) Coalescente.

Questão 60

Em topografia um azimute de $324^{\circ}25'$ terá para rumo o valor de:

- A) $45^{\circ}25'$ SE.
- B) $74^{\circ}35'$ SO.
- C) $214^{\circ}25'$ NO.
- D) $134^{\circ}35'$ NE.
- E) $35^{\circ}35'$ NO.