

PREFEITURA MUNICIPAL DE CACOAL – RO SECRETARIA MUNICIPAL DE ADMINISTRAÇÃO – SEMAD

CONCURSO PÚBLICO para o cargo de Fiscal de Vigilância Sanitária

PROVA
S19 – P
TARDE

ATENÇÃO:
Verifique se o tipo de prova deste caderno de questões confere com o seu cartão de respostas.

TRANSCREVA, EM ESPAÇO DETERMINADO NO SEU CARTÃO DE RESPOSTAS,
A FRASE DO ESCRITOR PAULO COELHO PARA EXAME GRAFOTÉCNICO

“O caminho da sabedoria é não ter medo de errar.”

ATENÇÃO

● DURAÇÃO DA PROVA: 3 horas e 30 minutos.

● ESTE CADERNO CONTÉM 60 (SESENTA) QUESTÕES DE MÚLTIPLA ESCOLHA, CADA UMA COM 5 ALTERNATIVAS DE RESPOSTA – A, B, C, D e E – CONFORME DISPOSIÇÃO ABAIXO:

Disciplinas	Quantidade de questões	Valor de cada questão
Língua Portuguesa	15	2
Legislação e Ética na Administração Pública Municipal	5	1
Geografia e História de Rondônia	5	1
Informática Básica	10	1
Conhecimentos Específicos	25	2

● VERIFIQUE SE ESTE MATERIAL ESTÁ EM ORDEM, CASO CONTRÁRIO, NOTIFIQUE IMEDIATAMENTE O FISCAL.

● RESERVE OS 30 (TRINTA) MINUTOS FINAIS PARA MARCAR SEU CARTÃO DE RESPOSTAS.

LEIA AS INSTRUÇÕES ABAIXO

- Após identificado e instalado na sala, você não poderá consultar qualquer material, enquanto aguarda o horário de início da prova.
- Siga, atentamente, a forma correta de preenchimento do Cartão de Respostas, conforme estabelecido no próprio.
- Não haverá substituição do Cartão de Respostas por erro do candidato.

Por motivo de segurança:

- O candidato só poderá retirar-se definitivamente da sala após 1 (uma) hora do início efetivo da prova;
- Somente faltando 1 (uma) hora para o término da prova, o candidato poderá retirar-se levando o seu Caderno de Questões;
- O candidato que optar por se retirar sem levar o seu Caderno de Questões, não poderá copiar suas respostas por qualquer meio. O descumprimento dessa determinação será registrado em ata e acarretará a eliminação do candidato; e
- Ao terminar a prova, o candidato deverá retirar-se imediatamente do local, não sendo possível nem mesmo a utilização dos banheiros e/ou bebedouros.
- Ao terminar a prova, é de sua responsabilidade entregar ao fiscal o Cartão de Respostas assinado. Não se esqueça dos seus pertences.
- Os três últimos candidatos deverão permanecer na sala até que o último candidato entregue o Cartão de Respostas.
- O fiscal de sala não está autorizado a alterar quaisquer destas instruções. Em caso de dúvida, solicite a presença do coordenador local.

BOA PROVA!

www.funcab.org

Leia o texto abaixo e responda às questões propostas.

A hora da estrela

Maio, mês das borboletas noivas flutuando em brancos véus. Sua exclamação talvez tivesse sido um prenúncio do que ia acontecer no final da tarde desse mesmo dia: no meio da chuva abundante encontrou (explosão) a primeira espécie de namorado de sua vida, o coração batendo como se ela tivesse englutido um passarinho esvoaçante e preso. O rapaz e ela se olharam por entre a chuva e se reconheceram como dois nordestinos, bichos da mesma espécie que se farejam. Ele a olhara enxugando o rosto molhado com as mãos. E a moça, bastou-lhe vê-lo pra torná-lo imediatamente sua goiabada-com-queijo.

Ele...

Ele se aproximou e com voz cantante de nordestino que a emocionou, perguntou-lhe:

– E se me desculpe, senhorinha, posso convidar a passear? [...]

Eles não sabiam como se passeia. Andaram sob a chuva grossa e pararam diante da vitrine de uma loja de ferragem onde estavam expostos atrás do vidro canos, latas, parafusos grandes e pregos. [...]

Da segunda vez em que se encontraram caía uma chuva fininha que ensopava os ossos. Sem nem ao menos se darem as mãos caminhavam na chuva que na cara de Macabéa parecia lágrimas escorrendo.

Da terceira vez que se encontraram – pois não é que estava chovendo? – o rapaz, irritado e perdendo o leve verniz de finura que o padrasto a custo lhe ensinara, disse-lhe:

– Você também só sabe é chover!

– Desculpe.

Mas ela já o amava tanto que não sabia mais como se livrar dele, estava em desespero de amor.

Numa das vezes em que se encontraram ela afinal perguntou-lhe o nome.

– Olímpico de Jesus Moreira Chaves – mentiu ele porque tinha como sobrenome apenas o de Jesus, sobrenome dos que não têm pai. Fora criado por um padrasto que lhe ensinara o modo fino de tratar pessoas para se aproveitar delas e lhe ensinara como pegar mulher. [...]

Olímpico de Jesus trabalhava de operário numa metalúrgica e ela nem notou que ele não se chamava de “operário” e sim de “metalúrgico”. Macabéa ficava contente com a posição social dele porque também tinha orgulho de ser datilógrafa, embora ganhasse menos que o salário mínimo. Mas ela e Olímpico eram alguém no mundo. “Metalúrgico” e “datilógrafa” formavam um casal de classe. [...]

LISPECTOR, Clarice. *A hora da estrela*. Rio de Janeiro: Rocco, 1998. p. 42-45. (Fragmento)

> englutido: engolido

Questão 01

Das alternativas abaixo, assinale a que apresenta um trecho do texto que revela os sentimentos de Macabéa por Olímpico.

- A) “[...] o coração batendo como se ela tivesse englutido um passarinho esvoaçante e preso.” (§ 1)
- B) “[...] Sua exclamação talvez tivesse sido um prenúncio do que ia acontecer no final da tarde desse mesmo dia [...]” (§ 1)
- C) “Eles não sabiam como se passeia. [...]” (§ 5)
- D) “Maio, mês das borboletas noivas flutuando em brancos véus. [...]” (§ 1)
- E) “Numa das vezes em que se encontraram ela afinal perguntou-lhe o nome.” (§ 11)

Questão 02

Nos três primeiros encontros dos dois jovens estava chovendo. A repetição desse fato provoca no leitor a sensação de:

- A) aconchego.
- B) relação harmoniosa.
- C) desagradável melancolia.
- D) afeto.
- E) equilíbrio amoroso.

Questão 03

A ingenuidade de Macabéa é uma de suas características mais marcantes. Sobre como isso fica evidente no último parágrafo, analise as afirmativas a seguir.

- I. Macabéa considera que ela e Olímpico formavam um casal de classe em razão da posição social que tinham.
- II. O fato de Olímpico não se chamar de operário, pois ele trabalhava honestamente.
- III. Ela acreditava que uma datilógrafa e um metalúrgico “eram alguém no mundo”.

Está(ão) correta(s) somente as afirmativas:

- A) I.
- B) II.
- C) III.
- D) I e II.
- E) I e III.

Questão 04

No período “[...] EMBORA ganhasse menos que o salário mínimo. [...]” (§ 13), a palavra destacada pode ser substituída, sem prejuízo para o sentido original do texto, por:

- A) porém.
- B) conforme.
- C) por que.
- D) conquanto.
- E) consoante.

Questão 05

Há desvios da norma culta no texto. Assinale a alternativa que indica um deles.

- A) Em lugar de TALVEZ TIVESSE SIDO (§ 1), deveria estar escrito TIVESSE SIDO TALVEZ.
- B) Deveria haver uma vírgula depois do termo “Da segunda vez em que se encontraram [...]” (§ 6)
- C) Assim como no período anterior, o verbo da oração “Mas ela e Olímpico eram alguém no mundo. [...]” (§ 13) deveria estar no imperfeito do subjuntivo.
- D) O vocativo SENHORINHA (§ 4) deveria estar, obrigatoriamente, no início da frase.
- E) O vocábulo PRENÚNCIO (§ 1) não deveria estar acentuado.

Questão 06

A figura de linguagem presente em “[...] e se reconheceram como dois nordestinos [...]” (§ 1) é:

- A) prosopopeia.
- B) comparação.
- C) sinestesia.
- D) hipérbole.
- E) metáfora.

Questão 07

Em uma das alternativas a seguir, o termo destacado funciona como agente do termo anterior. Assinale-o.

- A) com voz cantante (§ 3)
- B) de operário (§ 13)
- C) por um padrao (§ 12)
- D) em desespero (§ 10)
- E) numa metalúrgica (§ 13)

Questão 08

Sobre o fragmento “Mas ela já o amava tanto que não sabia mais como se livrar dele [...]” (§ 10), pode-se afirmar que:

- A) a segunda oração é uma consequência da primeira.
- B) a primeira oração estabelece uma condição em relação à segunda.
- C) a primeira oração é uma explicação da segunda.
- D) as orações mostram ações que se aproximam pela relação temporal.
- E) as orações estão ligadas por conectores circunstanciais.

Questão 09

“[...] Sua exclamação talvez tivesse sido um prenúncio do que ia acontecer no final da tarde desse mesmo dia: no meio da chuva abundante encontrou (explosão) a primeira espécie de namorado de sua vida, o coração batendo como se ela tivesse englutido um passarinho esvoaçante e preso. [...]” Com relação aos componentes desse fragmento do texto, é correto afirmar que:

- A) as duas ocorrências do pronome possessivo SUA referem-se a um elemento imediatamente anterior.
- B) a palavra SE é um pronome apassivador.
- C) a expressão “NO FINAL DA TARDE” é uma circunstância de tempo.
- D) a preposição presente em “DE sua vida” indica finalidade.
- E) PASSARINHO e PRESO pertencem à mesma classe gramatical.

Questão 10

Em “Maio, MÊS DAS BORBOLETAS NOIVAS FLUTUANDO EM BRANCOS VÉUS. [...]” o trecho destacado marca:

- A) intercalação do adjunto adverbial.
- B) um comentário acessório.
- C) um aposto.
- D) uma citação.
- E) uma inversão.

Questão 11

Assinale a alternativa cujo termo destacado possui classe gramatical DIFERENTE da dos demais.

- A) “[...] bichos da mesma espécie QUE se farejam. [...]”
- B) “[...] ela nem notou QUE ele não se chamava [...]”
- C) “[...] Fora criado por um padrasto QUE lhe ensinara [...]”
- D) “[...] mãos caminhavam na chuva QUE na cara de Macabéa parecia lágrimas escorrendo.”
- E) “[...] sobrenome dos QUE não têm pai. [...]”

Questão 12

“[...] ANDARAM sob a chuva grossa e PARARAM diante da vitrine de uma loja de ferragem onde estavam expostos atrás do vidro canos, latas, parafusos grandes e pregos.”

Com relação às formas verbais destacadas, é correto afirmar que:

- A) indicam um passado que continua no presente.
- B) atribuem singularidade e mistério ao sujeito.
- C) referem-se ao futuro iminente.
- D) remetem, contextualmente, a um sujeito já conhecido.
- E) compõem a ideia de inexistência de um sujeito.

Questão 13

Assinale a alternativa em que se tenha reescrito o trecho em destaque em consonância com a norma culta e sem alterar o sentido do texto.

“[...] Fora criado por um padrasto QUE LHE ENSINARA O MODO FINO DE TRATAR PESSOAS PARA SE APROVEITAR DELAS e lhe ensinara como pegar mulher. [...]”

- A) que ensinara-lhe o modo fino de se tratar pessoas para se aproveitar delas.
- B) que o ensinara o modo fino de tratar pessoas, para que pudesse se aproveitar delas.
- C) que lhe ensinara o modo fino de tratar pessoas, embora se aproveitasse delas.
- D) que ensinara-lhe o modo fino de tratar pessoas, à medida que se aproveitava delas.
- E) que lhe ensinara o modo fino de se tratar pessoas, a fim de se aproveitar delas.

Questão 14

Qual a função sintática do QUE em “[...] Fora criado por um padrasto que lhe ensinara [...]”?

- A) sujeito.
- B) objeto direto.
- C) objeto indireto.
- D) adjunto adnominal.
- E) complemento nominal.

Questão 15

De acordo com os estudos de regência verbal e com o padrão culto da língua, o verbo em destaque em “Numa das vezes em que se encontraram ela afinal PERGUNTOU-lhe o nome.” é:

- A) transitivo indireto.
- B) transitivo direto e indireto.
- C) intransitivo.
- D) de ligação.
- E) transitivo direto.

LEGISLAÇÃO E ÉTICA NA
ADMINISTRAÇÃO PÚBLICA MUNICIPAL

Questão 16

Segundo disposto na Constituição Federal, em caso de iminente perigo público:

- A) a autoridade competente poderá usar de propriedade particular, assegurada ao proprietário indenização ulterior, se houver dano.
- B) a autoridade competente poderá usar de propriedade particular, assegurada ao proprietário prévia indenização.
- C) qualquer um do povo poderá usar de propriedade particular, assegurada ao proprietário indenização ulterior, se houver dano.
- D) qualquer um do povo poderá usar de propriedade particular, não lhe sendo exigível indenização ulterior ao proprietário.
- E) a autoridade competente poderá usar de propriedade particular, não lhe sendo exigível indenização ulterior ao proprietário.

Questão 17

A licitação na modalidade de pregão poderá ser adotada para a aquisição de bens e serviços comuns, assim entendidos aqueles:

- A) cujo valor unitário não supere a fração de 1/10 do salário mínimo vigente.
- B) que forem assim discricionariamente considerados pela autoridade licitante, considerados seus padrões tecnológicos.
- C) cujos padrões de desempenho e qualidade possam ser objetivamente definidos pelo edital, por meio de especificações usuais no mercado.
- D) cuja tecnologia seja comum e usual no mercado, mesmo que não possam ser objetivamente definidos seus padrões de desempenho e qualidade.
- E) cujos valores possam ser prévia e objetivamente definidos pelo edital, por meio de cotação oficial.

Questão 18

Assinale a alternativa correta no que diz respeito à característica legal dos atos de improbidade administrativa.

- A) Dependem da ocorrência de dolo do agente.
- B) Só podem ser praticados por servidor público.
- C) Dependem da ocorrência de enriquecimento ilícito.
- D) Não são capazes de ensejar perda da função pública, mas apenas suspensão dos direitos políticos.
- E) Podem ser praticados por empregado de sociedade de economia mista.

Questão 19

O funcionário público que intencionalmente deixa a porta da repartição pública aberta para, à noite, alguém entrar e furtar dinheiro que lá estava guardado, responde por crime de:

- A) corrupção ativa.
- B) corrupção passiva.
- C) prevaricação.
- D) peculato.
- E) facilitação de descaminho.

Questão 20

Segundo o Regime Jurídico Estatutário dos Servidores Públicos do Município de Cacoal – RO, é vedado ao servidor público:

- A) guardar sigilo sobre assuntos da repartição.
- B) ausentar-se do serviço, mesmo que autorizado por seu superior imediato.
- C) representar contra ilegalidade ou abuso de poder.
- D) ser assíduo ao serviço.
- E) promover manifestação de apreço no recinto da repartição.

GEOGRAFIA E HISTÓRIA DE RONDÔNIA

Questão 21

O início da construção da Estrada de Ferro Madeira-Mamoré, em virtude da assinatura do Tratado de Petrópolis (1903), constituiu um poderoso impulso para o povoamento da região. Na fase de construção, os acampamentos de operários no ponto inicial e no ponto final deram origem a formação de quais cidades, respectivamente?

- A) Porto Velho e Guajará-Mirim.
- B) Ji-Paraná e Ariquemes.
- C) Ji-Paraná e Vilhena.
- D) Ariquemes e Guajará-Mirim.
- E) Porto Velho e Vilhena.

Questão 22

O primeiro explorador europeu que teria alcançado o vale do rio Guaporé foi o espanhol Núfelo de Chávez, de passagem entre 1541 e 1542. Mais tarde, no século XVII, a região foi percorrida pela Bandeira de Antônio Raposo Tavares que, entre 1648 e 1651, partindo de São Paulo alcançou Belém do Pará. No século seguinte, os bandeirantes começaram a explorar o vale do Guaporé. (<<http://www.rondonia.ro.gov.br>> Adaptado).

O fator que levou os bandeirantes a explorar o vale do Guaporé foi a:

- A) descoberta de ouro.
- B) exploração das drogas do sertão.
- C) busca por terras para o plantio.
- D) exploração do pau-brasil.
- E) descoberta de jazidas de cassiterita.

Questão 23



<<http://domacedo.blogspot.com.br/2011/11/chevron-o-desastre.html>> Acesso em 21/09/13.

Além da poluição dos mares, por exemplo, a exploração do petróleo tem gerado um grande debate sobre a distribuição dos *royalties* entre os estados do Brasil. Os *royalties* são:

- A) tarifas pagas pelo governo federal às empresas exploradoras de petróleo.
- B) impostos repassados pelas prefeituras para órgãos ambientais.
- C) compensações financeiras pagas pelas empresas exploradoras aos governos.
- D) taxas pagas pelos governos às prefeituras de municípios fornecedores de petróleo.
- E) recursos tecnológicos repassados pelas empresas exploradoras aos governos.

Questão 24

A morte de Hugo Chávez, presidente da Venezuela, em março de 2013, abre um período de incertezas não só para o país, mas também para outras nações latino-americanas que seguiam de perto as políticas desenvolvidas pelo líder venezuelano. Apesar das incertezas e dos questionamentos sobre o processo eleitoral naquele país, um novo presidente foi eleito em abril de 2013. O presidente eleito da Venezuela é:

- A) Henrique Capriles.
- B) Evo Morales.
- C) Nicolás Maduro.
- D) Juan Manoel Santos.
- E) José Mujica.

Questão 25

Rondônia tem um relevo pouco acidentado, sem elevações ou depressões acentuadas. As altitudes variam entre 70 e 500 metros, tendo como referência o nível do mar. No sul do estado, são encontradas as áreas mais acidentadas, com depressões e elevações. Nessa região fica o ponto mais elevado do estado, a Serra:

- A) da Cutia.
- B) dos Parecis.
- C) do Colorado.
- D) dos Pacaás Novos.
- E) da Providência.

INFORMÁTICA BÁSICA

Questão 26

Observe a seguir a imagem exibida na Faixa de Opções do Microsoft Office Word 2007.




Essa imagem corresponde:

- A) a opções de folhas de rosto.
- B) ao conjunto de estilos, cores e fontes usados no documento.
- C) ao conjunto de fontes bibliográficas.
- D) ao conjunto de formatos do índice remissivo.
- E) ao modo de estrutura de tópicos.

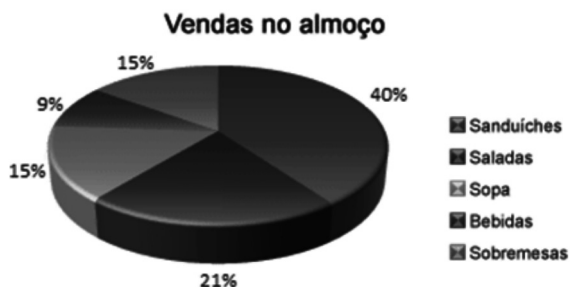
Questão 27

Sobre o uso de janelas no Windows 7, é correto afirmar:

- A) Ao minimizar uma janela, esta desaparece da barra de tarefas.
- B) O botão “Minimizar” corresponde à imagem .
- C) A combinação de teclas ALT e TAB permite navegar entre as janelas abertas no seu computador.
- D) Na área de trabalho, é possível ter somente uma janela aberta por vez.
- E) Para que uma janela ocupe a tela inteira, é preciso clicar em seu botão “Recuperar”.

Questão 28

No Office Excel 2007, a imagem a seguir, extraída do site da Microsoft, representa:



- A) um gráfico de pizza.
- B) um gráfico de área.
- C) um gráfico de superfície.
- D) um filtro.
- E) uma tabela dinâmica.

Questão 29

O Corretor Ortográfico do Microsoft Office Word 2007 identifica palavras grafadas incorretamente, formatando as palavras com:

- A) fonte azul sublinhada.
- B) negrito.
- C) realce amarelo.
- D) sublinhada com linha ondulada vermelha.
- E) tachado.

Questão 30

Observe a imagem parcial de uma planilha no Microsoft Office Excel 2007:

	A	B	H	I
1	Item	Valor		
3	Escola	830		
13	Dentista crianças	494		
14	Gás	50		
15	Luz	200		
16	IPTU	58		
17	Incêndio	4		
18	CEG	250		
25	Filtro	60		
26	Remédios crianças	150		
27				
28				

As linhas pontilhadas na horizontal (parte inferior da imagem) e na vertical (lado direito da imagem) representam:

- A) seleção de dados para criação de uma tabela dinâmica.
- B) área de sombreado.
- C) seleção de dados para geração de gráficos.
- D) área selecionada para impressão.
- E) quebras de página inseridas automaticamente pelo Excel.

Questão 31

A tecla de atalho que atualiza a página aberta em seu navegador é:

- A) F1
- B) F3
- C) F5
- D) Home
- E) Esc

Questão 32

O Windows permite que você utilize o mouse para realizar diversas operações. Para mover um arquivo de uma pasta para outra, você deve:

- A) clicar com o botão esquerdo do mouse sobre o arquivo.
- B) clicar com o botão direito do mouse sobre o arquivo.
- C) clicar duas vezes seguidas (duplo-clique) sobre o arquivo.
- D) usar a função arrastar-e-soltar (manter pressionado o botão esquerdo, mover o arquivo para a pasta de destino e soltar o botão).
- E) usar a roda de rolagem.

Questão 33

Observe abaixo a imagem exibida no canto inferior direito da tela do seu computador.



Essa área é chamada de:

- A) Barra de Tarefas.
- B) Área de Notificação.
- C) Iniciar.
- D) Área de Trabalho.
- E) Gerenciador de Tarefas.

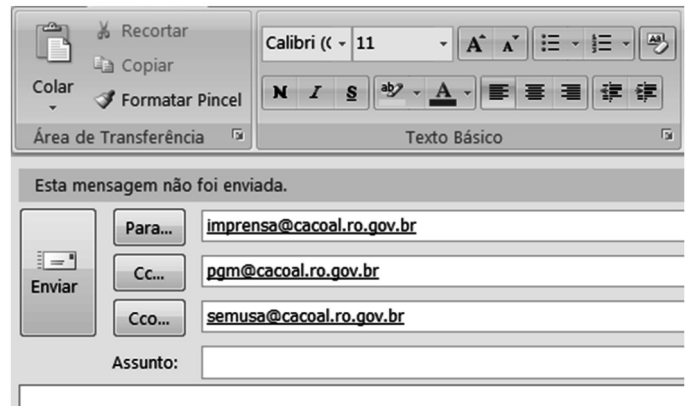
Questão 34

A criptografia é um dos principais mecanismos de segurança para se proteger no uso da Internet. Por meio do uso da criptografia, é possível melhorar a segurança de informações de diversas formas, EXCETO:

- A) proteger os dados sigilosos armazenados em seu computador, como informações sobre processos de licitação em andamento.
- B) criar uma partição no seu computador, na qual todas as informações que forem lá gravadas serão automaticamente criptografadas.
- C) proteger seus *backups* contra acesso indevido, principalmente aqueles gravados em mídias externas, como *pendrivers*.
- D) proteger as comunicações realizadas pela Internet, como transações bancárias.
- E) detectar e eliminar de um computador vírus e outros tipos de códigos maliciosos.

Questão 35

Observe a tela para criação e envio de uma mensagem no Microsoft Office Outlook 2007 a seguir:



Com base na tela apresentada, é INCORRETO afirmar que:

- A) `Imprensa@cacoal.ro.gov.br` não terá ciência de que `pgm@cacoal.ro.gov.br` e `semusa@cacoal.ro.gov.br` também receberam a mensagem.
- B) Ao clicar o botão "Para" será exibido o Catálogo de Endereços.
- C) As opções de formatação de texto se aplicam tanto ao corpo da mensagem quanto à caixa de diálogo "Assunto".
- D) Calibri é nome de um tipo de fonte.
- E) 11 indica o tamanho da fonte.

CONHECIMENTOS ESPECÍFICOS

Questão 36

A Constituição da República Federativa do Brasil, juntamente com a Lei Orgânica de Saúde, asseguram que “A assistência à saúde é livre à iniciativa privada”. De acordo com essa afirmação, marque a alternativa correta.

- A) O setor privado terá preferência para participar do Sistema Único de Saúde – SUS quando colacionado às entidades filantrópicas e às sem fins lucrativos.
- B) Na prestação de serviços privados de assistência à saúde, serão observados os princípios éticos e as normas do hospital contratado quanto às condições para seu funcionamento.
- C) Os serviços privados de assistência à saúde caracterizam-se pela atuação de pessoas jurídicas e de direito privado na promoção, proteção e recuperação da saúde.
- D) Os Hospitais Universitários são considerados da iniciativa privada, porém, apresentam cotas de atendimento/leitos reservados ao Sistema Único de Saúde – SUS.
- E) É liberada a participação direta de empresas ou de capitais estrangeiros na assistência à saúde, exceto através de doações, financiamento ou empréstimos.

Questão 37

“O Sistema Único de Saúde – SUS, de que trata a Lei nº 8.080, de 19 de setembro de 1990, contará, em cada esfera de governo, sem prejuízo das funções do Poder Legislativo, com as seguintes instâncias colegiadas: Conselho de Saúde e Conferência de Saúde”. Estabeleça a correta correspondência entre a coluna II e as instâncias colegiadas da coluna I.

Coluna I

1. Conselho de Saúde
2. Conferência de Saúde
3. Conselho de Saúde e Conferência de Saúde

Coluna II

- () Reunir-se-á a cada quatro anos com a representação dos vários segmentos sociais.
- () Possui caráter permanente e deliberativo.
- () Controla a execução da política de saúde na instância correspondente, inclusive nos aspectos econômicos e financeiros.
- () Terá a representação dos usuários será paritária em relação ao conjunto dos demais segmentos.

A sequência correta é:

- A) 1, 2, 2 e 3.
- B) 2, 3, 3 e 2.
- C) 2, 1, 2 e 1.
- D) 2, 1, 1 e 3.
- E) 3, 2, 2 e 1.

Questão 38

Doença transmitida por alimento é um termo genérico aplicado a uma síndrome geralmente constituída de anorexia, náuseas, vômitos e/ou diarreia, acompanhada ou não de febre e atribuída à ingestão de alimentos ou água contaminados. Sintomas digestivos, no entanto, não são as únicas manifestações dessas doenças. Podem ocorrer, ainda, afecções extraintestinais em diferentes órgãos e sistemas como: meninges, rins, fígado, sistema nervoso central, terminações nervosas periféricas e outros, de acordo com o agente envolvido. Dados disponíveis de surtos apontam como agentes mais frequentes os de origem bacteriana. Dentre eles, quais podem se destacar?

- A) *Enterobacteria phage T4*, *Retroviridae*, *Bacillus cereus* e *Fasciola hepática*.
- B) *Balantidium coli*, *Fasciola hepática*, *Echinococcus granulosus* e *Salmonella spp.*
- C) *Toxoplasma gondii*, *Staphylococcus aureus*, *Streptococcus agalactiae* e *Estafilococos epidermidis*.
- D) *Salmonella spp.*, *Escherichia coli*, *Staphylococcus aureus*, *Shigella spp* e *Bacillus cereus*.
- E) *Shigella spp.*, *Tripanossoma cruzi*, *Toxoplasma gondii* e *Clostridium perfringens*.

Questão 39

Das doenças de notificação compulsória listadas abaixo, marque a única alternativa que também é considerada doença transmitida por alimento.

- A) Botulismo
- B) Coqueluche
- C) Febre do Nilo Ocidental
- D) Febre Maculosa
- E) Tularemia

Questão 40

Conhecendo o conceito e atribuições do sistema de vigilância sanitária e vigilância epidemiológica, relacione a segunda coluna de acordo com a primeira e marque a alternativa com a sequência correta.

- | | |
|------------------------------|---|
| 1. Vigilância sanitária | () É o conjunto de ações que proporcionam o conhecimento, a detecção ou prevenção de qualquer mudança nos fatores determinantes e condicionantes de saúde. |
| 2. Vigilância epidemiológica | () Intervem nos problemas sanitários decorrentes do meio ambiente, da produção e circulação de bens e da prestação de serviços de interesse da saúde. |
| | () É o conjunto de ações capaz de eliminar, diminuir ou prevenir riscos à saúde. |
| | () Possui a finalidade de recomendar e adotar as medidas de prevenção e controle das doenças ou agravos. |

- A) 2,1,1,2
- B) 2,2,2,1
- C) 1,2,1,2
- D) 2,2,1,1
- E) 1,2,2,1

Questão 41

Os níveis de saúde da população expressam a organização social e econômica do país. A saúde tem como fator determinante e condicionante, dentre outros, o acesso aos bens e serviços essenciais. De acordo com a Lei Orgânica de Saúde, são também considerados determinantes e condicionantes da saúde, os seguintes fatores com a EXCEÇÃO do(a):

- A) transporte.
- B) moradia.
- C) setor privado curativista.
- D) meio ambiente.
- E) lazer.

Questão 42

Todos os serviços de saúde, desde 2004, quando foi publicada a Resolução da Diretoria Colegiada nº 306 (RDC nº 306), devem atender na íntegra às exigências nele contidas, previamente ao seu funcionamento. Para os resíduos do Grupo D, destinados à reciclagem ou reutilização, a identificação deve ser feita nos recipientes e nos abrigos de guarda de recipientes, usando código de cores e suas correspondentes nomeações, com base na Resolução CONAMA nº 275/2001. Os resíduos de plástico serão descartados no recipiente:

- A) azul.
- B) amarelo.
- C) verde.
- D) vermelho.
- E) marrom.

Questão 43

O Governo tem a obrigação de promover e proteger a saúde da população. Para isso ele diz quais são as regras, as normas que devem ser consideradas e respeitadas na produção, uso e circulação de produtos que apresentam algum tipo de risco para a saúde das pessoas. O transporte de alimentos, por exemplo, tem que ser feito em condições tais que protejam o produto da deterioração ou contaminação e, por conseguinte, protejam a saúde daqueles que vão consumir. São muitos os riscos que devem ser controlados pela Vigilância Sanitária. São considerados riscos sociais:

- A) água (consumo e mananciais hídricos), esgoto, lixo (doméstico, industrial, hospitalar) e vetores.
- B) transmissores de doenças (mosquito, barbeiro, animais), poluição do ar, do solo e de recursos hídricos, transporte de produtos perigosos.
- C) transporte, alimentos, substâncias psicoativas, violências, grupos vulneráveis e necessidades básicas insatisfeitas.
- D) creches, escolas, clubes, hotéis, motéis, portos, aeroportos, fronteiras, estações, ferroviárias, rodoviárias, salão de beleza e saunas.
- E) procedimentos e serviços de saúde, medicamentos, infecção hospitalar, sangue e hemoderivados, radiações ionizantes.

Questão 44

A Lei Federal nº 8.080 estabeleceu, no artigo 15, as atribuições comuns da União, dos Estados, do DF e dos Municípios, entre as quais prevalece a de elaboração de normas técnico-científicas de promoção, proteção e recuperação da saúde, o que pressupõe, necessariamente, a competência de cada uma das entidades estatais para legislar nesses campos. Combinando-se as competências atribuídas a cada uma das esferas de governo com as atribuições comuns e os objetivos gerais do SUS, conclui-se que, em matéria de Vigilância Sanitária, incluindo o poder de polícia administrativa sanitária, cabe ao município:

- A) suplementar a legislação estadual no tocante à aplicação dos serviços de Vigilância Sanitária.
- B) coordenar e, em caráter complementar, executar ações de Vigilância Sanitária.
- C) coordenar, em todo o território nacional, a legislação sobre normas gerais.
- D) expedir normas gerais sobre o sistema nacional de Vigilância Sanitária.
- E) elaborar manuais e normas técnicas para a implementação nacional da Vigilância Sanitária.

Questão 45

Considerando que a rotulagem nutricional facilita ao consumidor conhecer as propriedades nutricionais dos alimentos, contribuindo para um consumo adequado dos mesmos, e sabendo que a informação que se declara na rotulagem nutricional complementa as estratégias e políticas de saúde dos países em benefício da saúde do consumidor, qual dos produtos a seguir necessita, obrigatoriamente, de rotulagem que contenha os requisitos nutricionais básicos (valor energético, carboidratos, proteínas, gorduras totais, gorduras saturadas, gorduras trans e sódio)?

- A) Vinagres
- B) Leites integrais
- C) Águas minerais naturais
- D) Sal (cloreto de sódio)
- E) Bebidas alcoólicas

Questão 46

Todo equipamento e utensílio utilizado nos locais de manipulação de alimentos que possam entrar em contato com o alimento devem ser confeccionados de material que não transmita substâncias tóxicas, possua odores e sabores que sejam não absorventes e resistentes à corrosão e capaz de resistir a repetidas operações de limpeza e desinfecção. Em relação aos equipamentos e utensílios, de acordo com o regulamento que estabelece os requisitos gerais (essenciais) de higiene e de boas práticas de fabricação para alimentos produzidos/fabricados para o consumo humano, deve-se evitar o uso de:

- A) plásticos.
- B) silicones.
- C) inox.
- D) vidro.
- E) madeira.

Questão 47

“Nas áreas de manipulação de alimentos deve ser proibido todo o ato que possa originar uma contaminação de alimentos, como: comer, fumar, tossir ou outras práticas anti-higiênicas” (Portaria SVS/MS nº 326, de 30 de julho de 1997). Toda pessoa que trabalhe em uma área de manipulação de alimentos deve manter uma higiene pessoal esmerada. Durante a manipulação de matérias-primas e alimentos, são obrigatórios os seguintes procedimentos, com a EXCEÇÃO do(a):

- A) retirada a de todos os objetos de adorno pessoal.
- B) uso de sapatos adequados.
- C) uso de touca e roupa protetora.
- D) uso de máscara respiratória contra aerossóis.
- E) uso de roupa protetora.

Questão 48

Rotulagem é toda inscrição, legenda, imagem ou toda matéria descritiva ou gráfica, escrita, impressa, estampada, gravada, gravada em relevo ou litografada ou colada sobre a embalagem do alimento. Sobre as rotulagens, marque a alternativa correta.

- A) A informação obrigatória deve estar escrita no idioma oficial do país de consumo com caracteres de tamanho, realce e visibilidade adequados, sem prejuízo da existência de textos em outros idiomas.
- B) Pode-se utilizar vocábulos, sinais, símbolos, emblemas, ilustrações ou outras representações gráficas que possam tornar a informação insuficiente, ou que possam induzir o consumidor a equívoco.
- C) Os alimentos embalados podem ser descritos ou apresentar rótulo que atribua efeitos ou propriedades que não possuam ou não possam ser demonstradas.
- D) A rotulagem dos alimentos não necessita de ser feita exclusivamente nos estabelecimentos processadores, habilitados pela autoridade competente do país de origem, para elaboração ou fracionamento.
- E) É autorizado que se indique que o alimento possui propriedades medicinais ou terapêuticas ou que se aconselhe seu consumo como estimulante para melhorar a saúde, prevenir doenças ou curá-las.

Questão 49

Os serviços de alimentação que realizam atividades, tais qual, manipulação, preparação, fracionamento, armazenamento, distribuição, transporte, exposição à venda e entrega de alimentos preparados ao consumo, por estabelecimentos como cantinas, bufês, comissarias, confeitarias, cozinhas industriais, cozinhas institucionais, delicatessens, lanchonetes, padarias, pastelarias, restaurantes, rotisserias e congêneres necessitam realizar a higienização de instalações, equipamentos, móveis e utensílios. Esta operação compreende duas etapas:

- A) remoção de substâncias minerais e orgânicas indesejáveis.
- B) limpeza e desinfecção.
- C) retirada de poeira e gordura.
- D) lavagem e purificação.
- E) ablução e expurgação.

Questão 50

O processo de resfriamento de um alimento preparado deve ser realizado de forma a minimizar o risco de contaminação cruzada e a permanência do mesmo em temperaturas que favoreçam a multiplicação microbiana. A temperatura do alimento preparado deve ser reduzida em até:

- A) seis horas de 100 °C a 18 °C.
- B) cinco horas de 87 °C a 15 °C.
- C) quatro horas de 80 °C a 13 °C.
- D) três horas de 70 °C a 12 °C.
- E) duas horas de 60 °C a 10 °C.

Questão 51

O aleitamento materno, que deve ser a primeira prática alimentar dos indivíduos, é necessário para a garantia da saúde e do desenvolvimento adequado das crianças. O Brasil adota as recomendações internacionais, recomendando o aleitamento materno exclusivo e continuado até, respectivamente, o:

- A) sexto mês e até o segundo ano de vida.
- B) sexto mês e até o primeiro ano de vida.
- C) sexto mês para ambos.
- D) quarto mês e até o segundo ano de vida.
- E) quarto mês e até o primeiro ano de vida.

Questão 52

O Ministério da Saúde embasa-se num processo pedagógico que parte do cotidiano do trabalho envolvendo práticas que possam ser definidas por múltiplos fatores (conhecimentos, valores, relações de poder, planejamento e organização do trabalho) e que considerem elementos que façam sentido para os atores envolvidos. Acredita-se que mudanças na gestão e na atenção ganham maior efetividade quando produzidas pela afirmação da autonomia dos sujeitos envolvidos, que contratam entre si responsabilidades compartilhadas nos processos de gerir e de cuidar. Assim, a principal estratégia para qualificar as práticas de cuidado, gestão e participação popular ofertada, pelo Sistema Único de Saúde – SUS é a:

- A) educação permanente em saúde.
- B) educação continuada em saúde.
- C) educação bancária.
- D) pedagogia diretiva e sem fronteiras.
- E) pedagogia tecnicista e a distância.

Questão 53

Alergia alimentar são reações adversas a alimentos a qual depende de mecanismos imunológicos mediados por Imunoglobulina E (IgE) ou não. Os alimentos mais comumente envolvidos em alergias alimentares são:

- A) carne suína, leite de vaca, brócolis, alcachofra, banana prata e caju.
- B) leite de vaca, ovo de galinha, soja, trigo, amendoim, peixe e crustáceos.
- C) leite pasteurizado, milho, ervilha, farinha de trigo, soja e camarão.
- D) leite de cabra, vagem, acelga, brócolis, cará e banana nanica.
- E) fígado (suíno ou de vaca), amendoim, ervilha, manjeriço, cogumelo e quiabo.

Questão 54

O glúten é a principal proteína presente no trigo, aveia, centeio, cevada e no malte (subproduto da cevada). É necessário que sejam identificados nos alimentos os produtos que possuem glúten, pois esta proteína pode causar uma doença de caráter crônico, que se expressa por enteropatia mediada por linfócitos T em indivíduos geneticamente predispostos, gerando uma redução na absorção dos nutrientes ingeridos. Esta patologia é conhecida como:

- A) doença de Chagas.
- B) donovanose.
- C) histoplasmose.
- D) doença celíaca.
- E) doença de Lyme.

Questão 55

Sistemas de informação em saúde são sistemas que reúnem, guardam, processam e facultam a informação a uma organização de saúde. Tendo por base isto, leia os textos abaixo:

“Este sistema de informação em saúde identifica indivíduos ou grupos que apresentam agravos e riscos para saúde, relacionados ao estado nutricional e ao consumo alimentar. De modo a identificar possíveis determinantes e condicionantes da situação alimentar e nutricional da população, é importante que as equipes de Atenção Básica incluam em seu processo de territorialização a identificação de locais de produção, comercialização e distribuição de alimentos, costumes e tradições alimentares locais, entre outras características do território onde vive a população, que possam relacionar-se aos seus hábitos alimentares e estado nutricional”.

“Operado a partir da atenção básica à saúde, tem como objetivo principal monitorar o padrão alimentar e o estado nutricional dos indivíduos atendidos pelo SUS, em todas as fases do curso da vida”.

O Sistema de informação em saúde citado acima é o:

- A) Sistema Nacional de Segurança Alimentar e Nutricional – SINSAN.
- B) Sistema de Informação de Saúde Alimentar e Nutricional – SISAN.
- C) Sistema de Vigilância Alimentar e Nutricional – SISVAN.
- D) Sistema Integrador à Atenção Básica – SIAB.
- E) Sistema Nacional de Vigilância Sanitária – SNVS.

Questão 56

SUS é o sistema de assistência à saúde proposto pela Reforma Sanitária e criado pela Constituição de 1988. O SUS tem seus níveis federal, estadual e municipal, cada qual com suas atribuições específicas. São princípios doutrinários do SUS a(o):

- A) equidade e integralidade.
- B) acesso igualitário e participação popular.
- C) centralização político-administrativa e comando único.
- D) regionalização e hierarquização.
- E) preservação da autonomia e direção e a cada esfera de governo.

Questão 57

A sequência de etapas objetivando a potabilização em um processo convencional de tratamento físico-químico da água é:

- A) floculação, coagulação, decantação e filtração.
- B) floculação, decantação, filtração e fluoretação.
- C) coagulação, fluoretação, decantação e correção de pH.
- D) coagulação, floculação, decantação e filtração.
- E) decantação, floculação, filtração e cloração.

Questão 58

São doenças vinculadas e transmitidas através da água a:

- A) leptospirose, leishmaniose e tuberculose.
- B) febre tifoide, cólera e leptospirose.
- C) gripe aviária, cólera e febre tifoide.
- D) leptospirose, tuberculose e cólera.
- E) esquistossomose, peste bubônica e gastroenterites.

Questão 59

O Índice de Qualidade das Águas (IQA) é um indicador que reflete a situação ambiental dos corpos hídricos em uma bacia hidrográfica. Para caracterização dessas águas, são verificados diversos parâmetros que representam suas características físicas, químicas e biológicas. Em relação a esses parâmetros e indicadores, pode-se afirmar que:

- A) são parâmetros físicos: a temperatura, série de resíduos (fixos e voláteis), turbidez e cor da água.
- B) são parâmetros químicos: o pH, DBO, carbono orgânico dissolvido, fósforo total, clorofila *a* e a condutividade.
- C) são parâmetros biológicos: coliformes fecais, streptococcus, DQO e absorvância no ultravioleta.
- D) a cor é um parâmetro que indica a presença de sólidos em suspensão na água enquanto que a turbidez deve-se à presença de sólidos dissolvidos.
- E) a DBO indica a contaminação de um manancial por coliformes fecais.

Questão 60

Uma determinada água de um manancial subterrâneo tem alto teor de ferro. Assinale abaixo a única alternativa que correlaciona, corretamente, o reflexo no organismo pela ingestão dessa água e uma forma de adequá-la ao consumo humano.

- A) Vômitos/Cloração
- B) Diarreias/Aeração
- C) Verminoses/ Ferver a água
- D) Sudorese/Filtração
- E) Hepatites/ Desinfecção