



PREFEITURA MUNICIPAL DE FORQUILHA - CE

CONCURSO PÚBLICO – EDITAL 001/2013

MÉDICO CLÍNICO GERAL

NOME DO CANDIDATO: _____

RG: _____ ÓRGÃO EXPEDIDOR: _____

Nº DE INSCRIÇÃO

--	--	--	--	--	--

ASSINATURA: _____

LEIA COM ATENÇÃO E SIGA RIGOROSAMENTE ESTAS INSTRUÇÕES:

1. Este caderno está contendo 60 (sessenta) questões de múltipla escolha, numeradas de 01 a 60.
2. Cada uma das questões apresenta um enunciado seguido de 5 (cinco) alternativas, das quais somente uma é a correta. Assinale-a.
3. Examine se a prova está completa, com a sequência numérica das questões, se há falhas ou imperfeições gráficas que causem dúvidas. Qualquer reclamação deverá ser feita durante os 20 minutos iniciais. Após esse tempo, qualquer reclamação será desconsiderada.
4. Depois de decorrido 2 (duas) horas do início da prova, será distribuído o Cartão-Resposta, o qual será o único documento válido para a correção da prova. Ao recebê-lo, verifique se o seu nome e número de inscrição estão corretos. Reclame imediatamente se houver discrepância.
5. O cartão-resposta não pode ser dobrado, amassado, rasurado ou manchado. Exceto sua assinatura e inscrição, nada deve ser escrito ou registrado fora dos locais destinados às respostas. Tenha muita atenção ao marcar seu cartão-resposta, pois não haverá substituição por erro do candidato. Marque sua resposta pintando completamente o espaço correspondente à alternativa de sua opção.

Ex.: A B C D E
6. A leitora de marcas não registrará as respostas em que houver falta de nitidez, uso de corretivo, marcação a lápis ou marcação de mais de uma letra. Não serão computadas questões não assinaladas.
7. Durante a prova, é proibido o intercâmbio e o empréstimo de material de qualquer natureza entre os candidatos. A tentativa de fraude, a indisciplina e o desrespeito às autoridades encarregadas dos trabalhos são faltas que implicarão na desclassificação do candidato(a).
8. Qualquer forma de comunicação entre candidatos implicará na eliminação de ambos do certame.
9. Não será permitido ao candidato, durante a realização das provas, portar: armas; aparelhos eletrônicos de qualquer natureza; bolsas; livros; jornais ou impressos em geral; bonés, chapéus, lenço de cabelo, bandanas etc.
10. É vedado o uso de telefone celular ou de qualquer outro meio de comunicação. O candidato que for flagrado portando aparelho celular, durante o período de realização da prova, ou, ainda, aquele candidato cujo aparelho celular tocar será sumariamente eliminado do certame.
11. Em caso de dúvida, durante a prova, levante o braço para solicitar atendimento da fiscalização. Jamais pergunte em voz alta.
12. O Candidato que permanecer na sala de provas, por mais de 3h45min, poderá levar consigo a cópia do gabarito, em formulário específico, fornecido pela **ORGANIZADORA**.
13. Ao terminar a resolução da prova, entregue-a ao fiscal de sala juntamente com o **Cartão-Resposta** (devidamente assinado). Não esqueça, também, de **assinar a folha de frequência**.
14. As provas terão duração de 4 horas. Turno da Manhã com início às 08h00min e término às 12h00min e Turno da Tarde com início às 14h00min e término às 18h00min. Entretanto, o candidato só poderá ausentar-se da sala, depois de decorridas duas horas do início das provas.
15. Os **Gabaritos Preliminares das Provas Objetivas** serão divulgados 72 (setenta e duas) horas após a realização das mesmas.

CONHECIMENTOS GERAIS

Leia o texto a seguir para responder as questões de 1 a 3.

TEXTO I

Quarta-feira 07/08/13 8h – 84% se dizem a favor das manifestações populares recentes, em números do Ibope.

O Movimento de Combate à Corrupção Eleitoral divulgou pesquisa feita pelo Ibope que aponta o apoio de 85% da população brasileira à realização de reforma política, com validade já para as eleições de 2014. Na pesquisa, 92% dos entrevistados disseram que são a favor de que a reforma política aconteça por meio de proposta de iniciativa popular.

Sobre doações eleitorais, 78% se manifestaram contrário a que empresas privadas possam contribuir com recursos a partidos e candidatos. Na mesma linha, 80% dos entrevistados disseram que deveria haver um limite para uso do dinheiro público nas campanhas eleitorais. O Ibope mostrou também que 90% querem punição mais severa para quem pratica o Caixa 2. Por último, 84% disseram que são a favor das manifestações populares que tomaram as ruas do Brasil nos últimos meses.

(disponível em noticiasr7.com.R7)

1. Segundo o texto I, pode-se inferir que:

- a) De acordo com a população vai haver uma reforma política no Brasil.
- b) As empresas privadas vão poder contribuir com recursos a partidos políticos.
- c) Há um limite para uso do dinheiro público nas campanhas eleitorais.
- d) A minoria da população quer punição para quem pratica Caixa 2.
- e) As manifestações populares não tiveram o apoio da maioria da população.

2. Quem pratica o Caixa 2, segundo a população entrevistada pelo Ibope:

- a) Não tem punição.
- b) Tem punição leve.
- c) Tem punição severa.
- d) Tem a punição merecida.
- e) Não vai ter punição.

3. Considere o período a seguir:

O Movimento de Combate à Corrupção Eleitoral divulgou pesquisa feita pelo Ibope.

Em relação à afirmativa, marque a opção CORRETA.

- a) Tem sujeito simples: “o movimento”.
- b) Tem sujeito simples cujo núcleo é “combate”.
- c) Apresenta verbo transitivo indireto regido pela preposição “pelo”.
- d) Apresenta agente da passiva: pelo Ibope.
- e) Tem o termo “pelo Ibope” como complemento nominal.

4. Suponha este comunicado de uma empresa a seus funcionários:

A diretoria de Recursos Humanos informa que os funcionários, que se inscreverem no curso de computação, terão aulas às quartas e sextas-feiras, das 16h30min. às 18h30min. Informa também que os

funcionários que não fizeram sua inscrição deverão aguardar o início de um novo curso.

Analisar as proposições e marque a opção CORRETA.

- a) As orações adjetivas que se inscreveram no curso de computação e que não fizeram sua inscrição, tal como se apresentam no texto, têm a mesma função sintática.
- b) Há uma incoerência de sentido nesse comunicado.
- c) Tal como se apresentam no texto, as orações adjetivas são, respectivamente, restritiva e explicativa.
- d) Se tirarmos as vírgulas da primeira oração adjetiva, o sentido do comunicado permanece o mesmo.
- e) Há uma dúvida nesse comunicado causado pela palavra “também”.

5. Analise os enunciados a seguir:

- I. **A ex-mulher de meu irmão, que é advogado, mora em Cuiabá.**
- II. **A ex-mulher de meu irmão que é advogado mora em Cuiabá.**

Marque a opção INCORRETA.

- a) Em I fica subtendido que o irmão do emissor separou-se uma única vez.
- b) Em II a oração adjetiva caracteriza irmão e tem valor de restrição.
- c) Nos dois períodos, o antecedente do pronome relativo que é o nome irmão.
- d) Em I a oração adjetiva caracteriza o nome ex-mulher e tem valor de explicação.
- e) Em II, fica subtendido que o emissor tem outro(s) irmão(s) que não é(são) advogado(s).

As questões de 6 a 8 referem-se ao texto II.

TEXTO II

Não se pode ser sem rebeldia

“Eu acho que os adultos, pais e professores, deveriam compreender melhor que a rebeldia, afinal, faz parte do processo da autonomia, quer dizer, não é possível ser sem rebeldia. O grande problema está em como amorosamente dar sentido produtivo, dar sentido criador ao ato rebelde e de não acabar com a rebeldia. Tem professores que acham que a única saída para a rebeldia é a punição, é a castração. Eu confesso que tenho grandes dúvidas em torno da eficácia do castigo.

Eu acho que a liberdade não se autentica sem o limite da autoridade, mas o limite que a autoridade se deve propor a si mesma, para propor ao jovem a liberdade, é um limite que necessariamente não se explica através de castigo. Eu acho que a liberdade precisa de limites, a autoridade inclusive tem a tarefa de propor os limites, mas o que é preciso, ao propor os limites, é propor à liberdade que ela interiorize a necessidade ética do limite, jamais através do medo.

A liberdade que não faz uma coisa porque teme o castigo não está “eticizando-se”. É preciso que eu aceite a necessidade ética, aí o limite é compromisso e não mais imposição, é assunção. O castigo não faz isso. O castigo pode criar docilidade, silêncio. Mas os silenciados não mudam o mundo.”

(Paulo Freire, Pedagogia dos sonhos possíveis.
Org. Ana M.A. Freire. Editora Unesp)

6. Analise as afirmativas e marque a opção INCORRETA.

- Trata-se de um texto dissertativo, no qual marcas linguísticas como “eu acho que”, “eu confesso que”, “que eu aceite” evidenciam um posicionamento nitidamente pessoal do autor relativamente ao tema.
- O termo “eticizando-se” (terceiro parágrafo), que significa “tornando-se ética”, está entre aspas por ser um neologismo, isto é, uma palavra inventada pelo autor do texto.
- Em “É preciso que eu aceite a necessidade ética”, a segunda oração funciona como sujeito da primeira.
- Em “Eu confesso que tenho grandes dúvidas em torno do castigo”, a segunda oração funciona como objeto direto da primeira.
- Se, no período “Eu acho que a liberdade não se autentica sem o limite da autoridade”, a oração principal for substituída por “É inquestionável”, a segunda oração, que funciona como objeto direto, passará a funcionar como sujeito, mas não haverá alteração alguma no grau de subjetividade da afirmação expressa nesse período.

7. De acordo com o texto II, é CORRETO afirmar que:

- Os professores acham que a única saída para a rebeldia é a castração.
- A autoridade é desnecessária.
- O castigo é necessário para explicar o limite da liberdade.
- A rebeldia é necessária para o processo de autonomia.
- Os adultos, pais e professores, não compreendem que a rebeldia faz parte do processo de autonomia.

8. Analisando foneticamente a palavra compromisso, temos:

- Dois dígrafos e um encontro consonantal.
- Um encontro consonantal e um dígrafo.
- Dois encontros consonantais e um dígrafo.
- Três dígrafos.
- Três encontros consonantais.

TEXTO III

PROFESSOR IDEAL

Atitudes mais valorizadas pelos alunos:

59% Tem senso de humor.

58% Dá atenção a seus alunos, ouve suas opiniões.

54% Não humilha, não debocha.

49% Trata o aluno de igual para igual.


48% Diverte-se junto com os alunos, bate-papo.

(Clube de pesquisa – opinião e mercado)

9. Marque a opção CORRETA de acordo com a análise do texto III.

- A maioria dos professores divertem-se junto com seus alunos.
- Há professores que debocham de seus alunos.
- Nenhum professor deixa de dar atenção a seus alunos.
- A maioria dos professores trata o aluno de igual para igual.
- Todos os professores têm senso de humor.

Leia a tirinha a seguir: e responda as questões 10 e 11.



10. Em relação à tirinha, marque a opção CORRETA.

- Apenas um dos quadrinhos não apresenta pronome possessivo.
- No primeiro quadrinho há a presença de adjetivo.
- No terceiro quadrinho há uma classe de palavra subentendida.
- Os verbos de todos os quadrinhos estão no presente.
- Em dois dos quadrinhos há pronome pessoal.

11. Ainda em relação à tirinha, marque a opção INCORRETA.

- O verbo ter, usado nos quadrinhos, é transitivo direto.
- Em “nosso céu”, a palavra nosso funciona como adjunto adnominal.
- O termo “minha terra” tem a função de sujeito.
- No último quadrinho, temos um predicativo do sujeito.
- O termo “mais” está sempre modificando um adjetivo.

12. Analise as afirmativas a seguir:

- O estado autorizou a _____ de terras aos homens do campo.
- Devido ao mau tempo, resolveram _____ a viagem programada.
- Após a tempestade, o submarino _____ e os soldados avistaram a terra.

Marque a opção CORRETA que completa as lacunas respectivamente.

- Sessão – deferir – emergiu.
- Cessão – diferir – imergiu.
- Seção – deferir – emergiu.
- Cessão – diferir – emergiu.
- Sessão – deferir – imergiu.

13. Analise o uso correto dos verbos intervir, contrapor e haver, para completar o período, a seguir:

Se o governo federal não tivesse _____ naquele momento e não tivesse _____ soluções para o problema, certamente os empresários _____ de criticá-lo.

Marque a opção CORRETA que completa as lacunas respectivamente.

- a) Intervindo, contraproposto, haveriam.
- b) Intervido, contraposto, haviam.
- c) Intervisto, contraproposto, haviam.
- d) Intervindo, contraproposto, haviam.
- e) Intervindo, contraposto, haveriam.

14. Analise as opções a seguir, quanto aos gêneros textuais e marque a opção INCORRETA.

- a) Uma receita de bolo é um texto instrucional.
- b) A "moral da história" está presente nas fábulas.
- c) Uma lenda é um texto narrativo.
- d) Um poema tem que ter rimas.
- e) Um e-mail é considerado um gênero textual.

15. Analise a regência verbal e marque a opção CORRETA em relação à norma culta.

- a) Nós nos valem dos artifícios que dispúnhamos para vencer.
- b) Avisaram-no que chegaríamos logo.
- c) Amanhã responderei essa carta.
- d) Ninguém obedece o horário.
- e) O presidente assiste em Brasília há quatro anos.

16. "A", "B" e "C" são matrizes quadradas de ordem 3, e "I" é a matriz identidade de mesma ordem. Marque a opção CORRETA.

- a) $(A + B)^2 = A^2 + 2AB + B^2$
- b) $C \cdot I = C$
- c) $I \cdot A = I$
- d) $(A + B) \cdot (A - B) = A^2 - B^2$
- e) $B \cdot C = C \cdot B$

17. A região do plano cartesiano determinada pelas inequações $x \geq 0$, $y \geq 0$, $x \leq 1$ e $y \leq 3^x$ tem uma área "S". Diante do exposto marque a opção CORRETA.

- a) $S < 0,75$
- b) $2 < S < 3$
- c) $2,25 < S < 3$
- d) $1 < S < 2$
- e) $S > 3$

18. Considere uma função f de \mathbb{R} em \mathbb{R} , em que $f(x) = \frac{3x+4}{2}$. O elemento do domínio que tem como

imagem o seu dobro é um número:

- a) Menor que 7
- b) Múltiplo de 3
- c) Maior que 11
- d) Ímpar.
- e) Negativo.

19. 30% da quinta parte de 3600 é igual a:

- a) 144
- b) 54
- c) 72

- d) 216
- e) 21,6

20. Seja α um número real tal que $\alpha > 2(1 + \sqrt{2})$ e considere a equação $x^2 - \alpha x + \alpha + 1 = 0$. Sabendo que as raízes reais dessa equação são as cotangentes de dois dos ângulos internos de um triângulo, então o terceiro ângulo interno desse triângulo vale:

- a) 30°
- b) 60°
- c) 135°
- d) 45°
- e) 120°

21. Sejam "a" e "b" dois números reais positivos tais que " $a < b$ " e " $a + b = 4$ ". Se o gráfico da função $y = |x - a| + |x - b|$ coincide com a função $y = 2$ no intervalo $a \leq x \leq b$, calcule os valores de "a" e "b".

- a) $a=3$ e $b=2$
- b) $a=2$ e $b=3$
- c) $a=5$ e $b=1$
- d) $a=1$ e $b=3$
- e) $a=3$ e $b=3$

22. Seja o número complexo $z = x + yi$, no qual $x, y \in \mathbb{R}$. Se $z \cdot (1 - i) = (1 + i)^2$, então?

- a) $x + y = 0$
- b) $x = y$
- c) $x \cdot y = 1$
- d) $y = 2x$
- e) $x - y = 2$

23. O valor da expressão $\frac{\sqrt{3}+1}{\sqrt{3}-1} + \frac{\sqrt{3}-1}{\sqrt{3}+1}$ é:

- a) 1
- b) 2
- c) 3
- d) 4
- e) 5

24. Calcule a soma dos 10 primeiros termos da P.G. (2, 4, 8, 16,...)

- a) 365
- b) 647
- c) 832
- d) 1243
- e) 2046

25. Vinte máquinas, trabalhando 16 horas por dia, levam 6 dias para fazer um trabalho. Quantas máquinas serão necessárias para executar o mesmo serviço, se trabalharem 20 horas por dia, durante 12 dias?

- a) 4
- b) 6
- c) 8
- d) 10
- e) 12

26. Marque a opção CORRETA que apresenta o tempo necessário para que um capital posto a juros, à taxa de 2% ao mês, produza juros equivalentes a 50% do mesmo capital.

- a) 13 meses.
- b) 18 meses.
- c) 25 meses.
- d) 28 meses.
- e) 32 meses.

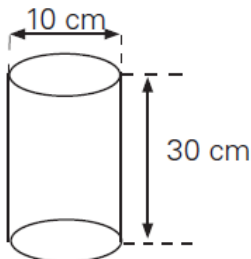
27. Um campo de futebol possui as seguintes dimensões, 155 m de comprimento e 75 m de largura. Quantos metros de tela serão necessárias para cercar este campo?

- a) 230m.
- b) 370m.
- c) 460m.
- d) 580m.
- e) 630m.

28. Uma das manifestações ocorridas recentemente no Brasil ocupou totalmente uma avenida de 1,25 km de extensão e 40 m de largura. Supondo que quatro pessoas ocupam 1 m², calcule quantas pessoas foram ao evento. Marque a opção CORRETA.

- a) 100.000 pessoas.
- b) 150.000 pessoas.
- c) 200.000 pessoas.
- d) 250.000 pessoas.
- e) 300.000 pessoas.

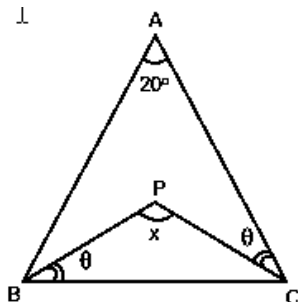
29. Determine a área lateral e a área total do cilindro da figura, respectivamente. Considere $\pi = 3,14$



Marque a opção CORRETA.

- a) 942 cm² e 1099 cm²
- b) 435cm² e 500cm²
- c) 1042cm² e 942cm²
- d) 1099cm² e 758cm²
- e) 942cm² e 1042cm²

30. O triângulo ABC, representado na figura, é isósceles. Determine a medida do ângulo "x" e assinale a opção CORRETA.



- a) 90°
- b) 180°
- c) 105°
- d) 110°
- e) 130°

31. Sobre o município de FORQUILHA é INCORRETO afirmar:

- a) Possui o açude Público Forquilha, de propriedade do DNOCS.
- b) Possui uma área de aproximadamente 516,88 km²
- c) De acordo com o Censo Democrático de 2010, a população de Forquilha é de aproximadamente 21.786 habitantes.
- d) Foi realizado o plebiscito em 1985 quando o povo se posicionou favorável à criação do município de Forquilha.
- e) A base da economia do município é agricultura, comércio, pecuária e piscicultura.

32. Quem foi o primeiro prefeito de Forquilha?

- a) Raimundo Azevedo Prado.
- b) Francisco José Frota Prado.
- c) José Antônio Dias Carneiro.
- d) Edmundo Rodrigues Junior.
- e) Francisco de Lira Pessoa.

HINO DO MUNICÍPIO DE FORQUILHA

Ó Forquilha tu és a esperança
Que teus filhos irão semear
No teu seio em que jorra a bonança
De águas limpas para terra regar...

33. A letra do hino de Forquilha foi feito por:

- a) Pe. Jairo Linhares Ponte.
- b) Abelardo Cavalcante de Vasconcelos.
- c) Pe. Jairo Linhares Ponte e Prof. Francisco Eduardo Mesquita Cavalcante.
- d) Pe. Gonçalo de Pinho Gomes.
- e) Abelardo Cavalcante de Vasconcelos e Pe. Jairo Linhares Ponte.

34. O Padroeiro de Forquilha é:

- a) São Pedro.
- b) Santo Antônio.
- c) Santo Agostinho.
- d) São Francisco de Assis.
- e) São Benedito.

35. Supremo conclui julgamento do mensalão após quatro meses e meio, 25 foram condenados, 12 absolvidos e um será julgado na 1ª instância. Sobre o maior esquema de corrupção já vivenciado no Brasil, Marque a opção CORRETA.

- a) Tinha Marcos Valério, como mandante intelectual do repasse de verbas públicas a parlamentares por meio de empreiteiras.
- b) Comprava votos no Congresso Nacional durante os primeiros anos do governo do ex-presidente Luiz Inácio Lula da Silva.
- c) Os parlamentares desviavam dinheiro público em acordos firmados com o Banco Rural.
- d) Afetou a Câmara dos Deputados com suborno na aprovação de projetos do governo na gestão do então Presidente Lula.
- e) Culminou com a perda de mandatos de parlamentares que se reelegeram contrariando o Projeto Ficha Limpa

36. Leia e reflita sobre os textos a seguir:

TEXTO 1

“O número de homicídios em Fortaleza **creceu 14%** de abril para maio, segundo dados divulgados pela Secretaria da Segurança Pública e Defesa Social (SSPDS) nesta segunda-feira (08). Em maio, o número de assassinatos foi de 156.

Durante os cinco meses deste ano, pelo menos **818 pessoas foram assassinadas** na capital cearense. Em média, Fortaleza tem **5 homicídios por dia**, segundo o relatório da Secretaria de Segurança. Os bairros mais violentos em maio foram Mondubim (9), Cristo Redentor (8), Granja Lisboa (8), Siqueira (7) e Jangurussu (7).”

“No total, **1.675 pessoas foram assassinadas em 2013.**”

(site: www.tribunadoceara.com.br, publicado em 08/07/2013)

TEXTO 2



Fazendo a relação de ambos os textos, marque a opção **CORRETA**.

- O texto 1 difere do texto 2.
- O texto 2 não estabelece relação com o texto 1.
- O texto 2 confirma o texto 1 satirizando-o.
- Os dois textos se contradizem pelo contexto.
- O texto 1 é consequência do texto 2.

37. Em julho deste ano, realizou-se no Brasil, na cidade do Rio de Janeiro, a Jornada Mundial da Juventude (JMJ), um evento internacional, que reúne jovens de todo o Mundo. Esse evento foi criado pelo Papa:

- Bento XVI.
- Paulo VI.
- Francisco.
- João Paulo II.
- João Paulo I.

38. O americano Edward Snowden, procurado pelo governo dos EUA por ter divulgado segredos sobre os sistemas de monitoramento de telecomunicações do governo, obteve asilo provisório, após quarenta dias em uma área de trânsito no aeroporto de:

- Londres.
- Moscou.

- Nova York.
- Lisboa.
- Paris.

39. As tartarugas-verdes - espécie marinha em perigo - estão ingerindo cada vez mais detritos humanos que podem ser letais. Essa é a conclusão de um estudo australiano publicado no periódico “ConservationBiology”. A pesquisa revisou toda a literatura científica sobre a ingestão de lixo humano no oceano por tartarugas marinhas desde 1985. A análise mostrou que há registro da ingestão de detritos em seis das sete espécies de tartarugas marinhas do mundo. Todas as seis são listadas como espécies vulneráveis ou em perigo. “Descobrimos que, para as tartarugas verdes marinhas, a probabilidade de ingestão de detritos quase dobrou nos últimos 25 anos”, disse o pesquisador QamarSchuyler, da Universidade de Queensland, que liderou o estudo. A pesquisa analisou 37 estudos publicados de 1985 a 2012 que reportou informações coletadas desde 1900 até 2011. Resultados mostram que tartarugas em quase todas as regiões ingerem detritos. “Nossos resultados mostram claramente que a ingestão de detritos por tartarugas marinhas é um fenômeno global de magnitude crescente”, diz o estudo. Dentre o lixo produzido pelo homem e lançado ao mar destaca-se pelo poder letal e de difícil decomposição:

- O plástico que é produzido em grande escala.
- O vidro hoje dominante no setor de armazenagem com conservantes.
- O alumínio usado predominantemente na indústria de bebidas.
- Os dejetos humanos lançados ao mar pelas redes de esgoto.
- Os produtos químicos usados, produzidos pelas indústrias de fertilizantes.

40. Segundo o Programa Mais Médicos do Governo Federal, que trata sobre o processo de 'Importação' de médicos estrangeiros, marque (V) para as afirmativas VERDADEIRAS e (F) para as FALSAS.

- () Os médicos estrangeiros serão destinados a locais carentes desse tipo de mão de obra.
 () Estes médicos serão destinados a todas as cidades brasileiras.
 () Será cobrado desses profissionais a realização do Revalida, prova de revalidação do diploma obrigatória para quem se formou fora do país.
 () Conselho Federal de Medicina (CFM), alegou que não há falta de profissionais no Brasil, mas estes são mal distribuídos pelas regiões do território nacional.

Marque a opção que apresenta a sequência **CORRETA**.

- F – V – F – V.
- V – F – F – F.
- F – V – F – F.
- V – F – V – V.
- V – F – F – V.

CONHECIMENTOS ESPECIFICOS

41. Jovem de 18 anos procura o ambulatório de clínica com queixa de há três dias vir apresentando diarreia aquosa volumosa, mais de 10 evacuações por dia, acompanhada de cólica hipogástrica e febre de 38,5^o C. Diante deste quadro o médico deve:

- a) Solicitar uma colonoscopia.
- b) Solicitar exame de fezes tipo MIF.
- c) Iniciar antibiótico de amplo espectro.
- d) Solicitar uma coprocultura e uma pesquisa de elementos anormais nas fezes.
- e) Solicitar uma ultrassonografia.

42. Um catador de lixo reciclável de 32 anos, morador da Favela do Pau Fininho, vem com queixa de ter perdido por volta de cinco quilos nos últimos dois meses. Queixa-se também de tosse persistente com secreção clara. Ao exame o médico não observa nenhuma anormalidade. Qual exame deve ser solicitado pelo médico?

- a) Endoscopia digestiva pela possibilidade de se tratar de refluxo gastroesofágico.
- b) Radiografia dos seios da face para descartar rinossinusite.
- c) Espirometria.
- d) Pesquisa de BAAR em duas amostras de escarro.
- e) Colonoscopia.

43. Uma criança de seis anos foi picada por escorpião e seus familiares entraram em contato com o médico que adotou uma das seguintes condutas:

- a) Orientou aos familiares que mantivessem a criança em movimento para evitar que ela perdesse a consciência.
- b) Orientou que sugassem ou espremessem o local da picada.
- c) Orientou que fizessem compressas geladas no membro afetado, pois crianças menores de 7 anos tem poucas complicações clínicas.
- d) Orientou que comparecessem ao posto com a criança para que lhe fosse prescritos analgésicos e anestésicos.
- e) Orientou que fizessem um torniquete no membro afetado para impedir a disseminação do veneno.

44. A Hipertensão Arterial Sistêmica pode afetar pessoas de ambos os sexos, das variadas faixas etárias e se constitui como um dos fatores de risco para o desenvolvimento de doenças cardiovasculares. Com base na afirmar marque a opção CORRETA:

- a) Pessoas com pressão sistólica de 120 a 139 mmHg e diastólica de 80 a 89 mmHg são consideradas normotensas.
- b) Pessoas com pressão sistólica de 120 a 139 mmHg e diastólica de 80 a 89 mmHg devem ser orientadas quanto a seus hábitos de vida, pois são consideradas pré-hipertensas.
- c) A hipertensão diastólica é o tipo mais comum em idosos.
- d) A pressão diastólica é mais importante que a pressão, sistólica enquanto indicador de risco para doenças cardiovasculares em pessoas com mais de 50 anos de idade.
- e) Segundo o VII Report of the Joint National Committee – 2003 de Hipertensão Arterial a pressão <130 e <80 mmHg em adultos é considerada normal.

45. O paciente J.C.S., 60 anos, afrodescendente foi conduzido às pressas ao hospital por apresentar crise convulsiva. Sabe-se que ele é hipertenso desde os 40 anos de idade, que faz uso regular de furosemida, propranolol, captopril e metildopa, entretanto, teve de suspender a medicação por duas semanas em virtude de problemas financeiros. Durante a segunda semana após a interrupção do tratamento passou a se queixar de um mal-estar progressivo caracterizado por cefaléia occipital, tontura, náuseas, borramento da visão. Ao exame mostrava-se torporoso, com pupilas normais e fotorreagentes, sem rigidez de nuca e sem sinais neurológicos focais. PA = 250 x 160 mmHg, FC = 84 bpm, FR = 18 ipm. Corado, anictérico, RCR B4 bulhas normofonéticas sem sopros, MV universalmente audível, sem ruídos adventícios, abdome e MMII sem alterações. Marque a opção CORRETA.

- a) O quadro tem a Encefalopatia Hipertensiva como principal hipótese diagnóstica
- b) Deve-se baixar a PA rapidamente devido ao risco de agravamento do quadro neurológico.
- c) Solicitar TC de crânio com contraste para afastar a hipótese de AVC hemorrágico.
- d) O quadro tem o AVE hemorrágico como principal hipótese diagnóstica.
- e) O quadro tem o AVC isquêmico com pico hipertensivo como principal hipótese.

46. Assinale a opção CORRETA:

- a) Dentre os antissépticos urinários o Nitrofurantoína possui excelente atividade contra Pseudomonas e Proteus.
- b) A maioria dos Haemophilus influenzae identificados no Brasil são resistentes à Ampicilina e à Amoxicilina.
- c) A oxacilina é o antibiótico de escolha contra Serratia sp.
- d) O antibiograma reflete duas variáveis: a droga e a bactéria, levando sempre em consideração os aspectos clínicos que acompanham o processo infeccioso como, por exemplo, a concentração do antibiótico atingida no sítio infeccioso ou a capacidade imunológica do paciente.
- e) As Cefalosporinas compõem o grupo de antimicrobianos mais utilizados, porém são muitas vezes utilizados de forma inadequada, principalmente para tratamento empírico e para profilaxia cirúrgica.

47. Assinale a opção INCORRETA.

- a) Tanto a contagem absoluta de CD4 como a taxa de declínio têm valor preditivo prognóstico, sendo usadas para determinar a necessidade de terapia anti-retroviral e profilaxia das infecções oportunistas.
- b) Um total de 16.000 pessoas por dia, mundialmente, são infectadas pelo HIV, incluindo crianças com menos de 15 anos de idade. As mulheres constituem mais de 40% dos casos adultos. Cerca de 7.000 pessoas morrem de complicações da infecção pelo HIV a cada dia.
- c) A Síndrome Retroviral Aguda pelo HIV tem como apresentação clínica: adenopatia, faringite, exantema, mialgia/artralgia, diarreia, cefaleia, náuseas/êemese, hepatoesplenomegalia, neuropatia, encefalopatia. Como achados laboratoriais: trombocitopenia, linfopenia com

linfocitose atípica, transaminite, viremia de HIV de alto nível. Diante deste quadro, a maioria dos especialistas inicia uma terapia anti-retroviral combinada altamente potente.

- d) O tratamento anti-retroviral deve ser iniciado com ou sem a adesão do paciente para diminuir o potencial de disseminação de vírus resistentes a outras pessoas.
- e) A monoterapia não é mais recomendada para o tratamento do HIV.

48. Correlacione a coluna B pela lacuna A.

COLUNA A

- I. Hipotireoidismo.
II. Desnutrição.
III. Alcoolismo.

COLUNA B

() Apatia, irritabilidade, cabelos secos e facilmente arrancáveis, pele seca com fissuras e hiperqueratose folicular, presença de Manchas de Bitot nos olhos e estomatite angular.

() Sinais de desleixo pessoal, humor exaltado, braços e pernas finos, abdômen protruso, língua avermelhada, pele seca, sensibilidade cutânea exagerada a traumatismo, tremores, perda da memória e alterações cognitivas, hipertensão.

() Apatia, depressão, pele hipotérmica e áspera, cabelos grossos e ressequidos, palidez cutânea, hipertensão arterial, aumento do peso corporal.

Marque a opção que apresenta a sequencia CORRETA.

- a) III – II – I.
b) II – I – III.
c) III – I – II.
d) I – II – III.
e) II – III – I.

49. Uma jovem de 29 anos procurou auxílio médico para perder peso. Tem história de infertilidade e vem fazendo tratamento para acnes. Ao exame apresentou índice de massa corporal de 36, circunferência abdominal de 93cm, PA= 160x100 mmHg. Como resultados de exames laboratoriais apresentou: glicemia de jejum de 156mg/dl, colesterol de HDL 38mg/dl, Triglicérides 145mg/dl. Marque a opção INCORRETA.

- a) É preciso investigar síndrome de ovário policístico.
b) É indispensável solicitar o teste de tolerância à glicose oral.
c) Ela é hipertensa.
d) Ela preenche os critérios para síndrome metabólica.
e) Ela provavelmente é diabética, mas é necessário confirmar o diagnóstico em outra ocasião.

50. Homem de 62 anos vem ao hospital com queixa de cólicas abdominais de leve intensidade iniciadas há mais ou menos 6 horas. Queixa-se também de melena. Nega qualquer doença prévia do trato gastrointestinal ou qualquer sintoma anterior aos relatados. Após a estabilização do quadro, que exame deve ser solicitado?

- a) Colonoscopia.
b) Endoscopia digestiva alta.
c) Radiografia contrastada de esôfago, estomago e duodeno.
d) Cintilografia.

- e) Angiografia.

51. Correlacione a colunas A com a coluna B.

COLUNA A

- I. Malária falcípara.
II. Toxoplasmose.
III. Abscesso hepático amebiano.

COLUNA B

() Febre contínua com picos irregulares, possível hiperparasitemia com comprometimento e dano microvascular com risco de levar a dano do SNC, insuficiência renal, insuficiência pulmonar e morte.

() Febre há duas semanas, dor no ombro, perda de peso, tosse, sensibilidade abdominal, hepatomegalia dolorosa.

() Febre baixa, mal-estar geral, mialgia, arritmias, linfodopatia cervical, exantema maculopapular, suores noturnos, hepatoesplenomegalia.

Marque a opção que apresenta a sequencia CORRETA.

- a) I – II – III.
b) II – I – III.
c) III – I – II.
d) III – II – I.
e) I – III – II.

52. Assinale a opção CORRETA:

- a) O Piso da Atenção Básica (PAB) consiste em recursos financeiros estaduais para a Atenção Básica.
b) O PAB é composto por uma parte variável destinada aos municípios e uma parte fixa destinada a estimular a implantação de determinadas estratégias nacionais de atenção à saúde.
c) São estratégias nacionais de reorganização da atenção à saúde: Saúde Bucal e Compensação de Especificidades Regionais.
d) O valor financeiro do PAB variável é determinado pelo número de consultas médicas.
e) Atualmente, o valor do PAB fixo mínimo é de R\$ 50,00 por habitante/ano.

53. Uma agente comunitária de saúde solicita uma consulta em visita domiciliar para um senhor de 76 anos, diabético e hipertenso. O paciente sofreu AVC (Acidente Vascular Cerebral) há 3 meses em decorrência do qual ficou com sequelas recebendo alimentação por sonda nasogástrica e usando fralda devido incontinência urinária. Há 2 dias passou a apresentar tosse produtiva, dor torácica e febre de 38°C. Ao realizar o atendimento domiciliar, o médico põe em prática qual das seguintes diretrizes do SUS?

- a) Regionalidade.
b) Universalidade.
c) Descentralização.
d) Equidade.
e) Integralidade.

54. Assinale a opção INCORRETA:

- a) O SAMU tem por função prestar socorro à população em casos de urgência e emergência clínicas, traumáticas, pediátricas, cirúrgicas, gineco-obstétricas e psiquiátricas.
- b) As Centrais de Regulação Médica das Urgências são compostas por médicos, telefonistas auxiliares de regulação médica e rádio-operadores. Estes profissionais realizam uma classificação e uma priorização das necessidades de assistência às urgências.
- c) A ordenação do fluxo das referências e contra-referências dentro da Rede de Atenção é realizada pelas Unidades de Pronto Atendimento (UPA) 24 horas.
- d) A UPA faz parte do atendimento pré-hospitalar fixo e o SAMU faz parte do atendimento pré-hospitalar móvel.
- e) Uma UPA porte II tem como população da região de cobertura 100.001 a 200.000 habitantes.

55. Analise as afirmativas a seguir:

- I. Acidente ocorrido no percurso do sindicato para a residência é considerado acidente de trajeto e o trabalhador tem, portanto, direito aos benefícios previdenciários.
- II. Doença profissional e doença do trabalho são consideradas acidentes do trabalho para fins previdenciários.
- III. Agressões sofridas pelo trabalhador no horário e local de trabalho são consideradas acidentes do trabalho.
- IV. Em caso de acidente fatal no local de trabalho, deve-se fazer a notificação e investigação imediata. As empresas devem emitir a Comunicação de Acidentes do Trabalho (CAT) em até 48 horas para que o evento seja investigado em até 72 horas.

Marque a opção que apresenta as afirmativas CORRETAS.

- a) I - II - IV.
- b) I - II - III.
- c) II - III - IV.
- d) I - III - IV.
- e) I - II - III - IV.

56. Uma jovem sofreu atropelamento por carro conduzido por motorista que se evadiu do local do acidente sem prestar socorro à vítima. O médico do PSF foi chamado para atender o paciente que estava apresentando convulsão e em seguida perdeu a consciência. O médico constatou o óbito no mesmo instante em que chegou a equipe do SAMU. A emissão da declaração de óbito deve ser feita pelo:

- a) Médico do PSF, pois foi quem atendeu primeiro à paciente.
- b) Qualquer médico do PSF.
- c) Médico do SAMU.
- d) Tanto pelo Médico do PSF, quanto pelo Médico do SAMU.
- e) Pelo Instituto Médico Legal (IML).

57. A notificação nacional é compulsória na ocorrência das seguintes doenças:

- a) AIDS, Tuberculose e Meningite.
- b) AIDS, Sarampo e Septicemia.
- c) Tuberculose, Septicemia e Cólera.

- d) Tuberculose, AIDS e Sarampo.
- e) Meningite, Septicemia e Sarampo.

58. Em termos de vigilância epidemiológica Marque a opção CORRETA.

- a) A transmissão de pessoa a pessoa caracteriza uma epidemia propagada.
- b) A epidemia maciça tem desenvolvimento lento e demora atingir a incidência máxima.
- c) Epidemia por fonte persistente se dá através da exposição ao agente patogênico num curto espaço de tempo.
- d) Epidemia é o número de casos acima do esperado de um determinado agravo, em uma determinada localidade, em um determinado tempo.
- e) Numa pesquisa que utiliza o mascaramento simples-cego somente os médicos assistentes desconhecem quem pertence a qual grupo.

59. Sobre a Influenza Marque a opção INCORRETA.

- a) A Influenza tem ocorrência no inverno, ou epidêmica.
- b) O período ideal de coleta de material da nasofaringe é entre quatro a cinco dias.
- c) A pesquisa direta de antígeno positivo para influenza A em material da nasofaringe é uma das bases do diagnóstico.
- d) O aumento do absenteísmo escolar ou de consultas em pronto socorro são sinais de surto.
- e) Febre de início súbito, calafrios, mialgia, cefaleia, dor de garganta, tosse não-produtiva e mal-estar acentuado são sinais importantes para o diagnóstico de Influenza.

60. Assinale a opção INCORRETA:

- a) O acidente botrópico se caracteriza por inchaço no local da picada, às vezes manchas arroxeadas e sangramentos pelos orifícios da picada, sangramentos em gengivas, pele e urina.
- b) O acidente crotálico se caracteriza por sensação de formigamento, sem lesão evidente, o paciente apresenta fácies miastênica, visão turva ou dupla, dores musculares generalizadas e urina escura pela rabdomiólise.
- c) O tratamento do acidente crotálico consiste na administração do soro crotálico (SAC) 05 a 08 ampolas, conforme a gravidade.
- d) No caso do acidente antiofídico recomenda-se lavar o local da picada apenas com água e sabão, manter o paciente deitado, hidratado e procurar o serviço médico mais próximo. Se possível levar o animal para identificação.
- e) No acidente laquéutico as ações do veneno consistem em efeitos proteolítico, coagulante, hemorrágico e neurotóxico.