

# **CONCURSO PÚBLICO EDITAL Nº 03/2013 PARA PROVIMENTO DE VAGAS PARA O CONCURSO PÚBLICO MUNICIPAL DO MUNICÍPIO DE FAZENDA RIO GRANDE - ESTADO DO PARANÁ**

**CARGO: ENGENHEIRO FLORESTAL - DATA: 09/06/2013  
PERÍODO DE PROVA: MANHÃ**

## **LEIA AS INSTRUÇÕES:**

- ✓ Verifique se este caderno de questões corresponde ao cargo que você concorre e se ele contém 60 (sessenta) questões de múltipla escolha, com 4 alternativas (a,b,c,d) de resposta para cada uma, correspondentes à prova objetiva. Caso o caderno esteja incompleto, tenha qualquer defeito ou apresente alguma divergência ao cargo que você concorre, solicite ao fiscal de sala que tome as providências cabíveis, pois não serão aceitas reclamações posteriores nesse sentido;
- ✓ No momento da identificação, verifique o cartão resposta, se as informações relativas a você estão corretas. Caso haja algum dado a ser retificado, peça ao fiscal de sala para corrigir em Ata;
- ✓ Você dispõe de 4 (quatro) horas para fazer a prova objetiva;
- ✓ Na duração da prova, está incluído o tempo destinado à entrega do material de prova e ao preenchimento do cartão resposta;
- ✓ Você deve deixar sobre a carteira apenas o documento de identidade e a caneta esferográfica de tinta azul ou preta;
- ✓ Não é permitido durante a realização da prova o uso de aparelhos eletrônicos, tais como bip, telefone celular, walkman, agenda eletrônica, notebook, palmtop, pen drive, receptor, gravador, máquina de calcular, máquina fotográfica, controle de alarme de carro etc., bem como relógio de qualquer espécie, óculos escuros, protetor auricular ou quaisquer acessórios de chapelaria, tais como chapéu, boné, gorro etc., consulta a livros, dicionários, apontamentos e apostilas;
- ✓ É proibido fazer anotação de informações relativas às suas respostas no comprovante de inscrição e(ou)em qualquer outro meio, que não os permitidos;
- ✓ Não se comunique com outros candidatos nem se levante sem autorização;
- ✓ Somente após decorrida 1 (uma) hora do início da prova, você poderá se retirar da sala de aplicação de prova;
- ✓ Ao terminar a prova, chame o fiscal de sala, devolva-lhe o caderno de prova e o cartão resposta devidamente assinado e deixe o local de provas;
- ✓ A desobediência a qualquer uma das determinações constantes em edital, no presente caderno de prova e no cartão resposta poderá implicar na anulação da sua prova;
- ✓ Tenha calma para não prejudicar seu desempenho e boa prova.

**INSCRIÇÃO:** \_\_\_\_\_

**NOME COMPLETO:** \_\_\_\_\_

## O ESPELHO

Marcello Migliaccio

1º Falar \_\_\_\_\_ da TV virou moda. É "in" repudiar a baixaria, desancar o onipresente eletrodoméstico. E num país em que os domicílios sem televisão são cada vez mais raros, o que não falta é especialista no assunto. Se um dia fomos uma pátria de 100 milhões de técnicos de futebol, hoje, mais do que nunca, temos um considerável rebanho de briosos críticos televisivos.

2º Depois de azular as janelas das grandes e das pequenas cidades, os televisores ganharam as ruas. Hoje não se encontra um boteco, padaria ou consultório dentário que não tenha um. Há até taxistas que trabalham com um olho no trânsito e outro na novela. E, nas esquinas escuras \_\_\_\_\_ se come o suspeitíssimo cachorro-quente, pode-se assistir ao "Jornal Nacional" e ser assaltado em tempo real.

3º Mas, quando os "especialistas" criticam a TV, estão olhando para o próprio umbigo. Feita ..... nossa imagem e semelhança, ela é resultado do que somos enquanto rebanho globalizado. Macaqueia e realimenta nossos conceitos e preconceitos quando ensina, diariamente, o bê-á-bá a milhões de crianças.

4º Reclamamos que, na programação, só vemos sexo, violência e consumismo. Ora, isso é o que vemos também ao sair à rua. E, se fitarmos o espelho do banheiro com um pouco mais de atenção, levaremos um susto com a reprise em cartaz. Talvez por isso a TV nos choque, por nos mostrar, sem rodeios, a quantas anda o inconsciente coletivo. E não adianta dourar a pílula; já tentaram, mas não deu ibope.

5º Aqui e ali, alguns vão argumentar que cultivam pensamentos mais nobres e que não se sentem representados no vídeo. Mas a fração que lhes cabe está lá, escondidinha como é próprio às minorias. Está nos bons documentários, nas belas imagens dos eventos esportivos, na dramaturgia sensível, no humorismo que surpreende, nos desenhos e nas séries inteligentes, no entrevistador que sabe ouvir o entrevistado, nas campanhas altruístas.

6º Reclama-se muito que, nas novelas, os negros fazem, quase sempre, papéis de subalternos. Mas é essa condição que a sociedade reserva à maioria deles, e também ..... maior parte dos nordestinos, na vida real. O que a televisão fornece é um retrato da desigualdade no país.

7º E, quando explora a mulher, estigmatiza gays, restringe o mercado para o ator idoso ou vende cerveja, maledicência e atrocidade na programação vespertina, ela reflete o mundo dominado pelo macho-adulto-branco-capitalizado.

8º A televisão mostra ainda violência no \_\_\_\_\_, gritam os pacifistas na sala de estar. Como se não houvesse milhões de Stallones, Gibsons, Bronsons, Van Dammes e Schwarzeneggers armados até os dentes no Afeganistão, Golfo Pérsico, Colúmbia, Mianmar, favelas brasileiras ou trincheiras angolanas.

9º É natural que uma parte de nós se revolte, o que parece tão compreensível quanto inócuo. Campanhas contra a baixaria televisiva lembram a piada do marido traído que encontra a mulher com o amante no sofá da sala e, no dia seguinte, vende o móvel para solucionar o problema. Garrotear a TV é tapar o sol com a peneira.

10 Enquanto a discussão ganha adeptos, continuamos devorando nosso tubo de imagem de estimação. Depois, de barriga cheia, saímos à rua para ratificar, legitimar com pensamentos, palavras e atitudes, que as coisas são mesmo assim e que, pelo jeito, a reprise continuará.

11 Aquele repórter sensacionalista que repete ..... exaustão a cena de linchamento, o apresentador que tripudia sobre o drama do desvalido, a loura que vê na criança um consumidor a mais, o jovem que tem num "reality show" desumano a alternativa para sua falta de horizonte, amenina precocemente erotizada, no fundo, somos todos nós.

(Folha de S. Paulo, 19/10/2003.)

### 01 - Assinale a alternativa que completa corretamente as lacunas de linha contínua do texto:

- a) mau – onde – dia a dia.
- b) mau – aonde – dia-a-dia.
- c) mal – onde – dia a dia.
- d) mal – aonde – dia-a-dia.

### 02 - Assinale a alternativa que preenche corretamente as lacunas de linha pontilhada do texto:

- a) à – à – à.
- b) a – a – a.
- c) a – à – à.
- d) à – a – a.

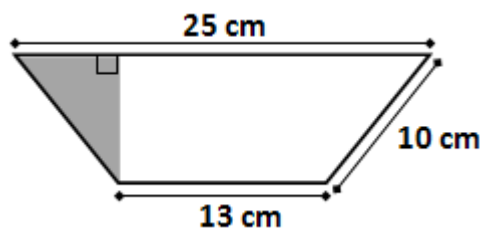
### 03 - Assinale a alternativa em que a palavra destacada não seja um pronome relativo:

- a) (...) que trabalham com um olho no trânsito e outro na novela. (2º parágrafo)
- b) (...) que cultivam pensamentos mais nobres (...) (5º parágrafo)
- c) (...) que sabe ouvir o entrevistado (...) (5º parágrafo)
- d) (...) que encontra a mulher com o amante no sofá da sala (...) (9º parágrafo)

**04 - "(...) o apresentador que tripudia sobre o drama do desvalido (...)". O verbo que exige o mesmo tipo de complemento que o grifado acima está empregado em:**

- a) A televisão mostra muita violência.
- b) Mas a fração que lhes cabe está lá.
- c) Ela reflete o mundo dominado.
- d) Os negros fazem, quase sempre, papéis de subalternos.

**05 - A área e o perímetro do trapézio isósceles abaixo medem, respectivamente:**



- a) 304 cm<sup>2</sup> e 58 cm.
- b) 152 cm<sup>2</sup> e 58 cm.
- c) 152 cm<sup>2</sup> e 48 cm.
- d) 76 cm<sup>2</sup> e 58 cm.

**06 - Uma empresa de turismo está organizando um cruzeiro pela costa brasileira. O navio possui capacidade para 100 passageiros mais a tripulação, de modo que de cada passageiro, será cobrado R\$ 800,00 mais R\$ 10,00 por cada lugar vago. Para que essa empresa obtenha rentabilidade máxima nesse cruzeiro, o número de passageiros deve ser igual a:**

- a) 85.
- b) 90.
- c) 95.
- d) 100.

**07 - Um computador é basicamente composto por software e hardware. Entre as alternativas que seguem, a seguinte opção não remete a um exemplo de hardware:**

- a) Sistema Operacional.
- b) Disco Rígido (HD).
- c) Interface USB.
- d) Mouse.

**08 - A Suíte para escritório BrOffice (hoje conhecida como LibreOffice) possui um aplicativo voltado a edição de textos (assim como o Word no pacote Microsoft Office). A seguinte opção apresenta o nome deste aplicativo:**

- a) Base.
- b) Draw.
- c) Impress.
- d) Writer.

**09 - De acordo com os dados oficiais do Censo 2.010 do IBGE, a população atual de Fazenda Rio Grande é de quantos habitantes?**

- a) 81.576 habitantes.
- b) 81.675 habitantes.
- c) 81.756 habitantes.
- d) 81.765 habitantes.

**10 - No ano passado mais de 500 mil cédulas falsas foram retiradas de circulação, este ano quase 100 mil cédulas já foram recolhidas. Que instituição abaixo é a responsável pelo controle e recolhimento final das cédulas falsas em todo o país?**

- a) Banco Central.
- b) Banco do Brasil.
- c) Caixa Econômica Federal.
- d) Casa da Moeda.

**11 - Qual dos aspectos abaixo NÃO deve ser considerado durante o planejamento de um viveiro florestal?**

- a) Facilidade de acesso.
- b) Suprimento de água.
- c) Declividade.
- d) Luz solar.

**12 - Repicagem é:**

- a) É o transplante de uma plântula de um local para outro no mesmo viveiro.
- b) É o corte de partes da muda para fortalecer as raízes.
- c) É a troca do substrato utilizado.
- d) É o transplante da planta em fase adulta de um local para outro no mesmo viveiro.

**13 - As doenças em viveiros estão associadas principalmente a quatro fatores, SÃO ELES:**

- a) Ventos, poeira e névoa.
- b) Declividade do terreno e proximidade com centros urbanos.
- c) Sujeira, presenças de animais e insetos.
- d) Água, sombreamento, substrato e material propagativo.

**14 - O desenvolvimento do ecossistema também é conhecido como:**

- a) Dinâmica florestal.
- b) Sucessão ecológica.
- c) Desenvolvimento florestal.
- d) Manejo Florestal.

**15 - Qual é o conceito de Floresta Primária?**

- a) É uma floresta com estágio inicial de regeneração natural.
- b) É uma floresta que está na primeira fase de sucessão florestal.
- c) É uma floresta intacta, que não houve interferência humana.
- d) É uma floresta que apresenta uma baixa diversidade de espécies vegetais.

**16 - Quais os Biomas brasileiros?**

- a) Amazônia, Cerrado, Mata atlântica, Caatinga, Campos Sulinos (Pampas) e Pantanal.
- b) Amazônia e Mata Atlântica.
- c) Amazônia, Mata Atlântica e Pantanal.
- d) Amazônia, Cerrado, Mata Atlântica e Pantanal.

**17 - O manejo Florestal é baseado em um tripé de sustentabilidade que são:**

- a) Ecológica, econômica e social.
- b) Ecológica, cultural e econômica.
- c) Social, cultural e econômica.
- d) Ecológica e econômica

**18 - A figura abaixo mostra dois tipos de exploração florestal:**

Figura: 01

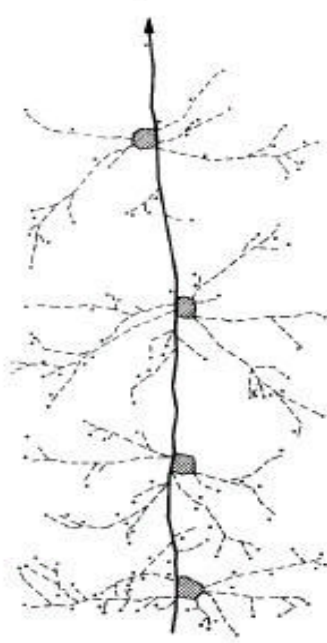


Figura: 02 -

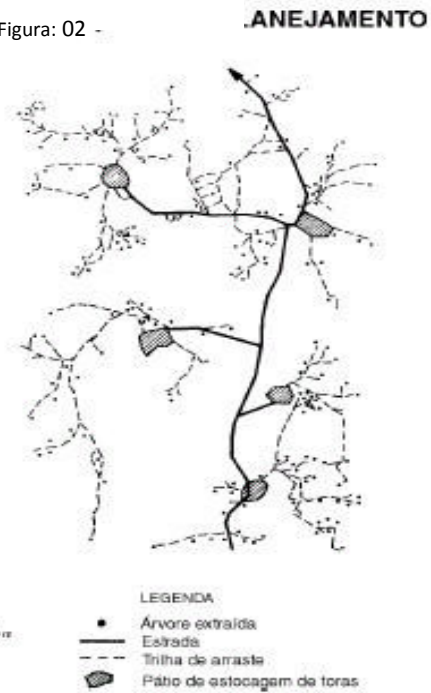


Figura: Imazon

- a) Figura 1: manejo planejado, Figura 2: manejo convencional.
- b) Figura 1: manejo convencional, Figura 2: manejado.
- c) Figura 1: manejo ordenado, Figura 2: Manejo desordenado.
- d) Figura 1: manejo desordenado, Figura 2: Manejo ordenado.

**19 - Quais são as medidas que devem ser adotadas para proteger a floresta explorada do fogo?**

- a) Evitar o uso do fogo.
- b) Apenas construção de aceiros.
- c) Molhar sempre a área.
- d) Adoção de manejo florestal, com medidas para reduzir a abertura do dossel e o volume da madeira danificada, quebra-fogo (natural e aceiro), exploração de talhões intercalados.

**20 - A figura abaixo refere-se a um tipo de proteção contra fogo, qual é este tipo de proteção?**




Figura: Imazon

- a) Aceiro.
- b) Natural.
- c) Aceiro e natural.
- d) Floresta de borda.

**21 - Qual desses fatores NÃO influencia na formação do solo?**

- a) Material de origem: rocha ou sedimentos.
- b) Clima: chuva e temperatura.
- c) Vento.
- d) Tempo: idade do material.

**22 - Quais os elementos que mais influencia na cor dos solos?**

- a) Matéria orgânica e ferro.
- b) Ferro e zinco.
- c) Matéria orgânica e zinco.
- d) Ferro e alumínio.

**23 - Qual dessas etapas NÃO faz parte da implantação de um povoamento florestal?**

- a) Definição de espécies.
- b) Controle de pragas e formigas cortadeiras.
- c) Tratos culturais.
- d) Pesquisa genética.

**24 - As formigas cortadeiras são apontadas como uma das principais pragas florestais. O combate às formigas pode ser dividido em três fases:**

- a) Inicial, repasse e monitoramento.
- b) Inicial e final.
- c) Repasse e monitoramento.
- d) Inicial e Monitoramento

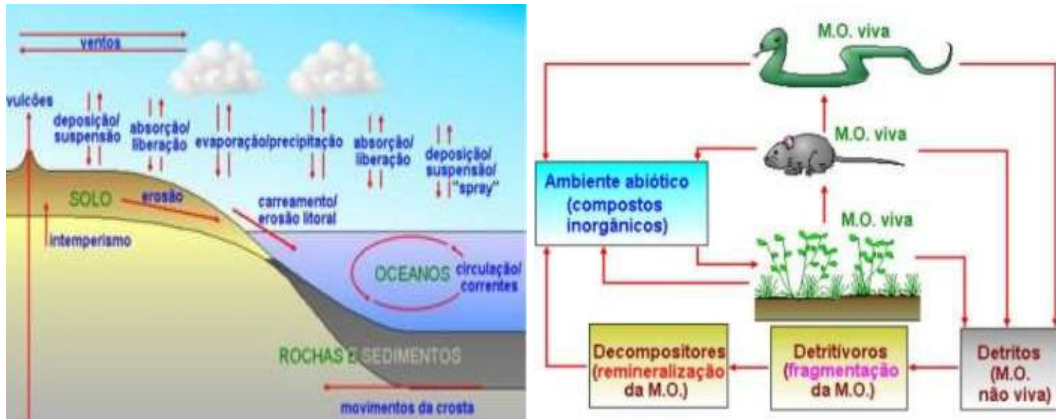
**25 - Medição de madeira serrada para a obtenção do volume é obtida pela multiplicação de três grandezas, sempre respeitando o princípio matemático de se multiplicar grandezas iguais, qual é a fórmula correta?**

- a)  $V = E * L * C$
- b)  $V = L * C$
- c)  $V = E * C$
- d)  $V = E * L$

**26 - Qual desses instrumentos NÃO serve para fazer medições florestais?**

- a) Suta.
- b) Fita de diâmetro.
- c) Vara ou régua de biltmore.
- d) GPS.

**27 - A figuras abaixo estão relacionadas as etapas da ciclagem de nutrientes. Elas representam respectivamente:**



- a) Decomposição e lixiviação.
- b) Transporte químico e transporte físico.
- c) Transporte físico e transporte químico.
- d) Lixiviação e decomposição.

**28 - A análise de crescimento tem por finalidade interpretar analiticamente:**

- a) A capacidade reprodutiva.
- b) A fotossíntese da planta.
- c) Os processos biogeoquímicos da planta.
- d) O crescimento de uma planta.

**29 - A curva clássica de crescimento de uma planta apresenta forma:**

- a) Sigmoidal.
- b) Elíptica.
- c) Curva padrão.
- d) Curvas abertas.

**30 - No inventário florestal a figura abaixo representa que etapa?**



- a) Identificação das árvores.
- b) Medição das árvores.
- c) Avaliação do fuste.
- d) Avaliação da copa.

**31 - Entretanto, de modo geral, os inventários florestais são classificados em três níveis principais, objetivando sempre a obtenção de informações que permitam decidir sobre a utilização econômica da floresta e desenvolver pesquisas científicas:**

- a) Exploratório, reconhecimento, detalhado.
- b) Exploratório, específico, geral.
- c) Geral e específico.
- d) Pré-exploratório e geral.

**32 - Quais são os tipos de sistemas de colheita florestal?**

- a) Toras curas, toras compridas, árvores inteiras.
- b) Toras curas, toras compridas.
- c) Árvores inteiras, árvores completas, cavaqueamento.
- d) Toras curas, toras compridas, árvores inteiras, árvores completas, cavaqueamento.

**33 - O Sistema de colheita, quanto ao grau de mecanização, pode ser:**

- a) Semi-mecaizado e mecanizado.
- b) Manual, semi-mecaizado e mecanizado.
- c) Industrial e semi-industrial.
- d) Processamento e co-processamento.

**34 - O conceito de Área Degradada:**

- a) Aqueles cujas ações do homem modificaram o ecossistema de tal maneira que os mecanismos naturais são perdidos e, por isso, há necessidade de nova intervenção humana para reversão da situação presente.
- b) Aqueles cujas ações do homem modificaram o ecossistema de tal maneira que os mecanismos naturais não são perdidos totalmente e, por isso, há necessidade de nova intervenção humana para reversão da situação presente.
- c) Aqueles cujas ações naturais modificaram o ecossistema de tal maneira que os mecanismos naturais são perdidos e, por isso, há necessidade de nova intervenção humana para reversão da situação presente.
- d) Aqueles cujas ações do homem modificaram o ecossistema de tal maneira que os mecanismos não naturais são perdidos e, por isso, há necessidade de nova intervenção humana para reversão da situação presente.

**35 - Qual das características abaixo NÃO é de uma área degradada?**

- a) Menor diversidade de espécies.
- b) Ausência de solo.
- c) Baixíssima ou ausente capacidade de regeneração natural.
- d) Maior estrutura vegetal e animal.

**36 - Quais são os tipos de erosão?**

- a) Erosão vertical e horizontal.
- b) Erosão pluviometria e aluvial.
- c) Erosão Laminar e em sulcos.
- d) Erosão primária e secundária.

**37 - De acordo com Souza & Fernandes (2000) a paisagem de uma bacia hidrográfica pode ser dividida em zonas hidrogeodinâmicas, que são:**

- a) Zona de recarga, erosão e sedimentação.
- b) Zona de recarga e sedimentação.
- c) Zona de erosão e sedimentação.
- d) Zona de resgate e dispersão.

**38 - Entre os princípios técnicos do Manejo florestal está a silvicultura, que deve ser entendida como:**

- a) Parte da ciência florestal que trata do estabelecimento, condução e colheita de árvores.
- b) Parte da ciência florestal que trata do estabelecimento, condução e colheita de sementes.
- c) Parte da ciência florestal que trata reprodução vegetativa.
- d) Parte da ciência que trata do inventario florestal.

**39 - Qual alternativa que apresenta as características físicas da madeira?**

- a) Dilatação térmica, condutibilidade térmica, condutibilidade elétrica e durabilidade.
- b) Umidade, densidade.
- c) Condutibilidade térmica, condutibilidade elétrica.
- d) Umidade, densidade, dilatação térmica, condutibilidade térmica, condutibilidade elétrica e durabilidade.

**40 - Após o abate, a árvore passa pela toragem, sendo desgalha e serrada em tora de 5 a 6,00 m. Em seguida as toras são falquejadas, ficando com a seção aproximadamente retangular. A etapa seguinte são obtidos pranchões com espessuras de 7 e 20 cm. As etapas acima mencionadas, são respectivamente:**

- a) Desdobro e corte.
- b) Corte e desdobro.
- c) Classificação e caracterização.
- d) Caracterização e classificação.



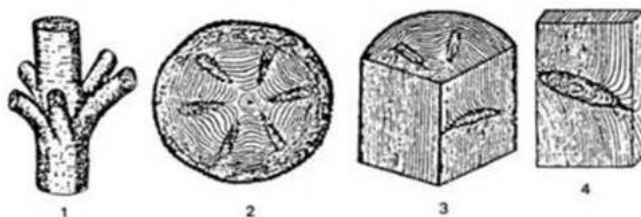
**41 - O que a ilustração bacia hidrográfica mostra?**



Fonte: ANA, 2002

- a) O rio e seus afluentes.
- b) Característica do relevo.
- c) Seus divisores de água, sub-bacias e drenagem principal.
- d) O desenvolvimento de um rio.

**42 - A figura abaixo representa os defeitos na estrutura anatômica da madeira, qual é alternativa correta?**



- a) 1 - Verticilados - Pinheiro do Paraná, 2 - Corte transversal ramo verticilado com cicatrização sadia, 3 - Corte transversal e radial, 4 - Nó aliforme.
- b) 1 - Corte transversal e radial, 2 - Corte transversal ramo verticilado com cicatrização sadia, 3 - Verticilados - Pinheiro do Paraná, 4 - Nó aliforme.
- c) 1 - Corte transversal ramo verticilado com cicatrização sadia, 2 - Verticilados - Pinheiro do Paraná, 3 - Corte transversal e radial, 4 - Nó aliforme.
- d) 1 - Verticilados - Pinheiro do Paraná, 2 - Corte transversal ramo verticilado com cicatrização sadia, 3 - Nó aliforme, 4 - Corte transversal e radial.

**43 - De acordo com o novo código florestal brasileiro a intervenção ou supressão de vegetação nativa em Área de Preservação Permanente somente ocorrerá nas hipóteses de:**

- a) Utilidade pública, de interesse social ou de baixo impacto ambiental.
- b) De baixo impacto.
- c) Utilidade pública, de interesse social.
- d) De interesse político.

**44 - Qual é a lei do Novo Código Florestal Brasileiro?**

- a) Lei nº 12.651/12.
- b) Lei nº 12.651/65.
- c) Lei nº 12.652/12.
- d) Lei nº 4.771/65.



**45 - Qual a finalidade do Cadastro Ambiental Rural?**

- a) Integrar informações das propriedades e posses rurais, compondo base de dados para controle de imposto de renda do proprietário.
- b) Integrar informações das propriedades e posses rurais, compondo base de dados para controle de Zoonoses.
- c) Integrar informações das propriedades e posses rurais, compondo base de dados para controle, monitoramento, planejamento ambiental e econômico.
- d) Integrar informações das propriedades e posses rurais, compondo base de dados para controle, monitoramento, planejamento ambiental e econômico e combate ao desmatamento.

**46 - As resoluções nº 302 e 303 de 20 de Março de 2002 dispõem sobre:**

- a) Parâmetros, definições e limites de Área de Preservação Permanente.
- b) Produtos perigosos.
- c) Educação ambiental.
- d) Licenciamento ambiental.

**47 - Os critérios, diretrizes e procedimentos para a gestão de resíduos da construção civil é estabelecidos pela resolução do CONAMA nº:**

- a) 307, de 5 de julho de 2003.
- b) 307, de 5 de junho de 2002.
- c) 307, de 5 de junho de 2003.
- d) 307, de 5 de julho de 2002.

**48 - A autorização para a exploração dos remanescentes de floresta nativa do Estado do Paraná somente será permitida através de:**

- a) Técnicas de manejo.
- b) Da autorização do proprietário da área.
- c) Políticas públicas.
- d) Mandato de Segurança.

**49 - Toda propriedade rural pode ser considerada "FAZENDA FLORESTAL" se possuir cobertura florestal superior a:**

- a) 60%.
- b) 75%.
- c) 45%.
- d) 50%.

**50 - A autoridade florestal no Estado do Paraná segundo a lei nº 11054 de 11/01/1995 é:**

- a) IBAMA - Instituto brasileiro de Meio Ambiente e Recursos Naturais Renováveis.
- b) SEMA - Secretaria Estadual de Meio Ambiente.
- c) SEMMA - Secretaria Municipal de Meio Ambiente.
- d) IAP - Instituto Ambiental do Paraná.

**51 - A construção, instalação, ampliação e funcionamento de estabelecimento e atividades utilizadores de recursos ambientais, efetiva ou potencialmente poluidores ou capazes, sob qualquer forma, de causar degradação ambiental dependem de:**

- a) Prévio licenciamento ambiental.
- b) Projeto aprovado pelos bombeiros.
- c) Alvará de funcionamento.
- d) Pagamento de impostos.

**52 - De acordo com a lei 9.605 de 1998; Matar, perseguir, caçar, apanhar, utilizar espécimes da fauna silvestre, nativos ou em rota migratória, sem devida permissão, licença ou autorização da autoridade competente, ou desacordo com a obtida tem a pena de:**

- a) Detenção, de 6 (seis) meses a 1 (um) ano e multa.
- b) Multa.
- c) Detenção, de 6 (seis) meses a 1 (um) ano.
- d) Reclusão.

**53 - Ainda de acordo com a mesma lei da questão anterior, Provocar incêndio ou floresta é a pena de:**

- a) Reclusão.
- b) Multa.
- c) Reclusão de 2 (dois) a 4(quatro) anos e multa.
- d) Detenção de 2 (dois) a 4(quatro) anos e multa.

**54 - A Lei nº 6.902, de 27 de abril de 1981 dispõem sobre:**

- a) Criação de Estações ecológicas e Área de Preservação Ambiental.
- b) Estatuto da Cidade-Política Urbana.
- c) Política Agrícola.
- d) Responsabilidade por Danos Nucleares.

**55 - As florestas e demais formas de vegetação nativa existente no território paranaense ficam classificadas de acordo com a Lei 11054 de 11/01/1995 como:**

- a) I - Preservação Permanente, II - Reserva Legal, III - Produtivas, IV - Unidades de conservação.
- b) I - Preservação Permanente, II - Reserva Legal, III - Produtivas.
- c) I - Reserva Legal, II - Produtivas, III - Unidades de conservação.
- d) I - Preservação Permanente, II - Unidades de conservação.

**56 - De acordo com a legislação ambiental, onde os usuários de agrotóxicos e afins devem efetuar o descarte das suas embalagens:**

- a) Levar as embalagens para a reciclagem.
- b) Levar para o Aterro sanitário Municipal.
- c) Devolver as embalagens e suas respectivas tampas, aos estabelecimentos comerciais onde foram adquiridos.
- d) Enviar para o incinerador.

**57 - Qual das alternativas abaixo NÃO é princípio básico da educação ambiental:**

- a) O enfoque humanista, holístico, democrático e participativo.
- b) A concepção do meio ambiente em sua totalidade, considerando a interdependência entre o meio natural, o socioeconômico e o cultural, sob o enfoque da sustentabilidade.
- c) A garantia de continuidade e permanência do processo educativo.
- d) O enfoque socioeconômico.

**58 - Compete ao CONAMA:**

- a) Estabelecer, mediante proposta do IBAMA, normas e critérios para o licenciamento de atividades efetiva ou potencialmente poluidoras, a ser concedido pelos Estados e supervisionado pelo IBAMA.
- b) Fiscalizar, inspecionar as leis impostas pelo Estado.
- c) Estabelecer critérios e diretrizes para o IBAMA.
- d) Nenhuma das alternativas anteriores.

**59 - A Lei nº 5.197, dispõe sobre:**

- a) Proteção à fauna.
- b) Proteção à flora.
- c) Crimes ambientais.
- d) Florestas.

**60 - Marque a alternativa CORRETA do conceito de Censo Florestal:**

- a) O censo florestal é um inventário de todas as árvores de valor comercial existentes em uma área de exploração anual.
- b) O censo florestal é um inventário um determinado percentual das árvores de valor comercial existentes em uma área de exploração anual.
- c) O censo florestal é um inventário de todas as árvores de valor não comerciais existentes em uma área de exploração anual.
- d) Nenhuma das alternativas anteriores.

DESTAQUE AQUI

**PREENCHA AQUI SUAS RESPOSTAS**

01	02	03	04	05	06	07	08	09	10	11	12	13	14	15	16	17	18	19	20
21	22	23	24	25	26	27	28	29	30	31	32	33	34	35	36	37	38	39	40
41	42	43	44	45	46	47	48	49	50	51	52	53	54	55	56	57	58	59	60