



CONCURSO PÚBLICO

## 009. PROVA OBJETIVA

### ANALISTA DE SERVIÇOS ADMINISTRATIVOS (CONTÁBIL / FINANCEIRO)

- ◆ Você recebeu sua folha de respostas e este caderno contendo 60 questões objetivas.
- ◆ Confira seus dados impressos na capa deste caderno e na folha de respostas.
- ◆ Quando for permitido abrir o caderno, verifique se está completo ou se apresenta imperfeições. Caso haja algum problema, informe ao fiscal da sala.
- ◆ Leia cuidadosamente todas as questões e escolha a resposta que você considera correta.
- ◆ Marque, na folha de respostas, com caneta de tinta azul ou preta, a letra correspondente à alternativa que você escolheu.
- ◆ A duração da prova é de 3 horas e 30 minutos, já incluído o tempo para o preenchimento da folha de respostas.
- ◆ Só será permitida a saída definitiva da sala e do prédio após transcorridos 75% do tempo de duração da prova.
- ◆ Ao sair, você entregará ao fiscal a folha de respostas e este caderno, podendo levar apenas o rascunho de gabarito, localizado em sua carteira, para futura conferência.
- ◆ Até que você saia do prédio, todas as proibições e orientações continuam válidas.

AGUARDE A ORDEM DO FISCAL PARA ABRIR ESTE CADERNO DE QUESTÕES.

Nome do candidato \_\_\_\_\_

Prédio \_\_\_\_\_

Sala \_\_\_\_\_

Carteira \_\_\_\_\_

Inscrição \_\_\_\_\_

## CONHECIMENTOS GERAIS

### LÍNGUA PORTUGUESA

Leia o texto para responder às questões de números **01** a **09**.

Não há como não ressaltar a fortíssima repercussão – e os aplausos – da encíclica *Laudato Si*, do papa Francisco, principalmente as questões ali relacionadas com meio ambiente – uma delas, a dos recursos hídricos. Também é instigante verificar a coincidência da encíclica em temas centrais – como o da água – com os enunciados na mesma semana por um novo documento da Nasa, a agência espacial dos Estados Unidos.

Pode-se começar pela questão dos recursos hídricos, com base em estudos da Nasa decorrentes de registros de satélites (pesquisas de 2003 a 2013). Neles se ressalta que “o mundo caminha para a falta de água” e que 21 dos 37 maiores aquíferos subterrâneos do mundo “estão sendo exauridos em níveis alarmantes”, pois a retirada é maior que a reposição. E isso acontece simultaneamente com algumas das secas mais fortes da história, inclusive nos EUA e no Nordeste brasileiro.

A encíclica papal investe pesadamente contra a “crescente tendência à privatização” dos recursos hídricos no mundo, “apesar de sua escassez” – e tendendo a transformá-los “em mercadoria, sujeita às leis do mercado” –, o que prejudicaria muito os pobres. E a água continua a ser desperdiçada, em países ricos e nos menos desenvolvidos. O conjunto de causas leva a um aumento do custo de alimentos – a ponto de vários estudos indicarem um déficit de recursos hídricos em poucas décadas –, afetando “bilhões de pessoas”. Além disso, seria admissível pensar que “o controle da água por grandes empresas multinacionais de negócios” pode tornar-se “um dos fatores mais importantes de conflitos neste século”.

Essas causas podem levar também à dramática perda da biodiversidade, que se ressentem ainda da ação de produtos químicos nas lavouras. Nesse ponto, a encíclica é muito direta e dura ao ressaltar que na Amazônia e na bacia do Congo “interesses globais, sob pretexto de proteger os negócios, podem solapar a soberania das nações”. Já há até – diz o documento – “propostas de internacionalização da Amazônia, que serviriam apenas aos interesses econômicos de corporações transnacionais”.

A encíclica papal e os estudos da Nasa são dois documentos que nos põem diante das questões cruciais para a humanidade nestes tempos conturbados. Não há como fugir a elas em nenhum lugar. Em termos de Brasil, convém que prestemos muita atenção a documentos como o da Pesquisa Nacional por Amostragem de Municípios, que aponta milhões de brasileiros vivendo na miséria e outras dezenas de milhões abaixo do nível de pobreza. A hora de agir é agora.

(Washington Novaes. *O Estado de S. Paulo*. 26.06.2015. Adaptado)

**01.** Lendo-se o texto, conclui-se que o ponto de vista do autor

- (A) constrói-se a partir da apresentação de dados estatísticos, mas sem emitir uma posição definida sobre a questão hídrica.
- (B) desenvolve argumentação subjetiva, desvinculada das pesquisas sobre recursos hídricos, feitas pelos órgãos competentes.
- (C) corrobora a opinião formulada por agentes representativos de setores diversos, quanto aos problemas relativos ao meio ambiente.
- (D) prescinde de um posicionamento claro, pois, limita-se a citar documentos inconsistentes sobre o meio ambiente.
- (E) defende a ideia de que é preciso contrapor-se às conclusões dos cientistas sobre a escassez hídrica do planeta.

**02.** No contexto do último parágrafo, as frases – Não há como fugir a elas em nenhum lugar. – e – A hora de agir é agora. – contêm afirmações explícitas, mas elas permitem ao leitor inferir, respectivamente, que:

- (A) As questões cruciais da humanidade têm de ser encaradas por todos. / Este é o momento de uma ação inadiável.
- (B) É melhor atenuar o impacto dos problemas cruciais da humanidade. / Avaliar a melhor hora de agir é sensato.
- (C) Ainda dá tempo de livrar a humanidade de seus graves problemas. / Recomenda-se, neste momento, agir moderadamente.
- (D) É difícil, neste momento, identificar quais são os problemas cruciais da humanidade. / Ou se age agora ou se perde a oportunidade.
- (E) Os problemas da humanidade são tantos que é melhor ignorá-los. / Deixar para agir depois pode trazer danos.

**03.** A frase – Os maiores aquíferos subterrâneos estão sendo exauridos em níveis alarmantes. – indica que os aquíferos

- (A) proliferam-se assustadoramente.
- (B) esgotam-se inquietantemente.
- (C) esvaem-se paulatinamente.
- (D) normalizam-se eficientemente.
- (E) dissipam-se criteriosamente.

**04.** Os pronomes **sua** e **los**, em destaque no início do terceiro parágrafo, estabelecem relação com o termo

- (A) mencionado anteriormente: recursos hídricos.
- (B) explicitado ao final do parágrafo: bilhões de pessoas.
- (C) subentendido: privatização.
- (D) enunciado no começo da frase: encíclica papal.
- (E) citado em seguida: os pobres.

**05.** Assinale a alternativa em que as duas frases estão corretas quanto à flexão do verbo e à colocação do pronome **se**.

- (A) Convém que presta-se mais atenção aos documentos sobre os recursos hídricos. / É bom que as pessoas não distanciem-se das questões ambientais.
- (B) Convém que se preste mais atenção aos documentos sobre os recursos hídricos. / É bom que as pessoas não distanciam-se das questões ambientais.
- (C) Convém que se presta mais atenção aos documentos sobre os recursos hídricos. / É bom que as pessoas não se distanciam das questões ambientais.
- (D) Convém que se presta mais atenção aos documentos sobre os recursos hídricos. / É bom que as pessoas não distanciem-se das questões ambientais.
- (E) Convém que se preste mais atenção aos documentos sobre os recursos hídricos. / É bom que as pessoas não se distanciem das questões ambientais.

**06.** Leia as frases a seguir.

O poder e a soberania das nações \_\_\_\_\_ por interesses globais.

\_\_\_\_\_ os estudos da Nasa que o mundo caminha para a falta de água.

Já \_\_\_\_\_ propostas de internacionalização da Amazônia.

Assinale a alternativa que preenche, correta e respectivamente, as lacunas das frases, de acordo com a norma-padrão.

- (A) serão solapadas ... Ressalta ... existe
- (B) será solapada ... Ressalta ... existem
- (C) será solapados ... Ressaltam ... existia
- (D) serão solapados ... Ressaltam ... existem
- (E) serão solapados ... Ressalta ... existem

**07.** Reescrevendo-se a frase – A encíclica papal investe contra a tendência à privatização dos recursos hídricos. – tem-se versão correta, quanto à regência e ao emprego do acento indicativo da crase, em:

- (A) A encíclica papal opõe-se na propensão à privatizar os recursos hídricos.
- (B) A encíclica papal opõe-se à propensão a privatizar os recursos hídricos.
- (C) A encíclica papal opõe-se à propensão à privatizar os recursos hídricos.
- (D) A encíclica papal opõe-se a propensão à privatizar os recursos hídricos.
- (E) A encíclica papal opõe-se na propensão a privatizar os recursos hídricos.

**08.** Assinale a alternativa em que a pontuação foi empregada de acordo com a norma-padrão.

- (A) Os documentos científicos são, precisos e revelam que milhões de brasileiros, vivem na miséria e outras dezenas de milhões, abaixo do nível, de pobreza.
- (B) Os documentos científicos, são precisos e revelam que, milhões de brasileiros vivem, na miséria e outras dezenas de milhões, abaixo, do nível de pobreza.
- (C) Os documentos científicos são precisos e revelam que milhões de brasileiros vivem na miséria, e outras dezenas de milhões, abaixo do nível de pobreza.
- (D) Os documentos científicos, são precisos e, revelam que, milhões de brasileiros, vivem, na miséria, e outras dezenas de milhões, abaixo do nível, de pobreza.
- (E) Os documentos científicos são, precisos e revelam que milhões, de brasileiros, vivem na miséria e outras dezenas, de milhões, abaixo do nível, de pobreza.

09. Relacionando-se a charge a seguir ao texto lido, conclui-se que



(www.google.com.br)

- (A) a provisão de água no planeta é promissora, de acordo com a charge, mas Washington Novaes está muito descrente.
- (B) a suspeita de que os aquíferos se esvaziarão é improcedente, como comprovam os elementos da charge.
- (C) a água no planeta é inextinguível, segundo a charge, e os países ricos encontrarão um meio de fornecê-la às populações pobres.
- (D) a charge sugere controlar o consumo da água, para que não se agrave o cenário caótico das condições dos recursos hídricos.
- (E) Washington Novaes baseia-se em dados científicos e não no potencial hídrico do planeta, demonstrado pela charge.
10. Assinale a alternativa em que a palavra **água** está empregada em sentido figurado.
- (A) Na água lançamos os nossos fétidos esgotos e os resíduos de uma produção industrial contaminada.
- (B) A química dos nossos adubos e pesticidas agrícolas, os restos daquilo que não queremos mais são lançados na água.
- (C) Se falta água limpa para aplacar nossa sede e cultivar nossos alimentos, falta consciência para zelar, preservar e despoluir fontes e reservas.
- (D) As águas subterrâneas guardadas por séculos e milênios nós conseguimos poluir: é a poluição invisível das águas profundas.
- (E) É inaceitável que os países ricos resistam a adotar medidas de proteção ambiental; até que eles se conscientizem dessa necessidade, a busca de soluções navegará ainda por águas turvas.

## MATEMÁTICA

11. A Estação de Tratamento de Água (ETA) da SAEG tem capacidade de produção de 1472,4 metros cúbicos de água tratada por hora, o que corresponde, em litros por segundo, a
- (A) 392.
- (B) 397.
- (C) 407.
- (D) 409.
- (E) 411.

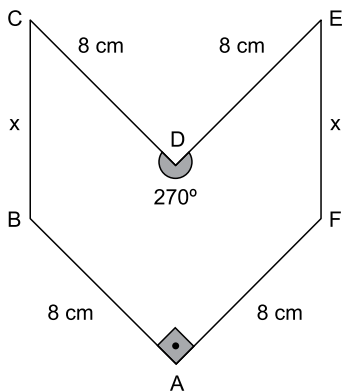
12. A tabela a seguir indica a vazão média mensal dos únicos quatro reservatórios que abastecem uma cidade. Apenas 90% da soma dessas vazões já é suficiente para abastecer mensalmente as necessidades da cidade, o que implica dizer que há uma margem de folga de 10%.

Reservatório	Vazão média mensal (em milhares de m <sup>3</sup> )
A	35
B	22
C	12
D	11

Em um determinado mês, houve problemas no reservatório A, que parou totalmente de operar. Em caráter emergencial, nesse mês, a companhia de abastecimento aumentou a vazão dos reservatórios B, C e D em  $x\%$ , e reduziu a margem de folga para  $0\%$ , com o objetivo de continuar atendendo às necessidades mínimas da cidade. Em tais condições,  $x$  é igual a

- (A) 56.
- (B) 58.
- (C) 60.
- (D) 62.
- (E) 64.
13. Em um painel de controle, há luzes verdes e vermelhas. As luzes verdes permanecem 80 segundos apagadas e 150 segundos acesas, em sequência contínua. As luzes vermelhas permanecem 90 segundos apagadas e 100 segundos acesas, também em sequência contínua. Um dia, ocorreu o seguinte episódio: as luzes verdes e vermelhas, que estavam acesas, se apagaram simultaneamente às 8h00. Nesse dia, o mesmo episódio se repetiu às
- (A) 8h 20m 30s.
- (B) 9h 06m 30s.
- (C) 9h 12m 50s.
- (D) 9h 18m 30s.
- (E) 9h 21m 50s.

14. Um líquido é vendido em copo, jarra ou balde, com preço diretamente proporcional à capacidade do recipiente. Um copo cheio equivale a 35% de 1 litro. Uma jarra cheia tem  $\frac{7}{8}$  de 1 litro. E um balde cheio equivale a  $\frac{28}{5}$  de uma jarra cheia. Se um copo cheio do líquido é vendido por R\$ 1,25, um balde cheio desse líquido custará
- (A) R\$ 16,25.  
 (B) R\$ 17,50.  
 (C) R\$ 18,75.  
 (D) R\$ 19,25.  
 (E) R\$ 20,00.
15. Valdir trabalha na cozinha de uma empresa e faz para o almoço 18 kg de arroz para suprir as necessidades dos 200 funcionários, sem sobras. Recentemente, a empresa contratou 16 novos funcionários, e Valdir aumentou a quantidade de arroz proporcionalmente ao novo total de funcionários. A estratégia implicou em sobra diária de 440 g de arroz no almoço. Se nesse período não houve variação no consumo médio de arroz dos 200 funcionários antigos, é correto concluir que o consumo médio de arroz, em gramas, de cada funcionário antigo supera o de cada funcionário novo em
- (A) 27,50.  
 (B) 28,25.  
 (C) 28,50.  
 (D) 70,25.  
 (E) 72,50.
16. Em uma peça hexagonal ABCDEF, com medidas indicadas na figura a seguir,  $BC = FE = x$ .



Sabendo que a área do polígono que representa essa peça é  $80 \text{ cm}^2$ , então  $x$ , em centímetros, é igual a

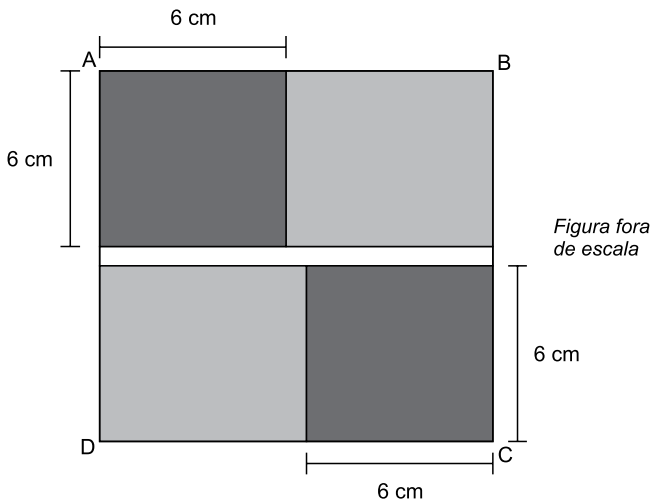
- (A)  $4\sqrt{2}$   
 (B)  $3,5\sqrt{3}$   
 (C)  $4,5\sqrt{2}$   
 (D)  $4\sqrt{3}$   
 (E)  $5\sqrt{2}$

17. As 5 primeiras colunas de uma planilha de cálculo estão sendo usadas em um arquivo da contabilidade de uma empresa. Na coluna A, são armazenados números inteiros maiores que  $-3$ ; na coluna D, todas as células são preenchidas com o número 1; as colunas B, C e E são alimentadas com fórmulas que realizam cálculos com um ou mais números já armazenados.

	A	B	C	D	E
1	-2	4	-6	1	-1
2	-1	1	-3	1	-1
3	0	0	0	1	1
4	1	1	3	1	5
5	2	4	6	1	11
6	3	9	9	1	19
7	4	16	12	1	29
8	5	25	15	1	41
9	6	36	18	1	55
10	7	49	21	1	71
11	8	64	24	1	89
	⋮	⋮	⋮	⋮	⋮

Essa planilha prossegue, com a mesma lógica descrita, até uma célula da coluna E em que aparece o número 755. Sendo assim, o total de células com números diferentes de zero na planilha inteira é igual a

- (A) 155.  
 (B) 148.  
 (C) 145  
 (D) 142.  
 (E) 127.
18. Na figura, ABCD é um quadrado de área igual a  $196 \text{ cm}^2$ . Como mostra a figura, esse quadrado é formado por outros dois quadrados idênticos (em cinza-escuro) e três retângulos (dois em cinza-claro e um em branco). Os retângulos em cinza-claro são idênticos.

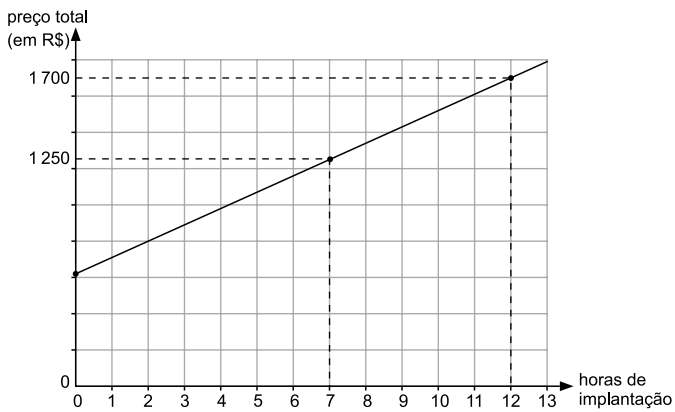


Nas condições descritas, o número de retângulos brancos necessários e suficientes para recobrir por completo o quadrado ABCD é igual a

- (A) 6.  
 (B) 7.  
 (C) 8.  
 (D) 9.  
 (E) 10.

19. Usando o Raciocínio Lógico, com as letras da palavra RESÍDUO pode-se formar um total de 5040 palavras diferentes, não importando se elas tenham ou não significado. Se essas palavras forem ordenadas como em um dicionário, a primeira será DEÍORSU, e a 5040ª será USROÍED. Nessa ordenação, a palavra EDÍOURS será a
- (A) 725ª
- (B) 724ª
- (C) 723ª
- (D) 722ª
- (E) 721ª

20. Renata presta serviço de paisagismo em residências. Ela cobra um valor fixo pelo projeto e um valor por hora de trabalho para implantá-lo. O gráfico mostra o preço total (incluindo o projeto) cobrado por Renata em função do total de horas que ela leva para implantar o projeto na residência do cliente.



Uma cliente decidiu contratar Renata apenas para o serviço de elaboração do projeto que, de acordo com a semirreta indicada no gráfico, custará, em reais,

- (A) 600,00.
- (B) 605,00.
- (C) 610,00.
- (D) 615,00.
- (E) 620,00.

## ATUALIDADES

21. O Parlamento grego aprovou, com o apoio de 250 dos 300 parlamentares, o programa de reformas apresentado na quinta-feira (9 de julho) por Atenas aos credores internacionais na tentativa de garantir um acordo sobre a dívida do país. Do lado de fora do Parlamento, manifestantes expressaram sua indignação com o pacote de medidas, que mantém boa parte das demandas dos credores internacionais rejeitadas por 61% da população no plebiscito do último domingo (5 de julho).

(EBC, 10.07.2015.

Disponível em: <<http://goo.gl/CwbWWA>> Adaptado)

Entre as medidas questionadas por parte da população e aprovadas pelo Parlamento grego está

- (A) a saída da Grécia da União Europeia.
- (B) o não pagamento da dívida externa.
- (C) o aumento de impostos.
- (D) o fechamento temporário dos bancos.
- (E) o estabelecimento de limites para saques em dinheiro.

22. *Com novo projeto, Senado deve travar redução da maioria penal*

(Folha de S.Paulo, 16.07.2015.

Disponível em: <<http://goo.gl/WCYQWZ>> Adaptado)

O projeto aprovado pelo Senado como alternativa à redução da maioria penal estabelece

- (A) a reforma do ECA, transformando as medidas socio-educativas em medidas punitivas.
- (B) o endurecimento do tratamento conferido aos jovens pelas autoridades policiais.
- (C) a responsabilização penal dos pais ou responsáveis nos crimes cometidos por menores.
- (D) a prisão em cela de segurança máxima para adultos que envolverem menores em seus crimes.
- (E) a ampliação do tempo de internação de jovens infratores para até dez anos.

23. A governadora da Carolina do Sul (EUA) sancionou uma lei nesta quinta-feira (9 de julho) para remover permanentemente a bandeira da batalha dos confederados do Capitólio do Estado. A bandeira rebelde vai para a “sala de relíquias” do museu militar da Carolina do Sul, em Columbia, a capital do Estado.

(G1, 09.07.2015.

Disponível em: <<http://goo.gl/EGxqaP>> Adaptado)

O que reacendeu a discussão sobre a bandeira confederada nos EUA foi

- (A) a suspeita de que os EUA teriam apoiado o Estado Islâmico na luta contra a ditadura síria.
- (B) o assassinato de nove negros por um homem branco em uma igreja da comunidade negra no sul dos EUA.
- (C) a crítica radical dos Republicanos à assinatura do tratado nuclear entre os EUA e o Irã, contrariando Israel.
- (D) a forte oposição de parte da população branca dos EUA à retomada das relações diplomáticas com Cuba.
- (E) a crítica aos mexicanos feita por um dos pré-candidatos republicanos à presidência.

24. *José Maria Marin é detido na Suíça acusado de corrupção*

(Opera Mundi, 13.03.2015.

Disponível em: <<http://goo.gl/74ptnw>> Adaptado)

Marin foi detido por suspeita de envolvimento no escândalo de corrupção

- (A) investigado pela Operação Zelotes.
- (B) conhecido como a Máfia do ISS (Imposto sobre Serviços).
- (C) investigado pela Operação Lava Jato.
- (D) que envolve a FIFA.
- (E) que envolve o banco HSBC.

25. A economia brasileira começa a dar sinais de reação, ainda que o andamento de medidas consideradas importantes pelo governo para cumprir o roteiro do ajuste fiscal esteja mais lento do que o esperado inicialmente, afirmou hoje o ministro da Fazenda Joaquim Levy.

(O Estado de São Paulo, 17.07.2015.

Disponível em: <<http://goo.gl/Ur5dtl>> Adaptado)

Entre as medidas consideradas atrasadas pelo ministro, no contexto do recesso do Congresso em julho, estava o projeto de lei que

- (A) estabelece uma política regular de redução da taxa de juros.
- (B) revê as desonerações sobre a folha de pagamento de empresas.
- (C) institui uma política de valorização do salário mínimo indexada à inflação.
- (D) impõe metas de superávit fiscal para o governo ao longo do ano.
- (E) restringe os gastos do governo com previdência e seguridade social.



## NOÇÕES DE INFORMÁTICA

26. Para abrir uma página da internet em uma nova aba no navegador MS-Internet Explorer, em sua configuração padrão, deve-se clicar no link correspondente a página desejada segurando, no teclado, a(s) tecla(s):

- (A) Shift
- (B) Ctrl
- (C) Alt
- (D) Shift+Alt
- (E) Ctrl+Alt

27. As figuras a seguir foram extraídas do MS-Excel 2010, em sua configuração padrão, e apresentam uma tabela em dois momentos: ANTES e DEPOIS da utilização de um recurso do grupo Alinhamento, da guia Página Inicial.

ANTES

A1				
Tabela de valores				
	A	B	C	D
1	Tabela de valores			
2	Produtos/Desconto	Sem desconto	Com desconto (10%)	
3	Produto 1	28	25,2	
4	Produto 2	38	34,2	
5	Produto 3	85	76,5	
6	Produto 4	38	34,2	
7	Produto 5	29	26,1	
8				
9				
10				

DEPOIS

A1				
Tabela de valores				
	A	B	C	D
1	Tabela de valores			
2	Produtos/Desconto	Sem desconto	Com desconto (10%)	
3	Produto 1	28	25,2	
4	Produto 2	38	34,2	
5	Produto 3	85	76,5	
6	Produto 4	38	34,2	
7	Produto 5	29	26,1	
8				
9				
10				

Assinale a alternativa que contém o nome do recurso utilizado entre os dois momentos, ANTES e DEPOIS, responsável por agrupar as três primeiras células da primeira linha em apenas uma célula.

- (A) Mesclar.
- (B) Agrupar.
- (C) Mesclar e Centralizar.
- (D) Agrupar e Centralizar.
- (E) Agrupar Através.

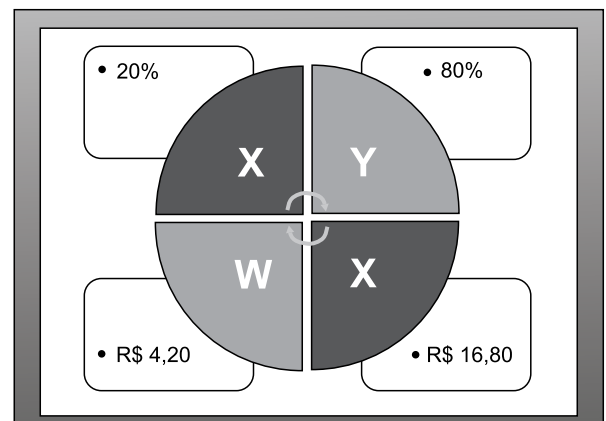
28. Ao imprimir um documento de 2 páginas no MS-Word 2010, percebe-se que há apenas duas linhas na última página. Para evitar desperdício de papel, é recomendado reduzir o tamanho da fonte do texto, apenas o necessário, para que o seu conteúdo caiba em 1 página. Assinale a alternativa que contém o recurso que permite reduzir o documento para uma página.

- (A) Reduzir para Caber.
- (B) Reduzir para Ajustar.
- (C) Resumir para Caber.
- (D) Resumir para Ajustar.
- (E) Reduzir uma Página.

29. O procedimento correto para enviar um e-mail para três pessoas, de modo que cada uma delas consiga ver apenas o seu próprio endereço de e-mail e o do remetente é

- (A) incluir os três endereços de e-mail como CCO.
- (B) incluir os três endereços de e-mail como CC.
- (C) incluir um endereço de e-mail como Destinatário e os demais como CC.
- (D) incluir um endereço de e-mail como Destinatário e os demais como CCO.
- (E) incluir os três endereços de e-mail como Destinatário e como CC.

30. Observe a figura a seguir, extraída do MS-PowerPoint 2010, em sua configuração padrão.



O nome do recurso utilizado para gerar o conteúdo desse slide é

- (A) SmartArt, do grupo de Ilustrações, da guia Inserir.
- (B) Formas, do grupo de Ilustrações, da guia Inserir.
- (C) Gráficos, do grupo de Ilustrações, da guia Inserir.
- (D) WordArt, do grupo de Ilustrações, da guia Inserir.
- (E) Estilo, do grupo de WordArt, da guia Formatar.

## CONHECIMENTOS ESPECÍFICOS

31. No balanço patrimonial, as contas serão classificadas segundo os elementos do patrimônio que registrem, e agrupadas de modo a facilitar o conhecimento e a análise da situação financeira da companhia. Assim sendo, é correto afirmar que, no ativo: as contas serão dispostas em ordem decrescente de grau de liquidez dos elementos nelas registrados;

- (A) no intangível: os bens e direitos realizáveis no curso do exercício social subsequente e as aplicações de recursos em despesas do exercício seguinte.
- (B) no realizável a longo prazo: os direitos que tenham por objeto bens incorpóreos destinados à manutenção da companhia ou exercidos com essa finalidade, inclusive o fundo de comércio adquirido.
- (C) no circulante: os direitos que tenham por objeto bens corpóreos destinados à manutenção das atividades da companhia ou da empresa ou exercidos com essa finalidade, inclusive os decorrentes de operações que transfiram à companhia os benefícios, riscos e controle desses bens.
- (D) nos investimentos: as participações permanentes em outras sociedades e os direitos de qualquer natureza, não classificáveis no ativo circulante, e que não se destinem à manutenção da atividade da companhia ou da empresa.
- (E) no imobilizado: os direitos realizáveis após o término do exercício seguinte, assim como os derivados de vendas, adiantamentos ou empréstimos a sociedades coligadas ou controladas, diretores, acionistas ou participantes no lucro da companhia, que não constituírem negócios usuais na exploração do objeto da companhia.

32. A companhia "Primeiros Passos S.A." subscreveu capital social em dezembro de 2014, no montante de R\$ 100.000,00. Em janeiro de 2015, os sócios integralizam o capital social da seguinte maneira: R\$ 30.000,00 em dinheiro e R\$ 40.000,00 em um edifício para abrigar as atividades da companhia. Ainda em janeiro de 2015, a companhia adquiriu mercadorias para revenda por R\$ 32.000,00, sendo que 50% dessa compra foi paga à vista e o saldo remanescente será liquidado em 30 dias. Apenas com os dados informados, é correto afirmar que na DFC, segundo o método DIRETO, relativamente ao mês de janeiro de 2015, as atividades

- (A) circulantes geraram caixa no valor de R\$ 16.000.
- (B) operacionais consumiram caixa no valor de R\$ 32.000.
- (C) de investimentos consumiram caixa no valor de R\$ 40.000.
- (D) não operacionais consumiram caixa no valor de R\$ 30.000.
- (E) de financiamentos consumiram caixa no valor de R\$ 70.000.

33. Utilizando a base fornecida na questão anterior, considerando agora que o método utilizado será o INDIRETO, relativamente ao mês de janeiro de 2015, as atividades

- (A) operacionais consumiram caixa no valor de R\$ 16.000.
- (B) não operacionais geraram caixa no valor de R\$ 70.000.
- (C) não circulantes consumiram caixa no valor de R\$ 40.000.
- (D) de investimentos consumiram caixa no valor de R\$ 32.000.
- (E) de financiamentos consumiram caixa no valor de R\$ 30.000.

Assinale a alternativa que preenche, correta e respectivamente, as lacunas dos enunciados das questões de números 34 e 35.

34. De acordo com o Pronunciamento Técnico CPC 00 (R1), \_\_\_\_\_ significa ter informação disponível para tomadores de decisão a tempo de poder influenciá-los em suas decisões. Em geral, a informação mais antiga é a que tem menos utilidade. Contudo, certa informação pode ter o seu atributo \_\_\_\_\_ prolongado após o encerramento do período contábil, em decorrência de alguns usuários, por exemplo, necessitarem identificar e avaliar tendências.

- (A) consistência ... verificabilidade
- (B) verificabilidade ... consistência
- (C) tempestividade ... tempestividade
- (D) compreensibilidade ... tempestividade
- (E) comparabilidade ... compreensibilidade

35. \_\_\_\_\_ são aumentos nos benefícios econômicos durante o período contábil sob a forma de entrada de recursos ou aumento de \_\_\_\_\_ ou diminuição de \_\_\_\_\_, que resultem em aumento do(das) \_\_\_\_\_ e que não estejam relacionados com a contribuição dos detentores dos instrumentos patrimoniais.

- (A) Receitas ... ativos ... passivos ... patrimônio líquido
- (B) Despesas ... ativos ... passivos ... patrimônio líquido
- (C) Receitas ... passivos ... ativos ... patrimônio líquido
- (D) Passivos ... ativos ... patrimônio líquido ... receitas
- (E) Despesas ... passivos ... ativos ... patrimônio líquido

36. Assinale a alternativa em que o termo está corretamente definido, de acordo com o Pronunciamento Técnico CPC 03 (R2).

- (A) Atividades de financiamento: são as entradas e saídas de caixa e equivalentes de caixa.
- (B) Fluxos de caixa: compreende numerário em espécie e depósitos bancários disponíveis.
- (C) Equivalentes de caixa: são as entradas referentes à aquisição e à venda de ativos de longo prazo e de outros investimentos, incluídos os de financiamentos.
- (D) Atividades de investimento: são aquelas que resultam em mudanças no tamanho e na composição do capital próprio e no capital de terceiros da entidade.
- (E) Atividades operacionais: são as principais atividades geradoras de receita da entidade e outras atividades que não são de investimento e tampouco de financiamento.

37. Considerando o Pronunciamento Técnico CPC 26 (R1), o ativo deve ser classificado como circulante quando satisfizer qualquer dos seguintes critérios:

- (A) está mantido essencialmente com o propósito de ser negociado.
- (B) espera-se que seja liquidado durante o ciclo operacional normal da entidade.
- (C) espera-se que deve ser liquidado no período de até doze meses após a data do balanço.
- (D) a entidade não tem direito incondicional de diferir a liquidação durante pelo menos doze meses após a data do balanço.
- (E) à opção da contraparte, resultar na sua liquidação por meio da emissão de instrumentos patrimoniais que não devem afetar a sua classificação.

38. A Escrituração Fiscal Digital das Contribuições – EFD-Contribuições é parte integrante do projeto SPED, que busca promover a integração dos fiscos federal, estaduais, Distrito Federal e, futuramente, municipais, e dos Órgãos de Controle mediante a padronização, racionalização e compartilhamento das informações fiscais digitais, bem como integrar todo o processo relativo à escrituração fiscal, com a substituição do atual documentário em meio físico (papel) por documento eletrônico com validade jurídica para todos os fins. Assim sendo, é correto afirmar que no EFD-Contribuições serão apresentados dados apenas relativos aos seguintes tributos:

- (A) PIS e ICMS.
- (B) PIS e COFINS.
- (C) PIS, COFINS e FGTS.
- (D) PIS, COFINS e CPRB.
- (E) PIS, COFINS, INSS e ICMS.

Considere que a DRE de 2014, a seguir, contém a quantidade de meses informada, de acordo com a sistemática de tributação adotada:

Sistemática de tributação	Período correspondente a DRE
• Lucro real - estimativa mensal (receita bruta)	= 01 mês
• Lucro real - suspensão ou redução	= 06 meses
• Lucro real - trimestral	= 01 trimestre
• Lucro presumido	= 01 trimestre

Demonstração do resultado

Receita bruta - venda de mercadorias	300.000
Receita bruta - venda de serviços	400.000
Custos das mercadorias e serviços prestados	250.000
Outras despesas e receitas	
.. Resultado negativo de equivalência patrimonial	28.200
.. Dividendos recebidos	77.000
.. Despesas administrativas	42.800
Receita de juros	15.000
Receita na venda de ativo imobilizado	20.000
Custo do ativo imobilizado vendido	11.000
Lucro líquido antes dos tributos	???

Outras informações:-

Imposto de renda na fonte – serviços prestados	6.000
CSLL retida na fonte – serviços prestados	4.000
Prejuízos fiscais ano base 2013	150.000
Base Negativa da CSLL ano base 2013	150.000

Após a análise e considerações, responda às questões de números 39 a 42.

39. Optando a empresa pela sistemática de lucro real anual-estimativa mensal, é correto afirmar que o valor devido antes da dedução dos impostos na fonte, a título de IRPJ, deverá ser:

- (A) R\$ 33.750.
- (B) R\$ 36.000.
- (C) R\$ 38.250.
- (D) R\$ 42.000.
- (E) R\$ 44.750.

40. No caso de a empresa optar pela sistemática de lucro presumido, é correto afirmar que o valor final a recolher, a título de CSLL, deverá ser:

- (A) R\$ 11.570.
- (B) R\$ 12.110.
- (C) R\$ 12.920.
- (D) R\$ 16.110.
- (E) R\$ 16.920.

41. Caso a empresa optasse pela sistemática de lucro real anual-suspensão/redução, é correto afirmar que o valor final a recolher, a título de CSLL, deverá ser:

- (A) R\$ 21.308,00.
- (B) R\$ 23.165,60.
- (C) R\$ 23.508,00.
- (D) R\$ 25.700,00.
- (E) R\$ 27.165,60.

42. Caso a empresa optasse pela sistemática de lucro real trimestral, é correto afirmar que o valor final a recolher, a título de IRPJ, deverá ser:

- (A) R\$ 58.300.
- (B) R\$ 63.460.
- (C) R\$ 64.300.
- (D) R\$ 69.460.
- (E) R\$ 101.800.

43. Apure o PIS a Recolher de uma empresa comercial, cuja forma de tributação é o regime não cumulativo, considerando ainda os seguintes dados:

Nota fiscal de compra:

Valor das mercadorias	R\$ 4.000,00
Valor do IPI	R\$ 0,00

Nota fiscal de venda:

Valor das mercadorias	R\$ 10.000,00
Valor do IPI	R\$ 0,00

Nota fiscal de venda:

Venda de ativo imobilizado	R\$ 20.000,00
Custo do imobilizado vendido	R\$ 11.000,00

- (A) R\$ 65,00.
- (B) R\$ 99,00.
- (C) R\$ 165,00.
- (D) R\$ 195,00.
- (E) R\$ 247,50.

44. Apure a COFINS a Recolher de uma empresa comercial, cuja forma de tributação é o regime não cumulativo, considerando ainda os seguintes dados:

Nota fiscal de compra:

Valor das mercadorias	R\$ 4.000,00
Valor do IPI	R\$ 0,00

Nota fiscal de venda:

Valor das mercadorias	R\$ 10.000,00
Valor do IPI	R\$ 0,00

Nota fiscal de venda:

Venda de ativo imobilizado	R\$ 20.000,00
Custo do imobilizado vendido	R\$ 11.000,00

- (A) R\$ 1.140,00.
- (B) R\$ 900,00.
- (C) R\$ 760,00.
- (D) R\$ 456,00.
- (E) R\$ 300,00.

Considere o enunciado a seguir para responder às questões de números 45 a 49.

O balancete de verificação da companhia "Aquecendo Comércio de Motores Ltda." apresenta os seguintes saldos contábeis em 31.12.2014:

Descrição	R\$
Receita bruta de venda	30.000
Imobilizações	26.500
Fornecedores	14.000
Capital social integralizado	13.000
Bancos conta movimento	12.000
Despesas gerais	10.000
Estoque inicial de mercadorias	9.100 correspondente a 100 unidades
Depreciação acumulada	9.000
Compra de mercadorias	4.400 correspondente a 50 unidades
ICMS sobre as vendas	7.000
Reserva de capital	2.000
Salários a pagar	4.000
Despesas financeiras	3.000

Com base somente nessas informações e após apurado o custo das mercadorias vendidas pelo método do preço médio, sabendo-se que o inventário final de mercadoria em 31.12.2014 totalizou 30 unidades, encerradas as contas de resultado, preparados o balanço patrimonial e a demonstração do resultado em 31.12.2014, assinale a alternativa correta.

45. O valor do Ativo Circulante é

- (A) R\$ 12.000.
- (B) R\$ 14.700.
- (C) R\$ 14.685.
- (D) R\$ 17.370.
- (E) R\$ 25.500.

46. O valor do Ativo Não Circulante é

- (A) R\$ 9.000.
- (B) R\$ 17.500.
- (C) R\$ 26.500.
- (D) R\$ 32.130.
- (E) R\$ 35.500.

47. O valor do CMV é

- (A) R\$ 5.370.
- (B) R\$ 9.100.
- (C) R\$ 10.800.
- (D) R\$ 10.740.
- (E) R\$ 13.500.

48. O valor do Patrimônio Líquido é

- (A) R\$ 16.870.
- (B) R\$ 15.800.
- (C) R\$ 15.000.
- (D) R\$ 14.200.
- (E) R\$ 13.000.

49. Se a empresa optar por valorizar seus estoques pelo método denominado FIFO, o valor do CMV será de

- (A) R\$ 2.640.
- (B) R\$ 4.400.
- (C) R\$ 9.100.
- (D) R\$ 10.860.
- (E) R\$ 13.500.

Com base apenas nas informações a seguir, responda às questões de números 50 e 51.

A companhia "Ficou Quente Comércio de Cérebros S.A.", possuía um Patrimônio Líquido em 01.01.2014 como segue: Capital Social R\$ 400.000; Reserva de Capital R\$ 40.000 e Reserva Legal R\$ 75.000. Em 31.12.2014, apurou lucro líquido do exercício na ordem de R\$ 120.000,00. O estatuto determina a constituição apenas da reserva obrigatória, e o saldo remanescente deve ser distribuído a título de dividendos a serem pagos no exercício seguinte.

50. É correto afirmar que a Reserva obrigatória a ser constituída no ano 2014 será

- (A) R\$ 5.000.
- (B) R\$ 6.000.
- (C) R\$ 12.000.
- (D) R\$ 24.000.
- (E) R\$ 0,00 em virtude da ausência de percentual.

51. Os dividendos a serem distribuídos em 2015, serão de:

- (A) R\$ 120.000.
- (B) R\$ 96.000.
- (C) R\$ 108.000.
- (D) R\$ 114.000.
- (E) R\$ 115.000.

52. Com relação a um bem cuja taxa de depreciação é de 10% ao ano, é correto afirmar que após 48 meses de uso, considerando valor residual zero, faltará depreciar o bem em

- (A) 40,0%.
- (B) 50,0%.
- (C) 60,0%.
- (D) 70,0%.
- (E) 80,0%.

53. A observância dos Princípios de Contabilidade é obrigatória no exercício da profissão contábil e constitui condição de legitimidade das Normas Brasileiras de Contabilidade. A Resolução CFC 750/93 dispõe sobre o Princípio Contábil do Registro pelo Valor Original, entre outros:

- (A) Continuidade, Receitas e Despesas, Realização da Receita e Competência.
- (B) Competência, Caixa, Realização da Receita, Entidade.
- (C) Prudência, Caixa, Realização da Receita, Competência.
- (D) Oportunidade, Receitas e Despesas, Competência e Continuidade.
- (E) Entidade, Prudência, Oportunidade, Competência e Continuidade.

54. À luz da Resolução CFC 750/93, é correto afirmar que o Princípio Contábil

- (A) da *Continuidade*: pressupõe que a Entidade continuará em operação no futuro e, portanto, a mensuração e a apresentação dos componentes do patrimônio levam em conta essa circunstância.
- (B) da *Prudência*: pressupõe a simultaneidade da confrontação de receitas e de despesas correlatas. Determina que os efeitos das transações e outros eventos sejam reconhecidos nos períodos a que se referem, independentemente do recebimento ou pagamento.
- (C) do *Caixa*: refere-se ao processo de mensuração e apresentação dos componentes patrimoniais para produzir informações íntegras e tempestivas. A falta de integridade e tempestividade na produção e na divulgação da informação contábil pode ocasionar a perda de sua relevância, por isso é necessária sua ponderação com a confiabilidade da informação.
- (D) da *Oportunidade*: pressupõe o emprego de certo grau de precaução no exercício dos julgamentos necessários às estimativas em certas condições de incerteza, no sentido de que ativos e receitas não sejam superestimados e que passivos e despesas não sejam subestimados, atribuindo maior confiabilidade ao processo de mensuração e apresentação dos componentes patrimoniais.
- (E) da *Realização da Receita*: reconhece o Patrimônio como objeto da Contabilidade e afirma a autonomia patrimonial, a necessidade da diferenciação de um Patrimônio particular no universo dos patrimônios existentes, independentemente de pertencer a uma pessoa, um conjunto de pessoas, uma sociedade ou instituição de qualquer natureza ou finalidade, com ou sem fins lucrativos.

Para responder às questões de números 55 e 56, considere o balancete de verificação da companhia "Quebrando a Cabeça Comércio de Mentas S.A.", levantado em 31.12.2014, o qual apresentou o seguinte elenco de contas e saldos:

Contas	Saldos R\$
Faturamento Bruto	8.800
Capital Social	6.700
Duplicatas a receber	5.000
Custo dos produtos vendidos	4.000
Estoque de produtos	3.500
Duplicatas a pagar	2.500
Investimentos em controladas	1.700
Bancos	1.500
Empréstimos a sócios	1.300
Reserva Legal	1.300
IPI a Recolher	1.000
IPI sobre vendas	800
ICMS sobre vendas	960
Despesas de salários	430
Aplicações financeiras	400
Despesas com aluguel	300
Despesa de energia	110
IRPJ sobre o lucro	200
Caixa	100

Considere, também, que, após o encerramento das contas de resultado, foram preparados a Demonstração de Resultado e o Balanço Patrimonial.

55. Na DVA elaborada a partir dos dados apresentados, considerando que é de 12% a alíquota do ICMS incidente na compra e na venda de produtos; como também é de 10% a alíquota do IPI tanto na compra como na venda, é correto afirmar que a importância distribuída do valor adicionado, no item Tributos, atingiu o montante de

- (A) R\$ 1.700.
- (B) R\$ 1.500.
- (C) R\$ 960.
- (D) R\$ 1.000.
- (E) R\$ 700.

56. Por outro lado, na DVA elaborada a partir dos dados apresentados, é correto afirmar que o valor adicionado bruto atingiu o montante de
- (A) R\$ 1.890.
  - (B) R\$ 2.590.
  - (C) R\$ 4.020.
  - (D) R\$ 4.100.
  - (E) R\$ 3.690.
57. De acordo com o artigo 11, da Lei nº 4.320/64, a receita será classificada nas seguintes categorias econômicas:
- (A) Receita Operacional e Receita não Operacional.
  - (B) Receita Financeira e Receita Operacional.
  - (C) Receitas Correntes e Extra-Orçamentária.
  - (D) Receitas Correntes e Receita Financeira.
  - (E) Receitas Correntes e Receitas de Capital.
58. Conforme o artigo 12, da Lei nº 4.320/64, a despesa será classificada nas seguintes categorias econômicas:
- (A) Despesa Operacional e Despesa não Operacional.
  - (B) Despesas Correntes e Despesas não Operacionais.
  - (C) Despesa Financeira e Despesas de Investimentos.
  - (D) Despesas de Capital e Despesas de Investimentos.
  - (E) Despesas Correntes e Despesas de Capital.
59. A Lei nº 8.666/93 estabelece normas gerais sobre licitações e contratos administrativos pertinentes a obras, serviços, inclusive de publicidade, compras, alienações e locações no âmbito dos Poderes da União, dos Estados, do Distrito Federal e dos Municípios. De acordo com o seu artigo 22, é correto considerar modalidades de licitação, além da Concorrência,
- (A) tomada de preços, convite, razão e leilão.
  - (B) tomada de preços, convite, concurso e leilão.
  - (C) tomada de preços, convite, concurso e razão.
  - (D) pesquisa de mercado, convite, concurso e razão.
  - (E) superveniência, tomada de preços, convite e publicação.
60. À luz do artigo 22 da Lei nº 8.666/93, conceitualmente, é correto afirmar.
- (A) Tomada de preços é a modalidade de licitação entre interessados devidamente cadastrados ou que atenderem a todas as condições exigidas para cadastramento até o terceiro dia anterior à data do recebimento das propostas, observada a necessária qualificação.
  - (B) Pesquisa de mercado é a modalidade de licitação entre quaisquer interessados que, na fase inicial de habilitação preliminar, comprovem possuir os requisitos mínimos de qualificação exigidos no edital para execução de seu objeto.
  - (C) Superveniência é a modalidade de licitação entre quaisquer interessados para a venda de bens móveis inservíveis para a administração ou de produtos legalmente apreendidos ou penhorados, ou para a alienação de bens imóveis, a quem oferecer o maior lance, igual ou superior ao valor da avaliação.
  - (D) Razão é a modalidade de licitação entre quaisquer interessados para escolha de trabalho técnico, científico ou artístico, mediante a instituição de prêmios ou remuneração aos vencedores, conforme critérios constantes de edital publicado na imprensa oficial com antecedência mínima de 45 (quarenta e cinco) dias.
  - (E) Concorrência é a modalidade de licitação entre interessados do ramo pertinente ao seu objeto, cadastrados ou não, escolhidos e convidados em número mínimo de 3 (três) pela unidade administrativa, a qual afixará, em local apropriado, cópia do instrumento convocatório e o estenderá aos demais cadastrados na correspondente especialidade que manifestarem seu interesse com antecedência de até 24 (vinte e quatro) horas da apresentação das propostas.

