

**CÂMARA MUNICIPAL DE CAIEIRAS**  
ESTADO DE SÃO PAULO

CONCURSO PÚBLICO

**012. PROVA OBJETIVA**

**DIRETOR GERAL**

- ◆ Você recebeu sua folha de respostas e este caderno contendo 60 questões objetivas.
- ◆ Confira seu nome e número de inscrição impressos na capa deste caderno e na folha de respostas.
- ◆ Quando for permitido abrir o caderno, verifique se está completo ou se apresenta imperfeições. Caso haja algum problema, informe ao fiscal da sala.
- ◆ Leia cuidadosamente todas as questões e escolha a resposta que você considera correta.
- ◆ Marque, na folha de respostas, com caneta de tinta azul ou preta, a letra correspondente à alternativa que você escolheu.
- ◆ A duração da prova é de 3 horas e 30 minutos, já incluído o tempo para o preenchimento da folha de respostas.
- ◆ Só será permitida a saída definitiva da sala e do prédio após transcorridos 75% do tempo de duração da prova.
- ◆ Ao sair, você entregará ao fiscal a folha de respostas e este caderno, podendo levar apenas o rascunho de gabarito, localizado em sua carteira, para futura conferência.
- ◆ Até que você saia do prédio, todas as proibições e orientações continuam válidas.

**AGUARDE A ORDEM DO FISCAL PARA ABRIR ESTE CADERNO DE QUESTÕES.**

## CONHECIMENTOS GERAIS

### LÍNGUA PORTUGUESA

Leia o texto para responder às questões de números **01** a **06**.

#### *O fator sorte*

As pessoas mais inclinadas a buscar significados nos acontecimentos tendem de fato a encontrá-los, ainda que, para isso, tenham de subestimar as leis da probabilidade, no intuito de encontrar um maior número de “coincidências”, que atribuem à sorte.

Há alguns anos, o físico Richard A. J. Matthews estudou as chamadas leis de Murphy, a irônica suma do pessimismo resumida na máxima “se alguma coisa pode dar errado, dará”. Matthews investigou, em particular, por que uma fatia de pão com manteiga cai geralmente com o lado da manteiga para baixo. A prevalência da “falta de sorte” foi confirmada por um estudo experimental, patrocinado por um fabricante de manteiga: o aparente azar deve-se simplesmente à relação física entre as dimensões da fatia e a altura em que estava colocada.

São também explicáveis outros tipos de infortúnio, como o fato de que, quando duas meias soltas são retiradas da gaveta, geralmente elas não são do mesmo par. Além disso, tendemos a dar mais atenção a fatos rotineiros que nos frustram (como perder o ônibus por chegarmos ao ponto com segundos de atraso), em vez de contabilizar o grande número de ocasiões em que não tivemos contratempos. Essa atitude contribui para reforçar nossos preconceitos e nos fazer ignorar as leis da probabilidade.

O psicólogo Richard Wiseman, professor da Universidade de Hertfordshire, na Inglaterra, também conduziu um estudo interessante sobre os mecanismos relacionados à sorte. O projeto, financiado por várias instituições, entre as quais a Associação Britânica para o Avanço da Ciência, gerou um manual chamado “O fator sorte”, traduzido em mais de 20 idiomas.

Ele publicou um anúncio no jornal solicitando que pessoas particularmente sortudas ou azaradas entrassem em contato com ele para que seus comportamentos fossem analisados. Descobriu que cerca de 9% desses indivíduos podiam ser considerados azarados e 12% favorecidos pela sorte. Todos os outros entravam na média.

Wiseman deu aos participantes um jornal, solicitando que contassem as fotos impressas e prometendo um prêmio aos que o fizessem corretamente. Ora, o número solicitado estava gravado de forma evidente sobre uma das páginas, algo que muitos “azarados” não perceberam, pois estavam concentrados demais na tarefa.

A análise experimental dos traços de personalidade que distinguiam sortudos e azarados permitiu concluir que esses últimos são mais tensos e concentrados, ao passo que os sortudos tendem a considerar as coisas de forma mais relaxada, mas sem perder de vista o contexto geral. Assim, se considerarmos os dados coletados, ter sorte pode significar, pelo menos em parte, saber fazer boas escolhas e perceber as ocasiões mais vantajosas para si mesmo.

(Gláucia Leal. Disponível em: <http://blogs.estadao.com.br/pensar-psi/o-fator-sorte>. Adaptado)

- 01.** Na opinião da autora,
- (A) as situações de azar são mais frequentes para quem atua com displicência.
  - (B) os casos de boa ou má sorte devem ser interpretados como predestinação.
  - (C) a sorte relaciona-se à maneira de atribuir sentido e de reagir aos eventos.
  - (D) as pessoas consideradas sortudas são mais supersticiosas que as azaradas.
  - (E) o sortudo é aquele que realiza suas atividades com mais zelo e disposição.
- 02.** De acordo com o texto, as leis da probabilidade podem ser usadas para
- (A) mostrar que inexistem explicações para os infortúnios.
  - (B) ratificar que a sorte é capaz de alterar as leis da física.
  - (C) confirmar a ideia de que os acontecimentos são regidos pela imprevisibilidade.
  - (D) justificar a interpretação de que os fatos são fruto da sorte.
  - (E) questionar aquilo que muitos consideram ação da sorte.
- 03.** Assinale a alternativa em que os trechos entre colchetes estabelecem, entre si, uma relação de consequência e causa, respectivamente.
- (A) [por que uma fatia de pão com manteiga] [cai geralmente com o lado da manteiga para baixo]
  - (B) [quando duas meias soltas são retiradas da gaveta] [geralmente elas não são do mesmo par]
  - (C) [perder o ônibus] [por chegarmos ao ponto com segundos de atraso]
  - (D) [tendemos a dar mais atenção] [a fatos rotineiros que nos frustram]
  - (E) [análise experimental dos traços de personalidade] [que distinguiam sortudos e azarados]
- 04.** Assinale a alternativa que apresenta um sinônimo para o termo em destaque na frase a seguir.
- Essa atitude contribui para **reforçar** nossos preconceitos e nos fazer ignorar as leis da probabilidade. (3º parágrafo)
- (A) objetar
  - (B) corroborar
  - (C) concernir
  - (D) refutar
  - (E) inquirir

05. Ele publicou um anúncio no jornal solicitando que pessoas particularmente sortudas ou azaradas entrassem em contato com ele **para** que seus comportamentos fossem analisados. (5º parágrafo)

O termo destacado nessa passagem do texto expressa ideia de

- (A) proporção.
- (B) finalidade.
- (C) concessão.
- (D) conformidade.
- (E) conclusão.

06. O trecho do texto que se mantém correto e com a mensagem inalterada após o acréscimo da pontuação está em:

- (A) As pessoas mais inclinadas a buscar significados nos acontecimentos tendem de fato a encontrá-los... (1º parágrafo)

As pessoas, mais inclinadas a buscar significados nos acontecimentos, tendem de fato, a encontrá-los...

- (B) ... tendemos a dar mais atenção a fatos rotineiros que nos frustram... (3º parágrafo)

... tendemos a dar mais atenção, a fatos rotineiros, que nos frustram...

- (C) ... ter sorte pode significar, pelo menos em parte, saber fazer boas escolhas e perceber as ocasiões mais vantajosas para si mesmo. (7º parágrafo)

... ter sorte pode significar, pelo menos em parte, saber fazer boas escolhas e perceber, as ocasiões, mais vantajosas para si mesmo.

- (D) ... por que uma fatia de pão com manteiga cai geralmente com o lado da manteiga para baixo. (2º parágrafo)

... por que uma fatia de pão com manteiga cai, geralmente, com o lado da manteiga para baixo.

- (E) ... o número solicitado estava gravado de forma evidente sobre uma das páginas, algo que muitos “azarados” não perceberam... (6º parágrafo)

... o número solicitado, estava gravado de forma evidente sobre uma das páginas, algo que muitos, “azarados”, não perceberam...

07. A frase cujas formas verbais estão em conformidade com a norma-padrão da língua portuguesa é:

- (A) Os candidatos que se comprometeram com a pesquisa, de um modo geral, não eram nem sortudos nem azarados.
- (B) A quantidade das fotos que comporam o experimento não se mostrou tão relevante para o resultado do estudo.
- (C) Alguns candidatos não se ateram ao número das fotos que estava grafado em uma das páginas do jornal.
- (D) Muitos voluntários se dispuseram a participar da pesquisa, empenhando-se em cumprir suas tarefas.
- (E) Vários participantes se manteram concentrados nas fotos do jornal, ignorando um dado importante.

08. O acento indicativo de crase está empregado corretamente na frase:

- (A) A autora faz referência à contribuição de alguns estudiosos para o entendimento do que seja a sorte.
- (B) A autora atribui a sorte de algumas pessoas à uma tendência para buscar significados nos acontecimentos.
- (C) A autora faz uma crítica à algumas pessoas que consideram os fatos corriqueiros como fruto de sorte ou azar.
- (D) A autora recorre à pesquisas práticas para construir sua argumentação acerca da relação do homem com a sorte.
- (E) A autora recusa-se à crer que todos os fatos rotineiros que nos frustram sejam simples reflexos da sorte.

09. Considerando a norma-padrão da língua portuguesa, assinale a alternativa que completa, correta e respectivamente, as lacunas do texto.

As contratações públicas sustentáveis são aquelas em que \_\_\_\_\_ as aquisições de bens com especificações ou critérios mais sustentáveis ou eficientes, como o caso dos condicionadores de ar classe A. Para os casos de sistemas de ar condicionado mais eficientes, já \_\_\_\_\_ critérios que podem ser adotados para torná-los mais \_\_\_\_\_ .

(Disponível em: [www.comprasgovernamentais.gov.br](http://www.comprasgovernamentais.gov.br). Adaptado)

- (A) se prioriza ... existe ... sustentáveis
- (B) se priorizam ... existem ... sustentável
- (C) é priorizado ... existem ... sustentável
- (D) são priorizadas ... existe ... sustentáveis
- (E) são priorizadas ... existem ... sustentáveis

10. Assinale a alternativa que completa corretamente a frase seguinte, no que se refere ao emprego dos pronomes.

Prezados colaboradores, caso tenham sugestões para aprimorarmos nossos serviços, favor

- (A) encaminhá-las à diretoria, que se encarregará de analisá-las.
- (B) encaminhá-las à diretoria, que encarregar-se-á de analisar-lhes.
- (C) encaminhar-lhes à diretoria, que se encarregará de analisá-las.
- (D) encaminhar-lhes à diretoria, que se encarregará de analisar-lhes.
- (E) encaminhar-lhes à diretoria, que encarregar-se-á de analisá-las.

11. Em um clube de ciências, 52% dos membros são mulheres. Esse clube possui 22 pessoas na equipe de xadrez, composta por 15% dos membros masculinos e 20% dos membros femininos. Nessa equipe, o número de mulheres excede o de homens em
- (A) 1.  
(B) 2.  
(C) 3.  
(D) 4.  
(E) 5.
12. Todos os alunos do ensino médio de uma escola praticam esportes e cada aluno pratica ou futebol ou vôlei. A razão entre os números dos que praticam futebol e os que praticam vôlei é  $\frac{3}{7}$ . Após as férias de julho, 17 alunos que praticavam vôlei passaram a praticar futebol e a nova razão entre os números dos que praticam futebol e os que praticam vôlei passou a ser  $\frac{2}{3}$ . O número de alunos que após as férias praticam futebol é igual a
- (A) 64.  
(B) 66.  
(C) 68.  
(D) 70.  
(E) 72.
13. Um acampamento de escoteiros reuniu 72 representantes de uma cidade, 54 de outra e 84 de uma terceira cidade. Para uma das atividades, os escoteiros foram divididos no maior número de grupos possível, garantindo que em cada grupo todos fossem da mesma cidade e que todos os grupos tivessem o mesmo número de pessoas. O total de grupos assim formados é igual a
- (A) 5.  
(B) 7.  
(C) 35.  
(D) 70.  
(E) 105.
14. Um galpão será reformado e para essa tarefa foram alocadas 7 pessoas, com a mesma eficiência de trabalho, que trabalharam por 6 dias. Desejando-se acelerar a reforma, mais 7 pessoas, com a mesma eficiência de trabalho das anteriores, passaram a trabalhar do sétimo dia em diante, e a reforma levou no total 20 dias. Se desde o primeiro dia da reforma essas 14 pessoas estivessem trabalhando juntas, a reforma teria levado um total de dias igual a
- (A) 10.  
(B) 12.  
(C) 14.  
(D) 15.  
(E) 17.

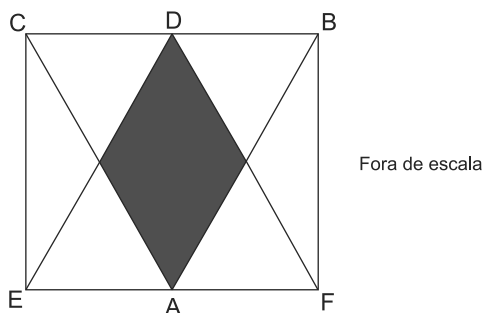
15. Uma família tem 9 irmãos e a média aritmética de suas idades é igual a 33 anos. A média aritmética das idades das irmãs dessa família é 38 anos e a média das idades dos irmãos 29 anos. A média das idades das irmãs e do irmão mais velho é igual a 39 anos, o que permite concluir que a idade, em anos, do irmão mais velho é igual a

- (A) 40.
- (B) 41.
- (C) 42.
- (D) 43.
- (E) 44.

16. Uma empresa oferece serviços de bufê, cobrando às sextas-feiras ou sábados o dobro do valor cobrado nos outros dias da semana, podendo trabalhar em mais de um evento em um mesmo dia. Em certo mês essa empresa foi contratada para 7 serviços em sextas-feiras, 13 em sábados, 20 em domingos e 10 em quartas-feiras, tendo recebido em média R\$ 980,00 por serviço prestado. O valor desse serviço de bufê às segundas-feiras é

- (A) R\$ 680,00.
- (B) R\$ 700,00.
- (C) R\$ 720,00.
- (D) R\$ 740,00.
- (E) R\$ 760,00.

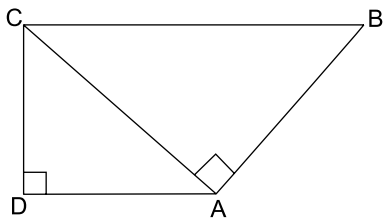
17. Os triângulos ABC e DEF são equiláteros e congruentes, com o vértice D pertencendo ao lado CB e o vértice A pertencendo ao lado EF. A intersecção desses triângulos forma um polígono de área  $1 \text{ cm}^2$ , sombreado na figura.



A área, em  $\text{cm}^2$ , do retângulo BCEF vale

- (A) 4.
- (B) 5.
- (C) 6.
- (D) 7.
- (E) 8.

18. O trapézio da figura é retângulo e a diagonal CA forma ângulo reto com o lado AB, conforme a figura.



- Se as bases desse trapézio medem 9 cm e  $\frac{145}{9}$  cm, sua área, em  $\text{cm}^2$ , vale aproximadamente
- (A) 100.  
(B) 120.  
(C) 140.  
(D) 160.  
(E) 180.
19. No último Natal cada um de meus irmãos comprou presentes de R\$ 50,00 para cada um dos irmãos. Eu mesmo comprei para cada um de meus irmãos presentes de R\$ 50,00 e juntos gastamos R\$ 6.600,00. O total de irmãos que somos é um número divisor de
- (A) 20.  
(B) 30.  
(C) 40.  
(D) 50.  
(E) 60.
20. O número de alunos dos três anos do ensino médio de uma escola é igual a 450. O dobro de alunos do terceiro ano é 20 a menos que o número de alunos do primeiro ano. A metade dos alunos do primeiro ano é 20 a menos que o número de alunos do segundo ano. A diferença de alunos entre os dois anos com menos alunos desse ensino médio é igual a
- (A) 25.  
(B) 30.  
(C) 35.  
(D) 40.  
(E) 45.

## ATUALIDADES

21. Agora é oficial: o desmatamento na Amazônia disparou em agosto e setembro [2014]. Foram devastados 1.626 km<sup>2</sup> de florestas, um crescimento de 122% sobre os mesmos dois meses de 2013.

As análises mensais do sistema de alertas de desmatamento Deter estavam prontas pelo menos desde 14 de outubro no Inpe (Instituto Nacional de Pesquisas Espaciais). Em agosto, foram desmatados 890,2 km<sup>2</sup>, um salto de 208% sobre os 288,6 km<sup>2</sup> do mesmo mês de 2013. Em setembro foram 736 km<sup>2</sup>, 66% mais que no ano passado.

(<http://www1.folha.uol.com.br/ambiente/2014/11/1544688-desmatamento-na-amazonia-dispara-em-agosto-e-setembro.shtml>. Adaptado)

Um dos fatores responsáveis pelo aumento do desmatamento foi

- (A) a construção de hidrelétricas.
- (B) a abertura de uma ferrovia.
- (C) o reinício das obras da BR-163.
- (D) a redução de terras indígenas.
- (E) a expansão da agropecuária.

22. A questão está relacionada à imagem de 07.11.2014.

### LONGA CAMINHADA



**Obama em direção à Casa Branca: para os rivais, o governo está sem rumo.**

(<http://www.istoe.com.br/reportagens/391383>)

Barack Obama tem passado por sérios problemas políticos que têm aumentado sua impopularidade. Exemplo desse fato ocorreu em novembro de 2014, quando Obama

- (A) deixou de opinar sobre a libertação do policial que matou acidentalmente um jovem negro no estado sulino do Mississippi.
- (B) sofreu forte derrota, pois o partido Republicano, de oposição, conquistou a maioria do Senado e ampliou sua liderança na Câmara dos Representantes.
- (C) priorizou a política externa estadunidense mantendo tropas no Afeganistão e, portanto, aumentando as despesas militares.
- (D) promoveu a regularização do trabalho de milhões de imigrantes asiáticos que concorrem com a mão de obra dos trabalhadores estadunidenses.
- (E) negou apoio à Ucrânia, que luta contra as investidas russas em seu território, o que gerou, entre os estadunidenses, o temor de uma nova Guerra Fria.

23. O escritor paraibano morreu nesta quarta-feira [23/07], aos 87 anos. Integrante da Academia Brasileira de Letras, ele era defensor da cultura popular brasileira, e um dos maiores dramaturgos do país, além de autor de romances e poemas. O *Auto da compadecida* é uma de suas obras mais conhecidas.

(<http://oglobo.globo.com/cultura/livros/morre-aos-87-anos-escritor-cavaleiro-do-sertao-13341934>)

Trata-se de

- (A) Ariano Suassuna.
- (B) Ivan Mesquita.
- (C) Rubem Alves.
- (D) João Ubaldo Ribeiro.
- (E) Paulo Leminski.

24. No âmbito das relações internacionais, o Brasil participa do **G20** desde sua fundação e, em novembro, ocorreu um evento que reuniu o Grupo e contou com a participação da presidente Dilma Rousseff, logo após sua reeleição. Leia a notícia.

*A reunião de 2014 do chamado G-20, em 15 e 16 de novembro na Austrália, pouco produziu em termos de resoluções concretas e factíveis. [...] Na reunião deste ano houve a manifestação de profundas preocupações com a garantia do emprego e de melhores condições de vida das pessoas.*

(<http://www.teoriaedebate.org.br/colunas/mundo/cupula-do-g-20-na-australia>)

Sobre o G20, é correto afirmar que

- (A) tem se caracterizado pela formação de uma frente de oposição às grandes instituições financeiras, como o FMI.
- (B) é composto por países que têm em comum o agronegócio e as exportações de *commodities* de alto valor econômico.
- (C) é uma força geopolítica mais forte que a Otan, pois suas recentes ações neutralizaram o conflito entre Israel e Palestina.
- (D) é formado por países desenvolvidos e por emergentes que se reúnem para discutir problemas socioeconômicos globais.
- (E) se mantém como grupo de oposição à ONU e periodicamente faz pressão para mudanças no Conselho de Segurança da organização.

25. O desahequeimento da economia brasileira não é exceção mundial e, nos dois primeiros trimestres de 2014, a variação negativa do PIB é indiscutível.

(Carta Capital, Ano XX, nº 818. 10.set.2014. Adaptado)

Na observação de especialistas, o Brasil está em

- (A) recessão profunda porque o PIB negativo provocou déficits na balança comercial e aumento da dívida externa.
- (B) estagnação porque deixou de importar produtos primários e manufaturados necessários para o setor manufatureiro interno.
- (C) recessão técnica pois, apesar da queda do PIB, o desemprego é baixo e não houve redução da massa salarial.
- (D) estagnação pois a queda do PIB relaciona-se às fracas exportações e à incapacidade de o país saldar seus débitos.
- (E) inadimplência porque não tem conseguido manter o nível de emprego nem de investimento nos setores sociais e de infraestrutura.

### NOÇÕES DE INFORMÁTICA


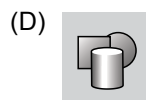

26. Em uma planilha do MS- Excel 2010, a partir da sua configuração padrão, utilizada por uma empresa de cobrança para controlar as pessoas devedoras, como ilustra a figura, a coluna A contém o nome do devedor, a coluna B contém o RG do devedor, a coluna C contém o montante a receber e a coluna D informa se foi pago: N para Não e S para Sim.

	A	B	C	D
1	Empresa de Cobrança Só Calote			
2	Nome do Devedor	RG	Valor	Pago (S/N)
3	Alexandre Bueno	1111111111	R\$ 2.500,00	S
4	Benedito Suqueira	2222222222	R\$ 1.250,00	S
5	Clodoaldo Nunes	3333333333	R\$ 850,00	N
6	Flavia Oliveira	4444444444	R\$ 690,00	N
7	Paula Flores	5555555555	R\$ 3.500,00	S
8	Rogério Caldas	6666666666	R\$ 1.300,00	S
9				
10		Total Pago	R\$ 8.550,00	
11				

A fórmula a ser aplicada na célula C10 para calcular o Valor Total que os devedores pagaram é

- (A) =SOMASE(D3:D8;"S";C3:C8)
- (B) =SOMASE(C3:C8;"S";D3:D8)
- (C) =SOMASE(D3:D8;"S";C3:C8)
- (D) =SOMASES(B2:B8;C2:C10;"S";D2:D8)
- (E) =SOMASES(C2:C8;"S";B2:B8)

27. No MS-Word 2010, na sua configuração padrão, no guia "Inserir", o ícone que permite incluir uma imagem é

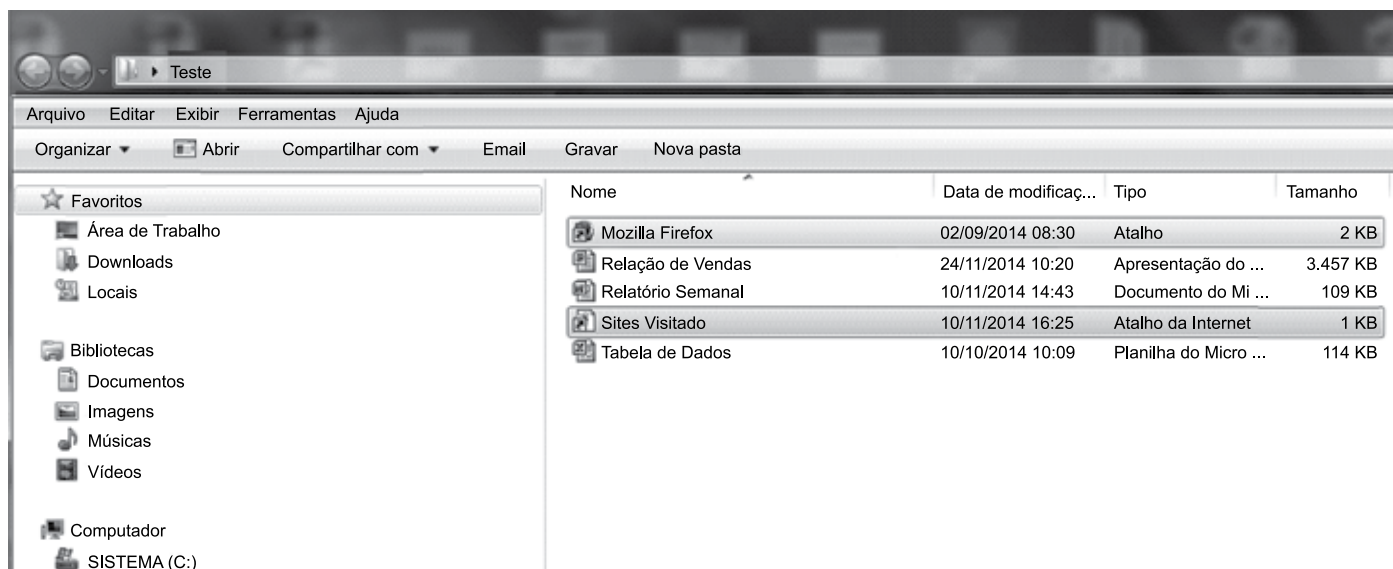


28. Com relação ao e-mail, assinale a alternativa que apresenta um endereço eletrônico válido.

- (A) feliz.da.silva@@hotmail.com
- (B) nível-@ gmail.com
- (C) www.terra.com.br
- (D) verdade.gmail.com
- (E) duvida@empresa1.com



29. No Windows Explorer do Windows 7, na sua configuração padrão, apresenta o conteúdo de uma pasta chamada “Teste”, conforme ilustra a figura.




O conteúdo da pasta “Teste” apresenta dois atalhos, uma planilha do Excel 2010, uma apresentação do PowerPoint 2010 e um documento do Word 2010.

Analisando a figura, assinale a alternativa cuja afirmação é correta.

- (A) Para selecionar os dois atalhos usando o mouse, a tecla Alt precisa estar pressionada durante a seleção.
- (B) Para selecionar os dois atalhos usando o mouse, a tecla Esc precisa estar pressionada durante a seleção.
- (C) Para selecionar os dois atalhos usando o mouse, a tecla Tab precisa estar pressionada durante a seleção.
- (D) Para selecionar os dois atalhos usando o mouse, a tecla Ctrl precisa estar pressionada durante a seleção.
- (E) Para selecionar os dois atalhos usando o mouse, a tecla F1 precisa estar pressionada durante a seleção.

30. No MS-PowerPoint 2010, a partir da sua configuração padrão, no guia “Apresentação de Slides”, existe um grupo que contém vários ícones, conforme é ilustrado na figura.



Assinale a alternativa que contém o nome desse grupo.

- (A) Monitores.
- (B) Configurar.
- (C) Iniciar Apresentação de Slides.
- (D) Opções.
- (E) Testar Apresentação.

## CONHECIMENTOS ESPECÍFICOS

### DIREITO CONSTITUCIONAL

31. A respeito das leis previstas na Constituição Federal, é correto afirmar que
- (A) uma das distinções entre lei ordinária e lei complementar é que esta trata de matéria reservada a elas especificamente, enquanto que o campo material da primeira é residual.
  - (B) a iniciativa popular pode ser exercida pela apresentação ao Senado de projeto de lei subscrito por, no mínimo, um por cento do eleitorado, distribuído pelo menos por três Estados, com não menos de três décimos por cento dos eleitores de cada um deles.
  - (C) a discussão e votação dos projetos de lei de iniciativa do Presidente da República, do Supremo Tribunal Federal e dos Tribunais Superiores terão início no Senado Federal.
  - (D) não serão objeto de delegação os atos de competência exclusiva do Congresso Nacional, os de competência privativa da Câmara dos Deputados ou do Senado Federal e a matéria reservada à lei ordinária.
  - (E) assim como há hierarquia entre lei estadual e federal, há também hierarquia entre lei ordinária e lei complementar.
32. A Constituição Federal estabelece como regra imperativa a publicidade dos atos processuais. Nesse sentido, é correto afirmar que essa regra
- (A) não admite restrições.
  - (B) admite restrições a serem estabelecidas por decreto.
  - (C) não admite restrições, a não ser a critério do juiz no caso concreto.
  - (D) admite restrições legais, sendo uma delas a defesa da intimidade.
  - (E) admite restrições legais, sendo uma delas o interesse da Administração Pública.
33. Assinale a alternativa que contempla uma hipótese constitucional ensejadora da intervenção do Estado no Município.
- (A) Não aplicação do mínimo exigido da receita municipal na manutenção e desenvolvimento do ensino e nas ações e serviços de segurança pública.
  - (B) Quando não forem prestadas contas devidas, na forma da lei.
  - (C) Deixar de ser paga, sem motivo de força maior, por seis meses consecutivos, a dívida fundada.
  - (D) Grave comprometimento da ordem pública que exija intervenção de força policial necessária para restabelecer a ordem.
  - (E) Situação que venha a impedir livre exercício de qualquer dos Poderes nas unidades da Federação.
34. Determinado Ministro de Estado recebeu pedido de informações da Mesa da Câmara dos Deputados para prestar esclarecimento sobre assunto de interesse público. O Ministro respondeu à Mesa da Câmara somente sessenta dias após ter recebido o referido pedido de informações. Nessa hipótese, conforme estabelece a Constituição Federal, é correto afirmar que o Ministro
- (A) não poderá sofrer qualquer punição, tendo em vista que respondeu o pedido da mesa dentro do prazo previsto na Constituição Federal.
  - (B) somente sofrerá alguma punição se prestou informação falsa.
  - (C) ficará sujeito a responder pelo crime de responsabilidade por ter atendido o pedido fora do prazo previsto no texto constitucional.
  - (D) não poderá sofrer qualquer punição, uma vez que a Mesa da Câmara dos Deputados não tem poder punitivo.
  - (E) não poderá sofrer punição, pois, embora tenha respondido fora do prazo, a Constituição não prevê penalidade nessa hipótese.
35. Considerando o que dispõe a Constituição Federal sobre direitos políticos, é correto afirmar que a condenação criminal transitada em julgado
- (A) suspende os direitos políticos do condenado, enquanto durarem seus efeitos.
  - (B) acarreta a cassação dos direitos políticos do réu.
  - (C) não atinge os direitos políticos do condenado.
  - (D) tem por consequência a perda definitiva dos direitos políticos do réu.
  - (E) permite ao condenado recorrer da decisão e continuar a exercer normalmente os seus direitos políticos.
36. Assinale a alternativa correta a respeito das normas constitucionais que regem o controle de constitucionalidade de leis e atos normativos no direito brasileiro.
- (A) O Advogado-Geral da União deverá ser previamente ouvido nas ações de inconstitucionalidade e em todos os processos de competência do Supremo Tribunal Federal.
  - (B) As decisões de mérito, proferidas pelo Supremo Tribunal Federal, nas ações diretas de inconstitucionalidade produzirão eficácia contra todos e efeito vinculante, relativamente aos demais órgãos do Poder Judiciário e do Poder Legislativo.
  - (C) Declarada a inconstitucionalidade por omissão de medida para tornar efetiva norma constitucional, será dada ciência ao Poder competente para a adoção das providências necessárias e, em se tratando de órgão legislativo, para fazê-lo em trinta dias.
  - (D) Quando o Supremo Tribunal Federal apreciar a inconstitucionalidade, em tese, de norma legal ou ato normativo, citará, previamente, o Procurador-Geral da República, que defenderá o ato ou texto impugnado.
  - (E) O Governador do Estado é um dos legitimados a propor a ação direta de inconstitucionalidade e a ação declaratória de constitucionalidade.

37. Analise os seguintes excertos dos dispositivos extraídos do texto constitucional:

- I. A lei orçamentária anual não conterá dispositivo estranho à previsão da receita e à fixação da despesa, não se incluindo na proibição a autorização para abertura de créditos suplementares e contratação de operações de crédito, ainda que por antecipação de receita, nos termos da lei.
- II. É vedada a vinculação de receita de impostos a órgão, fundo ou despesa.

Essas normas veiculam princípios constitucionais orçamentários, que são, respectivamente, denominados de

- (A) Legalidade e Vedação do confisco.
- (B) Exclusividade e da Não afetação.
- (C) Universalidade e Unidade.
- (D) Anualidade e Não vinculação.
- (E) Não vinculação e Não afetação.

### DIREITO ADMINISTRATIVO

38. A Administração Pública não pode, por simples ato administrativo, conceder direitos de qualquer espécie, criar obrigações ou impor vedações aos Administrados. Tal afirmação decorre da aplicação do princípio constitucional do direito administrativo da

- (A) supremacia do interesse público.
- (B) impessoalidade.
- (C) presunção de legitimidade ou de veracidade.
- (D) legalidade.
- (E) continuidade do serviço público.

39. Servidor público X do Município de Caieiras é ocupante de cargo comissionado de assessoramento na Secretaria Municipal de Meio Ambiente. Decorridos dois anos da nomeação, X é exonerado *ad nutum*, com motivação expressa, constante de publicação em diário oficial, de redução de gastos da Administração Pública para atendimento dos limites da Lei de Responsabilidade Fiscal. No dia seguinte a tal publicação, nova publicação é efetuada, nomeando-se outra pessoa para a vaga ocupada por X. Sobre tais fatos, é correto afirmar que a exoneração de X é

- (A) anulável, cabendo somente a X, como interessado, pleitear o desfazimento do ato, pois a Administração não pode rever de ofício atos viciados.
- (B) nula, pois houve vício quanto ao motivo, sendo aplicável da teoria dos motivos determinantes, pela qual a validade do ato se vincula aos motivos indicados como fundamento.
- (C) ato jurídico perfeito, pois X era ocupante de cargo comissionado, que pressupõe a exoneração imotivada a qualquer momento.
- (D) regular, já que a finalidade pública do ato foi corretamente alcançada, que era o resultado pretendido de retirar dos quadros da Administração o servidor X, sendo irrelevante a motivação apresentada.
- (E) válida, pois a exoneração de servidores públicos comissionados é ato discricionário, para os quais não é necessária a motivação, sendo, portanto, o motivo apontado irrelevante para o aperfeiçoamento do ato.

40. Considerando que a lei prevê como feriado municipal o dia 20 de novembro, denominado Dia da Consciência Negra, o Prefeito Municipal de Caieiras decide contratar artistas negros para a realização de um espetáculo cultural. Para viabilizar tal contratação, a Administração Pública

- (A) não está obrigada a licitar, pois se trata de hipótese de contratação de serviços técnicos enumerados na Lei Federal nº 8.666/93, de natureza singular, com profissionais ou empresas de notória especialização.
- (B) será obrigada a licitar, na modalidade de licitação de concurso, cabível entre quaisquer interessados para escolha de trabalho técnico, científico ou artístico, mediante a instituição de prêmios ou remuneração aos vencedores.
- (C) deverá licitar, pela modalidade convite, pela qual interessados do ramo pertinente ao seu objeto, cadastrados ou não, serão escolhidos e convidados em número mínimo de 3 (três) pela unidade administrativa.
- (D) poderá realizar contratação direta, pois é dispensável a licitação para contratação de profissional de qualquer setor artístico, diretamente ou através de empresário exclusivo, desde que consagrado pela crítica especializada ou pela opinião pública.
- (E) não precisará licitar, já que é inexigível a licitação para contratação de profissional de qualquer setor artístico, diretamente ou através de empresário exclusivo, desde que consagrado pela crítica especializada ou pela opinião pública.

41. Servidor público municipal, ocupante do cargo de motorista, causa acidente com veículo pertencente ao patrimônio público do Município. Verifica-se que o servidor concorreu para o acidente com dolo, por ter deliberadamente avançado em sinal vermelho. A fim de promover o devido ressarcimento dos prejuízos, a Administração Pública

- (A) deverá promover a responsabilização processual administrativa, não podendo realizar descontos diretos nos vencimentos do servidor, cabendo à Administração postular perante o Poder Judiciário o sequestro dos bens necessários ao ressarcimento do dano.
- (B) não poderá promover medidas de ressarcimento face ao servidor, em razão do vínculo jurídico estatutário, podendo, no entanto, emprestar ao terceiro prejudicado as provas produzidas em processo administrativo, para que este possa acionar o servidor que causou o dano e ser ressarcido.
- (C) pode descontar dos vencimentos do servidor a importância necessária ao ressarcimento dos prejuízos, pela autoexecutoriedade dos atos administrativos, respeitado, no entanto, o limite mensal legal, com vistas à preservação do caráter alimentar dos salários.
- (D) deverá representar ao Ministério Público e à Polícia Civil, para que sejam promovidos, os inquéritos civil e criminal, respectivamente, a fim de que as conclusões de qualquer um destes sejam utilizadas em ação civil de reparação contra o servidor.
- (E) considerando a incomunicabilidade e a dependência das instâncias, deverá aguardar a sentença criminal condenatória para promover o ressarcimento administrativo e, havendo sentença absolutória, por qualquer fundamento, o servidor ficará eximido do dever de indenizar.

42. Assinale a alternativa que corretamente discorre sobre serviços públicos.
- (A) Serviço público comercial ou industrial é aquele que a Administração Pública executa, direta ou indiretamente, para atender às necessidades coletivas de ordem econômica, como transportes.
  - (B) Os serviços públicos impróprios são aqueles que, atendendo a necessidades coletivas, o Estado assume como seus e os executa diretamente ou indiretamente, por meio de concessionários e permissionários.
  - (C) Serviços *uti singuli* são aqueles prestados à coletividade, mas usufruídos apenas indiretamente pelos indivíduos, como a iluminação pública, a defesa do país ou o saneamento básico.
  - (D) Os serviços públicos próprios são aqueles que correspondem a atividades privadas que são autorizados, regulamentados e fiscalizados pelo Poder Público, mas não são assumidos ou prestados pelo Estado.
  - (E) O princípio da mutabilidade do regime jurídico dos serviços públicos determina que o serviço público não pode parar, sendo aplicado em relação aos contratos administrativos e ao exercício da função pública.
43. Quanto ao controle exercido pelo Poder Judiciário em relação às atividades da Administração Pública, é correto afirmar que, nos termos da Constituição Federal, contra ato administrativo que contrariar súmula vinculante ou que indevidamente a aplicar caberá
- (A) mandado de segurança contra tal ato do agente público, com a competência originária definida para primeira ou segunda instância, de acordo com o cargo ocupado pelo agente.
  - (B) ação popular, ajuizada por qualquer cidadão, sem necessidade de comprovação de interesse *ad causam* ou da lesividade do ato administrativo impugnado.
  - (C) reclamação ao Supremo Tribunal Federal que, se acolhê-la, anulará o ato administrativo e determinará que outro seja praticado.
  - (D) ação civil pública, a ser ajuizada exclusivamente pelo Ministério Público, a quem o interessado ou prejudicado pelo ato poderá representar, por não possuir legitimidade *ad causam*.
  - (E) exercício do direito de petição, recorrendo perante a Administração Pública que praticou o ato impugnado e, concomitantemente, deverá ser o Poder Judiciário acionado pelo interessado.
44. Servidor Público Municipal de Caieiras sofre processo administrativo disciplinar, em razão de sucessivas faltas, e o relatório da comissão processante recomenda a punição do servidor, com a aplicação da pena disciplinar de demissão. Ao ser remetido o processo ao Prefeito Municipal, verifica-se que o servidor não foi assistido por advogado. Neste caso, deve o Prefeito Municipal
- (A) anular o processo administrativo disciplinar e determinar o refazimento de todos os atos, iniciando-se com o apontamento de defensor *ad hoc* para o servidor, por violação do contraditório e da ampla defesa.
  - (B) representar perante o Poder Judiciário, para que o processo administrativo seja remetido à via judicial para apresentação de defesa pela Defensoria Pública, podendo, a seguir, o juiz decidir ou não pela aplicação da pena disciplinar.
  - (C) solicitar à Ordem dos Advogados do Brasil, Seção São Paulo, Subseção Caieiras, a indicação de advogado para atuar como defensor do servidor, apresentando, no prazo legal, alegações finais, após as quais, poderá decidir sobre a aplicação ou não da pena.
  - (D) designar, dentre servidores públicos municipais, bacharel em direito devidamente habilitado para advogar na defesa do servidor, e determinar que a comissão processante refaça apenas os atos instrutórios do processo.
  - (E) considerando que a falta de defesa técnica por advogado no processo administrativo disciplinar não anula o processo de *per se*, se houver sido garantidas a ampla defesa e o contraditório, impor a pena disciplinar cabível.

#### DIREITO CIVIL

45. Entende-se por antinomia a contradição entre leis. Tal situação ocorre com frequência, havendo a necessidade de solução da antinomia, para que a contradição seja sanada. Dentre os critérios existentes, há o critério da especialidade, que consiste na
- (A) aplicação da norma posterior, que deve prevalecer sobre a norma anterior.
  - (B) aplicação integrativa entre as normas conflitantes, a critério do julgador.
  - (C) aplicação da norma que dispõe de modo mais específico sobre o tema.
  - (D) utilização da equidade para solução da lide.
  - (E) aplicação da norma hierarquicamente superior.

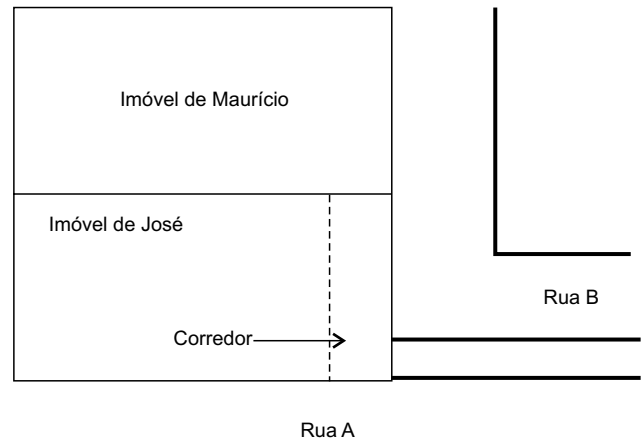
46. Assinale a alternativa correta sobre a validade do negócio jurídico, de acordo com o Código Civil de 2002.

- (A) A validade do negócio jurídico requer agente plenamente capaz, sendo nulo aquele realizado pelo menor púbere.
- (B) O negócio jurídico simulado é válido e produz efeitos até que sua anulação seja determinada por sentença.
- (C) É anulável o negócio jurídico cujo objeto seja indeterminado, mas determinável, desde que a anulação seja pleiteada enquanto for indeterminado.
- (D) Os negócios jurídicos viciados por erro, dolo, coação ou estado de perigo são anuláveis, inexistindo prazo decadencial para pleitear a anulação.
- (E) A invalidade do instrumento não induz imediatamente na invalidade do negócio jurídico, desde que este possa ser provado por outro meio.

47. Assinale a alternativa correta sobre os atos ilícitos.

- (A) O abuso do direito constitui ato ilícito, independentemente da existência de culpa ou dolo do agente.
- (B) O ato ilícito não pode decorrer de omissão voluntária do sujeito.
- (C) Para que a lesão à personalidade constitua ato ilícito, deve haver específica previsão legal, determinando que a conduta do ofensor causa esta espécie de dano.
- (D) A lesão à pessoa, a fim de remover perigo iminente, não afasta a ilicitude do ato.
- (E) No âmbito civil, o ato ilícito decorre tão somente de ato doloso, não abrangendo atos culposos, sem intenção do resultado.

48. Maurício é proprietário de um imóvel que possui saída para a Rua B, mas não possui para a Rua A. O imóvel de José, seu vizinho, possui saída para ambas as ruas, facilitando o acesso a determinados pontos da cidade. A situação pode ser graficamente demonstrada do seguinte modo:



Maurício procurou José para propor que pudesse usar, de modo contínuo, um corredor da propriedade de José, permitindo assim que Maurício se beneficiasse da comodidade de acessar diretamente a Rua A. Estando as partes de acordo, resolveram formalizar, juridicamente, a possibilidade de Maurício utilizar o corredor que dá acesso direto à Rua A. Para a formalização do combinado, deverão as partes valerem-se do instituto

- (A) da passagem forçada.
- (B) do direito real de superfície.
- (C) do usufruto.
- (D) da servidão.
- (E) do direito real de uso.

49. Assinale a alternativa correta sobre o instituto da solidariedade, no contexto do direito das obrigações.

- (A) A solidariedade, ativa ou passiva, pode decorrer de presunção, quando assim permitirem as circunstâncias do negócio.
- (B) A solidariedade ativa decorre exclusivamente da lei e a passiva decorre da lei ou da vontade das partes.
- (C) A solidariedade passiva decorre da lei ou da vontade das partes.
- (D) A solidariedade, ativa ou passiva, decorre exclusivamente da lei.
- (E) A solidariedade ativa decorre exclusivamente da lei e a passiva decorre exclusivamente da vontade das partes.

50. Assinale a alternativa correta sobre o inadimplemento das obrigações, suas consequências e peculiaridades.
- (A) Em regra, responde o devedor pelos prejuízos resultantes de caso fortuito ou força maior.
  - (B) Havendo mora por parte do credor, fica o devedor isento da responsabilidade pela conservação da coisa, salvo se agir com intenção de prejudicar o credor.
  - (C) Para que haja mora por parte do devedor, deve este ser interpelado, pela via judicial ou extrajudicial, ainda que a obrigação seja positiva, líquida e com termo final definido.
  - (D) No direito brasileiro, as perdas e danos não abrangem os lucros cessantes, limitando-se ao dano emergente, incluindo a compensação por lesão à personalidade e o dano estético.
  - (E) O valor da cominação imposta em cláusula penal pode exceder o valor da obrigação principal, ressalvada a possibilidade de redução equitativa pelo juiz.
51. Nos contratos de adesão regulados pela legislação civil diversa da relação de consumo, as cláusulas ambíguas ou contraditórias
- (A) são nulas de pleno direito.
  - (B) serão interpretadas do modo mais favorável ao estipulante.
  - (C) serão consideradas como não escritas.
  - (D) serão interpretadas do modo mais favorável ao adquirente.
  - (E) são anuláveis, a requerimento da parte.

#### DIREITO FINANCEIRO

52. As normas relativas ao controle de custos e à avaliação dos resultados dos programas financiados com recursos dos orçamentos é matéria, dentre outras, cuja disposição cabe à lei
- (A) de diretrizes orçamentárias.
  - (B) do plano plurianual.
  - (C) geral do orçamento.
  - (D) do orçamento anual.
  - (E) de responsabilidade fiscal.
53. Nos termos da Lei Complementar nº 101/00, as operações de crédito de prazo inferior a doze meses, cujas receitas tenham constado do orçamento, integram
- (A) a dívida pública mobiliária.
  - (B) a dívida pública consolidada.
  - (C) a contraprestação de garantia.
  - (D) a concessão de garantia.
  - (E) o refinanciamento da dívida mobiliária.

54. As dotações para o planejamento e a execução de obras, inclusive as destinadas à aquisição de imóveis considerados necessários à realização destas últimas, bem como para os programas especiais de trabalho, aquisição de instalações, equipamentos e material permanente e constituição ou aumento do capital de empresas que não sejam de caráter comercial ou financeiro, classificam-se, de acordo com a Lei nº 4.320/64, como
- (A) Inversões Financeiras.
  - (B) Investimentos.
  - (C) Transferências de Capital.
  - (D) Transferências Correntes.
  - (E) Despesas de Custeio.
55. Os créditos adicionais destinados a despesas para as quais não haja dotação orçamentária específica são classificados como
- (A) suplementares.
  - (B) complementares.
  - (C) extraordinários.
  - (D) especiais.
  - (E) excepcionais.

#### LEGISLAÇÃO ESPECÍFICA

56. Conforme dispõe o Manual de Cerimonial da Presidência da República (Decreto nº 70.274/72), em igualdade de categoria, a precedência, em cerimônias de caráter federal, será a seguinte:
- (A) 1º as autoridades e os funcionários da União; 2º os estrangeiros; 3º as autoridades e os funcionários estaduais e municipais.
  - (B) 1º os estrangeiros; 2º as autoridades e os funcionários da União; 3º as autoridades e os funcionários estaduais e municipais.
  - (C) 1º as autoridades e os funcionários da União; 2º as autoridades e os funcionários estaduais e municipais; 3º os estrangeiros.
  - (D) 1º os estrangeiros; 2º as autoridades e os funcionários estaduais e municipais; 3º as autoridades e os funcionários da União.
  - (E) 1º as autoridades e os funcionários estaduais e municipais; 2º as autoridades e os funcionários da União; 3º os estrangeiros.

- 57.** Sobre a readmissão prevista na Lei Municipal nº 2.418/1994, é correto afirmar que
- (A) se fará por ato administrativo e dependerá de prova de capacidade, mediante exame médico.
  - (B) será feita quando insubsistentes as razões que determinaram a aposentadoria.
  - (C) é o retorno, a cargo público, de funcionário colocado em disponibilidade.
  - (D) é o reingresso do funcionário estável no serviço público municipal em virtude de decisão judicial transitada em julgado.
  - (E) é a passagem do funcionário de um determinado grau para o imediatamente superior, da mesma classe.
- 58.** Ana e Beto são funcionários públicos da Câmara Municipal de Caieiras. Ana está se casando oficialmente e Beto está em luto em virtude do falecimento do seu tio. Segundo a Lei Municipal nº 2.418/1994, nessas hipóteses, é correto afirmar que
- (A) Ana tem direito a um período de afastamento de até 10 dias considerado de efetivo exercício e Beto, de até 5 dias, também considerado de efetivo exercício.
  - (B) Ana tem direito a um período de afastamento de até 8 dias considerado de efetivo exercício e Beto, de até 4 dias, também considerado de efetivo exercício.
  - (C) Ana tem direito a um período de afastamento de até 8 dias considerado de efetivo exercício e Beto não terá direito a afastamento, nesse caso, em razão do parentesco do falecido.
  - (D) Ana tem direito a um período de afastamento de até 8 dias considerado de efetivo exercício e Beto, de até 2 dias, também considerado de efetivo exercício.
  - (E) Ana tem direito a um período de afastamento de até 8 dias e Beto, de até 2 dias, mas nenhum deles será considerado de efetivo exercício.
- 59.** Assinale a alternativa que está em conformidade com a Lei Orgânica do Município de Caieiras.
- (A) A lei complementar de criação da guarda municipal estabelecerá a organização e competência dessa força auxiliar na proteção dos bens, serviços e instalações municipais, bem como do serviço de segurança pública de bens e pessoas.
  - (B) Estabelecer e implantar política de educação para a segurança do trânsito é uma competência privativa do Município.
  - (C) O número de vereadores à Câmara Municipal de Caieiras será de 19 (dezenove), observado o que dispõe o inciso IV, do artigo 29, da Constituição Federal.
  - (D) Na Sessão Legislativa Extraordinária, a Câmara Municipal somente deliberará sobre a matéria para a qual foi convocada, vedado qualquer tipo de pagamento de parcela indenizatória.
  - (E) O Prefeito e o Vice-Prefeito, quando no exercício do cargo, não poderão, sem licença da Câmara Municipal, ausentar-se do Município por período superior a 15 (quinze) dias, sob pena de perda do cargo ou de mandato.
- 60.** Nos termos do que prevê, expressamente, o Regimento Interno da Câmara Municipal de Caieiras, com a finalidade de apurar infrações político-administrativas do Prefeito e dos Vereadores no desempenho de suas funções, e nos termos fixados da Legislação Federal pertinente, serão constituídas as Comissões
- (A) Parlamentares de Inquérito.
  - (B) Parlamentares Mistas de Inquérito.
  - (C) de Investigação e Processante.
  - (D) Temporárias de Punição.
  - (E) Legislativas de Deliberação.

