

Colégio
00001Sala
0001Ordem
0001

Dezembro/2015



DEFENSORIA PÚBLICA DO ESTADO DE RORAIMA

Concurso Público para provimento de cargos de Engenheiro Civil

Nome do Candidato

Caderno de Prova 'G07', Tipo 001

Nº de Inscrição

MODELO

Nº do Caderno

TIPO-001

Nº do Documento

0000000000000000

ASSINATURA DO CANDIDATO

PROVA

Conhecimentos Básicos
Conhecimentos Específicos
Discursiva-Redação

INSTRUÇÕES

Quando autorizado pelo fiscal de sala, transcreva a frase ao lado, com sua caligrafia usual, no espaço apropriado na Folha de Respostas.

Investir em aprender pagará dividendos por toda a vida pessoal.

INSTRUÇÕES

- Verifique se este caderno:
 - corresponde a sua opção de cargo.
 - contém 60 questões, numeradas de 1 a 60.
 - contém a proposta e o espaço para o rascunho da Prova Discursiva-Redação.Caso contrário, reclame ao fiscal da sala um outro caderno.
Não serão aceitas reclamações posteriores.
- Para cada questão existe apenas UMA resposta certa.
- Leia cuidadosamente cada uma das questões e escolha a resposta certa.
- Essa resposta deve ser marcada na FOLHA DE RESPOSTAS que você recebeu.

VOCÊ DEVE

- Procurar, na FOLHA DE RESPOSTAS, o número da questão que você está respondendo.
- Verificar no caderno de prova qual a letra (A,B,C,D,E) da resposta que você escolheu.
- Marcar essa letra na FOLHA DE RESPOSTAS, conforme o exemplo: (A) ● (C) (D) (E)
- Ler o que se pede na Prova Discursiva-Redação e utilizar, se necessário, o espaço para rascunho.

ATENÇÃO

- Marque as respostas com caneta esferográfica de material transparente de tinta preta ou azul. Não será permitido o uso de lápis, lapiseira, marca-texto, borracha ou líquido corretor de texto durante a realização da prova.
- Marque apenas uma letra para cada questão, mais de uma letra assinalada implicará anulação dessa questão.
- Responda a todas as questões.
- Não será permitida qualquer espécie de consulta.
- Em hipótese alguma o rascunho da Prova Discursiva-Redação será corrigido.
- Você deverá transcrever sua Prova Discursiva-Redação, a tinta, na folha apropriada.
- A duração da prova é de 4 horas e 30 minutos, para responder a todas as questões objetivas, preencher a Folha de Respostas e fazer a Prova Discursiva-Redação (rascunho e transcrição).
- Ao término da prova, chame o fiscal da sala e devolva todo o material recebido.
- Proibida a divulgação ou impressão parcial ou total da presente prova. Direitos Reservados.



CONHECIMENTOS BÁSICOS

Língua Portuguesa

Atenção: Para responder às questões de números 1 a 8, considere o texto abaixo.

A morte e a morte do poeta

Ao ler o seu necrológio no jornal outro dia, o pianista Marcos Resende primeiro tratou de verificar que estava vivo, bem vivo. Em seguida gravou uma mensagem na sua secretária eletrônica: "Hoje é 27 e eu não morri. Não posso atender porque estou na outra linha dando a mesma explicação". Quando li esta nota, me lembrei de como tudo neste mundo caminha cada vez mais depressa. Em 1862, cheguei aqui a notícia da morte de Gonçalves Dias.

O poeta estava a bordo do Grand Condé havia cinquenta e cinco dias. O brigue chegou a Marselha com um morto a bordo. À falta de lazareto, o navio estava obrigado à caceteação da quarentena. Gonçalves Dias tinha ido se tratar na Europa e logo se concluiu que era ele o morto. A notícia chegou ao Instituto Histórico durante uma sessão presidida por d. Pedro II. Suspensa a sessão, começaram as homenagens ao que era tido e havido como o maior poeta do Brasil.

Suspeitar que podia ser mentira? Impossível. O imperador, em pleno Instituto Histórico, só podia ser verdade. Ofícios fúnebres solenes foram celebrados na Corte e na província. Vinte e cinco nênias saíram publicadas de estalo. Joaquim Serra, Juvenal Galeno e Bernardo Guimarães debulharam lágrimas de esguicho, quentes e sinceras. O grande poeta! O grande amigo! Que trágica perda! As comunicações se arrastavam a passo de cágado. Mal se começava a aliviar o luto fechado, dois meses depois chegou o desmentido: morreu, uma vírgula! Vivinho da silva.

A carta vinha escrita pela mão do próprio poeta: "É mentira! Não morri, nem morro, nem hei de morrer nunca mais!" Entre exclamações, citou Horácio: "Não morrerei de todo." Todavia, morreu, claro. E morreu num naufrágio, vejam a coincidência. Em 1864, trancado na sua cabine do Ville de Boulogne, à vista da costa do Maranhão. Seu corpo não foi encontrado. Terá sido devorado pelos tubarões. Mas o poeta, este de fato não morreu.

[...]

(Adaptado de: RESENDE, Otto Lara. **Bom dia para nascer**. São Paulo: Cia das Letras, 2011, p.107-8)

1. No texto, o autor contrapõe fundamentalmente
 - (A) as boas condições do porto de Marselha, em território francês, às péssimas condições do porto brasileiro localizado no Maranhão, perto do qual o navio *Ville de Boulogne* acabou por naufragar.
 - (B) a demora com que a notícia da suposta morte de Gonçalves Dias, no século XIX, pôde ser contestada pelo poeta à rapidez com que o pianista Marcos Resende, contemporâneo do cronista, pôde contestar a própria morte.
 - (C) a comoção com que foi recebida a notícia da suposta morte do poeta Gonçalves Dias à indiferença com que se recebeu a notícia da morte do pianista Marcos Resende, buscando-se esclarecê-la com um simples telefonema.
 - (D) a resistência do navio *Grand Condé*, onde Gonçalves Dias pôde permanecer em segurança por mais de cinquenta dias, à fragilidade do *Ville de Boulogne*, que levou pouco tempo para naufragar na costa do Maranhão.
 - (E) a banalização das notícias em seu próprio tempo, mesmo as mais trágicas, à solenidade com que eram dadas no século XIX, muitas vezes em sessões no Instituto Histórico, com a eventual presença do próprio Imperador.
2. De acordo com o texto, a falsa notícia da morte de Gonçalves Dias teria se originado de uma conjunção de acontecimentos que incluem:
 - (A) a morte de um passageiro no navio em que ele viajava, a impossibilidade dos passageiros do navio cumprirem o período de quarentena em terra e a motivação da viagem do poeta para a Europa.
 - (B) a inexistência de lazareto no *Grand Condé*, a motivação da viagem do poeta para a Europa e as falhas de comunicação entre o navio e o porto de Marselha.
 - (C) a impossibilidade dos passageiros do navio cumprirem o período de quarentena em terra, a presença do Imperador no Instituto Histórico e as homenagens feitas no Brasil ao grande poeta.
 - (D) a morte de um passageiro no navio em que ele viajava, a motivação da viagem do poeta para a Europa e as falhas de comunicação entre o navio e o porto de Marselha.
 - (E) a inexistência de lazareto no *Grand Condé*, a morte de um passageiro no navio e as homenagens feitas no Brasil ao grande poeta.
3. Considerando-se o contexto, o segmento cujo sentido está adequadamente expresso em outras palavras é:
 - (A) *Entre exclamações, citou* = Em meio aos brados, parodiou
 - (B) *Ofícios fúnebres* = Comunicações danosas
 - (C) *o seu necrológio no jornal* = a sua matéria fúnebre impressa
 - (D) *obrigado à caceteação* = compelido ao aborrecimento
 - (E) *aliviar o luto fechado* = compensar a grande tristeza



4. A frase do texto que permite transposição para a voz **passiva** é:
- (A) *Em seguida gravou uma mensagem na sua secretária eletrônica...*
- (B) *Mas o poeta, este de fato não morreu.*
- (C) *Em 1862, chegou aqui a notícia da morte de Gonçalves Dias.*
- (D) *O poeta estava a bordo do Grand Condé...*
- (E) *... de como tudo neste mundo caminha cada vez mais depressa.*
-
5. *Joaquim Serra, Juvenal Galeno e Bernardo Guimarães debulharam lágrimas de esguicho, quentes e sinceras.*
- O verbo transitivo empregado com o mesmo tipo de complemento com que foi empregado o verbo grifado acima está em:
- (A) *É mentira!*
- (B) *A notícia chegou ao Instituto Histórico durante uma sessão presidida por d. Pedro II.*
- (C) *... que estava vivo, bem vivo.*
- (D) *E morreu num naufrágio...*
- (E) *Entre exclamações, citou Horácio...*
-
6. *À falta de lazareto, o navio estava obrigado à caceteação da quarentena.* (2ª parágrafo)
- Mantendo-se o sentido e a coesão da frase, o segmento grifado acima pode ser corretamente substituído por:
- (A) De sorte que faltava o lazareto
- (B) Embora faltasse o lazareto
- (C) Uma vez que faltava o lazareto
- (D) À medida que faltasse o lazareto
- (E) Conquanto faltava o lazareto
-
7. *Suspensa a sessão, começaram as homenagens...*
- O segmento grifado exerce na frase acima a mesma função sintática que o segmento também grifado em:
- (A) *As comunicações se arrastavam a passo de cágado.*
- (B) *O brigue chegou a Marselha com um morto a bordo.*
- (C) *Ao ler o seu necrológio no jornal outro dia...*
- (D) *Terá sido devorado pelos tubarões.*
- (E) *... dois meses depois chegou o desmentido...*
-
8. A frase cuja REDAÇÃO está inteiramente clara e correta é:
- (A) Para quem acredita em destino e que o dia da morte está marcado, nada nem ninguém pode alterá-la ou prolongá-la, e nenhum remédio poderia ser proscrito para salvar aquele que já está condenado.
- (B) Não foi absolutamente efêmera há glória de Gonçalves Dias, mas ao contrário duradoura e imperecível, já que ainda hoje o autor da "Canção do exílio" é considerado um dos maiores poetas brasileiros de que conhecemos.
- (C) Outra extraordinária coincidência na biografia de Gonçalves Dias é a composição de um poema chamado "O mar", em cujos versos aquele que viria a morrer num naufrágio alude ao "oceano terrível" e à própria morte.
- (D) Senão tivesse morrido no naufrágio do *Ville de Boulogne*, é possível que Gonçalves Dias não sobreviveria muitos dias à seu desembarque, pois seu estado de saúde era de fato muito grave.
- (E) Ser dado por morto e estar bem vivo, numa experiência das mais inquietantes que o ser humano pode vir a conhecer, cuja é talvez ainda mais terrificante quando se depara de repente com a notícia da própria morte.



Atenção: Para responder às questões de números 9 a 15, considere o texto abaixo.

Já tive muitas capas e infinitos guarda-chuvas, mas acabei me cansando de tê-los e perdê-los; há anos vivo sem nenhum desses abrigos, e também, como toda gente, sem chapéu. Tenho apanhado muita chuva, dado muita corrida, me plantado debaixo de muita marquise, mas resistido.

Ontem, porém, choveu demais, e eu precisava ir a três pontos diferentes do bairro. Pedi ao moço de recados, quando veio apanhar a crônica para o jornal, que me comprasse um chapéu-de-chuva que não fosse vagabundo demais, mas também não muito caro. Ele me comprou um de pouco mais de trezentos cruzeiros.

Depois de cumprir meus afazeres voltei para casa, pendurei o guarda-chuva a um canto e me pus a contemplá-lo. Senti então uma certa simpatia por ele; meu velho rancor contra os guarda-chuvas cedeu a um estranho carinho, e eu mesmo fiquei curioso de saber qual a origem desse carinho.

Pensando bem, ele talvez derive do fato de ser o guarda-chuva o objeto do mundo moderno mais infenso a mudanças. Sou apenas um quarentão, e praticamente nenhum objeto de minha infância existe mais em sua forma primitiva.

O guarda-chuva tem resistido. Suas irmãs, as sombrinhas, já se entregaram aos piores desregramentos futuristas e tanto abusaram que até caíram de moda. Ele permaneceu austero, negro, com seu cabo e suas invariáveis varetas.

Reparem que é um dos engenhos mais curiosos que o homem já inventou; tem ao mesmo tempo algo de ridículo e algo de fúnebre, essa pequena barraca ambulante.

Já na minha infância era um objeto de ares antiquados, que parecia vindo de épocas remotas, e uma de suas características era ser muito usado em enterros. Por outro lado, esse grande acompanhador de defuntos sempre teve, apesar de seu feitio grave, o costume leviano de se perder, de sumir, de mudar de dono. Ele na verdade só é fiel a seus amigos cem por cento, que com ele saem todo dia, faça chuva ou sol, apesar dos motejos alheios; a estes, respeita. O freguês vulgar e ocasional, este o irrita, e ele se aproveita da primeira distração para sumir.

(Adaptado de: BRAGA, Rubem. Coisas antigas. In: **200 Crônicas escolhidas**. 13. ed. Rio de Janeiro: Record, 1998, p.217-9)

9. De acordo com o texto,

- (A) mesmo que possam ser condenáveis os abusos a que foi submetido o aspecto das sombrinhas, elas têm a grande vantagem de não serem esquecidas exatamente por conta da sua diversidade de cores e padrões.
- (B) se a todo momento se perde um guarda-chuva, a perda não precisa ser lamentada, já que guarda-chuvas podem sempre ser comprados por um preço relativamente acessível.
- (C) ainda que o guarda-chuva seja uma invenção bastante engenhosa, parece surpreendente que o homem não tenha conseguido até hoje inventar alguma coisa mais prática que pudesse substituí-lo na proteção contra a chuva.
- (D) a despeito da aversão que se possa ter em relação ao guarda-chuva, o seu conservadorismo chega a ser atraente sobretudo num mundo em que tudo acaba sofrendo constantes e vertiginosas transformações.
- (E) se é elogiável o fato do guarda-chuva ter permanecido praticamente o mesmo desde a sua invenção, a falta de variedade de seu aspecto é responsável pelas confusões que o levam a constantes trocas de dono.

10. Em diversos momentos o autor se vale do humor na composição do texto, como ocorre no segmento:

- I. *Pensando bem, ele talvez derive do fato de ser o guarda-chuva o objeto do mundo moderno mais infenso a mudanças.* (4º parágrafo)
- II. *Suas irmãs, as sombrinhas, já se entregaram aos piores desregramentos futuristas e tanto abusaram que até caíram de moda.* (5º parágrafo)
- III. *Reparem que é um dos engenhos mais curiosos que o homem já inventou; tem ao mesmo tempo algo de ridículo e algo de fúnebre...* (6º parágrafo)
- IV. *Por outro lado, esse grande acompanhador de defuntos sempre teve, apesar de seu feitio grave, o costume leviano de se perder, de sumir, de mudar de dono.* (último parágrafo)

Atende ao enunciado o que consta APENAS em

- (A) II e IV.
- (B) I, II e III.
- (C) II e III.
- (D) I, III e IV.
- (E) IV.

11. *Pensando bem, ele talvez derive do fato...*

O verbo empregado nos mesmos tempo e modo que o verbo grifado acima está em

- (A) *... um chapéu-de-chuva que não fosse vagabundo demais...*
- (B) *... nenhum objeto de minha infância existe mais em sua forma primitiva.*
- (C) *Já na minha infância era um objeto de ares antiquados...*
- (D) *... faça chuva ou sol, apesar dos motejos alheios...*
- (E) *O freguês vulgar e ocasional, este o irrita...*



12. A substituição do elemento grifado pelo pronome correspondente, com os necessários ajustes, foi feita corretamente em:
- (A) *quando veio apanhar a crônica* = quando veio apanhar-lhe
 - (B) *Depois de cumprir meus afazeres* = Depois de cumprir-nos
 - (C) *Já tive muitas capas e infinitos guarda-chuvas* = Já lhes tive
 - (D) *pendurei o guarda-chuva* = pendurei-no
 - (E) *Pedi ao moço de recados* = Pedi-lhe
-
13. ... *meu velho rancor contra os guarda-chuvas cedeu a um estranho carinho...* (3º parágrafo)
- Sem que seja feita qualquer outra alteração, a frase acima permanecerá correta caso o verbo sublinhado seja substituído pelo que consta em:
- (A) deu lugar
 - (B) transformou-se
 - (C) foi vencido
 - (D) transigiu
 - (E) trocou-se
-
14. Atente para as seguintes afirmações sobre a pontuação empregada no texto:
- I. Em frases como *choveu demais, e eu precisava...* (2º parágrafo) e *Sou apenas um quarentão, e praticamente nenhum objeto de minha infância existe mais...* (4º parágrafo), o emprego da vírgula está em desacordo com a norma culta.
 - II. Em *Ele na verdade só é fiel a seus amigos cem por cento, que com ele saem todo dia...* (último parágrafo), a retirada da vírgula implica alteração do sentido da frase.
 - III. Em *O freguês vulgar e ocasional, este o irrita* (último parágrafo), a retirada do pronome *este* implica que simultaneamente se retire a vírgula, pois do contrário haverá prejuízo para a correção.
- Está correto o que se afirma APENAS em
- (A) II e III.
 - (B) II.
 - (C) I e III.
 - (D) III.
 - (E) I e II.
-
15. As normas de concordância verbal estão plenamente respeitadas na redação da seguinte frase:
- (A) Tantas mudanças sofreram nossa moeda ao longo do tempo que é difícil saber quanto representaria hoje os cerca de trezentos cruzeiros gastos pelo cronista na compra de um guarda-chuva.
 - (B) Dos mais atentos aos mais distraídos, talvez não se encontre quem não tenha esquecido ao menos um guarda-chuva na vida, para não falar daqueles que já não têm ideia de quantos guarda-chuvas teriam perdido.
 - (C) Muito mais do que nos anos em que Rubem Braga escrevia as suas crônicas tão saborosas, que coisas hoje não teria sofrido mudança significativa ao longo de um curto período de tempo?
 - (D) Escrever sobre coisas aparentemente insignificantes e corriqueiras denotam um extraordinário talento que as pessoas comuns quase nunca tem.
 - (E) Modelos mais avançados, coloridos e estampados como costumava ser a sombrinha no tempo de Rubem Braga, convive hoje com o tradicional guarda-chuva, preto e austero.

Matemática e Raciocínio Lógico-Matemático

16. Alberto, Bernardo e Carlos estão planejando ir a uma festa. Se Alberto for a festa, então Bernardo também irá. Se Bernardo não for a festa, então Carlos também não irá. De acordo com isso, é necessariamente correto afirmar que:
- (A) Se Carlos for a festa, então Bernardo também irá à festa.
 - (B) Se Alberto for a festa, então Carlos também irá à festa.
 - (C) Se Alberto não for a festa, então Bernardo também não irá à festa.
 - (D) Se Alberto não for a festa, então Bernardo irá à festa.
 - (E) Se Carlos for a festa, então Bernardo não irá à festa.
-
17. Analisando a carteira de vacinação de 112 crianças, um posto de saúde verificou que 74 receberam a vacina A, 48 receberam a vacina B, e 25 não foram vacinadas. Do total das 112 crianças, receberam as duas vacinas (A e B) apenas
- (A) 32,75%.
 - (B) 28,75%.
 - (C) 31,25%.
 - (D) 34,25%.
 - (E) 29,75%.



18. Dentro de um envelope há um papel marcado com um número. Afirma-se sobre esse número que:

- I. o número é 1;
- II. o número não é 2;
- III. o número é 3;
- IV. o número não é 4.

Sabendo que três das afirmações são verdadeiras e uma é falsa, é necessariamente correto concluir que

- (A) I é verdadeira.
- (B) II é falsa.
- (C) II é verdadeira.
- (D) III é verdadeira.
- (E) IV é falsa.

19. Cláudio é vendedor e ganha R\$ 800,00 fixos por mês, mais 10% de comissão sobre suas vendas mensais. O patrão de Cláudio pediu que ele escolhesse uma dentre as seguintes propostas de aumento salarial:

Proposta 1. aumento do valor fixo para R\$ 900,00 por mês, sem alterar a porcentagem de comissão por vendas;

Proposta 2. aumento de 1 ponto percentual na comissão sobre vendas, sem alterar o valor fixo mensal.

Para decidir o que seria mais vantajoso, Cláudio fez as contas corretamente e optou pela proposta 2, ao que se pode concluir que suas expectativas médias mensais de vendas

- (A) estão entre R\$ 5.000,00 e R\$ 9.000,00.
- (B) são maiores do que R\$ 9.000,00 e menores do que R\$ 10.000,00.
- (C) são inferiores a R\$ 5.000,00.
- (D) superam R\$ 10.000,00.
- (E) são iguais a R\$ 5.000,00.

20. Alzira e Thaís têm, juntas, R\$ 1.230,00. Alzira gastou $\frac{2}{5}$ do dinheiro total das duas juntas e Thaís gastou $\frac{5}{9}$ do que sobrou.

Comparando o dinheiro que sobrou ao final dos gastos com o dinheiro que elas tinham juntas antes dos gastos, houve uma redução de

- (A) R\$ 902,00.
- (B) R\$ 492,00.
- (C) R\$ 410,00.
- (D) R\$ 328,00.
- (E) R\$ 738,00.

21. XX e X são, respectivamente, números naturais de dois (iguais a X) e um algarismo (igual a X). Multiplicando-se X por XX obtemos como resultado um número com algarismo da unidade igual a 4. Apenas com as informações dadas, é correto concluir que a diferença entre o maior e o menor número possível que pode ter sido obtido como resultado na conta de multiplicação é igual a

- (A) 700.
- (B) 350.
- (C) 640.
- (D) 660.
- (E) 480.



22. Cinco cartões possuem um número natural de um lado, e uma letra, do outro. Não há números nem letras repetidas no conjunto dos cinco cartões. Veja os cartões em uma determinada posição:



Com relação aos cinco cartões, sabe-se que:

- I. cartões que possuem vogal de um lado, possuem número par do outro lado;
- II. cartões que possuem número ímpar de um lado, possuem consoante do outro lado;
- III. a soma dos números dos cinco cartões é um número ímpar;
- IV. um dos cartões tem a letra L de um dos lados.

É correto afirmar que

- (A) o cartão que tem a letra B de um lado necessariamente possui número ímpar do outro.
 - (B) o cartão que tem o número 8 de um lado necessariamente possui uma vogal do outro.
 - (C) a soma dos números atrás das letras A, B e U é necessariamente um número par.
 - (D) o cartão com a letra L de um lado tem necessariamente o número 5 do outro.
 - (E) o produto dos números dos cinco cartões pode ser um número ímpar.
-
23. A torneira X tem vazão de 1,2 litros por segundo, e a torneira Y de 2,4 litros por segundo. Se a torneira X, sozinha, enche um tanque vazio em 5 minutos e 45 segundos, as duas torneiras, juntas, encheriam esse mesmo tanque vazio em um tempo mínimo de
- (A) 1 minuto e 45 segundos.
 - (B) 2 minutos e 35 segundos.
 - (C) 2 minutos e 15 segundos.
 - (D) 1 minuto e 55 segundos.
 - (E) 2 minutos e 05 segundos.

-
24. O banco de dados de um computador possui apenas 12 mil arquivos, sendo que cada um possui tamanho que varia de 1 kilobyte até 480 kilobytes. Com relação a esse banco de dados, é correto afirmar que
- (A) nele necessariamente existem arquivos com o mesmo tamanho, em kilobytes.
 - (B) é provável, mas não é necessariamente certo, que nele existam arquivos com o mesmo tamanho, em kilobytes.
 - (C) é provável, mas não é necessariamente certo, que nele não existam arquivos com o mesmo tamanho, em kilobytes.
 - (D) cada um dos seus arquivos possui, em média, o tamanho de 25 kilobytes.
 - (E) seus arquivos possuem, juntos, tamanho de 12 mil a 5 milhões de kilobytes.

-
25. Em sala de aula com 25 alunos e 20 alunas, 60% desse total está com gripe. Se $x\%$ das meninas dessa sala estão com gripe, o menor valor possível para x é igual a
- (A) 8.
 - (B) 15.
 - (C) 10.
 - (D) 6.
 - (E) 12.

Conhecimentos Jurídicos e Institucionais

26. Considere:
- I. Receber intimação pessoal em qualquer processo e grau de jurisdição, contando-se-lhe em dobro os prazos.
 - II. Não ser preso, salvo em flagrante, caso em que a autoridade fará imediata comunicação ao Defensor Público-Geral.
 - III. Examinar, em qualquer repartição, autos de flagrante, inquérito e processos.
 - IV. Ser ouvido como testemunha, em qualquer processo ou procedimento, em dia, hora e local previamente ajustados com a autoridade competente.

Nos termos da Lei Complementar nº 84/94, é prerrogativa dos membros da Defensoria Pública do Estado o que consta APENAS em

- (A) II e IV.
- (B) I e II.
- (C) III e IV.
- (D) II e III.
- (E) I, III e IV.



27. Considere:

- I. Não é conceito extensível aos estrangeiros residentes no país.
- II. A comprovação da condição de necessitado far-se-á mediante apresentação da declaração de imposto de renda.
- III. A Defensoria Pública do Estado manterá permanente atividade de apuração do estado de carência dos necessitados.

Nos termos da Lei Complementar nº 164/10, sobre os necessitados é correto o que consta em

- (A) III, apenas.
- (B) I, apenas.
- (C) I e II, apenas.
- (D) II e III, apenas.
- (E) I, II e III.

28. Considere:

- I. O mais antigo na carreira.
- II. O mais antigo na categoria.
- III. O mais idoso.
- IV. A melhor classificação no concurso.
- V. O maior tempo de serviço público.

No termos do Regimento Interno da Defensoria Pública do Estado de Roraima, caso haja empate na promoção por merecimento, dentro de cada categoria, os critérios de desempate devem ser examinados na seguinte ordem:

- (A) I, II, III, IV e V.
- (B) II, I, IV, V e III.
- (C) V, I, II, IV e III.
- (D) III, I, II, IV e V.
- (E) IV, V, III, II e I.

29. Funcionário de sociedade de economia mista responsável pelo abastecimento de água realizava obras em canalização de determinada via pública, quando, por imperícia, gerou vazamento, que causou inundação e danos materiais a morador da área.

Nesse caso, o Estado

- (A) tem responsabilidade objetiva, devendo indenizar o particular lesado, sem a possibilidade de exercer direito de regresso em face do funcionário.
- (B) não possui responsabilidade objetiva, vez que a sociedade de economia mista possui personalidade jurídica de direito privado.
- (C) possui responsabilidade objetiva, devendo indenizar o particular lesado, sem prejuízo de exercer direito de regresso em face do funcionário.
- (D) não possui responsabilidade objetiva, pois ausente o dolo na conduta do funcionário.
- (E) possui responsabilidade objetiva, devendo indenizar o particular lesado na medida e proporção da culpabilidade do funcionário.

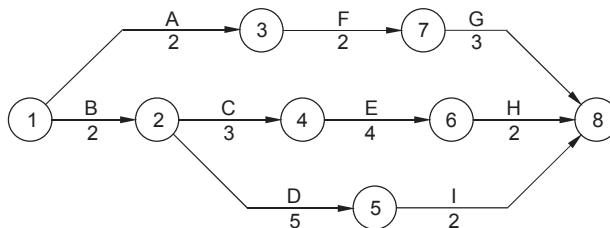
30. As competências na Administração pública podem ser atribuídas para órgãos públicos e para entidades administrativas, por meio do que doutrinariamente se denomina, respectivamente, desconcentração e descentralização. Considerando a natureza jurídica dos órgãos e entidades,

- (A) as autarquias, as empresas públicas e as sociedades de economia mista são espécies de órgãos públicos, excluindo-se dessa categorização os consórcios públicos, em razão do princípio da especialidade.
- (B) os órgãos são partes integrantes da estrutura da Administração pública direta e da Administração pública indireta, possuindo personalidade jurídica própria e capacidade processual, ao contrário das entidades, que possuem personalidade jurídica própria, mas não possuem capacidade processual.
- (C) os órgãos são partes integrantes da estrutura da Administração pública direta e da Administração pública indireta, não possuindo personalidade jurídica própria, ao contrário das entidades, que possuem personalidade jurídica própria, distinta das pessoas que lhes deram vida.
- (D) por serem os órgãos despersonalizados, ao contrário das entidades, não mantêm relações institucionais entre si, tampouco com terceiros, em razão do princípio da capacidade específica.
- (E) as autarquias, as empresas públicas e as sociedades de economia mista são espécies de entidades, excluindo-se dessa categorização as fundações públicas, que são espécies de órgãos, com capacidade de autoadministração exercida com independência em relação ao poder central.



CONHECIMENTOS ESPECÍFICOS

31. Uma obra civil seguiu o planejamento de acordo com o cronograma abaixo, onde o tempo de cada atividade é representado em dias.



Após análise do cronograma, verificou-se que no caminho das atividades A, F e G há uma folga que, em número de dias, é

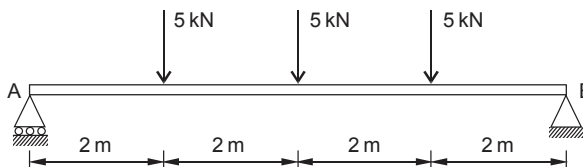
- (A) 4.
 (B) 2.
 (C) 3.
 (D) 5.
 (E) 6.
-
32. O balanço do final da construção de uma edificação indicou as seguintes despesas: custo direto, R\$ 300.000,00, custo indireto, R\$ 12.000,00, custo com administração central, R\$ 9.360,00, custos com imprevistos, R\$ 3.120,00, impostos, R\$ 24.576,00 e lucro, R\$ 34.944,00. O BDI percentual utilizado foi de
- (A) 19,80.
 (B) 24,00.
 (C) 25,00.
 (D) 28,00.
 (E) 16,20.
-
33. Segundo a NR-11, a expressão "Transporte manual de sacos" refere-se a toda atividade realizada de maneira contínua ou descontínua, essencial ao transporte manual de sacos, no qual o peso da carga é suportado, integralmente, por um só trabalhador, compreendendo também o levantamento e sua deposição. A distância máxima estabelecida pela NR-11, para o transporte manual de um saco é, em metros,
- (A) 60.
 (B) 70.
 (C) 75.
 (D) 80.
 (E) 85.
-
34. Nas sondagens de simples reconhecimento de solos com SPT, a operação de perfuração por circulação de água é realizada utilizando-se o trépano de lavagem como ferramenta de escavação. Conforme estabelece a norma específica, quando se atingir a cota de ensaio e amostragem, a composição de perfuração deve ser suspensa a uma altura de
- (A) 0,50 m do fundo do furo, interrompendo-se a circulação de água por tempo suficiente, até que toda a água utilizada para o avanço da perfuração tenha sido removida do interior do furo.
 (B) 0,45 m do fundo do furo, até que toda a água utilizada para o avanço da perfuração tenha sido removida do interior do furo.
 (C) 0,20 m do fundo do furo, mantendo-se a circulação de água por tempo suficiente, até que todos os detritos da perfuração tenham sido removidos do interior do furo.
 (D) 0,55 m do fundo do furo, interrompendo-se a circulação de água por tempo suficiente, até que toda a água utilizada para o avanço da perfuração tenha sido removida do interior do furo.
 (E) 0,90 m do fundo do furo, mantendo-se a circulação de água por tempo suficiente, até que todos os detritos da perfuração tenham sido removidos do interior do furo.
-
35. Durante os trabalhos de sondagens de simples reconhecimento com SPT, a cravação do amostrado-padrão foi interrompida antes dos 45 cm, pois não se observou o avanço do amostrador-padrão durante a aplicação de cinco golpes sucessivos do martelo. Considerando que a situação descrita ocorreu antes de atingir a profundidade estimada para atendimento do projeto, a sondagem deve, neste caso, ser deslocada, no mínimo,
- (A) uma vez a cerca de 1,00 m da sondagem inicial, ou conforme orientação do engenheiro responsável, ou orientação do cliente.
 (B) uma vez a cerca de 1,20 m da sondagem inicial, ou conforme orientação do projeto.
 (C) três vezes para posições que circundem a sondagem inicial, a 0,50 m de distância, ou conforme orientação do projeto.
 (D) quatro vezes para posições a 0,80 m da sondagem inicial, ou conforme orientação do engenheiro responsável.
 (E) duas vezes para posições diametralmente opostas, a 2,00 m da sondagem inicial, ou conforme orientação do cliente ou seu preposto.



36. Considere o perfil geotécnico de um terreno localizado na cidade de Boa Vista, constituído de uma camada de argila arenosa, com peso específico natural de 20 kN/m^3 e com 3 m de espessura, acima de uma camada de areia grossa, com peso específico natural de 22 kN/m^3 e espessura de 4 m, apoiado sobre um solo de alteração de rocha. Sabendo-se que o nível de água coincide com o nível do terreno (cota 0 m), o valor da tensão vertical efetiva no contato entre a areia grossa e o solo de alteração é, em KPa,
- (A) 70.
(B) 78.
(C) 148.
(D) 218.
(E) 84.

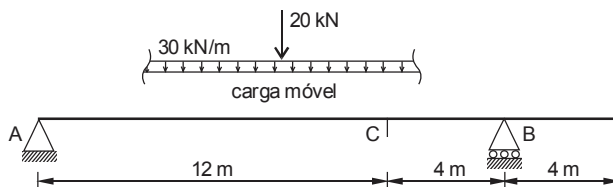
37. Sobre estruturas de contenção de solos: atender uma faixa de esforços solicitantes de reduzida intensidade, apresentar baixa rigidez e capacidade autodrenante, não sendo recomendável para cortes e aterros de altura elevada nem para contenção de corpos de tálus, são características de
- (A) cortinas atirantadas.
(B) gabiões.
(C) solos grampeados.
(D) muro de pedra argamassada.
(E) muro de concreto ciclópico.

38. A viga simplesmente apoiada, da figura abaixo, está submetida a três cargas concentradas.



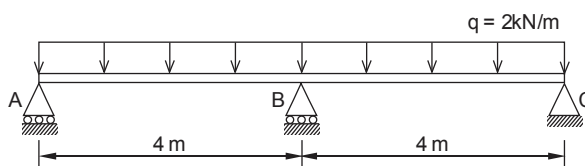
O momento fletor máximo na viga é, em kNm,

- (A) 60.
(B) 90.
(C) 70.
(D) 20.
(E) 40.
39. Considere a viga de uma ponte submetida à carga móvel representada na figura.



O momento fletor máximo no ponto C, obtido pelo método das linhas de influência é, em kNm,

- (A) 540.
(B) 980.
(C) 730.
(D) 600.
(E) 780.
40. Considere a viga hiperestática da figura submetida a uma carga uniformemente distribuída de $q = 2 \text{ kN/m}$ ao longo de todo o seu comprimento.

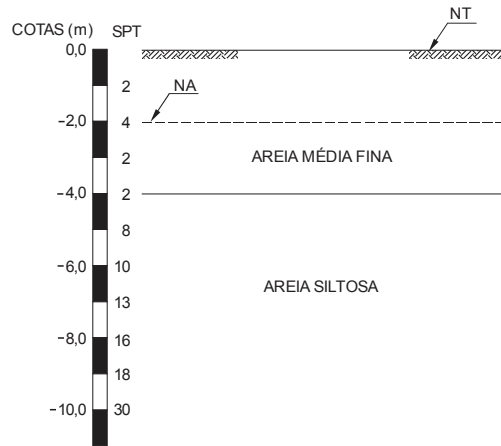


A reação no apoio B é, em kN,

- (A) 14.
(B) 10.
(C) 12.
(D) 8.
(E) 6.

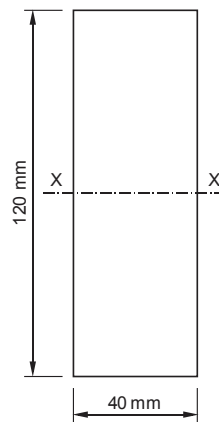


41. No terreno do perfil geotécnico, representado abaixo, pretende-se construir um depósito de dois andares em concreto armado, cujos pilares terão cargas em torno de 850 kN. As construções vizinhas são recentes e encontram-se em ótimo estado estrutural.



A fundação técnica e economicamente recomendada é:

- (A) estacas Strauss com base na cota -8 m.
 - (B) estacas escavadas com ponta na cota -6 m.
 - (C) estacas pré-moldadas com ponta na cota -10 m.
 - (D) sapatas na cota -1,0 m.
 - (E) fundação em tubulões a ar comprimido.
-
42. No projeto e execução de fundações, sobre o desaprumo de estacas, não há necessidade de verificação de estabilidade e resistência, nem de medidas corretivas para desvios de execução, em relação ao projeto, menores do que
- (A) 1/50.
 - (B) 1/100.
 - (C) 1/20.
 - (D) 1/10.
 - (E) 1/5.
-
43. No dimensionamento de vigas de concreto armado deve-se evitar rupturas bruscas garantindo-se uma área mínima de armadura de tração. Para uma viga de concreto armado, com seção transversal retangular de 20 cm × 50 cm, a área de armadura mínima absoluta de tração é, em cm²,
- (A) 1,5.
 - (B) 5,0.
 - (C) 3,2.
 - (D) 2,5.
 - (E) 1,0.
-
44. Considere a viga de aço com seção transversal retangular, ilustrada na figura abaixo, para ser utilizada em uma estrutura metálica.



O módulo de resistência plástico em torno do eixo baricêntrico X-X é, em cm³,

- (A) 136
- (B) 576.
- (C) 288.
- (D) 144.
- (E) 122.



45. A segurança das construções correntes feitas com estruturas de madeira deve ser verificada em relação aos estados limites de deformações excessivas que possam afetar a utilização normal da construção ou seu aspecto estético. A flecha efetiva, determinada pela soma das parcelas devidas à carga permanente e à carga acidental, NÃO pode superar o comprimento do vão dividido por
- (A) 350.
 - (B) 250.
 - (C) 300.
 - (D) 200.
 - (E) 220.
-
46. Sobre os requisitos mínimos para aceitação dos serviços de impermeabilização com a utilização de mantas asfálticas, as emendas devem ter uma sobreposição mínima nos sentidos longitudinal e transversal de, em mm,
- (A) 60.
 - (B) 80.
 - (C) 100.
 - (D) 50.
 - (E) 30.
-
47. Nos revestimentos de paredes externas e fachadas com placas cerâmicas e com utilização de argamassa colante, o assentamento das placas cerâmicas só deve ocorrer após um período mínimo de cura do emboço e/ou da argamassa de regularização. Esse período mínimo é, em dias,
- (A) 14.
 - (B) 7.
 - (C) 5.
 - (D) 10.
 - (E) 3.
-
48. Para a determinação da resistência à compressão do cimento Portland, os corpos de prova são elaborados com argamassa composta de
- (A) três partes de cimento, uma de areia normalizada, em massa, e com relação água/cimento de 0,28.
 - (B) uma parte de cimento, duas de areia normalizada, em massa, e com relação água/cimento de 0,28.
 - (C) duas partes de cimento, três de areia normalizada, em massa, e com relação água/cimento de 0,10.
 - (D) duas partes de cimento, duas de areia normalizada, em massa, e com relação água/cimento de 0,20.
 - (E) uma parte de cimento, três de areia normalizada, em massa, e com relação água/cimento de 0,48.
-
49. Segundo a NR-18, o diâmetro mínimo para escavação de tubulão a céu aberto é de X m. O diâmetro de Y m somente poderá ser utilizado com justificativa técnica do engenheiro responsável pela fundação. Os valores de X e Y são, respectivamente,
- (A) 0,90 e 0,80.
 - (B) 0,70 e 0,60.
 - (C) 0,60 e 0,55.
 - (D) 1,00 e 0,80.
 - (E) 0,80 e 0,70.
-
50. Segundo a NR-18, o Sistema Limitador de Quedas de Altura deve ter de projeção horizontal, a partir da face externa da construção, no mínimo,
- (A) 2,00 m.
 - (B) 2,50 m.
 - (C) 1,80 m.
 - (D) 1,50 m.
 - (E) 1,20 m.



51. Considere uma instalação predial de água fria composta das peças relacionadas no quadro abaixo, alimentadas por uma tubulação, com seus respectivos pesos relativos.

Peça de utilização	Quantidade	Peso Relativo
Bacia sanitária com válvula de descarga	1	32,0
Chuveiro com misturador de água fria	3	0,4
Pia com torneira	2	0,7
Tanque com torneira	2	0,7

A vazão estimada de projeto dessa tubulação de água fria é, em litros por segundo,

- (A) 1,8.
(B) 3,0.
(C) 2,6.
(D) 1,5.
(E) 1,2.
-
52. O banheiro de uma residência foi construído com uma única caixa sifonada de diâmetro nominal DN 100 mm. O proprietário dessa residência contratou um engenheiro civil para fazer uma reforma nesse banheiro com a finalidade de aumentar o número das peças sanitárias. Para viabilizar o aumento do despejo dos efluentes sanitários na caixa sifonada, o engenheiro verificou que a capacidade máxima de Unidades Hunter de Contribuição que essa caixa sifonada suporta é
- (A) 5.
(B) 4.
(C) 6.
(D) 8.
(E) 12.
-
53. Nas instalações elétricas prediais de baixa tensão devem ser previstas tomadas de uso geral e de uso específico. A máxima distância entre uma tomada de uso específico e o aparelho a ela ser conectado é, em metros,
- (A) 2,2.
(B) 1,8.
(C) 2,0.
(D) 1,5.
(E) 2,5.
-
54. Sobre as modalidades e constituição de pavimentos, o macadame betuminoso é um revestimento típico executado por
- (A) mistura.
(B) penetração invertida.
(C) penetração direta.
(D) calçamento.
(E) travamento.
-
55. O departamento de obras da prefeitura de Boa Vista necessitou canalizar um pequeno córrego. Para tanto, utilizou um conduto livre de concreto de seção circular, com diâmetro de 2.000 mm. Se o escoamento previsto for a meia seção, o raio hidráulico é, em mm,
- (A) 1.500.
(B) 500.
(C) 1.000.
(D) 750.
(E) 250.



56. Um edifício de apartamentos foi executado e entregue ao seu proprietário, o qual o aceitou. Decorrido um ano o edifício começou a apresentar rachaduras que comprometiam a sua solidez. O dono da obra tem o direito de exigir que o empreiteiro que executou o edifício responda pelos danos ocorridos. Contudo, decairá do direito assegurado o dono da obra que não propuser a ação contra o empreiteiro, após o aparecimento do vício ou defeito, em um prazo máximo de, em dias,
- (A) 30.
(B) 120.
(C) 90.
(D) 60.
(E) 180.
-
57. Para estimar o custo de construção um imóvel urbano um engenheiro utilizou o método da quantificação do custo, pois possuía os seguintes dados: custo de construção pelo CUB: R\$ 1.500,00/m²; orçamento de instalações de geradores: R\$ 200.000,00; taxa de administração da obra: 10%; percentual relativo aos custos financeiros durante o período da construção: 5% e percentual correspondente ao lucro da construtora: 8%. Se a área equivalente de construção for 500 m², a estimativa do custo do metro quadrado de construção desse imóvel é, em reais,
- (A) 2.370,60.
(B) 1.523,17.
(C) 1.958,73.
(D) 2.031,94.
(E) 2.149,71.
-
58. Segundo a Lei nº 8.666/1993, são consideradas de grande vulto as obras, serviços e compras cujo valor estimado, seja superior a, em reais,
- (A) 15.000.000,00.
(B) 25.750.000,00.
(C) 20.550.000,00.
(D) 37.500.000,00.
(E) 10.500.000,00.
-
59. Nos serviços e obras de engenharia e arquitetura, será responsável pelo arquivamento do registro de ocorrências, por meio de documento ao proprietário, após a data de entrega do empreendimento, o
- (A) empreiteiro técnico, pelo prazo de um ano.
(B) fiscal, pelo prazo de dois anos.
(C) executante, pelo prazo de cinco anos.
(D) financiador, pelo prazo de três anos.
(E) autor do projeto, pelo prazo de quatro anos.
-
60. Segundo os critérios sobre a circulação interna de edificações e equipamentos urbanos, os corredores devem ser dimensionados de acordo com o fluxo de pessoas, assegurando uma faixa livre de barreiras ou obstáculos. A largura mínima para corredores de uso público é, em metros,
- (A) 1,20.
(B) 1,50.
(C) 1,00.
(D) 1,30.
(E) 1,80.



DISCURSIVA-REDAÇÃO

Atenção:

Conforme Edital do Concurso, Capítulo 9, itens:

"9.6. Será atribuída nota ZERO à Prova Discursiva-Redação que: a) fugir à modalidade de texto solicitada e/ou ao tema proposto; b) apresentar texto sob forma não articulada verbalmente (apenas com desenhos, números e palavras soltas ou em versos) ou qualquer fragmento de texto escrito fora do local apropriado; c) for assinada fora do local apropriado; d) apresentar qualquer sinal que, de alguma forma, possibilite a identificação do candidato; e) estiver em branco; f) apresentar letra ilegível e/ou incompreensível. 9.7. Na Prova Discursiva-Redação, a folha para rascunho no Caderno de Provas será de preenchimento facultativo. Em hipótese alguma o rascunho elaborado pelo candidato será considerado na correção pela Banca Examinadora. 9.8. Na Prova Discursiva-Redação deverão ser rigorosamente observados os limites mínimo de 20 (vinte) linhas e máximo de 30 (trinta) linhas, sob pena de perda de pontos a serem atribuídos à Redação. 9.9. A Prova Discursiva-Redação terá caráter eliminatório e classificatório e será avaliada na escala de 0 (zero) a 100 (cem) pontos, considerando-se habilitado o candidato que nela obtiver nota igual ou superior a 50 (cinquenta)."

Observação:

– NÃO é necessária a colocação de título na Prova Discursiva-Redação.

I

Grande parte da população abdica das mais diversas ocupações para ver televisão, considerando legítima sua inatividade como espectador.

II

Ver televisão hoje é um modo de se emocionar imediatamente numa sociedade que perdeu de vista o cuidado com sua própria sensibilidade, em função da avalanche de imagens que invade o cotidiano.

III

É possível que pensar na própria vida seja equivalente ao desejo de devassar a vida alheia através dos programas televisivos.

(Baseado em: TIBURI, Marcia, disponível em: <http://www.marciatiburi.com.br/artigos.htm>. Acesso em 15/11/15)

Considerando o que se afirma acima, redija um texto dissertativo-argumentativo justificando amplamente seu ponto de vista.

01	
02	
03	
04	
05	
06	
07	
08	
09	
10	
11	
12	
13	
14	
15	
16	
17	
18	
19	
20	
21	
22	
23	
24	
25	
26	
27	
28	
29	
30	