

**LÍNGUA PORTUGUESA**

1. Leia o poema abaixo:

Da sabedoria dos livros

Não penses compreender a vida nos autores.
Nenhum disto é capaz.
Mas, à medida que vivendo fores,
Melhor os compreenderás.
(Mário Quintana. 80 anos de poesia. São Paulo: Global, 1998)

Assinale a alternativa que contém apenas afirmações verdadeiras:

- I. Os dois últimos versos do poema formam um período composto, porque há duas orações, compostas, cada uma, de uma locução verbal ou de um verbo
- II. A primeira oração está intercalada e se inicia pela conjunção "mas"
- III. A segunda oração inicia-se pela conjunção "à medida que"
- A. Apenas a alternativa I está correta
B. Apenas a alternativa II e III estão corretas
C. Apenas a alternativa III está correta
D. As alternativas I, II e III estão corretas

2. Assinale a alternativa que apresenta corretamente os seis tipos de orações subordinadas substantivas:

- A. indicativa – objetiva direta – objetiva indireta – completiva nominal – predicativa - subjetiva
B. subjetiva – objetiva direta – objetiva indireta – completiva nominal – predicativa - apositiva
C. subjetiva – objetiva direta – objetiva indireta – advérbio nominal – predicativa - apositiva
D. subjetiva – complemento direto – complemento indireto – completiva nominal – predicativa - prepositiva

3. Das frases abaixo, assinale a que NÃO ESTÁ escrita corretamente quanto à concordância verbal:

- A. A multidão reuniu-se na praia
B. Hoje se compra bons carros usados
C. Estava frio no quintal
D. O sonho e a realidade caminham separados

4. Os *vícios de linguagem* são palavras ou construções que vão de encontro às normas gramaticais. Costumam ocorrer por descuido, ou ainda por desconhecimento das regras por parte do emissor

Assinale a alternativa que corresponde os enunciados do primeiro bloco com os exemplos registrados no segundo bloco referente aos vícios de linguagem:

- (1) Pleonasmo ou redundância
(2) Cacofonia
(3) Eco
(4) Colisão

- () Dei um beijo na boca dela. (cadela)
() Entrei para dentro de casa.
() A divulgação da promoção não causou comoção na população.
() Sua saia sujou.

- A. 2 – 1 – 3 – 4
B. 1 – 2 – 3 – 4
C. 4 – 2 – 1 – 3
D. 2 – 3 – 1 – 4

5. *"Um urso topou com uma árvore caída que servia de depósito de mel para um enxame de abelhas"*

Assinale a alternativa que NÃO CORRESPONDE com afirmações verdadeiras sobre a frase acima:

- A. O verbo topou está no pretérito perfeito.
B. Se o verbo servia fosse substituído por serviu indicaria que a árvore, no passado, havia servido de depósito de mel, mas já não serve mais.
C. Se o verbo servia fosse substituído por serviu indicaria que a árvore, no passado, havia servido de depósito de mel, e ainda continuava servindo.
D. O verbo servia está no pretérito imperfeito.

6. *Eu fui – tu foste – ele foi – nós fomos – vós fostes – eles foram*

Em que tempo este verbo está conjugada:

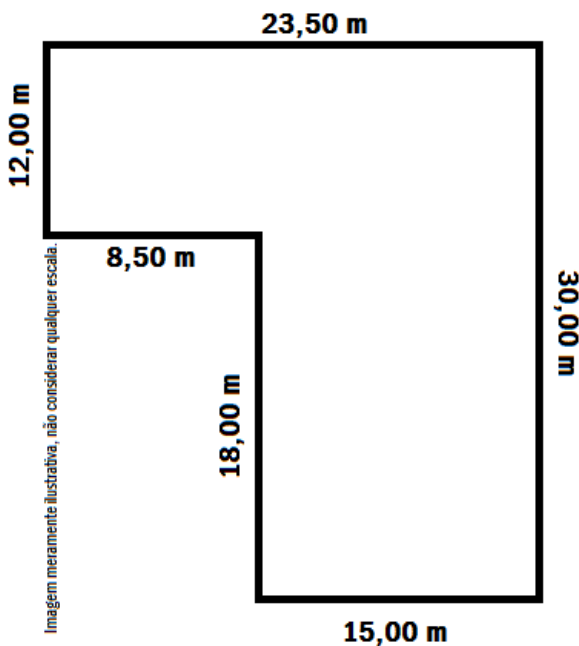
- A. Pretérito imperfeito do subjuntivo
B. Pretérito imperfeito do indicativo
C. Pretérito perfeito do indicativo
D. Pretérito mais-que-perfeito do indicativo
7. Assinale a alternativa que designa o que é sintaxe:
- A. A parte da gramática que trabalha com a disposição das palavras em uma frase e a lógica entre elas. Nos estudos gramaticais é estudada por meio da análise sintática para analisar o sujeito, o predicado e os termos acessórios de uma oração .
B. É o estudo da estrutura, da formação e da classificação das palavras. A peculiaridade é estudar as palavras olhando para elas isoladamente e não dentro da sua participação na frase ou período.
C. A ciência que estuda os fatos da linguagem.
D. É a parte da gramática que trata da história ou origem das palavras e da explicação do significado de palavras através da análise dos elementos que as constituem. Por outras palavras, é o estudo da composição dos vocábulos e das regras de sua evolução histórica.



8. Assinale a alternativa que se refere à classificação dos advérbios:
- A. Tempo – lugar – modo – intensidade – afirmação – negação – dúvida;
 - B. Comum – próprio – concreto – abstrato – coletivo;
 - C. Simples – composto – primitivo – derivado;
 - D. Regulares – defectivos – pessoais – abundantes – auxiliares;

MATEMÁTICA

9. Filipe adquiriu um terreno urbano com as seguintes medidas:



Considere que o zoneamento onde encontra-se este imóvel tem as regras abaixo para ocupação e uso do solo:

- 12,0% destinada à área verde;
- 75,0% sendo o coeficiente máximo de aproveitamento do terreno, em relação a área útil (descontada a área verde);

Com estas informações, considerando somente um piso, qual o tamanho da área útil do imóvel e qual o tamanho máximo permitido a construir neste imóvel?

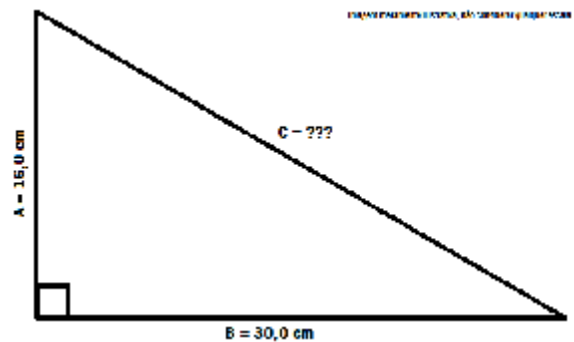
- A. 485,76m² de área útil e 364,32m² de área a construir
 - B. 475,50m² de área útil e 356,62m² de área a construir
 - C. 495,00m² de área útil e 371,25m² de área a construir
 - D. 497,56m² de área útil e 373,17m² de área a construir
10. A coleção de selos de Bartolomeu tem entre 170 e 190 selos. Para melhor conservá-los, adquiriu dois álbuns: um com a capacidade de grupos de 12 selos, onde sobraram 8; o segundo com capacidade de grupos de 15 selos, onde sobraram 11. Quantos selos tem a coleção de Bartolomeu?
- A. 173
 - B. 176
 - C. 178
 - D. 181

11. Observe e complete a sequência abaixo e em seguida assinale a alternativa que representa a décima quinta parte da soma completa desta sequência:

$$10 + 25 + 40 + 55 + 70 + [...] + 385 + 400$$

- A. 355
- B. 359
- C. 365
- D. 369

12. Considerando que conhecemos dois lados do triângulo retângulo abaixo (Catetos A e B), qual a medida do lado C e qual a área deste triângulo?



- A. C = 34,0cm e Área = 240,0cm²
- B. C = 32,5cm e Área = 240,0cm²
- C. C = 32,5cm e Área = 240,0m²
- D. C = 34,0cm e Área = 240,0m²

13. Simão e Matias são representantes comerciais e no último mês de Fevereiro as vendas de Simão foram equivalentes a 90% das vendas de Matias. Sabendo que a comissão ganha por cada um deles é de 2,00% sobre suas vendas e que a diferença entre as suas comissões foi de R\$ 50,00, qual dos valores abaixo representa as vendas realizadas por Simão e Matias, respectivamente, que encaixam no cenário acima descrito?

- A. R\$ 19.800,00 e R\$ 22.000,00 respectivamente
- B. R\$ 22.050,00 e R\$ 24.500,00 respectivamente
- C. R\$ 22.500,00 e R\$ 25.000,00 respectivamente
- D. R\$ 24.750,00 e R\$ 27.500,00 respectivamente

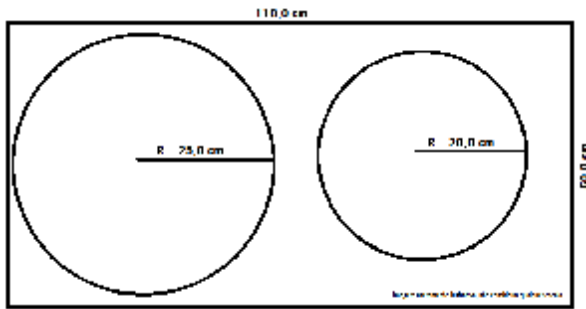
14. Considerando que X e Y são dois números naturais inteiros e sequenciais, qual expressão abaixo representa sempre um número PAR?

- A. 2X + 2Y
- B. X + 2Y
- C. (X + 2) + Y
- D. 3X + 3Y

15. Pedro é alfaiate e lhe incumbiram a tarefa de retirar de um pano retangular, com as medidas de 110,0cm x 60,0cm, dois círculos, sendo um com raio de 25,0cm e o outro com raio de 20,0 cm. Com base nestas informações, auxiliado com a figura abaixo, qual dos valores abaixo



mais se aproxima da sobra de tecido, após a retirada dos círculos?



- A. 2.976,38 cm²
- B. 3.176,74 cm²
- C. 3.289,94 cm²
- D. 3.379,96 cm²

CONHECIMENTOS GERAIS

16. Sobre o município de Alto Bela Vista, é INCORRETO afirmar que:

(FONTE: www.altobelavista.sc.gov.br)

- A. Fica a 580 km da capital do Estado e a 38 km da cidade de Concórdia.
- B. O Município é Formado por 15 comunidades, além da Cidade.
- C. O clima é mesotérmico do tipo úmido, a temperatura máxima é de 38° C. a média anual é de 15° C.
- D. A altitude da sede é de 480 metros, mas a media é de 498 metros.

17. Alto Bela Vista possui cerca de 2 mil habitantes tendo seu ponto forte na agropecuária. É a Capital Catarinense do Coalho. Das alternativas abaixo, assinale aquela que NÃO É CORRETA em relação ao município:

(FONTE: www.altobelavista.sc.gov.br)

- A. Em 1953 era criado o Distrito de Volta Grande, sendo elevado a categoria de município em 04 de julho de 1995, quando então foi alterado a denominação do então distrito de Volta Grande para Alto Bela Vista, desmembrado do município de Concórdia.
- B. O município de Alto Bela Vista faz parte da região turística denominada Vale do Contestado e da Microrregião do Alto Uruguai Catarinense.
- C. O município de Alto Bela Vista teve áreas alagadas com a construção da Usina Hidrelétrica de Itá.
- D. O município de Alto Bela Vista faz limites com os municípios de Concórdia, Peritiba, Ipira e Piratuba.

18. No último dia 1º de março, tomou posse na presidência do Uruguai Tabaré Vázquez, que foi eleito no dia 30 de novembro de 2014, substituindo o então presidente, famoso por ser proprietário de um fusca, agricultor e por doar cerca de 90% dos seus rendimentos a pequenas empresas e organizações não governamentais que trabalham com habitações populares. Quem era este presidente?

(FONTE: www.veja.com.br)

- A. Otto Pérez Molina
- B. Juan Manoel Santos
- C. Horácio Cartes
- D. José Mujica

19. Considerando a configuração padrão para Português (Brasil) do aplicativo Microsoft Word 2007, para inserir uma "Marca D'água" em um documento, devemos ir em qual das opções da Barra de Menus?

- A. Início
- B. Exibição
- C. Inserir
- D. Layout da Página

20. Em relação ao correio eletrônico - e-mail, como melhor definimos um SPAM?

- A. Refere-se aos e-mails reencaminhados pelos usuários de correio eletrônico, formando uma espécie de corrente.
- B. Refere-se aos e-mails não solicitados, que geralmente são enviados para um grande número de pessoas.
- C. Refere-se aos e-mails que tem em seu conteúdo uma cadeia de respostas, semelhante a uma "conversa".
- D. Refere-se aos e-mails que tem definida a confirmação de leitura, que, ao ser confirmada, completa a relação de spam.

CONHECIMENTOS ESPECÍFICOS

21. Em quantos grupos podemos agrupar os músculos da laringe?

- A. Quatro grupos
- B. Três grupos
- C. Dois grupos
- D. Um único grupo

22. Assinale a assertiva correta em relação a qualificação do fonoaudiólogo para "tratar a fala":

- A. Atrasos no desenvolvimento e dificuldades em compreender e/ou em se expressar oralmente.
- B. Não falar claramente e/ou não conseguir articular alguns sons da fala.
- C. Dificuldades na mastigação, na deglutição, na respiração e na motricidade orofacial.
- D. Alterações na qualidade da voz (timbre, intensidade, qualidade).

23. Assinale a assertiva correta em relação a qualificação do fonoaudiólogo para "tratar a voz":

- A. Atrasos no desenvolvimento e dificuldades em compreender e/ou em se expressar oralmente.
- B. Não falar claramente e/ou não conseguir articular alguns sons da fala.
- C. Dificuldades na mastigação, na deglutição, na respiração e na motricidade orofacial.
- D. Alterações na qualidade da voz (timbre, intensidade, qualidade).

24. A audição humana, em níveis normais, capta sons a partir de quantos decibéis?

- A. 10 ou 15 decibéis
- B. 20 ou 30 decibéis
- C. 25 ou 35 decibéis
- D. 30 ou 35 decibéis



25. Em relação a orelha externa, analise as assertivas abaixo e indique a **INCORRETA**:
- A. Todo o pavilhão auditivo (exceto o lobo ou lóbulo) é constituído por tecido cartilaginoso recoberto por pele, tendo como função captar e canalizar os sons para a orelha média.
 - B. O canal auditivo externo estabelece a comunicação entre a orelha média e o meio externo, tem cerca de três centímetros de comprimento e está escavado em nosso osso temporal.
 - C. O canal auditivo externo termina numa delicada membrana – tímpano ou membrana timpânica-firmemente fixada ao conduto auditivo externo por um anel de tecido fibroso, chamado anel timpânico.
 - D. A orelha externa é formada pelo pavilhão auditivo (antigamente denominado orelha), pelo canal auditivo externo ou meato auditivo e pelo anel timpânico.
26. Analise as assertivas abaixo em relação aos diferenciais de atender um paciente em casa e assinale a **INCORRETA**:
- A. Ter menor dignidade em um ambiente que não alimenta a ideia de enfermidade.
 - B. Nutrir-se adequadamente com alimentos preparados em sua casa, sob orientação e manuseio do fonoaudiólogo, o que facilita a reabilitação.
 - C. Receber tratamento e cuidados com qualidade superiores a do hospital.
 - D. O paciente tem maior privacidade: pode usar sua própria roupa, tem maior controle e segurança física.
27. Como podemos definir a Cartilagem Tiróide?
- A. Cartilagem em forma de folha, se fixa na parte interna da face anterior da tireóide.
 - B. Cartilagem em forma de anel, cuja altura aumenta paulatinamente para a parte posterior.
 - C. Cartilagem situada na placa ascendente da cartilagem cricóide, uma de cada lado da linha mediana, com forma piramidal.
 - D. Cartilagem posicionada acima do anel da cricóide, em forma de meiotubo com abertura para trás envolvendo o conjunto formado pela placa ascendente da cricóide encimada pelas aritenóides.
28. Em relação à fase faríngea da deglutição, analise as assertivas abaixo e indique a **CORRETA**:
- A. O tempo necessário para essa fase pode variar, nos indivíduos normais, entre oito a 20 segundos.
 - B. Nesta fase o palato mole eleva-se para vedar a nasofaringe, prevenindo o refluxo nasal. Simultaneamente, a língua e o movimento da parede faríngea realizam a propulsão do bolo no sentido caudal.
 - C. Consiste numa etapa reflexa, que consiste em ondas peristálticas automáticas. Esta fase da deglutição inicia-se com a elevação do palato mole para vedar a nasofaringe e apenas finaliza-se quando o bolo alimentar atinge o estômago.
 - D. Ocorre de modo voluntário e inicia-se a partir da transferência do bolo alimentar da cavidade oral anterior para a orofaringe.
29. Analise as assertivas abaixo em relação a dislexia e assinale a **CORRETA**:
- A. Não há um tratamento medicamentoso específico. Medicamentos podem ser indicados apenas para fatores associados, como Transtorno de Atenção e problemas comportamentais.
 - B. Não há, tampouco, uma terapia cognitiva única. O tratamento deve basear-se em medidas que favoreçam a plasticidade cerebral, caminhos cerebrais alternativos para o processamento da leitura.
 - C. Algumas crianças aprendem a ler mais facilmente amparadas pela fonética, outras aprendem melhor através de técnicas linguísticas, em que as formas visuais complexas das palavras são aprendidas em contexto.
 - D. Todas as alternativas estão corretas.
30. A Fissura Lábio Palatina é uma malformação congênita, decorrente da falta de fusão do palato durante o período intrauterino, sendo incluída entre as anomalias mais comuns. Em relação às características e condutas terapêuticas para o aleitamento materno de bebês fissurados, analise as assertivas abaixo e indique a **INCORRETA**:
- A. Fazer higiene oro-nasal com cotonete e água fervida poderá evitar resíduos alimentares na cavidade oral e nasal evitando assim infecções de vias aéreas superiores e ouvido médio.
 - B. A melhor posição para estar deixando a criança é a posição de semi-sentada durante a alimentação.
 - C. Deve-se evitar o lado afetado pela fissura para que durante a mamada possa exercitar os músculos através do bico da mama ou da mamadeira com o lado oposto ao fissurado.
 - D. Bicos normais de mamadeiras passam a ser inadequados para esses lactentes por se tornar complicado a sucção necessária, por esse motivo se torna viável bicos especiais.
31. Como podemos definir a cóclea?
- A. É um aparelho membranoso formado por tubos espiralados.
 - B. É um aparelho membranoso formado por tubos circundados.
 - C. É um aparelho membranoso formado por tubos acéfalos.
 - D. É um aparelho membranoso formado por tubos estrelados.
32. Constitui infração prevista no Código de Ética do Fonoaudiólogo:
- A. Anunciar preços e modalidade de pagamento na divulgação de cursos, palestras, seminários e afins;
 - B. Consultar, diagnosticar ou prescrever tratamento por quaisquer meios de comunicação de massa;
 - C. Anunciar, em jornais, os títulos de formação acadêmica;
 - D. Nenhuma das condutas descritas nas alternativas "A", "B" e "C" representam infração prevista no Código de Ética do Fonoaudiólogo.



33. Considerando os princípios éticos da Fonoaudiologia, analise as assertivas abaixo e indique a CORRETA:
- A. A propugnação da harmonia da classe.
 - B. A atualização científica e técnica necessária ao pleno desempenho da atividade.
 - C. O exercício da atividade em benefício do ser humano e da coletividade, mantendo comportamento digno sem discriminação de qualquer natureza.
 - D. Todas as alternativas estão corretas.
34. Tendo por base a alteração fonatória denominada de Tremor Vocal, analise as assertivas abaixo e indique a INCORRETA:
- A. O exame laringológico é o principal recurso diagnóstico evidenciando rapidamente as alterações morfológicas e estruturais características deste distúrbio.
 - B. Caracteriza-se pelo movimento rítmico da laringe, que produz alterações rítmicas de pitch e loudness durante fonação. Estes movimentos laríngeos são muitas vezes acompanhados de tremor da cabeça e de extremidades.
 - C. O tremor pode estar presente apenas durante a fonação ou aparecer no repouso.
 - D. Apesar de ser identificável durante a fala encadeada em alguns indivíduos, é mais facilmente reconhecido durante a emissão de vogal sustentada.
35. Analise as assertivas abaixo e indique a única CORRETA:
- A. Os mecanismos fisiológicos subjacentes à fadiga vocal podem incluir comprometimento em diversos níveis, exceto a redução da viscosidade da prega vocal.
 - B. Método de Ativação Vocal tem como principal objetivo eliciar a sonorização necessária para que a produção vocal se realize, quer seja em nível glótico, quer seja por formação de um mecanismo vicariante.
 - C. Na rouquidão as pregas vocais estariam vibrando em uma frequência diferente uma da outra, podendo ocorrer em função de variação de massa/tamanho/tensão, que resultaria em uma prega vocal diferente da outra.
 - D. A Tensão do músculo grácil é um sintoma comumente observados em indivíduos com disфонia ou mesmo em pessoas que utilizam a voz profissionalmente.
36. Como podemos definir um Sistema Fonológico?
- A. Como análise visual do estímulo gráfico. A criança aprende a copiar.
 - B. Como aumento progressivo da capacidade de usar a linguagem com um sentido de comunicação social.
 - C. Como aumento progressivo da capacidade de compreender a fala e seu significado.
 - D. Como aumento progressivo da capacidade de discernir os sons e de produzi-los com objetivo de formar novas palavras e frases.
37. Analise as assertivas abaixo em relação ao princípio de equidade do SUS, indicando a INCORRETA:
- A. A equidade, na saúde, é sinônimo de igualdade.
 - B. A equidade na saúde está relacionada às especificidades e necessidades da população.
 - C. Para seguir o princípio de equidade, o gestor deve analisar as peculiaridades de sua região.
 - D. O princípio da equidade busca a diminuição das desigualdades, mas não trata todos da mesma forma.
38. Qual é o principal músculo adutor das pregas vocais?
- A. Cricotireoideo
 - B. Interatinoideo
 - C. Cricoaritenóideo Posterior
 - D. Cricoaritenóideo Lateral
39. Considerando o Código de Ética dos Fonoaudiólogos, nos anúncios, placas e impressos devem constar o nome do profissional, da profissão e o número de inscrição no Conselho Regional, podendo ainda constar, EXCETO:
- A. As especialidades para as quais o fonoaudiólogo esteja habilitado;
 - B. Os preços e modalidade de pagamento;
 - C. O endereço, telefone, endereço eletrônico, horário de trabalho, convênios e credenciamentos;
 - D. Instalações, equipamentos e métodos de tratamento;
40. O Código de Ética, elenca e disciplina os direitos, deveres e responsabilidades do Fonoaudiólogo, inerentes às relações estabelecidas em função de sua atividade profissional. De acordo com o código de Ética da Fonoaudiologia, no Brasil, constituem direitos gerais dos Fonoaudiólogos inscritos nos Conselhos Regionais de Fonoaudiologia, nos limites de sua competência e atribuições (Art. 5º). Neste contexto, analise as assertivas abaixo e indique a INCORRETA:
- A. Liberdade na realização de estudos e pesquisas, resguardados os direitos dos indivíduos ou grupos envolvidos em seus trabalhos;
 - B. Liberdade de opinião e de manifestação de movimentos que visem a defesa da classe;
 - C. Requisição de desagravo junto ao Conselho Regional de Fonoaudiologia da sua jurisdição, independente se atingido no exercício ou não da atividade profissional;
 - D. Exercício da atividade com ampla autonomia e liberdade de convicção;