

PORTUGUÊS

TEXTO 01 (questões de 01 a 05)

Na vida, as coisas, às vezes, andam muito devagar. Mas é importante não parar. Mesmo um pequeno avanço na direção certa já é um progresso, e qualquer um pode fazer um pequeno progresso.

Se você não conseguir fazer uma coisa grandiosa hoje, faça alguma coisa pequena. Pequenos riachos acabam convertendo-se em grandes rios.

Continue andando e fazendo.

O que parecia fora de alcance esta manhã vai parecer um pouco mais próximo amanhã ao anoitecer, se você continuar movendo-se para frente.

Cada momento intenso e apaixonado a que você dedica o seu objetivo, um pouquinho mais e você se aproxima dele.

Se você para completamente, é muito mais difícil começar tudo de novo.

Então continue andando e fazendo. Não desperdice a base que você já construiu. Existe alguma coisa que você pode fazer agora mesmo, hoje, neste exato instante.

Pode não ser muito, mas vai mantê-lo no jogo.

Vá rápido, quando puder. Vá devagar, quando for obrigado. Mas, seja lá o que for, continue. O importante é não parar!!!

Autor desconhecido. Disponível em <https://clubedavida.wordpress.com/>

01. Analisando-se o texto 01, segundo o autor,

- A) os fatos da vida acontecem obedecendo a um rigoroso planejamento.
- B) é essencial acompanhar o ritmo da vida e estacionar quando preciso for.
- C) o ser humano tem o direito a se frustrar e recuar em determinados momentos.
- D) mesmo que os objetivos não sejam alcançadas em plenitude, é preciso não desanimar e prosseguir.
- E) é imprescindível recuar diante das intempéries da vida para não correr riscos.

02. Em uma determinada passagem do texto 01, o autor revela que todo indivíduo tem potencial para progredir. Assinale a alternativa que indica essa passagem.

- A) "Pode não ser muito, mas vai mantê-lo no jogo."
- B) "Não desperdice a base que você já construiu."
- C) "...e qualquer um pode fazer um pequeno progresso."
- D) "Existe alguma coisa que você pode fazer agora mesmo, hoje, neste exato instante."
- E) "Se você para completamente, é muito mais difícil começar tudo de novo."

03. Observe os itens abaixo e as orações neles existentes.

- | | |
|------|---|
| I. | "Na vida, as coisas, às vezes, andam muito devagar. Mas é importante não parar."
Pelo fato de os acontecimentos da vida nem sempre serem muito rápidos, é prudente saber a hora de recuar. |
| II. | "Se você não conseguir fazer uma coisa grandiosa hoje, faça alguma coisa pequena."
Realize algo hoje, mesmo que seja de pequeno porte. |
| III. | "Se você para completamente, é muito mais difícil começar tudo de novo."
É sempre fácil recomeçar. |

As duas orações expressam o mesmo sentido apenas no(s) item(ns)

- A) I.
- B) II.
- C) III.
- D) II e III.
- E) I e III.

04. No texto 01, o autor se dirige ao leitor, tratando-o na 3ª. pessoa do singular (pronome VOCÊ). Se o autor decidisse se reportar a mais de um leitor, o texto CORRETO estaria indicado na alternativa

- A) Continuemos andando e fazendo.
- B) Se vocês não conseguirem fazer uma coisa grandiosa hoje, fazei alguma coisa pequena.
- C) Vão rápido quando puder. Vão devagar quando fostes obrigados.
- D) Mas, seja lá o que for, continuéis. O importante é não parar!!!
- E) Não desperdicem a base que vocês já construíram. Existe alguma coisa que vocês podem fazer agora mesmo, hoje, neste exato instante.

05. Em qual das alternativas abaixo, a vírgula foi empregada para separar a oração principal da oração subordinativa condicional?

- A) "Se você não conseguir fazer uma coisa grandiosa hoje, faça alguma coisa pequena."
 B) "Pode não ser muito, mas vai mantê-lo no jogo."
 C) "Cada momento intenso e apaixonado a que você dedica o seu objetivo, um pouquinho mais e você se aproxima dele."
 D) "Mesmo um pequeno avanço na direção certa, já é um progresso..."
 E) "Vá devagar, quando for obrigado."

TEXTO 02 (questões de 06 a 08)

POEMA A GARANHUNS	
Anchieta Gueiros de Barros	
<p><i>Garanhuns, trago na minha mente A visão do inconsciente Para cantar os teus encantos E as tuas belezas naturais As quais fizeram de ti cidade das flores.</i></p> <p><i>Do alto do Magano, tenho uma visão do Olímpios Donde a imagem de braços abertos, De Cristo Redentor, abençoa o teu povo E todos os que te visitam.</i></p> <p><i>Do Mundaú, sinto uma visão cósmica Foi de lá que aprendi a ver e sentir A quem um dia eu teria que amar.</i></p> <p><i>Do Monte Sinai, busco o infinito E vejo que tuas serras azuladas Vistas, ao longe, se confundem com os céus.</i></p> <p><i>Do morro do Cruzeiro, observo que teus ventos, Vindo uivantemente de outras colinas Se misturam com os perfumes de tuas flores Para refrescar a alma de tua gente.</i></p>	<p><i>A verdade é que, subindo montes ou descendo morros, Todos tecidos por construções caseiras Tu, Garanhuns, ficas no coração da gente Para nunca mais sair.</i></p> <p><i>Como me recordas, cidade das Sete Colinas Banhando-me com tuas águas cristalinas Vindas das fontes divinas Que a sede de Deus saciou. E na paz abrasadora do teu clima O meu corpo um dia se agasalhou.</i></p> <p><i>Portanto, ouça o cantar de quem te ama Que precisa adormecer no silêncio de tuas noites E acordar no alvorecer de tuas azuladas manhãs. Não permitais que o vão destino feche meus olhos, Em distantes terras estranhas, Pois preciso do teu clima para a sanidade Para que sempre estejamos juntos Uma vez mais juntos à eternidade A fim de gozar do repouso e da paz Que somente tu, sabes ofertar, GARANHUNS.</i></p>
Disponível em: http://www.anchietagueiros.com/2012/07/poema-garanhuns.html	

06. Observe os verbos sublinhados dos itens abaixo:

- | |
|---|
| <p>I. "Vistas, ao longe, se <u>confundem</u> com os céus."
 II. "Para <u>cantar</u> os teus encantos"
 III. "Para <u>refrescar</u> a alma de tua gente."
 IV. "Que precisa <u>adormecer</u> no silêncio de tuas noites"
 V. "Pois <u>preciso</u> do teu clima para a sanidade"</p> |
|---|

Sobre eles, assinale a alternativa CORRETA.

- A) No item I, o verbo exige complemento não regido de preposição.
 B) Tanto no item I como no II, os verbos exigem complementos não regidos de preposição.
 C) No item III, o verbo exige dois complementos, um regido de preposição e o outro não regido de preposição.
 D) No item IV, o verbo exige, apenas, um complemento regido de preposição.
 E) No item V, o verbo não exige complemento.

07. Sobre CONCORDÂNCIA VERBAL, analise os itens abaixo:

- | |
|--|
| <p>I. "E as tuas belezas naturais
 As quais <u>fizeram</u> de ti cidade das flores."
 II. "Donde a imagem de braços abertos,
 De Cristo Redentor, <u>abençoa</u> o teu povo"</p> |
|--|

III. "Do morro do Cruzeiro, observo que teus ventos,
Vindo uivamente de outras colinas
Se misturam com os perfumes de tuas flores

Em relação aos verbos sublinhados, está CORRETO o que se afirma na alternativa

- A) No item I, o verbo concorda com o sujeito simples "flores".
- B) No item II, o verbo tem como sujeito "o teu povo", razão por que se encontra na terceira pessoa do singular.
- C) No item III, o verbo concorda com o sujeito "os perfumes de tuas flores".
- D) No item II, o verbo concorda com o sujeito "a imagem de braços abertos".
- E) No item III, o verbo concorda com o sujeito "outras colinas".

08. Observe os termos sublinhados dos fragmentos abaixo:

I. "Do alto do Magano, tenho uma visão do Olímpios"
 II. "Do Mundaú, sinto uma visão cósmica"
 III. "Vistas, ao longe, se confundem com os céus."
 IV. "Banhando-me com tuas águas cristalinas"

Sobre eles, abaixo existe uma alternativa INCORRETA. Assinale-a.

- A) No item I, o acento do termo sublinhado se justifica por ser paroxítono terminado em hiato.
- B) No item II, o "u" é acentuado por ser átono e formar hiato com a vogal.
- C) No item III, o termo sublinhado é acentuado por se tratar de ditongo fechado.
- D) A tonicidade do termo sublinhado no item IV recai na penúltima sílaba e acentua-se por formar hiato.
- E) A tonicidade do segundo termo sublinhado no item II recai na antepenúltima sílaba, razão por que é acentuado.

09. Em apenas uma das alternativas abaixo, os termos sublinhados indicam exemplo de REGÊNCIA NOMINAL. Assinale-a.

- A) "Garanhuns, a ti rendo todas as homenagens."
- B) "Quem vai a Garanhuns, jamais esquece as maravilhas de lá."
- C) "Ser fiel a Garanhuns sempre, eternamente".
- D) "Dedico a Garanhuns esse poema, de teor nostálgico, saudosista."
- E) "Conhecer Garanhuns é saborear uma cidade de beleza ímpar."

10. No texto de Shakespeare, abaixo, faltam sinais de pontuação.

*"Todo mundo é capaz de dominar uma dor exceto quem a sente."
 William Shakespeare*

Pontuando-o, tem-se como CORRETA a alternativa

- A) Todo mundo é capaz de dominar uma dor exceto quem a sente.
- B) Todo mundo é capaz de dominar uma dor, exceto quem a sente.
- C) Todo mundo é capaz de dominar uma dor; exceto quem a sente.
- D) Todo mundo é capaz de dominar uma dor. Exceto quem a sente.
- E) Todo mundo é capaz de dominar uma dor: exceto quem a sente.

CONHECIMENTOS DE INFORMÁTICA

11. No WS-Windows 8, em sua configuração padrão, os cinco Botões — Pesquisar, Compartilhar, Iniciar, Dispositivos e Configurações — oferecem formas rápidas de acessar as ações realizadas com frequência, tais como pesquisar a Internet e o computador, imprimir documentos e enviar fotos e links por email. Sobre esses Botões, assinale a alternativa INCORRETA.

- A) O Botão Pesquisar usa a Pesquisa Inteligente Bing para que seja possível pesquisar o computador, a Internet e o OneDrive, além de alguns aplicativos.
- B) O Botão Compartilhar é um modo rápido de compartilhar arquivos, fotos e informações com apenas algumas pessoas de cada vez, compartilhar um link com uma rede social inteira ou enviar um artigo ao aplicativo Lista de Leitura para que possa lê-lo mais tarde.
- C) O Botão Iniciar serve para acessar a tela Inicial, não importa onde você esteja no Windows.

- D) O Botão Dispositivos é um modo rápido de enviar arquivos e informações a outros dispositivos que estão conectados ao computador. A lista de dispositivos disponíveis no Botão Dispositivos independe dos dispositivos existentes e do fato de eles estarem conectados ou não ao computador.
- E) No Botão Configurações, podem ser feitos ajustes rápidos em algumas configurações comuns (como o brilho e o volume), encontra configurações para o computador (como personalização, contas de usuário e dispositivos) e altera configurações do aplicativo que está usando.

12. O mouse tem um botão primário, normalmente o botão esquerdo, e um secundário, normalmente o botão direito. Assinale a alternativa INCORRETA sobre o uso de mouse no MS-Windows 7 na sua configuração padrão.

- A) Pode-se usar o botão primário para selecionar e clicar nos itens, posicionar o cursor em um documento e arrastar itens.
- B) Pode-se usar o botão secundário para exibir um menu de tarefas ou opções que mudam dependendo de onde se clica.
- C) Podem-se inverter os botões e usar o botão direito do mouse como primário.
- D) Pode-se configurar o botão primário para simultaneamente exibir um menu de tarefas ou opções que mudam, dependendo de onde se clica e selecionar e clicar nos itens, posicionar o cursor em um documento e arrastar itens.
- E) Pode-se ajustar a velocidade do clique duplo (o intervalo de tempo aceitável entre os cliques).

13. Assinale a alternativa que mostra a fórmula $D1 = 2 A1^2 + \frac{B1}{B1-1} + {}^3\sqrt{C1}$ digitada na célula D1 de uma planilha MS-Excel 2007.

- A) = 2 * (A1^2 + RAIZ(B1) / (B1 - 1)) + RAIZ3(C1)
- B) = 2 * (A1^2 + RAIZ(B1) / B1 - 1) + RAIZ3(C1)
- C) = 2 * (A1^2 + RAIZ(B1) / B1 - 1) + C1 ^ (1/3)
- D) = 2 * (A1^2 + RAIZ(B1) / (B1 - 1)) + C1 ^ (1/3)
- E) = 2 * (A1^2 + SQRT(B1) / (B1 - 1)) + C1 ^ (1/3)

14. Em relação aos princípios básicos da Segurança da Informação, numere a 2ª coluna de acordo com a 1ª.

- | | | |
|----------------------|-----|--|
| 1. Autenticidade | () | Conceder o acesso à informação a quem de direito apenas para as entidades autorizadas pelo proprietário ou dono da informação. |
| 2. Confidencialidade | | |
| 3. Disponibilidade | () | Manter a informação armazenada com todas as suas características originais estabelecidas pelo dono da informação, considerando a criação, manutenção e descarte. |
| 4. Integridade | | |
| 5. Irretratibilidade | () | Garantir que a informação esteja sempre disponível para uso, quando usuários autorizados necessitarem. |

Assinale a alternativa que contém a sequência CORRETA.

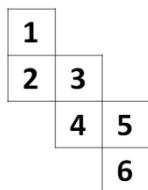
- A) 1-2-4
- B) 2-4-3
- C) 5-1-2
- D) 4-3-5
- E) 5-2-1

15. Os vírus estão entre os principais tipos de Malwares - programas especificamente desenvolvidos para executar ações danosas e atividades maliciosas em um computador. Sobre vírus, assinale a alternativa INCORRETA.

- A) Por meio de atualizações de assinaturas de antivírus, detectam-se os vírus mais recentes incluídos na lista de assinaturas, porém esse procedimento não garante a detecção de novos tipos de vírus.
- B) Vírus é um programa ou parte de um programa de computador que se propaga inserindo cópias de si mesmo e se tornando parte de outros programas e arquivos.
- C) O vírus depende da execução do programa ou arquivo hospedeiro para poder se tornar ativo e dar continuidade ao processo de infecção.
- D) Alguns vírus procuram permanecer ocultos, infectando arquivos do disco e executando uma série de atividades sem o conhecimento do usuário; outros permanecem inativos durante certos períodos, entrando em atividade apenas em datas específicas.
- E) O vírus é capaz de se propagar automaticamente pelas redes, enviando cópias de um computador para outro computador.

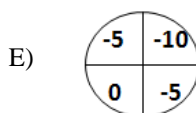
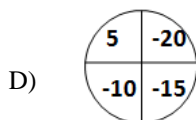
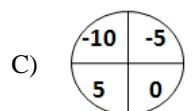
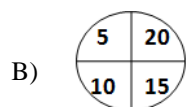
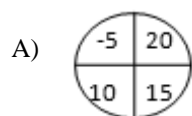
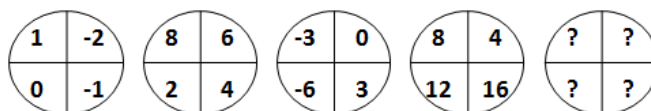
RACIOCÍNIO LÓGICO

16. Assinale a alternativa que apresenta a face oposta à face 3 do cubo aberto representado pela figura abaixo:



- A) 1
- B) 2
- C) 4
- D) 5
- E) 6

17. Assinale a alternativa que completa a sequência.



18. Em uma sala com 60 alunos, 25 são meninas, e 35, meninos. Entre os alunos, exatamente 10 meninas e 15 meninos falam inglês. Deseja-se formar duplas com um menino e uma menina, na qual, pelo menos, um dos alunos fale inglês. De quantas maneiras diferentes, essas duplas podem ser formadas?

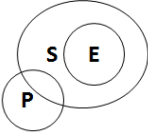
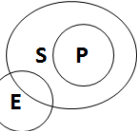
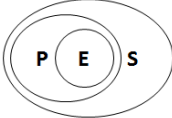
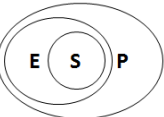
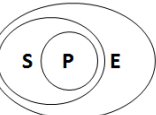
- A) 150
- B) 200
- C) 225
- D) 425
- E) 575

19. De 500 atletas enviados para uma olimpíada, 70 ganharam medalha de ouro; 60, de prata; 80, de bronze; 39, de ouro e prata; 26, de ouro e bronze; 23, de prata e bronze, e 14 ganharam as três medalhas. Logo, _____ ganharam apenas medalha de ouro; _____ apenas de prata; _____ apenas de bronze, e _____ não ganharam nenhuma medalha.

Assinale a alternativa que preenche, CORRETA e respectivamente, as lacunas.

- A) 19 / 12 / 45 / 364
- B) 70 / 80 / 60 / 290
- C) 19 / 83 / 45 / 237
- D) 45 / 19 / 12 / 364
- E) 70 / 60 / 80 / 290

20. Considere que E seja o conjunto das pessoas que praticam exercícios; S, o conjunto das pessoas saudáveis; e P, conjunto das pessoas sedentárias. Assinale a alternativa cujo diagrama melhor representa a afirmação: Toda pessoa que pratica exercício é saudável e NÃO é sedentária.

- A) 
- B) 
- C) 
- D) 
- E) 

CONHECIMENTOS ESPECÍFICOS

21. Assinale a alternativa **INCORRETA** relacionada à artrite séptica.

- A) Diabetes mellitus e insuficiência renal são consideradas fatores predisponentes.
 B) Joelho e quadril são as articulações mais acometidas.
 C) *Staphylococcus aureus* é o agente etiológico mais frequente nos adultos, e *Haemophilus influenza*, nas crianças menores de dois anos de idade.
 D) O acometimento monoarticular acontece na grande maioria dos casos.
 E) Na análise do líquido sinovial, o nível de glicose e o de polimorfonucleares encontram-se aumentados.

22. Quais são as articulações mais frequentemente acometidas na tuberculose osteoarticular, excetuando-se o Mal de Pott?

- A) Quadril e joelho
 B) Joelho e tornozelo
 C) Ombro e cotovelo
 D) Ombro e punho
 E) Punho e quadril

23. Qual o tempo de tratamento medicamentoso preconizado pelo Ministério da Saúde para a tuberculose osteoarticular?

- A) 3 meses
 B) 6 meses
 C) 2 anos
 D) 1 ano
 E) 9 meses

24. Assinale a alternativa INCORRETA relacionada à suspeita clínica de epifisiólise do quadril.

- A) Os jovens mais frequentemente acometidos apresentam indícios de alterações endócrinas.
- B) Pode apresentar dor na região do joelho.
- C) Ao exame físico, percebe-se a atitude de rotação interna do membro afetado.
- D) As radiografias da bacia devem ser realizadas em AP e posição em pata de rã.
- E) Há uma relação com o estirão de crescimento.

25. Qual o tumor ósseo maligno mais comum?

- A) Osteossarcoma
- B) Mieloma múltiplo
- C) Tumor de células gigantes
- D) Condrossarcoma
- E) Sarcoma de Ewing

26. No diagnóstico diferencial do ombro doloroso, devemos considerar todas as condições abaixo citadas, EXCETO

- A) Instabilidade.
- B) Síndrome do desfiladeiro torácico.
- C) Compressão do nervo subescapular.
- D) Síndrome do impacto.
- E) Cervicobraquialgia.

27. Assinale a alternativa INCORRETA relacionada à hérnia discal lombar.

- A) A ressonância magnética é o exame complementar de escolha e que não apresenta radiação ionizante.
- B) O tratamento cirúrgico é uma indicação absoluta na síndrome da cauda equina.
- C) A ressonância magnética apresenta uma baixa prevalência de achados anormais em pacientes assintomáticos.
- D) A grande maioria dos pacientes é tratada conservadoramente.
- E) A tomografia computadorizada é mais bem indicada na avaliação da morfologia das fraturas.

28. Na tuberculose osteoarticular, assinale a alternativa INCORRETA.

- A) As crianças são mais acometidas.
- B) A contaminação óssea ocorre geralmente por via hematogênica.
- C) A coluna vertebral é a região mais frequentemente acometida.
- D) O “abscesso frio” se caracteriza pela presença de sinais clínicos agudos de infecção.
- E) O quadro clínico de infecção é de evolução lenta.

29. Paciente após acidente de moto é atendido com trauma raquimedular. Assinale a alternativa que contém o reflexo utilizado como parâmetro do fim do choque medular.

- A) Patelar
- B) Aquileu
- C) Babinski
- D) Bulbocavernoso
- E) Cremastérico

30. Qual é o tumor ósseo benigno mais frequente?

- A) Osteocondroma
- B) Cisto ósseo aneurismático
- C) Osteoma osteoide
- D) Osteblastoma
- E) Fibroma condromixoide

31. No exame físico do ombro, a manobra de Gerber avalia o músculo

- A) subescapular.
- B) trapézio.
- C) deltoide.
- D) bíceps braquial.
- E) peitoral maior.

32. Em relação às fraturas intrarticulares do calcâneo, assinale a alternativa INCORRETA.

- A) Uma boa redução articular e o restabelecimento do ângulo de Böhler apresentam relação direta com melhores resultados.
- B) Clinicamente, os pacientes mais satisfeitos apresentam manutenção do movimento subtalar.
- C) Na abordagem inicial com a radiografia simples, a mensuração do ângulo de Gissane é mais útil que a de Böhler.
- D) As fraturas tipo IV de Sanders apresentam piores prognósticos.
- E) No tipo IV de Sanders, a incidência de artrose tardia é alta.

33. A incidência em AP (mortalha), para as fraturas do tornozelo, deve ser realizada com rotação interna de

- A) 15°
- B) 30°
- C) 35°
- D) 5°
- E) 25°

34. Qual dos compartimentos abaixo NÃO faz parte daqueles a serem descomprimidos em uma síndrome compartimental no pé?

- A) Medial
- B) Lateral
- C) Central
- D) Interósseo
- E) Ântero-lateral

35. Em relação às fraturas da pelve de alta energia, todas as alternativas abaixo estão corretas, EXCETO:

- A) É fundamental que a abordagem do paciente seja multidisciplinar.
- B) Complicações graves, como rotura de víscera e hemorragia maciça, podem ser encontradas.
- C) No tratamento ortopédico inicial, deve ser realizada uma fixação interna rígida.
- D) O atendimento precoce adequado é de grande importância para um bom resultado.
- E) São lesões graves com mortalidade significativa.

36. Qual é a localização da fratura de Jones?

- A) 1/3 médio do 5° metatarso
- B) Colo do 5° metatarso
- C) 5° metatarso, aproximadamente 1,5cm de sua extremidade proximal (tuberosidade)
- D) Extremidade proximal do 1° metatarso
- E) 1/3 médio do 1° metatarso

37. Qual é o nível mais frequentemente acometido na espondilolistese degenerativa?

- A) L2-L3
- B) L4-L5
- C) L5-S1
- D) L1-L2
- E) L3-L4

38. Assinale a alternativa INCORRETA relacionada à paralisia obstétrica.

- A) A paralisia alta de Erb-Duchenne é a mais frequente.
- B) A síndrome de Claude Bernard Horner representa um mau prognóstico.
- C) A paralisia baixa de Klumpke afeta as raízes C8 e T1.
- D) O tratamento inicial é sempre conservador.
- E) A sífilis congênita não faz parte do diagnóstico diferencial.

39. O triângulo de Codman pode ser visto em todas as condições abaixo, EXCETO em

- A) osteossarcomas.
- B) lesões ósseas hemorrágicas.
- C) fraturas subperiosteais agudas.
- D) infecções ósseas.
- E) sarcoma de Ewing.

40. Qual dos testes abaixo é utilizado na suspeita diagnóstica de uma síndrome do desfiladeiro torácico?

- A) Durkan
- B) Finkelstein
- C) Watson
- D) Spurling
- E) Adson



ATENÇÃO

- *Abra este Caderno, quando o Fiscal de Sala autorizar o início da Prova.*
- *Observe se o Caderno está completo. Ele deverá conter 40 (quarenta) questões objetivas de múltipla escolha com 05 (cinco) alternativas cada, sendo 10 (dez) de Português, 05 (cinco) de Conhecimentos de Informática, 05 (cinco) de Raciocínio Lógico e 20 (vinte) de Conhecimentos Específicos.*
- *Se o Caderno estiver incompleto ou com algum defeito gráfico que lhe cause dúvidas, informe, imediatamente, ao Fiscal.*
- *Uma vez dada a ordem de início da Prova, preencha, nos espaços apropriados, o seu Nome completo, o Número do seu Documento de Identidade, a Unidade da Federação e o Número de Inscrição.*
- *Para registrar as alternativas escolhidas nas questões objetivas de múltipla escolha, você receberá um Cartão-Resposta de Leitura Ótica. Verifique se o Número de Inscrição impresso no Cartão coincide com o seu Número de Inscrição.*
- *As bolhas constantes do Cartão-Resposta devem ser preenchidas totalmente, com caneta esferográfica azul ou preta.*
- *Preenchido o Cartão-Resposta, entregue-o ao Fiscal e deixe a sala em silêncio.*



BOA SORTE!

