

# Prefeitura Municipal de São José da Lapa/MG - Concurso Público

## CONCURSO PÚBLICO Nº 001/2015



### Procurador Municipal

**Tarde**

Organizadora:



**CARGO: PROCURADOR MUNICIPAL**

**Mercado de orgânicos vive boa fase no *delivery* e *internet***

À espera de um bebê, pai e mãe passam a se questionar sobre o tipo de alimentação que desejam para o filho que vem por aí e para o seu próprio futuro. Começam a procurar por produtos orgânicos, mas esbarram na questão do preço elevado nos supermercados e na dificuldade de se encontrar frutas, verduras e legumes sem agrotóxico em qualquer canto da cidade. Assim, quase junto com o nascimento das crianças, surgem iniciativas como uma empresa de entregas de cestas de orgânicos, a *Orgânicos In Box*, e um supermercado *on-line* praticamente só com produtos desse tipo, o *Organomix*. Engajados e empreendedores, consumidores vêm ajudando a criar um mercado de orgânicos no Rio para lá de aquecido, com direito a grupos de compras coletivas na *internet* e agricultores que disponibilizam seus produtos na rede.

Tainá, hoje com 8 meses, ainda estava na barriga da mãe quando o casal Aline Santolia e Eduardo Rodrigues começou a imaginar o que seria a *Orgânicos In Box*, pequena empresa familiar de entregas de cestas. Eles haviam voltado da Califórnia e queriam trabalhar com alimentação, mas ainda não sabiam em que área. Chegaram à distribuição de orgânicos quase ao mesmo tempo em que Aline engravidou.

— Acho que foi a Tainá que deu o empurrão. A gente nunca quis comer alimento com veneno. Um saco de sementes com agrotóxico tem até desenho de caveira, já viu? — pergunta Eduardo.

No início, há um ano, os pedidos vinham dos amigos e somavam 30 cestas por semana. Hoje são 170. Alguém deu a ideia de montar um grupo no *Facebook* para organizar a história toda; agora são 6.500 inscritos por lá. O surfista Carlos Burle é um dos clientes:

— Minha mulher descobriu. Já tínhamos costume de comprar orgânicos no supermercado. A cesta acaba dando a possibilidade de consumir produtos mais frescos, colhidos há menos tempo.

Os preços variam entre R\$ 55 e R\$ 120, e os pedidos são entregues na Zona Sul, em Santa Teresa, na Barra e na Tijuca.

Em outro canto da cidade, na Ilha do Governador, Pedro *Sanctos Vettorazzo* teve que deixar a bicicleta que usava para fazer entregas, pois ela já não dava conta da grande quantidade de pedidos. Ele é um dos únicos que prestam este tipo de serviço na região. A sua *Horto Vitae* surgiu em 2013, quando Pedro tentava encontrar “um emprego que respeitasse outros seres humanos e animais”. [...]

O que normalmente motiva as pessoas a comprar orgânicos é a busca pela comida saudável. Mas em pouco tempo muitos descobrem que consumir este tipo de alimento envolve outras questões, tão importantes quanto a primeira.

— Quem chega ao orgânico percebe que por trás há uma filosofia de não poluição e que, com a compra, há geração de renda para quem vive no campo. O consumidor se torna um agente político ao fazer esta escolha — analisa Ana Asti, diretora da Sedes.

(Revista O Globo, 04 de outubro de 2015. Fragmento.)

**01**

**De acordo com a estrutura textual e características predominantes do texto, pode-se afirmar que seu principal objetivo é**

- A) persuadir o leitor através do posicionamento de ideias apresentadas.
- B) descrever uma situação atípica como a compra de alimentos pela *internet*.
- C) discutir a necessidade de mudanças de hábitos alimentares no contexto contemporâneo.
- D) apresentar informações sobre uma questão relevante na atualidade, tendo em vista aspectos como saúde e sustentabilidade.

**02**

**Acerca das informações textuais, analise as afirmativas a seguir.**

- I. A procura por produtos orgânicos é impedida em virtude de dois pontos principais: preço alto e a falta de legumes, frutas e verduras sem agrotóxico.
- II. A tecnologia tem sido aliada na divulgação e distribuição de alguns negócios relacionados ao mercado de orgânicos.
- III. A escolha pelo consumo de orgânicos está relacionada a questões que vão além do consumo de produtos saudáveis, como economia e política.

**Está(ão) correta(s) apenas a(s) afirmativa(s)**

- A) II.
- B) I e II.
- C) I e III.
- D) II e III.

03

Em “*Chegaram à distribuição de orgânicos quase ao mesmo tempo em que Aline engravidou.*” (2º§), o emprego do acento grave indicador de crase é obrigatório, pois,

- A) seu emprego é obrigatório em casos de locução feminina.
- B) seu emprego elimina possível ambiguidade em relação à expressão “*distribuição de orgânicos*”.
- C) a forma verbal “*chegaram*” possui transitividade verbal direta e indireta, o que assegura seu emprego.
- D) o termo regente determina o emprego da preposição acrescido ao fato de que o termo regido admite diante de si o emprego do artigo feminino.

04

Leia o trecho a seguir e considere as funções que os termos exercem do ponto de vista da sintaxe. “*O que normalmente motiva as pessoas a comprar orgânicos é a busca pela comida saudável. Mas em pouco tempo muitos descobrem que consumir este tipo de alimento envolve outras questões, tão importantes quanto a primeira.*” (8º§)

Acerca dos termos destacados pode-se afirmar que:

- A) Apenas dois possuem a mesma classificação.
- B) Todos possuem a mesma classificação sintática.
- C) Todos possuem classificação sintática diferente entre si.
- D) Apenas um dos termos não possui a mesma classificação sintática dos demais.

05

Quanto à constituição do período “*Eles haviam voltado da Califórnia e queriam trabalhar com alimentação, mas ainda não sabiam em que área.*” (2º§) pode-se afirmar que há ocorrência de

- A) orações coordenadas assindéticas, estando apenas justapostas.
- B) orações coordenadas sindéticas, de aspecto aditivo e adversativo.
- C) oração principal seguida de orações subordinadas adverbiais de sentidos diferentes.
- D) oração principal seguida de orações subordinadas com aspecto explicativo e conclusivo.

06

“— *Acho que foi a Tainá que deu o empurrão. A gente nunca quis comer alimento com veneno. Um saco de sementes com agrotóxico tem até desenho de caveira, já viu?* — pergunta Eduardo.” (3º§)



(Disponível em: <http://agrooffice.blogspot.com.br/2013-03-19T00:23:00-03:00&max-results=20&reverse-paginate=true.>)

Considerando o trecho do texto destacado e a charge apresentada, é correto afirmar que

- A) a linguagem utilizada na charge possui finalidade equivalente ao segmento do texto destacado.
- B) são complementares quanto ao conteúdo, apresentado através de recursos da linguagem específicos e diferentes em cada um dos textos.
- C) a inadequação gramatical vista na charge é responsável por prejudicar seu entendimento completo, o que não ocorre no segmento do texto.
- D) apesar de serem semelhantes quanto ao assunto abordado, a forma da linguagem utilizada em cada um dos textos provoca uma oposição de ideias.

07

O segmento “À espera de um bebê” no início do texto, demonstra dois aspectos que produzem influência em relação à informação seguinte, a saber:

- A) Temporal e causal. C) Consecutivo e distintivo.  
B) Mediativo e condicional. D) Objetivo e individualista.

08

Em “A sua Horto Vitae surgiu em 2013, quando Pedro tentava encontrar ‘um emprego que respeitasse outros seres humanos e animais’. [...]” (7º§), o segmento “um emprego de que respeitasse outros seres humanos e animais” é delimitado por aspas, o que indica

- A) citação de trechos textuais.  
B) o esclarecimento das ideias anteriormente expressas.  
C) expressão que o enunciador caracteriza como de autoria alheia.  
D) destaque proposital de acordo com razão discursiva indicando uma conclusão.

09

O título do texto apresenta uma linguagem em que determinado recurso de caráter estilístico foi utilizado, em que ocorre

- A) a designação de um ser por meio de seus atributos.  
B) o uso de uma palavra por outra com a qual se acha relacionada.  
C) confronto de dois elementos distintos, mas que possuem traços comuns.  
D) o desvio da significação própria de uma palavra, a partir de uma comparação implícita.

10

De acordo com o contexto, a fala de Eduardo em “— Acho que foi a Tainá que deu o empurrão.” (3º§) demonstra o emprego de uma linguagem cujo aspecto pode ser também reconhecido em:

- A) “Filipe bebia muito naquela época.”  
B) “À despedida, Cristina me beijava três vezes.”  
C) “Deus chamou à luz dia, e às trevas chamou noite”.  
D) “Por um momento foi como se o céu desabasse de seu azul.”

### CONHECIMENTOS DE INFORMÁTICA

11

Os computadores, na atualidade, possuem grande capacidade de armazenamento de dados. Cada vez mais os discos rígidos, HD's, dos computadores vêm com mais capacidade para armazenamento de dados. Hoje já é normal encontrar computadores com armazenamento de 1 *terabyte*, ou até mais. Cada vez mais os usuários armazenam filmes, músicas, *shows*, além de seus arquivos e programas favoritos. A menor unidade de dados da computação é o *bit* (*Binary Digit* ou Dígito Binário). Logo a seguir vem o *Byte*, *Kilobyte*, *Megabyte*, *Gigabyte*, *Terabyte* etc., e assim por diante, que são medidas de grandeza da computação. Sabendo que cada caractere digitado no computador é correspondente a 1 *byte*, assinale o valor correspondente, em *bits*, de 1 *byte*.

- A) 2 *bits*. B) 4 *bits*. C) 6 *bits*. D) 8 *bits*.

12

Na elaboração de uma planilha, utilizando o *Microsoft Excel 2010*, configuração padrão – Idioma Português-Brasil, por vezes é necessário selecionar determinadas células para efetuar alguma formatação, seja de cor, fonte, ou outro tipo de formatação que se deseja. Em alguns casos, pode ser preciso realizar alguma formatação, como, por exemplo, padronizar a fonte de toda uma planilha, e, neste caso, é necessário selecionar toda a planilha e aplicar a formatação da fonte que se deseja. Se essa planilha for pequena, a simples seleção com o *mouse* (clicar e arrastar) pode ser útil, mas caso a planilha seja muito grande, pode ser necessário utilizar-se do recurso de uma combinação de teclas no teclado. Assinale a alternativa que apresenta a sequência de teclas utilizadas para selecionar uma planilha inteira.

- A) <CTRL> + <T> B) <SHIFT> + <T> C) <CTRL> + <F> D) <SHIFT> + <F>



**19**

**Nos termos da Lei nº 8.429/1992, quanto ao processo de improbidade administrativa, é correto afirmar que**

- A) o Ministério Público, se não intervir no processo como parte, atuará obrigatoriamente, como fiscal da lei, sob pena de nulidade.
- B) em qualquer fase do processo, reconhecida a inadequação da ação de improbidade, o juiz converterá o processo em ação ordinária anulatória.
- C) o juiz notificará o requerido, para oferecer manifestação por escrito, que poderá ser instruída com documentos, dentro do prazo de vinte dias.
- D) a propositura da ação prevenirá a jurisdição do juízo para todas as ações posteriormente intentadas, independente da causa de pedir ou do objeto.

**20**

**Quanto à fiscalização do município de São José da Lapa, observadas as normas constitucionais, é correto afirmar que**

- A) o controle externo da Câmara Municipal será exercido com o auxílio dos Tribunais de Contas do Estado.
- B) as contas do município ficarão, durante noventa dias, anualmente, à disposição de qualquer contribuinte.
- C) o parecer da Câmara Municipal, sobre as contas do prefeito, só deixará de prevalecer por decisão judicial.
- D) a fiscalização do Poder Executivo será exercida pelo Poder Legislativo Municipal, mediante controle interno.

**21**

**A Lei Complementar nº 101/2000, que dispõe sobre a responsabilidade da administração pública na gestão fiscal,**

- A) surgiu, no contexto brasileiro, com a reforma gerencial do Estado.
- B) aplica-se aos gastos públicos, excetuados os relativos à despesa de pessoal.
- C) foi recentemente declarada inconstitucional pelo Supremo Tribunal Federal.
- D) não tem aplicabilidade municipal por ser instituída no âmbito do Legislativo Federal.

**22**

**Nos termos da Lei Federal nº 8.666/1993, assinale a alternativa que apresenta uma irregularidade nos contratos administrativos.**

- A) Celebração de um contrato de locação de imóvel por prazo determinado de seis meses.
- B) Exigência de garantia, em obra estimada em R\$ 4.000.000,00, de garantia no montante de 10%.
- C) Contrato verbal de compra de pronto pagamento de um cartucho de impressora estimado em R\$ 100,00.
- D) Contratação de um serviço de informática, estimado em R\$ 120.000,00, precedido de licitação por convite.

**23**

**Quanto ao Direito Tributário brasileiro, assinale a afirmativa correta.**

- A) É vedado cobrar imposto sobre o patrimônio, a renda ou serviços dos partidos políticos, excetuadas suas fundações, das entidades sindicais dos trabalhadores, das instituições de educação e de assistência social, sem fins lucrativos.
- B) A competência tributária é indelegável, salvo atribuição das funções de arrecadar ou fiscalizar tributos, ou de executar leis, serviços, atos ou decisões administrativas em matéria tributária, conferida a pessoa jurídica de direito público ou privado.
- C) O imposto, de competência dos municípios, sobre a propriedade predial e territorial urbana tem como fato gerador a propriedade, o domínio útil ou a posse de bem imóvel por natureza ou por acessão física, como definido na lei civil, localizado na zona urbana do município.
- D) A contribuição de melhoria, de competência exclusiva municipal, é instituída para fazer face ao custo de obras públicas de que decorra valorização imobiliária, tendo como limite total a despesa realizada e como limite individual o acréscimo de valor que da obra resultar para cada imóvel beneficiado.

**24**

**No âmbito da administração pública do município, é filiado obrigatório do regime geral de previdência social**

- A) qualquer servidor estatutário ocupante exclusivamente de cargo em comissão.
- B) o contratado temporário, desde que regido pela consolidação das leis do trabalho.
- C) o servidor público que se encontra em afastamento ou licenciado do cargo público efetivo.
- D) o ocupante de cargo efetivo que ingressou no serviço público após a emenda constitucional nº 41/2003.

25

“Um auxiliar administrativo do município de São José da Lapa emitiu um alvará de construção a determinado cidadão que preenchia todos os requisitos legais para a obtenção da licença. De posse da licença para construir, desconhecendo o vício de competência na expedição do ato, o cidadão iniciou a edificação.” O prefeito municipal, na hipótese narrada, deverá:

- A) Anular o ato por vício quanto ao motivo.
- B) Determinar a demolição da obra iniciada.
- C) Revogar o alvará por se tratar de ato discricionário.
- D) Convalidar o ato praticado com vício de competência.

**RACIOCÍNIO LÓGICO**

26

Seja o sistema de equações a seguir:

$$\begin{cases} \frac{x}{y} + \frac{y}{x} = 2,9 \\ x - y = 12 \end{cases}$$

Considerando que  $x$  e  $y$  são números naturais tem-se que

- A)  $x$  e  $y$  são pares.
- B)  $x$  e  $y$  são ímpares.
- C)  $x$  é par e  $y$  é ímpar.
- D)  $x$  é ímpar e  $y$  é par.

27

Uma pesquisa foi realizada com um grupo de pessoas a respeito de três doenças: diabete, hipertensão e miopia. Com os dados obtidos, verificou-se que:

- 23 têm apenas diabete;
- 27 têm apenas hipertensão;
- 29 têm apenas miopia;
- 18 são diabéticos e hipertensos;
- 25 são míopes e hipertensos;
- 23 são míopes e diabéticos;
- 17 pessoas não apresentam nenhuma das três doenças; e,
- 4% são míopes, diabéticos e hipertensos.

Quantas pessoas tem o grupo que participou da pesquisa?

- A) 140.
- B) 150.
- C) 160.
- D) 170.

28

Um professor corrigiu várias provas num período de três dias da seguinte forma:


- dois quintos do total de provas no primeiro dia;
- um terço do restante no segundo dia; e,
- 92 provas no terceiro dia.

Quantas provas foram corrigidas nos dois primeiros dias?

- A) 126.
- B) 130.
- C) 134.
- D) 138.

29

A área em negrito no interior do quadrado a seguir é igual a  $40 \text{ cm}^2$ .



O perímetro desse quadrado é igual a:

- A) 28 cm.
- B) 30 cm.
- C) 32 cm.
- D) 36 cm

30

Seja a sequência de figuras a seguir:

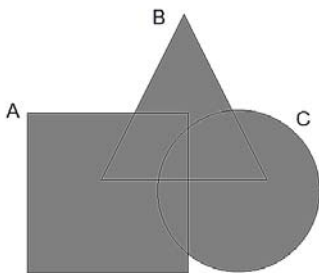


A centésima e a centésima primeira figuras dessa sequência são, respectivamente:

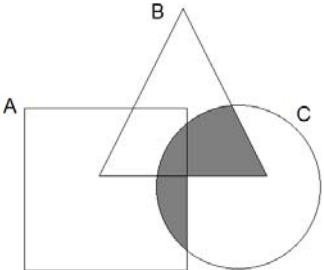
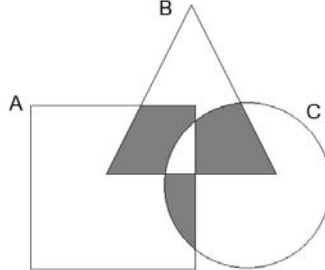
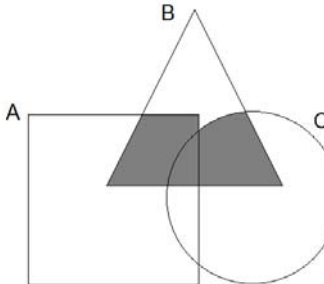
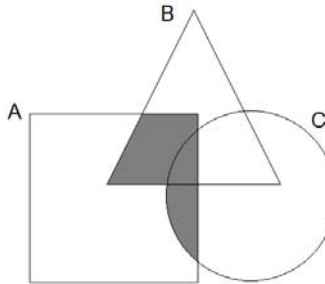
- A)        B)        C)        D)  

31

O diagrama a seguir representa três conjuntos: A, B e C.



O diagrama que representa o conjunto  $(B \cap C) \cup (A \cap C)$  é:

- A)       C) 
- B)       D) 

32

Diogo começou a ler um livro da seguinte maneira: leu uma página no primeiro dia e a cada dia seguinte leu duas páginas a mais do que havia lido no dia anterior. Quantos dias Diogo levou para ler esse livro se o mesmo tem 529 páginas?

- A) 21.      B) 23.      C) 27.      D) 29.

33

Uma palavra é formada por cinco letras distintas, sendo duas vogais e três consoantes. Quantos anagramas dessa palavra começam com vogal e terminam com consoante?

- A) 30.      B) 36.      C) 42.      D) 45.





**39**

Um relatório da Organização para a Cooperação e Desenvolvimento Econômico (OCDE) divulgado no final de 2015 alertou que os fluxos do comércio global têm caído perigosamente a níveis normalmente associados à recessão global, embora ações tomadas pela China e outros países devam garantir uma retomada em 2016. A expectativa para o Brasil nos próximos dois anos é de

- A) crescimento com retração no segundo ano nos índices positivos.
- B) contração econômica, sendo bem menor em 2016 do que em 2015.
- C) crescimento contínuo, com crescimento significativo no segundo ano.
- D) contração econômica contínua, com índices mais acentuados no segundo ano.

**40**

Que nação europeia que, em meio a grande crise econômica, vive grande impasse com sua região denominada Catalunha que vem empenhando grande campanha separatista rechaçada pelo governo e pelos moradores das demais regiões do país?

- A) Itália.
- B) Grécia.
- C) Espanha.
- D) Portugal.



## INSTRUÇÕES

1. Material a ser utilizado: caneta esferográfica de tinta azul ou preta, feita de material transparente e de ponta grossa. Os objetos restantes devem ser colocados em local indicado pelo fiscal da sala, inclusive aparelho celular desligado e devidamente identificado.
2. Não é permitida, durante a realização das provas, a comunicação entre os candidatos nem a utilização de máquinas calculadoras e/ou similares, livros, anotações, impressos ou qualquer outro material de consulta, protetor auricular, lápis, borracha ou corretivo. Especificamente, não é permitido que o candidato ingresse na sala de provas sem o devido recolhimento, com respectiva identificação, dos seguintes equipamentos: *bip*, telefone celular, *walkman*, agenda eletrônica, *notebook*, *palmtop*, *ipod*, *ipad*, *tablet*, *smartphone*, mp3, mp4, receptor, gravador, máquina de calcular, máquina fotográfica, controle de alarme de carro, relógio de qualquer modelo etc.
3. Não será permitida, durante a realização da prova escrita, a utilização pelo candidato de óculos escuros (exceto para correção visual ou fotofobia) ou quaisquer acessórios de chapelaria (chapéu, boné, gorro e etc.).
4. Não será permitido ao candidato fumar na sala de provas, bem como nas dependências do local de aplicação.
5. A duração da prova é de 03 (três) horas, já incluindo o tempo destinado à entrega do Caderno de Provas e à identificação – que será feita no decorrer da prova – e ao preenchimento do Cartão de Respostas (Gabarito).
6. Somente em caso de urgência pedir ao fiscal para ir ao sanitário, devendo no percurso permanecer absolutamente calado, podendo antes e depois da entrada sofrer revista através de detector de metais. Ao sair da sala no término da prova, o candidato não poderá utilizar o sanitário. Caso ocorra uma emergência, o fiscal deverá ser comunicado.
7. O Caderno de Provas consta de 40 (quarenta) questões para os cargos das Tabelas I, II e III e de 30 (trinta) questões para os cargos da Tabela IV e V. Leia-o atentamente.
8. **As questões das provas objetivas são do tipo múltipla escolha, com 04 (quatro) opções (A a D) e uma única resposta correta.**
9. Ao receber o material de realização das provas, o candidato deverá conferir atentamente se o Caderno de Provas corresponde ao cargo a que está concorrendo, bem como se os dados constantes no Cartão de Respostas (Gabarito) que lhe foi fornecido estão corretos. Caso os dados estejam incorretos, ou o material esteja incompleto, ou tenha qualquer imperfeição, o candidato deverá informar tal ocorrência ao fiscal.
10. Os fiscais não estão autorizados a emitir opinião e prestar esclarecimentos sobre o conteúdo das provas. Cabe única e exclusivamente ao candidato interpretar e decidir.
11. O candidato poderá retirar-se do local de provas somente a partir dos 90 (noventa) minutos após o início de sua realização, contudo, não poderá levar consigo o Caderno de Provas, sendo permitida essa conduta apenas no decurso dos últimos 30 (trinta) minutos anteriores ao horário previsto para o seu término.
12. Os 3 (três) últimos candidatos de cada sala somente poderão sair juntos. Caso o candidato insista em sair do local de aplicação das provas, deverá assinar um termo desistindo do Concurso Público e, caso se negue, deverá ser lavrado Termo de Ocorrência, testemunhado pelos 2 (dois) outros candidatos, pelo fiscal da sala e pelo Coordenador da Unidade.

## RESULTADOS E RECURSOS

- As provas aplicadas, assim como os gabaritos preliminares das provas objetivas serão divulgados na *internet*, no endereço eletrônico [www.idecan.org.br](http://www.idecan.org.br), a partir das 16h00min do dia subsequente ao da realização das provas.
- O candidato que desejar interpor recursos contra os gabaritos oficiais preliminares das provas objetivas disporá de 03 (três) dias úteis, a partir do dia subsequente à divulgação, em requerimento próprio disponibilizado no *link* correlato ao Concurso Público no endereço eletrônico [www.idecan.org.br](http://www.idecan.org.br).
- A interposição de recursos poderá ser feita via *internet*, através do Sistema Eletrônico de Interposição de Recursos, com acesso pelo candidato ao fornecer dados referentes à sua inscrição apenas no prazo recursal, ao IDECAN, conforme disposições contidas no endereço eletrônico [www.idecan.org.br](http://www.idecan.org.br), no *link* correspondente ao Concurso Público, ou ainda via presencial, pois será disponibilizado um ponto de acesso à *internet* para o candidato na sede da Prefeitura Municipal, exceto sábados, domingos, feriados e pontos facultativos, no horário de 12h00min às 17h00min, no endereço da Praça Pedro Firmino Barbosa, nº 176, Centro, CEP: 33.350-000, São José da Lapa/MG, no horário de 12h00min as 18h00min.