



# CÂMARA MUNICIPAL DE VALINHOS

ESTADO DE SÃO PAULO

## CONCURSO PÚBLICO

### 001. PROVA OBJETIVA

ASSISTENTE ADMINISTRATIVO / ASSISTENTE DE ALMOXARIFE  
ASSISTENTE DE PROTOCOLO / OFICIAL DE GABINETE / SERVIÇOS GERAIS

- ◆ Você recebeu sua folha de respostas e este caderno contendo 50 questões objetivas.
- ◆ Confira seus dados impressos na capa deste caderno e na folha de respostas.
- ◆ Quando for permitido abrir o caderno, verifique se está completo ou se apresenta imperfeições. Caso haja algum problema, informe ao fiscal da sala.
- ◆ Leia cuidadosamente todas as questões e escolha a resposta que você considera correta.
- ◆ Marque, na folha de respostas, com caneta de tinta azul ou preta, a letra correspondente à alternativa que você escolheu.
- ◆ A duração da prova é de 3 horas, já incluído o tempo para o preenchimento da folha de respostas.
- ◆ Só será permitida a saída definitiva da sala e do prédio após transcorridos 75% do tempo de duração da prova.
- ◆ Ao sair, você entregará ao fiscal a folha de respostas e este caderno, podendo levar apenas o rascunho de gabarito, localizado em sua carteira, para futura conferência.
- ◆ Até que você saia do prédio, todas as proibições e orientações continuam válidas.

**AGUARDE A ORDEM DO FISCAL PARA ABRIR ESTE CADERNO DE QUESTÕES.**

Nome do candidato

RG

Inscrição

Prédio

Sala

Carteira



## CONHECIMENTOS GERAIS

### LÍNGUA PORTUGUESA

Leia o texto e responda às questões de números **01** a **08**.

#### *Cidades inovadoras*

Se uma cidade criativa fosse uma simples soma aritmética, os termos seriam: tecnologia, tolerância, talentos e tesouros.

A equação original, cunhada pelo urbanista americano Richard Florida, continha os três primeiros “tês”. O último é acréscimo do engenheiro e professor brasileiro Victor Mirshawka, autor de “Cidades Criativas”.

De acordo com Mirshawka, o uso da tecnologia nas cidades não se reduz ao universo digital. Inclui também iniciativas que têm impacto direto no cotidiano da população.

Ele cita Barcelona, que implementou o sistema de captação de lixo por tubos. A medida levou à redução no número de caminhões de coleta, com consequências positivas no trânsito.

Os itens tolerância e talentos, por sua vez, estão intimamente ligados. O primeiro, diz o autor, abarca temas como orientação sexual e migração. “Essa mescla, envolvendo várias religiões e costumes, permite diversidade, com resultados em campos como gastronomia e música.”

Já o quesito talentos depende de um excelente sistema educacional, que funciona como um ímã para pessoas com ideias inovadoras.

“Nesse sentido, a cidade com mais talentos do mundo é Boston (EUA), que tem 350 mil estudantes em instituições como Harvard e MIT. Metade dos alunos são estrangeiros e, obviamente, os americanos ganham com isso.”

Por último, há os tesouros, que são tanto obras humanas (museus e monumentos) quanto da natureza (rio Amazonas e cachoeiras do Iguaçu). Essas atrações, diz Mirshawka, geram “visitabilidade”, fator fundamental para as cidades criativas. “A grande questão é como fazer com que as pessoas queiram estar na sua cidade.”

Assim, também é preciso pensar na criação de um calendário de eventos. Holambra, com seu Festival das Flores, e Barretos, com sua Festa do Peão, são dois exemplos em São Paulo.

O Brasil conta com cinco membros na Rede de Cidades Criativas da Unesco, escolhidos pela atuação em áreas específicas. A capital do Pará, por exemplo, destaca-se na gastronomia pela pesquisa e utilização dos múltiplos ingredientes de origem amazônica e pela capacidade de gerar milhares de empregos.

(Bruno Lee. *Folha de S.Paulo*, 30.06.2017. Adaptado)

**01.** De acordo com o texto, é correto afirmar que

- (A) todas as cidades são consequência de uma hipotética e elementar soma aritmética que envolve quatro termos.
- (B) as iniciativas pessoais de maior impacto no cotidiano são consequência das limitações impostas pelo universo digital.
- (C) o surgimento de talentos, tanto na gastronomia como na música, é consequência da discriminação entre grupos sociais.
- (D) a convivência entre pessoas inovadoras é consequência de ambientes que oferecem alto nível de escolaridade.
- (E) a existência de cidades com tesouros humanos e naturais é consequência do número de visitantes que elas recebem.

**02.** No contexto do oitavo parágrafo, o termo “visitabilidade” pode ser corretamente entendido como a capacidade de uma cidade para:

- (A) contratar profissionais com vasta experiência para solucionar os problemas do déficit orçamentário.
- (B) elaborar estratégias variadas para ampliar o número de pessoas interessadas em conhecer a cidade.
- (C) organizar eficientemente a coleta de resíduos melhorando a circulação de veículos na cidade.
- (D) apoiar a diversidade, propondo aos moradores debates sobre tolerância, religiões e costumes.
- (E) minimizar as diferenças entre os grupos sociais ampliando o acesso de moradores às tecnologias digitais.

**03.** Assinale a alternativa em que o termo entre parênteses substitui, sem alterar o sentido do texto, a expressão destacada no trecho selecionado.

- (A) Se uma cidade criativa fosse uma **simples** soma aritmética... (elaborada)
- (B) A equação original, **cunhada** pelo urbanista americano Richard Florida... (recriada)
- (C) Ele cita Barcelona, que **implementou** o sistema de captação de lixo por tubos. (reconstruiu)
- (D) Os itens tolerância e talentos, por sua vez, estão **intimamente** ligados. (intrinsecamente)
- (E) O Brasil **conta com** cinco membros na Rede de Cidades Criativas da Unesco... (remunera)

04. Considere a frase:

Em Barcelona, a coleta de lixo por tubos levou, com sucesso, à redução do número de caminhões que circulavam diariamente pelos bairros, o que melhorou bastante as condições de trânsito na cidade.

Nessa frase, as expressões que apresentam, respectivamente, circunstâncias de modo e de intensidade são:

- (A) Em Barcelona; com sucesso.
- (B) Em Barcelona; diariamente.
- (C) bastante; por tubos.
- (D) com sucesso; bastante.
- (E) com sucesso; na cidade.

05. Assinale a alternativa em que a frase está redigida e pontuada de acordo com a norma-padrão da língua portuguesa.

- (A) Boston, onde metade dos alunos são estrangeiros, é uma fonte de riqueza intelectual para os EUA.
- (B) Boston, pela qual metade dos alunos são estrangeiros, é uma fonte, de riqueza intelectual, para os EUA.
- (C) Boston, cuja a metade dos alunos são estrangeiros, é uma fonte de riqueza intelectual para os EUA.
- (D) Boston da qual, metade dos alunos são estrangeiros, é uma fonte de riqueza intelectual para os EUA.
- (E) Boston com a qual, metade dos alunos são estrangeiros, é uma fonte de riqueza intelectual para os EUA.

06. A Rede de Cidades Criativas da Unesco, que prestigia **profissionais** pelo trabalho significativo que exercem em determinadas áreas, conta com cinco brasileiros.

O pronome que substitui corretamente a palavra destacada e está adequadamente colocado na frase encontra-se em:

- (A) ... que prestigia-**lhes**...
- (B) ... que prestigia-**os**...
- (C) ... que prestigia-**nos**...
- (D) ... que **lhes** prestigia...
- (E) ... que **os** prestigia...

07. Assinale a alternativa em que a expressão destacada está empregada em sentido próprio.

- (A) De acordo com a Unesco, Belém **vem se tornando um manancial** para muitas instituições voltadas a pesquisas em tecnologia de alimentos.
- (B) De acordo com a Unesco, Belém **tem aberto horizontes** para muitas instituições voltadas a pesquisas em tecnologia de alimentos.
- (C) De acordo com a Unesco, Belém **tem sido embrião** de muitas instituições voltadas a pesquisas em tecnologia de alimentos.
- (D) De acordo com a Unesco, Belém **vem se tornando endereço** de muitas instituições voltadas a pesquisas em tecnologia de alimentos.
- (E) De acordo com a Unesco, Belém **vem se tornando uma joia preciosa** para muitas instituições voltadas a pesquisas em tecnologia de alimentos.

08. Considere a frase:

Boston, \_\_\_\_\_ a outras cidades universitárias do mundo, é a que \_\_\_\_\_ mais intelectuais talentos.

De acordo com a norma-padrão da língua portuguesa, as lacunas dessa frase devem ser preenchidas, respectivamente, por:

- (A) comparada ... reúnem
- (B) comparado ... reúnem
- (C) comparada ... reúne
- (D) comparados ... reúne
- (E) comparadas ... reúnem

Leia o texto para responder às questões de números **09 a 13**.

### *Funcionário novo deve evitar ser invasivo*

No mercado de trabalho, a primeira impressão nem sempre é a que fica. Para os novatos ansiosos em mostrar serviço, saber disso pode ajudar a controlar as expectativas.

“As empresas costumam ser complacentes com quem está começando. Ninguém é excepcional na primeira semana. O desempenho se mostra no dia a dia”, diz a psicóloga Myrt Cruz.

Ela afirma que, para passar pelos primeiros dias de trabalho de forma tranquila, é preciso anotar tudo: tarefas, sistemas utilizados e nomes de chefes, colegas e clientes.

A estratégia foi usada por Matheus C., 26, contratado há alguns meses por um escritório de advocacia. “Eu me sentia bobo, não sabia nem usar a impressora.”

A mudança deixou o advogado inseguro, já que estava saindo de uma empresa grande e indo para uma menor, para assumir mais responsabilidades.

Para se acalmar, encarou a novidade como um desafio, e foi mais simples do que ele pensava.

Uma regra de ouro, de acordo com Cruz, é ir com calma. Isso vale inclusive na hora de tirar dúvidas. É preciso bom senso para não importunar colegas ou invadir o espaço do outro.

“Tento estar sempre dentro das conversas da equipe. Uma parte do aprendizado é perguntar para os outros, mas a outra é observação”, diz Natalia C., 27, contratada por uma agência de publicidade.

Para Fátima Motta, professora e consultora de carreira, é fundamental ser humilde e mostrar boa vontade. “Cada vez mais precisamos de profissionais sem frescura, que façam o que precisa ser feito.”

Érika A., 21, foi bem recebida em seu novo trabalho, mas considera que sua motivação foi essencial para garantir um aprendizado rápido. “Não fiquei parada. Tem que mostrar entusiasmo, porque quanto mais interessada você está, mais conteúdo vão te passar.”

Já os profissionais mais velhos são contratados também pela bagagem que adquiriram em empregos anteriores, todavia precisam tomar cuidado para não deixar suas experiências passadas contaminarem o novo trabalho.

De acordo com Cruz, eles não devem insistir em trabalhar da mesma forma, ainda que essa maneira tenha funcionado antes. É preciso respeitar a cultura e a identidade da empresa atual.

(Ana Luiza Tiegui. *Folha de S.Paulo*, 16.07.2017. Adaptado)

**09.** Assinale a alternativa correta a respeito do texto.

- (A) Matheus C. se habituou de imediato à rotina da nova empresa, pois já havia trabalhado longos anos em um renomado escritório de advocacia.
- (B) Myrt Cruz afirma que as empresas são complacentes com os novatos, mesmo quando eles incomodam demasiadamente outros colegas.
- (C) Natalia C. acredita que o suficiente para adquirir aprendizado é participar das conversas e das reuniões organizadas pela equipe de trabalho.
- (D) Fátima Motta defende que o mercado de trabalho busca profissionais que sejam proativos e que não se comportem presunçosamente.
- (E) Érika A. está entusiasmada com o novo emprego, pois sua timidez não a impediu de receber as orientações essenciais por parte dos colegas.

**10.** Assinale a alternativa que, de acordo com as informações do texto, completa corretamente a seguinte frase:

*A primeira impressão nem sempre é a que fica porque...*

- (A) o novo emprego pode ser um desafio intransponível.
- (B) a competência profissional evidencia-se cotidianamente.
- (C) a regra de ouro é sempre tirar dúvidas com os colegas.
- (D) os colegas experientes são os mais respeitados profissionalmente.
- (E) os novatos devem restringir as anotações às tarefas emergenciais.

**11.** É necessário respeitar o perfil da empresa atual, \_\_\_\_\_ os profissionais mais velhos não devem insistir em trabalhar da mesma forma, \_\_\_\_\_ essa forma tenha dado certo no passado.

Mantendo-se o sentido do texto, as lacunas dessa frase devem ser preenchidas, respectivamente, por:

- (A) por isso ... mesmo que
- (B) portanto ... tanto que
- (C) entretanto ... enquanto
- (D) assim ... à medida que
- (E) uma vez que ... exceto se

12. A relação entre os tempos verbais está correta e corresponde às ideias do texto em:

- (A) Há alguns meses, Matheus C. **foi** trabalhar em outra empresa, onde **teria** mais responsabilidades.
- (B) Há alguns meses, Matheus C. **irá** trabalhar em outra empresa, onde **tinha** mais responsabilidades.
- (C) Há alguns meses, Matheus C. **iria** trabalhar em outra empresa, onde **tivera** mais responsabilidades.
- (D) Há alguns meses, Matheus C. **ia** trabalhar em outra empresa, onde **havia tido** mais responsabilidades.
- (E) Há alguns meses, Matheus C. **teria ido** trabalhar em outra empresa, onde **tiver** mais responsabilidades.

13. Considere as frases.

É compreensível que os novatos estejam ávidos \_\_\_\_\_ mostrar serviço.

Profissionais com anos de carreira devem ser avessos \_\_\_\_\_ ideia de não mudar o método de trabalho.

Como os colegas foram solícitos \_\_\_\_\_ ela, Érika sentiu-se acolhida no novo emprego.

De acordo com a norma-padrão, as lacunas dessas frases devem ser preenchidas, respectivamente, por:

- (A) com ... com a ... a
- (B) com ... à ... por
- (C) de ... com a ... a
- (D) por ... com a ... com
- (E) por ... à ... com

14. Considere a charge.



(Tom Toles. *Folha de S.Paulo*, 24.11.2013. Adaptado)

Assinale a alternativa em que o termo destacado, no trecho que completa a fala da personagem, apresenta ideia de oposição.

- (A) ... **desde que** a pontualidade e o conforto para os clientes foram reconsiderados.
- (B) ... **todavia** o espaço entre os assentos e o conforto para os passageiros diminuíram.
- (C) ... **por conseguinte** os lucros devem ter aumentado consideravelmente.
- (D) ... **porque** a falta de espaço entre os assentos e o desconforto não incomodam os passageiros.
- (E) ... **como** o número de assentos e de voos internacionais que elas disponibilizam.

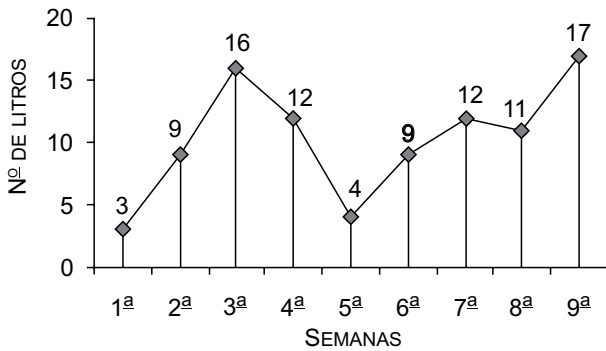
15. Uma promotora de vendas pretende enviar a um cliente mensagem a respeito do produto comercializado.

O texto, para estar em conformidade com a norma-padrão, deve ser redigido da seguinte forma:

- (A) Caro cliente, caso exista dúvidas sobre o produto, ponho-me à disposição para esclarecer-lhes.
- (B) Caro cliente, caso exista dúvidas sobre o produto, ponho-me à disposição para esclarecê-los.
- (C) Caro cliente, caso existam dúvidas sobre o produto, ponho-me à disposição para as esclarecer.
- (D) Caro cliente, caso existam dúvidas sobre o produto, ponho-me à disposição para esclarecê-los.
- (E) Caro cliente, caso existam dúvidas sobre o produto, ponho-me à disposição para lhes esclarecer.

16. Em uma caixa, há 32 lápis e várias canetas. Considerando que o número de lápis corresponde a  $\frac{8}{13}$  do número total de itens da caixa, o número de canetas dessa caixa é
- (A) 16.  
(B) 18.  
(C) 20.  
(D) 22.  
(E) 24.
17. Ao longo de um determinado trecho de uma avenida, há 3 semáforos, A, B e C, que acendem a luz vermelha exatamente no mesmo momento às 7 horas da manhã. O semáforo A acende a luz vermelha a cada 30 segundos; o B, a cada 40 segundos; e o C, a cada 25 segundos. O próximo horário, após as 7 horas, no qual os 3 semáforos acenderão novamente a luz vermelha ao mesmo tempo, será às
- (A) 7 horas e 10 minutos.  
(B) 7 horas e 25 minutos.  
(C) 7 horas e 40 minutos.  
(D) 8 horas e 02 minutos.  
(E) 8 horas e 08 minutos.
18. Uma padaria serve café com leite na seguinte proporção: 150 mL de café para 90 mL de leite. Se em determinado dia foram preparados 32 litros de café com leite, o número de litros de leite utilizados foi
- (A) 30.  
(B) 24.  
(C) 18.  
(D) 12.  
(E) 8.

19. O gráfico mostra a variação do número de litros vendidos de um determinado produto de limpeza no decorrer de 9 semanas.



De acordo com as informações fornecidas pelo gráfico, é correto afirmar que o maior aumento do número de litros vendidos ocorreu

- (A) da 1ª para a 2ª semana.  
 (B) da 2ª para a 3ª semana.  
 (C) da 5ª para a 6ª semana.  
 (D) da 6ª para a 7ª semana.  
 (E) da 8ª para a 9ª semana.
20. Em uma banca de jornais, há 225 revistas sobre saúde, separadas por divisórias, cada uma delas com o mesmo número de revistas. Sabendo-se que o número de revistas de cada divisória é 9 vezes o número de divisórias, então o número de revistas de uma divisória é
- (A) 25.  
 (B) 30.  
 (C) 35.  
 (D) 40.  
 (E) 45.
21. A figura mostra um recipiente na forma de um prisma reto de base retangular com as seguintes medidas internas: 18 cm de comprimento, 14 cm de largura e altura  $h$ , que tem capacidade máxima para 6,3 litros.

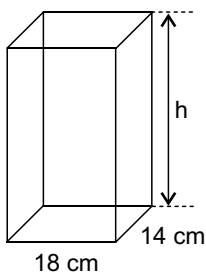


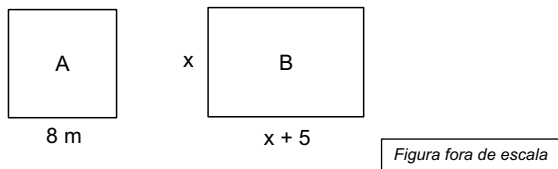
Figura fora de escala

A altura  $h$ , em cm, é

- (A) 19.  
 (B) 22.  
 (C) 25.  
 (D) 27.  
 (E) 30.



22. Uma sala quadrada A, com 8 m de lado, tem o perímetro igual ao de uma sala retangular B, cujas medidas, em metros, estão indicadas na figura.



O perímetro de uma sala C, quadrada, cujo lado tem a mesma medida do maior lado da sala B, é

- (A) 42 m.  
(B) 44 m.  
(C) 46 m.  
(D) 48 m.  
(E) 50 m.
23. Um escritório comprou várias pastas coloridas, sendo  $\frac{2}{5}$  delas na cor azul,  $\frac{2}{3}$  das restantes na cor amarela e 4 na cor verde. O número de pastas azuis compradas foi
- (A) 6.  
(B) 8.  
(C) 10.  
(D) 12.  
(E) 14.
24. Com 30 litros de combustível, um carro percorre 240 km. Se o litro do combustível custa R\$ 3,90, o valor gasto para percorrer 320 km será
- (A) R\$ 124,00.  
(B) R\$ 132,00.  
(C) R\$ 140,00.  
(D) R\$ 148,00.  
(E) R\$ 156,00.

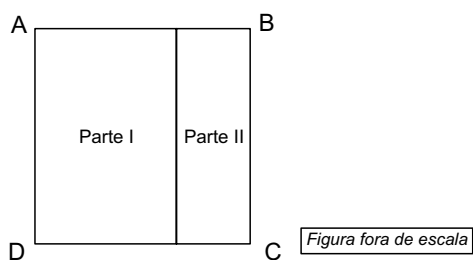
25. Para uma sessão de cinema, foram vendidas, entre meia-entrada e entrada inteira, um total de 300 unidades. Sabendo-se que a razão entre o número de entradas inteiras e o número de meias-entradas vendidas foi de  $\frac{2}{3}$  e que o valor de uma entrada inteira é R\$ 30,00, é correto dizer que o valor total arrecadado nessa sessão foi

- (A) R\$ 7.000,00.
- (B) R\$ 6.800,00.
- (C) R\$ 6.500,00.
- (D) R\$ 6.300,00.
- (E) R\$ 6.000,00.

26. Em uma lata, há 60 bombons embalados com papéis coloridos. O número de bombons embalados com papel azul corresponde a 40% do número total de bombons. Dos demais bombons da lata, 25% foram embalados com papel amarelo, e o restante, com papel vermelho. Em relação ao número total de bombons dessa lata, os que estão embalados com papel vermelho representam

- (A) 50%.
- (B) 45%.
- (C) 40%.
- (D) 35%.
- (E) 30%.

27. Um terreno quadrado ABCD, com  $400 \text{ m}^2$  de área, foi dividido em duas partes conforme mostra a figura.



Sabe-se que a área da parte I corresponde a 60% da área total. Então, o perímetro da parte II, em metros, é

- (A) 56.
- (B) 48.
- (C) 40.
- (D) 34.
- (E) 26.

28. Um capital de R\$ 2.000,00 aplicado a juros simples durante 5 meses rendeu R\$ 75,00 de juros. A taxa anual de juros dessa aplicação era

- (A) 10,5%.
- (B) 10,0%.
- (C) 9,5%.
- (D) 9,0%.
- (E) 8,5%.

29. A tabela mostra o número de frutas de cada tipo compradas em uma feira e o respectivo valor pago.

	Quantidade	Valor
<b>Mamão</b>	4	R\$ 7,00
<b>Pera</b>	5	R\$ 12,00
<b>Maçã</b>	7	?

Considerando-se o número total de frutas compradas, cada fruta saiu, na média, por R\$ 1,75. O valor pago pelas 7 maçãs foi

- (A) R\$ 7,00.
- (B) R\$ 8,00.
- (C) R\$ 9,00.
- (D) R\$ 10,00.
- (E) R\$ 11,00.

30. Ao longo de um determinado trecho de uma estrada, há 2 postos de combustíveis, A e B. Um carro saiu do posto A em direção ao posto B e, após percorrer 64% da distância até o posto B, parou no acostamento. Ao voltar para a estrada e percorrer mais  $\frac{8}{9}$  do caminho restante,

sua distância até o posto B era de 2 km. Então, a distância entre os postos A e B, em km, é

- (A) 25.
- (B) 30.
- (C) 40.
- (D) 45.
- (E) 50.

## ATUALIDADES

**31.** Caminhões-tanque e homens do Exército já podem ser vistos circulando pelas ruas da capital do Estado nesta sexta-feira (28 de julho de 2017). Ao todo, mais de 10 mil agentes federais de segurança atuarão no Estado até o final deste ano – com prazo prorrogável até dezembro de 2018 – para combater a violência. As tropas iniciaram os bloqueios nesta sexta nas principais vias expressas, além de pontos turísticos da cidade. A medida foi autorizada pelo presidente Michel Temer (PMDB), por meio de um decreto GLO (Garantia da Lei e da Ordem).

(UOL, 28 jul. 17. Disponível em: <<https://goo.gl/ieZg72>>. Adaptado)

A notícia refere-se ao Estado

- (A) do Rio Grande do Norte.
- (B) do Rio de Janeiro.
- (C) de Roraima.
- (D) do Espírito Santo.
- (E) da Bahia.

**32.** Os chanceleres do Mercosul decidiram hoje (5 de agosto de 2017), em consenso, suspender a Venezuela do bloco – formado por Brasil, Argentina, Paraguai e Uruguai – por ruptura da ordem democrática. A sanção foi aplicada com base nas cláusulas do Protocolo de Ushuaia, assinado em 1998. A partir da medida, os países membros do bloco esperam isolar o governo de Nicolás Maduro, considerado não democrático pelo Mercosul.

(EBC, 5 ago. 17. Disponível em: <<https://goo.gl/iPtFmW>>. Adaptado)

Entre as exigências para que a medida seja revista, está

- (A) a imediata saída de Maduro do poder.
- (B) a desmilitarização do território venezuelano.
- (C) o fechamento dos meios de comunicação estatais.
- (D) a anulação da convocação da Assembleia Constituinte.
- (E) o abandono da ideia de socialismo como princípio do governo.

**33.** O governo decidiu nesta quarta-feira (19 de julho de 2017) aumentar tributos com o objetivo de cobrir um buraco nas receitas públicas.

(Folha de S.Paulo, 19 jul. 17. Disponível em: <<https://goo.gl/rZpaXg>>. Adaptado)

Está suspenso liminarmente o reajuste nos tributos anunciado semana passada pelo governo federal. O magistrado determinou a suspensão da alta dos tributos e o “imediato retorno dos preços praticados” antes do anúncio feito pela equipe econômica do governo na última quarta-feira (19 de julho de 2017). O magistrado alegou que a medida é “lesiva” e “inconstitucional”, pois o reajuste deveria ser definido mediante a aprovação de uma lei, e não por decreto.

(Portal iG, 25 jul. 17. Disponível em: <<https://goo.gl/UBsJji>>. Adaptado)

Os tributos a que se referem as notícias incidem sobre

- (A) alimentos.
- (B) medicamentos.
- (C) vestuário.
- (D) produtos importados.
- (E) combustíveis.

**34.** O Senado aprovou nesta terça-feira (11 de julho de 2017) o texto da reforma trabalhista. A reforma muda a lei trabalhista brasileira e traz novas definições sobre as relações de trabalho. O texto foi sancionado na quinta-feira (13 de julho) pelo presidente Michel Temer. As novas regras entram em vigor daqui a quatro meses, conforme previsto na nova legislação.

(G1, 11 jul. 17. Disponível em: <<https://goo.gl/EzqDow>>. Adaptado)

Entre as principais mudanças aprovadas nessa reforma, é correto identificar

- (A) a abolição do salário mínimo como piso obrigatório para a remuneração de trabalhadores dos setores industrial, comercial e de serviços.
- (B) o fim da arrecadação do FGTS pelas empresas e pelos trabalhadores, com a imediata incorporação ao salário dos valores antes destinados à contribuição patronal.
- (C) a flexibilização da jornada, que poderá se estender até 12 horas diárias com 36 horas de descanso, respeitando-se as 44 horas semanais, além das horas extras.
- (D) a redução do período de férias obrigatórias de 30 para 20 dias para cada ano trabalhado, com a opção de metade do período ser pago em forma de abono.
- (E) a possibilidade de negociação do tempo de intervalo destinado ao almoço dentro da jornada de trabalho, com sua extinção se houver acordo entre as partes.

35. Uma das vozes mais singulares da MPB, o cantor e compositor carioca não resistiu às sessões de quimioterapia que fazia para combater um câncer e morreu na madrugada desta sexta (4 de agosto de 2017), aos 66 anos. O autor de sucessos como “Pérola Negra” era cria do morro de São Carlos, no Estácio, e conviveu com a música desde seu nascimento, graças a seu pai que era violonista e compositor.

(Folha de S.Paulo, 4 ago. 17. Disponível em: <<https://goo.gl/LwnXRE>>. Adaptado)

O trecho faz referência a

- (A) Luiz Melodia.
- (B) Emílio Santiago.
- (C) Cartola.
- (D) Bezerra da Silva.
- (E) Itamar Assumpção.

### LEGISLAÇÃO

36. Segundo o previsto na Lei Orgânica do Município de Valinhos, o processo legislativo compreende a elaboração, por exemplo, de

- (A) portarias.
- (B) leis ordinárias.
- (C) circulares.
- (D) ofícios.
- (E) instruções normativas.

37. A tomada de contas do Município de Valinhos, nos termos do Regimento Interno da Câmara Municipal, será realizada

- (A) pelo Tribunal de Contas do Estado, com o auxílio da Câmara Municipal, que fornecerá os dados necessários.
- (B) após o recebimento do parecer do Tribunal de Contas do Estado, pela Câmara Municipal, em dois turnos de discussão e votação.
- (C) pelo Plenário da Câmara, após a Comissão de Finanças e Orçamento exarar parecer dispondo sobre sua aprovação ou rejeição, ou, quando vencidos os prazos, sem que a Comissão apresente seu parecer.
- (D) pelos munícipes, que poderão, durante 60 (sessenta) dias, examinar a documentação coletada pelo Tribunal de Contas.
- (E) após até 5 (cinco) sessões de discussão, as quais poderão ter o Expediente prorrogado por 30 (trinta) minutos, a critério da Mesa ou mediante proposta de Vereador.

38. O Regimento Interno da Câmara Municipal de Valinhos prevê que no primeiro ano de cada legislatura, no dia 1º de janeiro, às 10 (dez) horas, em Sessão Solene de Instalação, independentemente de número, os Vereadores prestarão compromisso e tomarão posse, sob a presidência do

- (A) vereador mais votado dentre os presentes.
- (B) vereador mais velho dentre os presentes.
- (C) vereador que presidiu a última sessão da legislatura anterior.
- (D) juiz eleitoral designado pelo Presidente do Tribunal Regional Eleitoral de São Paulo.
- (E) diretor da Diretoria Parlamentar.

39. O reingresso do funcionário ao serviço público municipal, após verificação de que não mais subsistem os motivos determinantes da aposentadoria, constante do Regime Jurídico dos Funcionários Públicos do Município de Valinhos, é denominado

- (A) readaptação.
- (B) aproveitamento.
- (C) transposição.
- (D) reintegração.
- (E) reversão.

40. Suponha que um funcionário público municipal lotado na Câmara Municipal de Valinhos praticou uma ofensa física – desferiu um soco – contra um Munícipe que, de forma respeitosa, havia solicitado acesso a um processo de licitação que estava em curso. Nesse caso, ao funcionário público em questão, poderá ser aplicada a pena de

- (A) advertência.
- (B) suspensão.
- (C) multa.
- (D) demissão.
- (E) repreensão.

41. No Microsoft Windows 7, em sua configuração padrão, um usuário abriu o diretório C:\ARQUIVOS, que contém 50 arquivos nomeados como arquivo1.txt, arquivo2.txt, e assim sucessivamente, ordenados por nome. Para selecioná-los alternadamente (por exemplo, o arquivo1.txt, o arquivo2.txt, o arquivo14.txt, o arquivo18.txt), a tecla que deverá ser mantida pressionada durante a seleção dos arquivos por meio do botão principal do mouse é

- (A) SHIFT
- (B) ESC
- (C) ALT
- (D) CTRL
- (E) \*

42. A janela de um aplicativo em execução no Microsoft Windows 7, em sua configuração padrão, apresenta os seguintes botões na parte superior direita:



Essa janela está

- (A) minimizada.
- (B) fechada.
- (C) restaurada com um tamanho entre o estado minimizado e o maximizado.
- (D) sobreposta.
- (E) maximizada.

43. Usando o Microsoft Excel 2010, em sua configuração original, um usuário está editando a planilha apresentada a seguir.

	A	B	C	D
1	11/05/2017	13/05/2017		
2				
3				
4				

Considerando que a formatação da célula C1 é *Geral*, e que foi inserida a fórmula =B1-A1, assinale a alternativa que mostra o resultado correto que será apresentado na célula C1.

- (A) 12/05
- (B) 12/05/2017
- (C) 2
- (D) 12
- (E) 48

44. No Microsoft Excel 2010, em sua configuração padrão, as células A1, B1 e C1 estão mescladas, e o conteúdo *Vunesp* está centralizado, conforme imagem a seguir.

	A	B	C	D
1	Vunesp			
2				
3	Vunesp			
4				
5				


Assinale a alternativa que apresenta a fórmula correta existente na célula A3 para apresentar o mesmo conteúdo das células mescladas.

- (A) =C1
- (B) =A1B1C1
- (C) =A1:B1:C1
- (D) =A1
- (E) =B1

45. No Microsoft Word 2010, em sua configuração padrão, durante a edição de um documento, uma palavra está destacada com um sublinhado ondulado vermelho. Isso significa que essa palavra

- (A) não existe no dicionário do Word.
- (B) está formatada com uma fonte de letra diferente do restante do texto.
- (C) precisa ser formatada em negrito.
- (D) deve ser centralizada no parágrafo.
- (E) contém mais caracteres do que o limite permitido por palavra.

46. Considere um documento criado no Microsoft Word 2010, em sua configuração padrão, sem qualquer alteração de margens, e assinale a alternativa que nomeia corretamente os elementos destacados como 1, 2 e 3.



- (A) 1 – rodapé, 2 – cabeçalho, 3 – cabeçalho.
- (B) 1 – cabeçalho, 2 – nota de rodapé, 3 – rodapé.
- (C) 1 – nota de rodapé, 2 – cabeçalho, 3 – rodapé.
- (D) 1 – cabeçalho, 2 – rodapé, 3 – nota de rodapé.
- (E) 1 – nota de rodapé, 2 – rodapé, 3 – cabeçalho.

47. Um usuário criou uma apresentação no Microsoft PowerPoint 2010, em sua configuração padrão, com botões de ação com as seguintes características e ações:

- I. A apresentação tem 8 slides.
- II. No slide 2, ele criou 2 botões de ação: botão A para ir para o slide 5 e botão B para ir para o slide 7.
- III. Nos slides 5 e 6, ele criou um botão de ação em cada slide, com a ação "ir para o slide exibido mais recentemente".

Ao iniciar sua apresentação, esse usuário, a partir do slide 2, clicou no botão de ação A, e a apresentação foi para o slide 5. No slide 5, esse usuário pressionou ENTER, e a apresentação exibiu o slide 6. No slide 6, o usuário clicou no botão de ação "ir para o slide exibido mais recentemente". Então, a apresentação

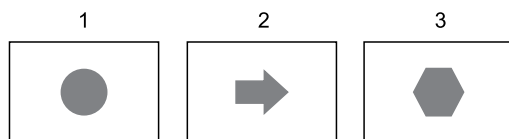
- (A) voltou para o slide 1.
- (B) voltou para o slide 2.
- (C) voltou para o slide 5.
- (D) manteve-se no slide 2.
- (E) foi encerrada.

48. Em uma apresentação criada no Microsoft PowerPoint 2010, em sua configuração padrão, um usuário criou 4 slides, conforme imagem a seguir.



No quarto slide, o hexágono é um botão de ação, com ação para voltar para o slide 2.

Porém, depois de algum tempo, o usuário apagou o slide 2, com o triângulo, ficando da seguinte forma sua apresentação.



Assinale a alternativa que indica corretamente o comportamento do Microsoft PowerPoint ao se clicar sobre o botão de ação hexágono.

- (A) Retorna para o slide 2, que agora contém a forma de uma flecha.
- (B) Encerra a apresentação, uma vez que o slide 2 original foi eliminado.
- (C) Reinicia a apresentação.
- (D) Não faz nada e permanece no slide 3.
- (E) Volta para o slide 1.

49. Ricardo preparou uma mensagem e enviou para Bruno, Andreia, Carlos e Cristiane. Cristiane respondeu a mensagem de Ricardo com uma informação sigilosa, a que apenas Ricardo poderia ter acesso. Porém, algum tempo depois, Cristiane se encontrou com Bruno pessoalmente, e este fez um comentário sobre a informação sigilosa, o que deixou Cristiane apreensiva.

Assinale a alternativa que indica o erro cometido por Cristiane, ao responder a mensagem de Ricardo.

- (A) Ela respondeu a mensagem usando o recurso "Responder".
- (B) Ela respondeu a mensagem usando o recurso "Gravar".
- (C) Ela respondeu a mensagem usando o recurso "Distribuir".
- (D) Ela respondeu a mensagem usando o recurso "Publicar".
- (E) Ela respondeu a mensagem usando o recurso "Responder para todos".

50. Assinale a alternativa que apresentará a menor quantidade de resultados possíveis em uma pesquisa feita no *website* Google.

- (A) curso de inglês
- (B) "curso de inglês" site: usp -online intitle:graduação
- (C) "curso de inglês"
- (D) "curso de inglês" site: usp -online
- (E) "curso de inglês" site: usp

